

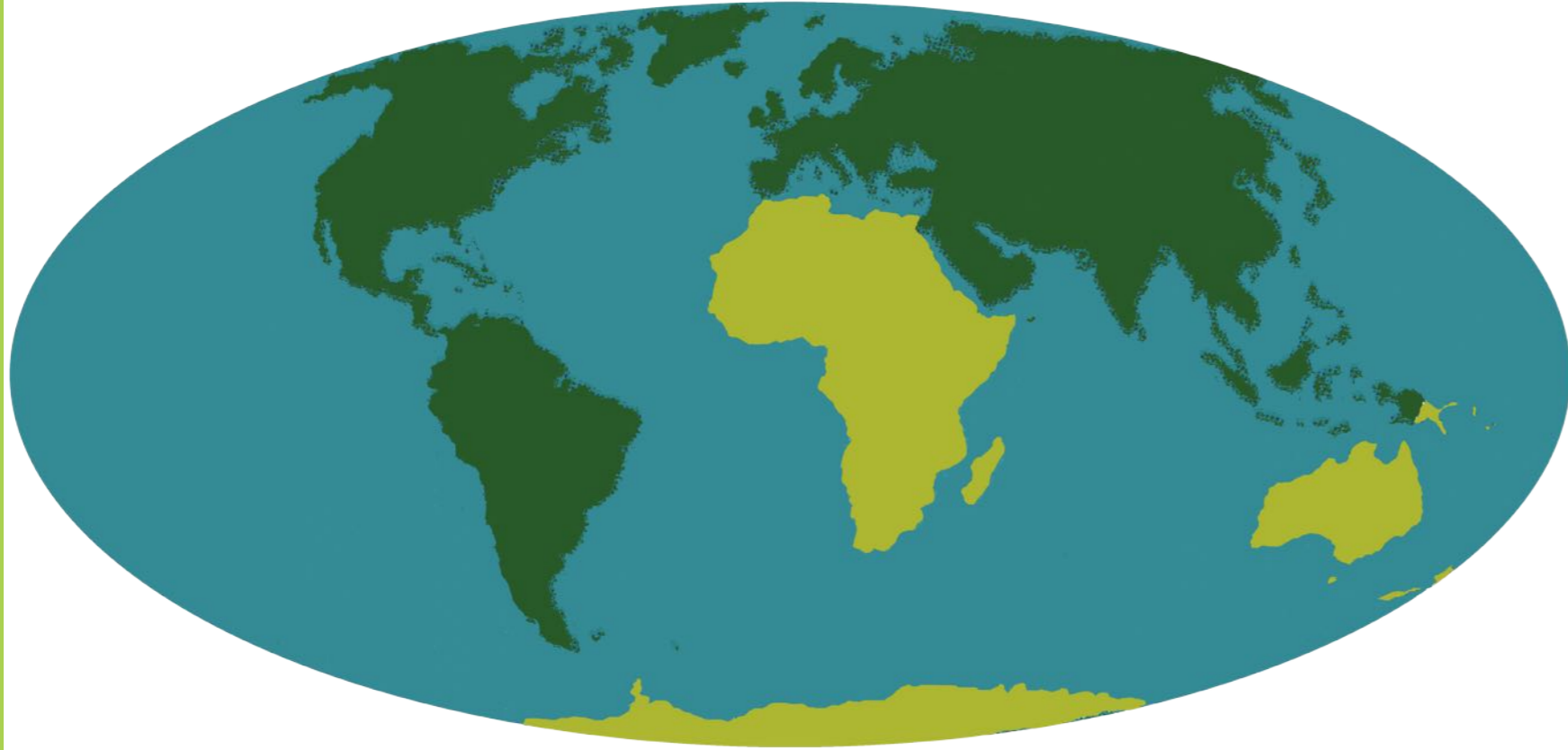


د پوهنې وزارت

# جغرافیه

## نهم ټولگی

جغرافیه - نهم ټولگی



ه.ل

۱۳۹۸



## ملي سرود

دا عزت د هر افغان دی  
هر بچی یې قهرمان دی  
د بلوڅو د ازبکو  
د ترکمنو د تاجکو  
پامیریان، نورستانیان  
هم ایماق، هم پشه یان  
لکه لمر پر شنه آسمان  
لکه زره وي جاویدان  
وایو الله اکبر وایو الله اکبر

دا وطن افغانستان دی  
کور د سولې کور د تورې  
دا وطن د ټولو کور دی  
د پښتون او هزاره وو  
ورسره عرب، گوجر دي  
براهوي دي، قزلباش دي  
دا هېواد به تل ځلیري  
په سینه کې د آسیا به  
نوم د حق مودی رهبر



بِسْمِ اللّٰهِ الرَّحْمٰنِ الرَّحِیْمِ



د پوهنې وزارت

# جغرافیه

## نهم ټولگی

۱۳۹۸ هـ. ش.





## د کتاب ځانگړتیاوې

مضمون: جغرافیه

مؤلفین: د تعلیمي نصاب د جغرافیه دپارتمنت علمي او مسلکي غړي

ادیت کونکي: د پښتو ژبې د ادیت د څانگې علمي او مسلکي غړي

ټولگی: نهم

د متن ژبه: پښتو

انکشاف ورکونکي: د تعلیمي نصاب د پراختیا او درسي کتابونو د تالیف لوی ریاست

خپروونکي: د پوهنې وزارت د اړیکو او عامه پوهاوي ریاست

د چاپ کال: ۱۳۹۸ هجري شمسي

د چاپ ځای: کابل

چاپخونه:

برېښنالیک پته: curriculum@moe.gov.af

د درسي کتابونو د چاپ، وپش او پلورلو حق د افغانستان اسلامي جمهوریت د پوهنې وزارت سره محفوظ دی. په بازار کې یې پلورل او پېرودل منع دي. له سرغړوونکو سره قانوني

چلند کېږي.



## د پوهنې د وزیر پیغام

### اقراً باسم ربک

د لوی او بښونکي خدای ﷻ شکر په ځای کوو، چې مور ته یې ژوند رابښلی، او د لوست او لیک له نعمت څخه یې برخمن کړي یو، او د الله تعالی پر وروستي پیغمبر محمد مصطفی ﷺ چې د الهي لومړنی پیغام ورته (لوستل) و، درود وایو.

څرنگه چې ټولو ته ښکاره ده ۱۳۹۷ هجري لمريز کال د پوهنې د کال په نامه ونومول شو، له دې امله به د گران هېواد ښوونیز نظام، د ژورو بدلونونو شاهد وي. ښوونکی، زده‌کونکی، کتاب، ښوونځی، اداره او د والدينو شوراگانې د هېواد د پوهنیز نظام شپږگوني بنسټيز عناصر بلل کيږي، چې د هېواد د ښوونې او روزنې په پراختيا او پرمختيا کې مهم رول لري. په داسې مهم وخت کې د افغانستان د پوهنې وزارت د مشرتابه مقام، د هېواد په ښوونیز نظام کې د ودې او پراختيا په لور بنسټيزو بدلونونو ته ژمن دی. له همدې امله د ښوونیز نصاب اصلاح او پراختيا، د پوهنې وزارت له مهمو لومړيتوبونو څخه دي. همدارنگه په ښوونځيو، مدرسو او ټولو دولتي او خصوصي ښوونيزو تاسيساتو کې، د درسي کتابونو محتوا، کيفيت او توزیع ته پاملرنه د پوهنې وزارت د چارو په سر کې ځای لري. مور په دې باور يو، چې د باکفېته درسي کتابونو له شتون پرته، د ښوونې او روزنې اساسي اهدافو ته رسېدلی نشو. پورتنیو موخو ته درسېدو او د اغېزناک ښوونیز نظام د رامنځته کولو لپاره، د راتلونکي نسل د روزونکو په توگه، د هېواد له ټولو زړه سواندو ښوونکو، استادانو او مسلکي مديرانو څخه په درناوي هيله کوم، چې د هېواد بچيانو ته دې د درسي کتابونو په تدريس، او د محتوا په لېږدولو کې، هيڅ ډول هڅه او هاند ونه سپموي، او د يوه فعال او په ديني، ملي او انتقادي تفکر سمبال نسل په روزنه کې، زيار او کوشښ وکړي. هره ورځ د ژمنې په نوي کولو او د مسؤوليت په درک سره، په دې نيت لوست پيل کړي، چې دنن ورځې گران زده‌کونکي به سبا د يوه پرمختللي افغانستان معماران، او د ټولني متمدن او گټور اوسېدونکي وي. همداراز له خوږو زده‌کونکو څخه، چې د هېواد ارزښتناکه پانگه ده، غوښتنه لرم، څو له هر فرصت څخه گټه پورته کړي، او د زده‌کړې په پروسه کې د ځيرکو او فعالو گډونوالو په توگه، او ښوونکو ته په درناوي سره، له تدريس څخه ښه او اغېزناکه استفاده وکړي.

په پای کې د ښوونې او روزنې له ټولو پوهانو او د ښوونیز نصاب له مسلکي همکارانو څخه، چې د دې کتاب په لیکلو او چمتو کولو کې یې نه سترې کېدونکې هلې ځلې کړې دي، مننه کوم، او د لوی خدای ﷻ له دربار څخه دوی ته په دې سپیڅلې او انسان جوړوونکې هڅې کې بریا غواړم. د معیاري او پرمختللي ښوونیز نظام او د داسې ودان افغانستان په هيله چې وگړي یې خپلواک، پوه او سوکاله وي.

د پوهنې وزیر

دکتور محمد میرویس بلخي





## لړلیک

مخ

سرلیک

لومړی څپرکی

- لومړی لوست.....موقعیت او څلور خواوې ..... ۴-۳
- دویم لوست.....طبیعی جغرافیه، ..... ۶-۵
- دریم لوست..... سیندونه..... ۱۰-۷
- څلورم لوست.....د کانگو حوزه ..... ۱۴-۱۱
- پنځم لوست.....جهیلونه..... ۱۶-۱۵
- شپږم لوست.....سمندرګي (بحیرې)..... ۲۰-۱۷
- اووم لوست.....خلیجونه..... ۲۲-۲۱
- اتم لوست.....اقلیم..... ۲۴-۲۳
- نهم لوست.....مختلفې اقلیمي سیمې..... ۲۸-۲۵
- لسم لوست.....سیاسي جغرافیه..... ۳۲-۲۹
- یوولسم لوست.....بشري جغرافیه..... ۳۶-۳۳
- دولسم لوست.....دین او ژبه..... ۳۸-۳۷
- دیارلسم لوست.....اقتصادي جغرافیه الف - کرڼه او مالداري..... ۴۰-۳۹
- څوارلسم لوست.....ب - کانونه او صنایع..... ۴۲-۴۱
- پنځلسم لوست.....مواصلاتي جغرافیه..... ۴۴-۴۳
- شپاړسم لوست.....د اوبو له لارې وړل او راوړل..... ۴۶-۴۵
- د لومړي څپرکې لنډيز..... ۴۷
- د افریقا د خپلواکو هېوادونو د ځینو جغرافیایي ځانګړنو جدول..... ۴۹-۴۸



## سرلیک

## مخ

- ۵۰..... دویم څپرکی
- ۵۱..... اووه لسم لوست..... د آسټرالیا موقعیت
- ۵۱..... الف - څلور خواوې
- ۵۴-۵۱..... ب - د آسټرالیا کشف
- ۵۸-۵۵..... اتلسم لوست..... طبعي جغرافیه
- ۵۸-۵۵..... الف - غرونه
- ۶۰-۵۹..... نولسم لوست..... د آسټرالیا سیندونه
- ۶۲-۶۱..... شلم لوست..... جهیلونه
- ۶۴-۶۳..... یوویښتم لوست..... د - اقلیم
- ۶۶-۶۵..... دوه ویښتم لوست..... د آسټرالیا سیاسي جغرافیه
- ۶۸-۶۷..... دروویښتم لوست..... بشري جغرافیه
- ۷۰-۶۹..... څلورویښتم لوست..... دین او ژبه
- ۷۴-۷۱..... پنځه ویښتم لوست..... اقتصادي جغرافیه
- ۷۶-۷۵..... شپږویښتم لوست..... کانونه او صنایع
- ۷۸-۷۷..... اووه ویښتم لوست..... موصلاتې جغرافیه
- ۸۰-۷۹..... اته ویښتم لوست..... اقیانوسیه
- ۸۲-۸۱..... نه ویښتم لوست..... اقتصادي حالت
- ۸۶-۸۳..... دیرشم لوست..... نوی زیلانډ (New Zealand)
- ۸۸-۸۷..... یو دیرشم لوست..... انټارکټیکا (جنوبي قطب)
- ۸۹..... د دویم څپرکي لنډیز
- ۹۱-۹۰..... اصطلاحات

# افریقا



د افریقا موقعیت د نړۍ په نقشه کې

په نقشې کې د افریقا لویه وچه گورئ.

په دې څپرکي کې لولو:

• موقعیت او څلورخواوې

• طبیعي جغرافیه

- غرونه

- سیندونه

- جهیلونه

- سمندرګي (بحیرې)

- خلیجونه

- اقلیم

• سیاسي جغرافیه

• بشري جغرافیه

• اقتصادي جغرافیه

• مواصلاتي جغرافیه



## ددې څپرکي عمومي موخې (هدفونه)

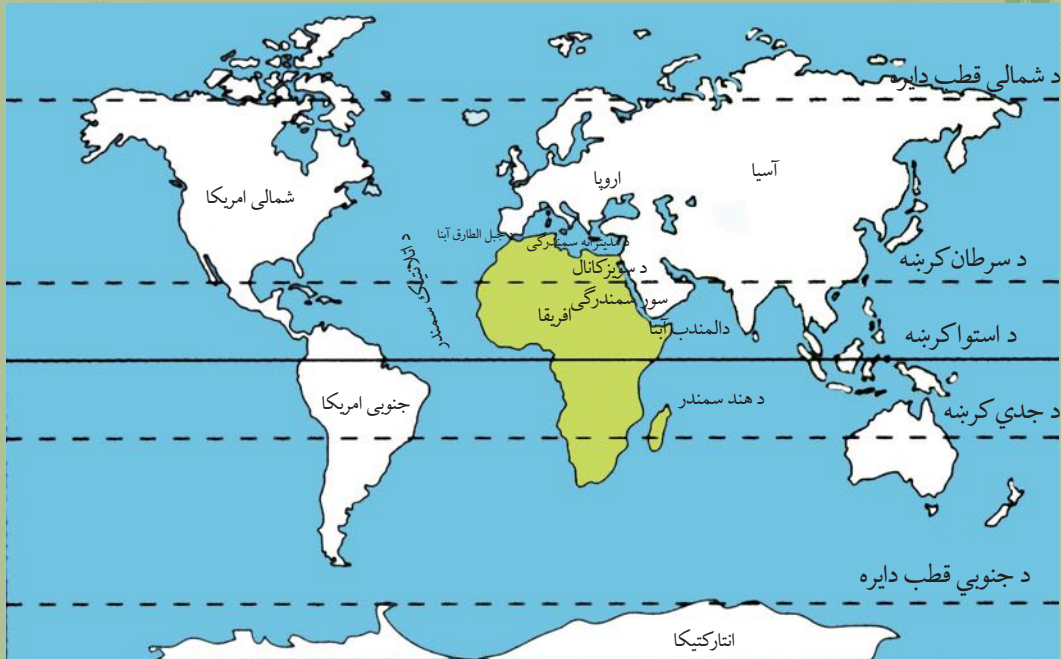
زده کوونکي دې په به څپرکي کې لاندې موخو ته ورسېږي.

- د افریقا د لویې وچې له جغرافیایي موقعیت سره بلدتیا.
- د افریقا د لویې وچې له مهمو غرونو سره بلدتیا.
- د افریقا له مهمو سیندونو، جهیلونو او سمندرګیو سره بلدتیا.
- د افریقا د لویې وچې له سیاسي جغرافیې سره بلدتیا.
- د افریقا د لویې وچې له بشري جغرافیې سره بلدتیا.
- د افریقا د لویې وچې له اقتصادي جغرافیې (کرنې، کانونو، صنعت او سوداګرۍ) سره بلدتیا.
- د افریقا د لویې وچې له مواصلاتي جغرافیې سره بلدتیا.

ګران زده کوونکي به کولای شي په دې څپرکي کې لاندې مهارتونه حاصل او زده کړي:

- د افریقا د لویې وچې جغرافیایي موقعیت د نقشې پر مخ وټاکي.
- د افریقایي هېوادونو جغرافیایي موقعیت د نقشې پر مخ وښيي.
- د افریقا د لویې وچې د وګړو ټولنیز او قومي ترکیب بیان کړي.
- د افریقا د لویې وچې اقتصادي حالت بیان کړي.

## موقعیت او څلورخواوی



د افریقا د لویې وچې نقشه

## آیا پوهیږئ چې تور پوستکي خلک ډېر په کومې لویې وچې کې ژوند کوي؟

پورته شکل ته وگورئ. د افریقا لویه وچه د اروپا د لویې وچې په جنوب او د آسیا د لویې وچې په جنوب لوېدیځ کې، د هند سمندر، اطلس (اتلانټیک) سمندر او د مدیترانې د سمندرګي ترمنځ د شمالي عرض البلد د ۳۶ درجو او د سوېلي عرض البلد د ۳۴ درجو، د لوېدیځ طول البلد د ۱۸ درجو او د ختیځ طول البلد د ۵۳ درجو ترمنځ پرته ده. افریقا د ټولې نړۍ د پراخوالي د ۱۰٪ برخې په شاوخوا په برکې نیسي. په داسې حال کې چې د ټولې نړۍ پراخوالی (د وچې او اوبو په گډون) ۵۱۰،۱۰۰،۵۰۰ کیلومتره مربع اټکل شوی دی او له دې جملې څخه تقریبا په دريو کې یوه برخه یعنې ۱۴۸.۶ میلیونه کیلومتره مربع یې وچه او پاتې ۳۶۰ میلیونه کیلومتره مربع یې اوبه دي.

د افریقا لویه وچه د ۳۰ میلیونو کیلومترو مربعو په پراخوالي سره د آسیا او امریکا د لویو وچو څخه وروسته دریمه درجه لري. په ۲۰۱۷ م کال کې د افریقا د وگړو شمېر ۱.۲ میلیاردو تنو څخه زیات دی.

- د نقشې پرمخ د افریقا د لویې وچې موقعیت وښایاست او څلورخواوی یې بیان کړئ.  
د افریقا لویه وچه د شمال له خوا د مدیترانې په سمندرګي، د ختیځ له خوا د هند په سمندر او سوېل سمندرګي او د سوېل له خوا د هند د سمندر او اطلس سمندر په گډو اوبو پورې نښتې ده. د لوېدیځ خواته یې د اتلس سمندر دی. د سویز د کانال په کیندلو سره د مدیترانې او سوېل سمندرګي ترمنځ د اوبو لاره منځته راغلې ده.



د افریقا لویه وچه له څلورخواو څخه په سمندرونو او سمندرګیو پورې نښتې ده او د یوه ټاپو بڼه یې غوره کړې ده. دا لویه وچه په شمال لویدیځه څنډه کې د جبل الطارق د نړۍ اښا په واسطې د اروپا له لویې وچې څخه او په شمال ختیځ کې د باب المندب د اښا او سور سمندرګي په واسطې د اسیا له لویې وچې څخه رابېله شوې ده.



د افریقا د لویې وچې سپینه نقشه

## د ټولګي فعالیت

زده کوونکي دې په ټولګي کې په ډلو وویشل شي، هره ډله دې نورو ته د نقشې له مخې د پوښتنې او ځواب په توګه د افریقا د لویې وچې جغرافیایي موقعیت او څلورخواوې ووايي.

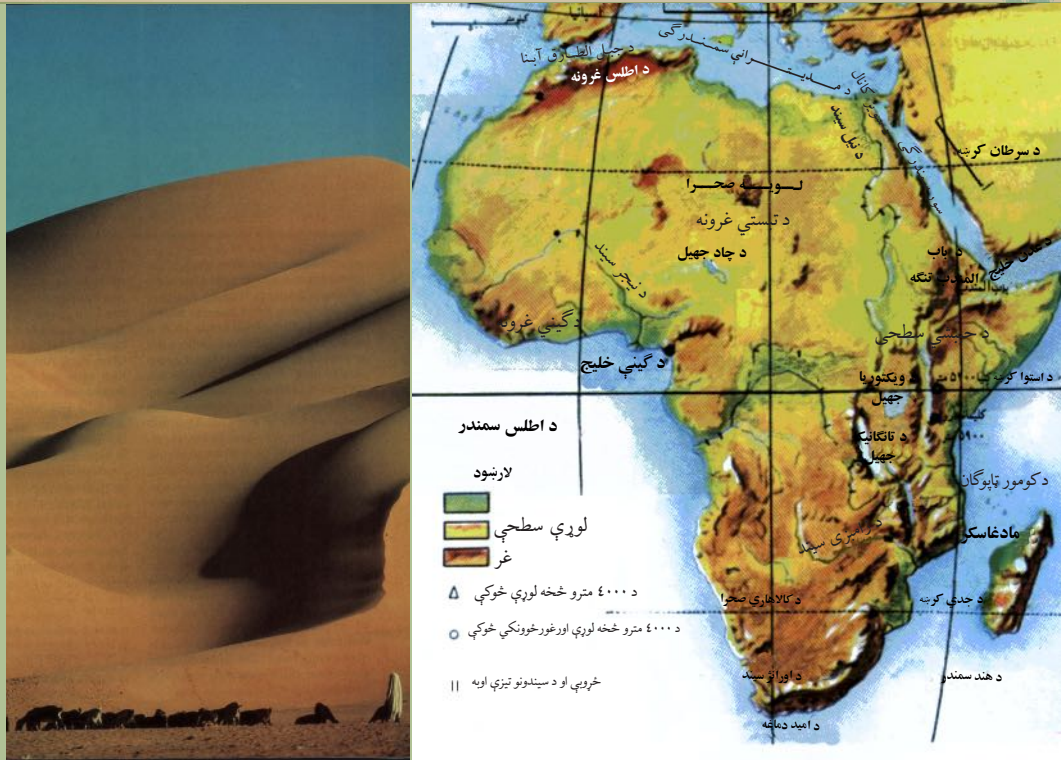
## پوښتنې

- ۱- د سوېز د کانال په کیندلو سره د کومو سمندرګیو ترمنځ د اوبو لار منځته راغلې ده؟
  - ۲- د سوېز کانال د افریقا په کومې برخې کې موقعیت لري؟
  - ۳- د افریقا لویه وچه له آسیا څخه د کومې اښا په وسیلې بېله شوې ده؟
- سم ځواب وپېژنی.
- الف) د جبل الطارق اښا      ب) د باب المندب اښا  
ج) د بیرنگ اښا              د) د درانیل اښا

## له ټولګي څخه بهر فعالیت

زده کوونکي دې د افریقا نقشه په خپلو کتابچو کې رسم کړي. او هم دې ووايي چې کومو اښاوو افریقا له اسیا او اروپا څخه بېله کړې ده؟

# طبیعی جغرافیه



د افریقا د لویې صحرا یوه څنډه

د افریقا طبیعي نقشه

په افریقا کې کوم مشهور غرونه شته دي؟

پورتنی شکل ته وگورئ. د افریقا لویه وچه د جغرافیایي جوړښت له مخې د صافو غاړو لرونکې ده او زیاتې لوړې او ژورې نه لري، نو ځکه په دې لویه وچه کې د آسیا او شمالي امریکا په شان لوی خلیجونه او ټاپو وزمې نه لیدل کېږي، خو ددې لویې وچې په منځ کې پراخې لوړې سطحې منځ ته راغلي چې شاوخوا او په ځانگړي ډول ختیځه خوا یې په لوړو غرونو پورې نښتې ده، خو په عمومي توگه په دې لویه وچه کې غرونه او لوړې ژورې لږې دي.

## – غرونه

د افریقا د لویې وچې مهم غرونه د اطللس غرونه دي چې د افریقا په شمال لویدیځ کې د ۴۰۰۰ مترو څخه په ډېر لوړوالي سره د ساحلي موازي لړۍ په توگه چې د ایټالیا د هېواد د اپنین د غرونو دلرپو یوه برخه شمېرل کېږي د مدیترانې د سمندرگي او لویې صحرا ترمنځ پراته دي. دا لړۍ د تونس له هېواد څخه پیل او د لویدیځ په لور غزیدلې ده او د منځني اطللس، ساحلي اطللس او کوچني اطللس په نوم یادېږي. د گیني غرونه د گیني د خلیج په شمال لویدیځ کې د ساحل سره موازي پراته دي. ددې لړۍ ډیر لوړ ارتفاعات په لویدیځ کې د فوټا جالون غرونه دي



چې د ۱۵۰۰ مترو څخه ډېر لوړوالی لري. د افریقا په ختیځ کې لوړې ځمکې شته چې د حبشې د لوړو سطحو په نوم یادېږي. همدارنگه د ویکتوریا د جهیل په ختیځ کې د ختیځې افریقا لوړې پرتې دي چې د کینیا لوړې ۵۱۹۹ متره او د کلیمانجارو څوکه ۵۸۹۵ متره لوړوالی لري. د افریقا د لویې وچې نور غرونه د تبستي غرونه دي چې په صحرايي سیمو کې پراته دي، لوړه څوکه یې د امی قوسی په نوم یادېږي او د سمندر له سطحې څخه تقریباً ۳۵۰۰ متره لوړوالی لري.

- د افریقا د لویې وچې لویه صحرا ددې براعظم په کومه برخه کې موقعیت لري؟  
 صحرايي سیمې چې د افریقا په شمال کې پرتې دي د لویې صحرا په نوم، د نړۍ لوی شگلنځایونه تشکیلوي، چې زیاتره برخې یې د کرنې وړ نه دي. د افریقا ساحلي برخې سمندر ته د نژدېوالي په سبب کرنیزې برخې تشکیلوي لکه د مصر، لیبیا او الجزایر شمالي سیمې، همدارنگه سوېل ختیځو سواحلو هم کرنیزې حاصل خیزې ځمکې منځ ته راوړې دي. په ختیځو سواحلو کې د موزمبیق او سومالیې د هېوادونو په اوږدو کې هم مهمې کرنیزې سیمې شته دي.

### د ټولګي فعالیت

زده کوونکي دې په ډلو وویشل شي، هره ډله دې د لوست په غوره مطلبونو بحث او خبرې وکړي او پایلې دې نورو ټولګیوالو ته وړاندې کړي.

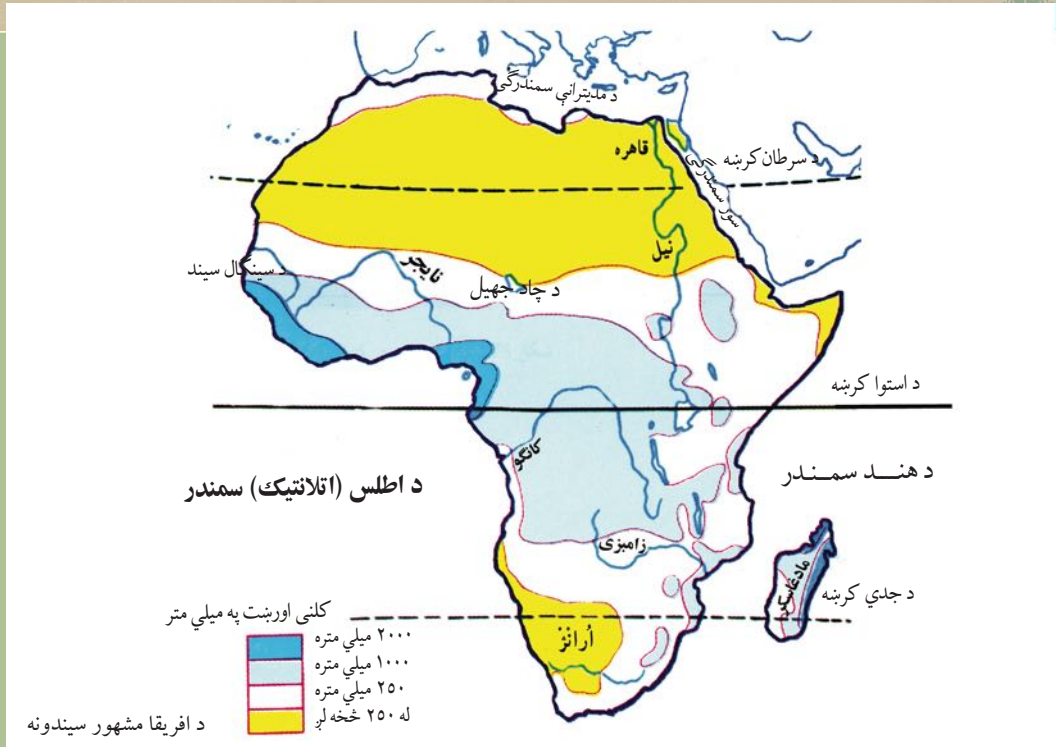
### پوښتنې

- ۱- د ګیني د خلیج لویدیځې لوړې په کوم نوم یادېږي؟
- ۲- د اطلس غرونه په کوم ځای کې موقعیت لري؟
- ۳- د افریقا د لویې وچې په ختیځ کې کومه لوړه سطحه پرته ده؟
- ۴- د تبستي غرونه د افریقا په کوم ځای کې موقعیت لري؟

### له ټولګي څخه بهر فعالیت

د لومړي لوست د افریقا د لویې وچې له لیکنې پرته نقشه په خپلو کتابچو کې بشپړه کړئ او لاندېنیو پوښتنو ته ځواب ورکړئ.

- ۱- د غرونو هغه لړۍ چې د افریقا د لویې وچې په شمال لویدیځ کې پرتې دي څه نومېږي؟
- ۲- د افریقا د لویې وچې د غرونو د لوړو څوکو نومونه وویاست.



د افریقا سیندونه په کومو حوزو کې پراته دي، او دې لویې وچې په اقتصادي او کرنیز ژوند کې څه ارزښت لري؟

د افریقا د لویې وچې د سیندونو نقشې ته وګورئ. څرنگه چې د استوا کرښه د افریقا د لویې وچې د منځنۍ برخې څخه تېرېږي، نو ځکه یې په استوایي برخه کې اورښت ډېر زیات دی. له همدې کبله د افریقا په لویه وچه کې ډېر سیندونه بهیري چې ټول اوږده او له اوبو څخه ډک دي. خو دا سیندونه د چټکې بهېدنې او لږ ژوروالي له امله د بېرې چلولو وړ نه دي.

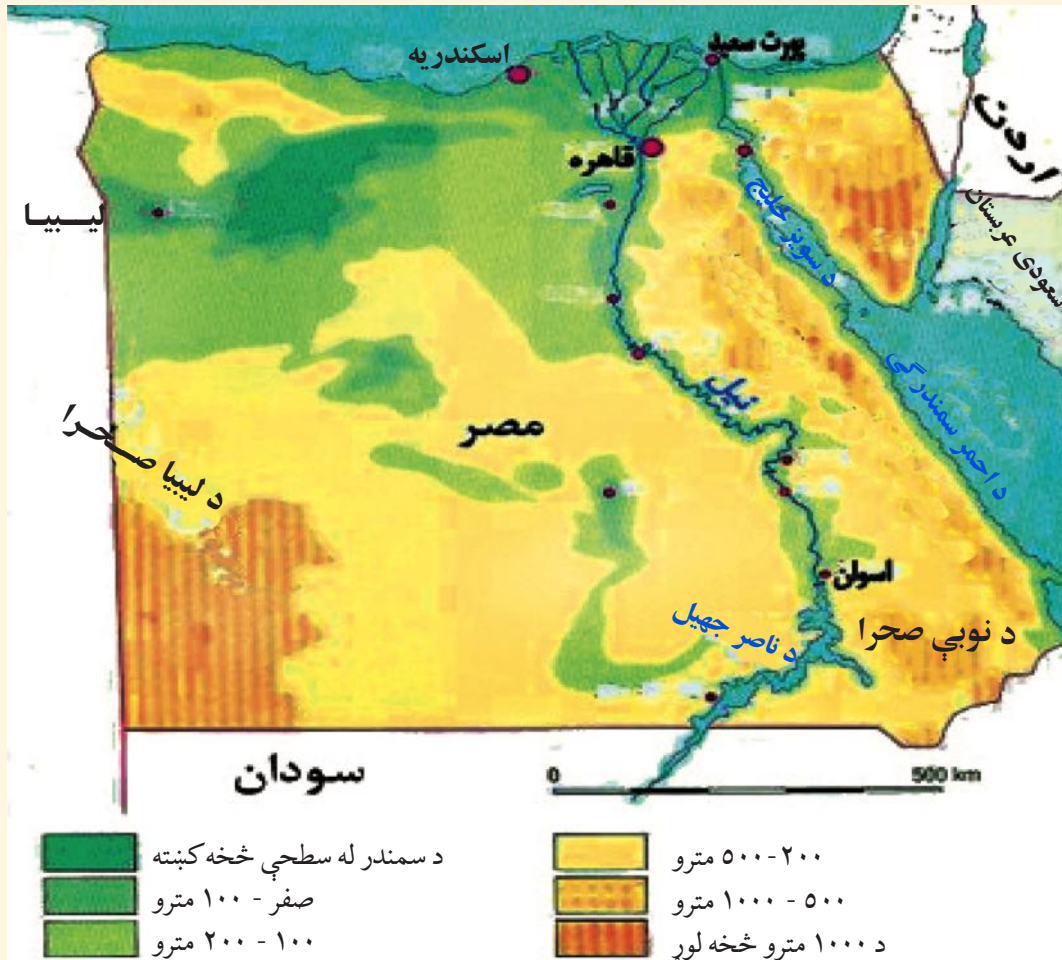
- د افریقا د اوبو حوزې کومې دي؟
- د افریقا د اوبو حوزې کولای شو په لاندې توګه وپېشو:
  - ۱- د مدیترانې د حوزې سیندونه لکه د نیل سیند.
  - ۲- د اطلس سمندر د حوزې سیندونه، لکه: کانګو، نایجیر، سنګال او اراڼز.
  - ۳- د هند د سمندر سیندونه، لکه: زامبیزی؟
  - ۴- د تړلې حوزې سیندونه چې د افریقا په جنوبي شگلن ځایونو یا لویه صحرا کې جذبېږي، لکه: شاري.



## - دنیل سیند

د افریقا له مشهورو سیندونو څخه دی چې مصر یې د نړۍ د ډېرو لرغونو هېوادونو په لیکه کې درولی دی. هیروډت یوناني مورخ لیکي چې (مصر د نیل ډالۍ ده). د نیل د سیند وادي پراخه ساحه ده چې له ختیځ او لوېدیځ لوري څخه د دښتو په واسطه محدوده شوې ده. د نفوسو د گڼ شمېر زیاته برخه د نیل د سیند په وادي او د هغه په دلتا کې ځای پر ځای شوې ده. د نیل سیند چې ۶۶۹۵ کیلومتره اوږدوالی لري د ویکتوریا او البرت د جهیلونو څخه سرچینه اخلي، د شمال په لور بهېري او یوازې د قاهرې او د اسوان په سیمو کې د کرنې ځمکې اوبه کوي.

د نیل سیند نقشه



د نیل سیند په خپل مصب (خوله) کې د مدیترانې د سمندرګي د اسکندرې په برخه کې لوېې دلتاوي (Deltas) جوړوي. د نیل د وادي رسوبي خاورو ددې حوزې په کرنه او د خلکو د بشري تمدن په بنسټ کې مرسته کړې ده. په مصر کې تقریباً هېڅ باران نه اوري، خو ددې لپاره چې له کرني څخه پوره خوراکي مواد لاس ته راشي ډېرو اوبو ته اړتیا ده، دې موخې ته د رسیدلو لپاره د نیل پرسیند بندونه جوړ شوي دي. لکه چې دارنگه په ۱۹۷۱ م کال کې د اسوان بند د اسوان په سیمه کې جوړ شوی دی چې د نړۍ ډېر لوی مصنوعي

د افریقا د سیندونو سپینه نقشه





جهيل يې هم جوړ کړی دی. د نوموړي بند له اوبو څخه د کرنيزو ځمکو په خړو بولو کې ډېره گټه اخيستل کېږي. سربيره پر دې د زياتو اوبو د خطر مخنيوی هم کوي او د برېښنا د توليد سبب هم گرځېدلی دی. د نيل د سيند اقتصادي گټه داده چې هم ورباندې بند جوړ شوی او هم د سوډان او مصر دواړه هېوادونه د هغه له اوبو څخه په اوبو لگولو کې گټه اخلي. د نيل سيند مرستيالان د سپين نيل او ابې نيل په نومونو يادېږي. دا سيند د سوډان د هېواد تر پلازمينې د سپين نيل په نوم يادېږي. په همدې ځای کې د خپل مرستيال ابې نيل سره چې د حبشې له غرونو څخه سرچينه اخلي يو ځای کېږي. د سپين نيل اوبه د خپل بهير په اوږدو کې پراس کېږي او اوبه يې کمېږي، نو ځکه ابې نيل د نيل د سيند د اوبو په حجم کې غوره رول لوبوي.

### د ټولگي فعاليت

زده کوونکي دې په څو ډلو ووېشل شي، هره ډله دې په لاندې موضوعاتو باندې بحث وکړي او پايله دې ټولگيوالوته ووايي.

- د افريقا د لوبې وچې د اوبو حوزې.
- د نيل سيند او مرستيالان يې.
- د نيل د سيند اقتصادي ارزښت.

### پوښتنې

- ۱- د نفوسو شمېر د نيل د سيند په کومه برخه کې زيات دی؟
- ۲- د هغو بندونو نومونه واخلي چې د نيل پر سيند جوړ شوي دي؟
- ۳- د نيل سيند څه اقتصادي ارزښت لري؟

### له ټولگي څخه بهر فعاليت

د افريقا د سيندونو د ليکنې پرته نقشه، په خپلو کتابچو کې رسم کړئ او په هغې کې د افريقا د مهمو سيندونو نومونه او موقعيت وليکئ.



د استوايي ځنگلونو منظره

د کانگو دحوزې ساحې ته ولې شنه افريقا وايي؟

د افريقا بله لويه حوزه د کانگو حوزه ده چې په طبيعي توگه هلته استوايي گڼ او لوی ځنگلونه شته. ډېرې تودوخې او زياتو بارانونو، گڼ ځنگلونه په هغه ځای کې منځ ته راوړي دي. د نباتاتو وده دلته هېڅکله نه ځنډېږي. د افريقا دې برخې ته شنه افريقا وايي. هلته د ونو وده دومره زياته ده چې کله يې لوړوالی ۵۰ مترو ته هم رسېږي. د (۷) مخ د افريقا د سيندونو نقشې کې وگوري د کانگو سيند چې له ختيځ څخه لوېديځ لور ته بهېږي د افريقا استوايي برخه په برکې نيسي. د کانگو سيند د خپل نري بستر له لارې د اطلس په سمندر کې تويېږي. دهغه د بهير منځنۍ او شمالي برخې استوايي باراني ځنگلونو پوښلې دي، هلته د نفوسو د کموالي له امله خلک له يو بل څخه لرې پراته دي او سيمه ييز خلک په خپلو کوچنيو کرونډو کې په کرنه بوخت دي. د کانگو سيند د زاير د هېواد له جنوب ختيځ څخه سرچينه اخلي، د ۴۳۷۰ کيلومترو په واټن لومړی شمال لورته او بيا لوېديځې خوا ته بهېږي او له خپلو زياتو اوبو سره د اطلس په سمندر کې تويېږي. دا سيند د خپل بهير په پيل کې د لوالابا (*Lualaba*) په نوم يادشوی او د خپلو مرستيالانو سره يې د افريقا د لويې وچې د خاورې ۱،۸ برخه نيولې ده.

د کانگو د سيند اوږدوالی د نيل تر سيند څخه لږ، خو د اوبو حجم يې زيات دی. دا چې د اوبو د اخيستې حوزه يې په استوايي سيمو کې پرته ده او هلته ټول کال باران اوږي، نو له اوبو څخه ډک وي. د خپل بهير په



پورتنی برخه کې یې څړوبی هم منځته راوړي دي.

### د نایجیر سیند

د افریقا د اوبو له ډکو سیندونو څخه دی. د نایجیر سیند د افریقا د لویې وچې په لوېدیځ کې د گینې او عاج ساحل د هېوادونو د سمسورتیا سبب شوي دي. د نایجیر د سیند لویه دلتا د نفتو غوره زېرمې هم لري چې د (پورت هارکورت) *Port Harcourt* په برخه کې ځای پر ځای شوي دي.

د نایجیر د سیند لوېدیځې برخې چې د ۴۰۰۰ کیلومترو په اوږدوالي یې د سیرالیون له لوړو څخه سرچینه اخیستې د مالي له هېواد څخه د تېرېدو وروسته د نایجیریا هېواد ته ننوځي او د اطلس سمندر د گینې په خلیج کې توپېري.

### د زامبزی سیند

د زامبزی سیند له ۲۵۰۰ کیلومترو څخه زیات اوږدوالی لري. د زامبیا د هېواد له شمال لوېدیځ څخه سرچینه اخلي او د جنوب خواته بهیږي.

ددې حوزې زیاته برخه لوړو سطحو چې زیاتره یې وښو پوښلې، نیولې ده. دا سیند له شمال څخه سوېل خواته بهیږي او د هند په سمندر کې توپېري. د زامبزی سیند د خپل بهیر په اوږدو کې څړوبی (آبشار) منځ ته راوړي چې مهم څړوبی یې ویکتوریا نومېږي.

### د سنیګال سیند

دا سیند د لوېدیځې افریقا د سنیګال په هېواد او د اطلس سمندر په ختیځ کې موقعیت لري او د اطلس په سمندر کې توپېري.

د سنیګال سیند ۱۲۰۰ کیلومتره اوږدوالی لري. د سنیګال دره هم د استوګنې له غوره مرکزونو څخه ده. د افریقا په لویه وچه کې د سیندونو شتون د هوا د رطوبت، سمسورتیا او د کرنیزو تولیداتو د زیاتوالي سبب کېږي. همدارنګه ددې سیندونو په شاوخوا کې د زیات شمېر وګړو د ځای پر ځای کیدنې او هم د تاریخ په اوږدو کې د لرغونو او پرمینو تمدنونو د منځ ته راتلو سبب شوي دي. د افریقا سیندونه په پسرلي کې مستیری، خو له نیکه مرغه اوس یې سپلابي بهیر تر یوه حده تر کنترول لاندې راغلې دي.

د سنیگال سیند





د زمبیا او زمبابوې د هیوادونو تر منځ د زامبزي د سیند د پاسه بل



### د ټولګي فعالیت

زده کوونکي دې په ډلو ووېشل شي، هره ډله دې په دې هکله چې ولې د افریقا د لوپې وچې سیندونه د کال په اوږدو کې له اوبو ډک او سېلابي وي، بحث وکړي او د خپلو خبرو او بحث پایلې دې ټولګیوالو ته وړاندې کړي.

### پوښتنې

- ۱- د افریقا سیندونه د دې لوپې وچې پر اوبو، هوا او اقتصاد څه اغیزه لري؟ توضیح یې کړئ.
- ۲- د کانګو سیند څه ارزښت لري؟
- ۳- د سنیګال سیند د څه غوره ارزښت لرونکی دی؟
- ۴- د نایجیر سیند څه اقتصادي ارزښت لري؟

### له ټولګي څخه بهر فعالیت

د افریقا د سیندونو په هکله خپل لنډ معلومات ولیکئ او د جغرافیې په راتلونکې لوست کې یې



د جهیل په هکله څه پوهېږئ او له جهیل څخه څه گټه اخیستل کېږي؟

د افریقا په لویه وچه کې ډیر لوی او کوچني جهیلونه شته چې تر ټولو لوی یې د ویکتوریا جهیل دی او د تانزانيا او یوگندا د هېوادونو ترمنځ بېلوونکې پوله جوړوي. ډېر کوچنی جهیل یې د نګامې جهیل دی چې د بوتسوانا په هېواد کې دی. د جهیلونو له اوبو څخه د څښلو او د سمندري حیواناتو او الوتونکو د خوړو لپاره گټه اخیستل کېږي. ځیني جهیلونه مالګین وي یعنې هغه وخت چې د جهیلونو اوبه په پراس بدلې شي مالګه یې رسوب کوي. همدارنګه هغه الوتونکي چې له یوې سیمې څخه بلې سیمې ته ځي، د لارې په اوږدو کې د همدې جهیلونو او د هغو له اوبو څخه گټه اخلي. ددې جهیلونو له اوبو څخه د اوبو د غټو پمپونو په وسیله د ساحلي سیمو د خوړو لپاره گټه اخیستل کېږي. د افریقا په لویه وچه کې ددې جهیلونو شتون په سیمه کې د رطوبت سبب هم کېږي او تر یوه حده د هغې سیمې د وچ والي مخه نیسي. نوموړي جهیلونه زیاتره د افریقا په سویل ختیځ کې پراته دي چې د دې لویې وچې د تکتونیکي ساحې ښکارندوی دي. لکه څرنګه چې مو مخکې وویل د افریقا د لویې وچې مهم جهیل ویکتوریا (Victoria) دی چې



د تانزانيا او يوگندا هېوادونو ترمنځ بېلوونکي پوله جوړوي او لوی ښارونه هم د ویکتوريا د جهيل شاوخوا جوړشوي دي. په طبيعي نقشه کې گورئ چې د نياسا (Nayasa) (مالاوی) جهيل د موزمبيق د هېواد په شمال او د مالاوی د هېواد په ختيځ کې، د تانگانیکا جهيل د تانزانيا د هېواد په لوېديځ کې، د البرت (Albert) جهيل د يوگندا د هېواد په لوېديځ کې، د رودولف (Rudolf) جهيل د کينيا د هېواد په شمال لوېديځ کې، د چاد (Chad) جهيل د چاد په هېواد کې، د تانا (Tana) جهيل په ايتوپيا کې او د نګامي (Ngami) جهيل د بوتسوانا په هېواد کې موقعيت لري.

### د ټولګي فعاليت

زده کوونکي دې په ډلو وویشل شي او هره ډله دې د جهيلونو د اقتصادي ارزښت په هکله بحث او خبرې وکړي، د بحث پایلې دې ټولګيوالوته وړاندې کړي.

### پوښتنې

- ۱- د افریقا د لویو او کوچنیو جهيلونو نومونه واخلې؟
- ۲- د افریقا په لویه وچه کې د جهيلونو شتون څه گټې لري؟
- ۳- د نګامي جهيل په کوم هېواد کې موقعيت لري؟

په ايتوپيا کې	د نګامي جهيل
په سومالی کې	
په بوتسوانا کې	
ساحل عاج کې	

### له ټولګي څخه بهر فعاليت

زده کوونکي دې د افریقا د لویې وچې نقشه رسم کړي او ټول جهيلونه دې په هغې کې وښيي او رنگ دې کړي.



د مدیترانې له سمندرگي څخه یو تصویر

د افریقا د سمندرگيو په هکله څه پوهېږئ او د افریقا خلک له سمندرگيو څخه څه گټه اخلي؟

د افریقا لویه وچه د ځمکنی جوړښت او سواحلو د درلودو له امله زیات سمندرگي نه لري. دا لویه وچه دوه مهم سمندرگي لري چې له هغو څخه د سوداگرۍ د بېړیو د تگ او راتگ لپاره گټه اخیستل کیږي. همدارنگه له سمندرگيو څخه د کال په بېلا بېلو موسمونو کې مهاجر الوتونکي چې له یوځای څخه بل ځای ته کوچیږي د هغو له موقعیت څخه د یوې پیژندل شوې سیمې په توگه گټه اخلي. سربېره پردې د بحري حیواناتو لپاره خواړه هم برابروي. هغه وگړي چې د سمندرگيو په سواحلو کې استوگنه لري هغوی د کبانو په ښکار د خپل ژوند اړتیاوې پوره کوي.

### ۱- د مدیترانې سمندرگي

د افریقا د لوېې وچې په شمال کې د مدیترانې سمندرگي پروت دی، چې د نړۍ یو لوی سمندرگي هم دی. پراخوالی یې ۲،۹۶۶،۰۰۰ کیلومتره مربع او ډېره ژوره نقطه یې ۴۳۳۰ متره ده. دا سمندرگي په جنوب ختیځ کې د سویز کانال په واسطې سره سمندرگي سره نښلول شوی دی او په لوېدیځ کې د جبل الطارق د ابنا په واسطې د اطلس (اتلانتيک) د سمندر سره نښتی دی او لویه سوداگریزه لاره یې جوړه کړې ده. هغه هېوادونه چې د مدیترانې د سمندرگي شاوخوا ته پراته دي مدیترانه یي اقلیم او ښې هوا لرونکي دي.



## ۲- احمر (سور) سمندرگی

احمر یا سور سمندرگی د افریقا په شمال ختیځ کې پروت دی چې په شمالي برخه کې د سویز کانال په واسطې د مدیترانې د سمندرګي سره نښلول شوی دی او په سوېل ختیځې برخې کې د باب المندب د آنا په واسطې د عدن له خلیج سره نښتی دی. ددې سمندرګي پراخوالی ۴۳۸،۰۰۰ کیلومتره مربع دی. اوبه یې ډېره مالګه لري او د څښلو وړ نه دي. همدارنګه هلته د اویو براس کېدل خپلې لوړې اندازې ته رسېږي، ځکه چې له دواړو خواوو د لویو صحراوو په واسطې محدود شوی دی.

د سور سمندرګي یو تصویر



## اضافي معلومات

**د سوز کانال:** د سوز د کانال کیندل فرانسوي مهندس فرديناند دوليسپس طرحه کړ. ددې کانال د جوړولو کار په ۱۸۵۶ م کال کې پېل او په ۱۸۶۹ کال کې پای ته ورسید او د نومبر په میاشت کې پرانیستل شو. ۹۹ کلن امتیاز یې یو نړیوال شرکت ته چې په هغې کې فرانسې، انگلستان او نورو اروپایي هېوادونو گډون درلود ورکړ شو او مرکز یې په پاریس کې و. د سوز د کانال اوږدوالی د مدیترانې د سمندرګي د غاړې د پورت سعید له بندر څخه تر سوزه یعنی د سره سمندرګي تر غاړې ۱۶۱ کیلومتره دی، د گټې اخیستنې وړ سورې ۶۰ متره او ژوروالی یې ۱۲ متره دی.

د سوز له کانال څخه د ۶۰ زرو ټنو په ظرفیت بیړۍ شپه او ورځ تگ اورتگ کولای شي. د آسیا او اروپا ترمنځ په سلوکې ۸۰ د سوداګریزو مالونو لېږدېدنه د سوز کانال له لارې ترسره کېږي چې د نړیوالې سوداګرۍ په سلوکې ۱۵ په برکې نیسي. د سوز کانال د مصر په هېواد کې کیندل شوی دی. سوز کانال په ۱۹۵۶ م کال کې د مصر دولت له خوا ملي اعلان شو.

### د سوز د کانال یوه څنډه





د سویز د کانال یوه بله برخه



### د ټولګي فعالیت

زده کوونکي دې په ډلو ووېشل شي، هره ډله دې د سمندرګيو د اقتصادي ارزښت په هکله بحث وکړي او د بحث پایلې دې نورو ته وړاندې کړي.

### پوښتني

- ۱- د مديترانې سمندرګي دافريقا د لويې وچې په کومې برخې کې موقعيت لري؟
- ۲- سور (احمر) سمندرګي په شمال کې د کوم کانال په وسيلې د مديترانې د سمندرګي سره نښلول شوی دی؟

### له ټولګي څخه بهر فعالیت

زده کوونکي دې په خپلو کتابچو کې د افريقا نقشه رسم کړي او سمندرګي دې د هغې پرمخ وښيي.



د افریقا د خلیجونو نقشه

د افریقا د لویې وچې په شاوخوا کې کوم خلیجونه شته دي؟

- د افریقا د لویې وچې په غاړو کې د وتلو او ننوتلو برخو د نشتوالي له امله، زیات شمېر خلیجونه نشته. د افریقا خلیجونه عبارت دي له:
- د عدن خلیج (Aden) ددې لویې وچې په شمال ختیځ کې چې د آسیا د لویې وچې یوه برخه هم ګڼل کېږي، موقعیت لري.
  - د فول (Foul) خلیج د افریقا په شمال ختیځ کې چې په سره (احمر) سمندرګي کې موقعیت لري.
  - د سوز (Suez) خلیج د سوز کانال په جنوب کې موقعیت لري.
- د افریقا د شمال خلیجونه عبارت دي له:
- د سلوم (Salum) خلیج، بمبه (Bamba) خلیج، سدر (Sidra) خلیج، قابس (Qabis) خلیج او د تونس (Tunis) خلیج چې د افریقا په شمال کې د مدیترانې په سمندرګي کې موقعیت لري.
  - هغه خلیجونه چې د افریقا په سوېل لوېدیځ کې موقعیت لري عبارت دي له:
  - د ګینې (Guinea) خلیج، والویس (Walvis) خلیج، لودریټس (Luderits) خلیج او د سنت هلنا (Saint Helena) له خلیج څخه چې ددې خلیجونو له ډلې څخه د ګینې خلیج د افریقا د لویې وچې ډیر لوی خلیج او ډېر کوچنی خلیج یې د سوز خلیج دی چې د سوز کانال په سوېل کې موقعیت لري.
  - هغه خلیجونه چې د مدغا سکر د ټاپو په شاوخوا کې پراته دي عبارت دي له:
  - د سنت اګوستین له خلیج څخه د مدغا سکر د ټاپو په سوېل لوېدیځ کې او د انتون ژیل (Antongil) له



خليج خخه د مدغاسکر د ټاپو په شمال ختيځ کې.



### د ټولګي فعاليت

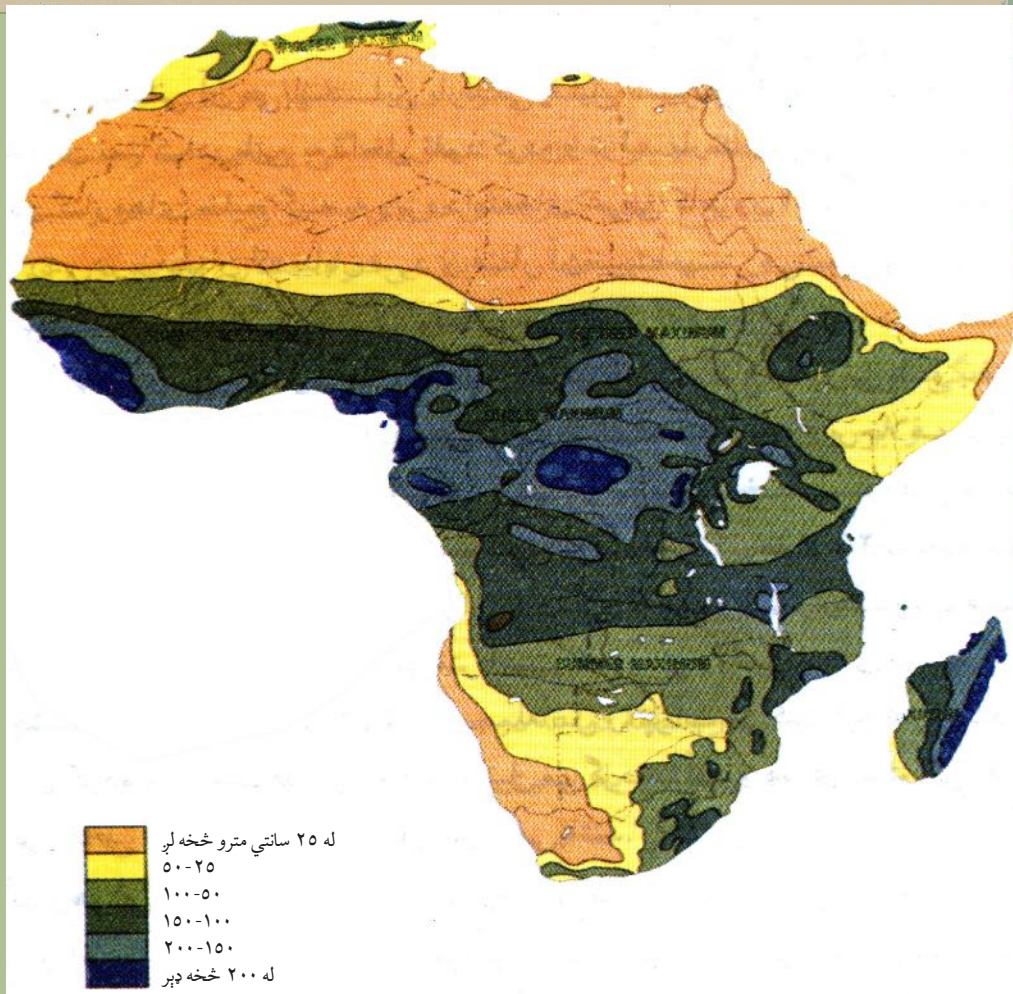
زده کوونکي دې په ډلو ووېشل شي او هره ډله دې د نقشې له مخې خليجونه نورو ته وښيي.

### پوښتنې

- ۱- د افريقا د لويې وچې شمال ختيځ خليجونه دنقشې پرمخ وښايست.
- ۲- د سوز خليج د افريقا د لويې وچې په کومه برخه کې موقعيت لري؟
- ۳- د افريقا د جنوب لويديځو خليجونو نومونه واخلي او په نقشه کې يې وښايست؟
- ۴- د افريقا د لويې وچې د ډېر لوی او کوچني خليج نوم واخلي.
- ۵- د سنت آگوستين خليج او د انتون ژبل خليج د نقشې پرمخ وښايست.

### له ټولګي خخه بهر فعاليت

زده کوونکي دې په خپلو کتابچو کې د افريقا د لويې وچې نقشه رسمه کړي او د ټولو خليجونو موقعيت دې دهغې پرمخ وليکي.



د افریقا د لویې وچې د اورښت نقشه

### ولې د افریقا د لویې وچې اقلیم سره توپیر لري؟

د افریقا لویه وچه د هغه موقعیت له سببه چې د ځمکې د کرې پر مخ بې لري، د نړۍ ډېره توده لویه وچه شمېرل کیږي. که نقشې ته ښه ځیر شو، نو گورو چې د دې قارې یوه برخه یې په استوایي سیمې کې موقعیت لري او د دې سیمې اقلیم تود، سوځوونکی او څه ناڅه مرطوب دی. د افریقا د وچې د استوایي اقلیم په شمال او سوېل کې د استوا لاندې اقلیمي سیمې پراختیا موندلې. د استوایي اقلیم په شمال او سوېل کې د استوا لاندې پراختیا موندلې، اقلیم یې نسبتاً معتدل او لنده بل یې ډېر لږ دی، ځکه چې په شمال لوېدیځ کې د اطلس غرونه، په ختیځ کې د حبشې لوړې سطحې او په سوېل کې د د راکنزبرگ غرونه وچې اقلیمي سیمو



ته د سمندري مرطوبې هوا د ورننوتلو خنله گرځي.

د افريقا ختيځې برخې د هند سمندر د مونسوني غير منظمو بادونو په سيمه کې پرتې دي. په داسې حال کې چې پاتې برخې يې د تجارتي منظمو بادونو څخه برخمنې دي. د افريقا په بيدياوو او سوځوونکو دښتو کې وچ او تاوده توپانونه لگيږي چې د خمسين په نوم شهرت لري. د استوايي سيمو اقليم يې تود او نمجن دی او د کلني تودوخې منځنۍ اندازه يې د سانتیگراد د ۳۰ درجو په شاوخوا کې ده. د افريقا ډېره توده سيمه چې په حقيقت کې نړيوال ريکارډ لري د عزيزيه Azizia په نوم د ليبيا په شمال لوېديځ کې موقعيت لري چې د تودوخې لوړه اندازه يې د سانتیگراد تر ۵۸ درجو پورې ثبت شوې ده.

- د اطلس دغرونو، د حبشي د لوړو سطحو او د دراکنزبرگ د غرونو شته والی د افريقا د لويې وچې پر

اقليم څه اغېزه لري؟

افريقا لږ اورښت لري. يوازې د استوا د کرښې په شاوخوا کې ټول کال اورښت کيږي. د استوا د کرښې څخه د شمال او سوېل لورته ورو ورو د هوا لنډه بل کمږي او لږ اورښت لري. واورې يوازې په ډېرو لوړو غرنيو سيمو کې اوري او همېشني واورې په لوړو څوکو کې ليدل کيږي.

### د ټولگي فعاليت

زده کوونکي دې په ډلو وویشل شي، هره ډله دې د لوست د متن او اقليمي نقشو څخه په گټې اخیستنې سره د افريقا د بادونو، رطوبت او تودوخې په هکله معلومات راټول او ټولگيوالو ته دې وړاندې کړي.

### پوښتنې

- ۱- د افريقا د لويې وچې په کومو سيمو کې واوره اوري؟
- ۲- په افريقا کې ډېره توده سيمه چې نړيوال ريکارډ لري په کوم هېواد کې موقعيت لري او په څه نامه يادېږي؟

### له ټولگي څخه بهر فعاليت

که چيرې د استوا له کرښې څخه د افريقا د لويې وچې شمال او سوېل لور ته سفر وکړو په خپل تگلوري کې په ترتيب سره د کوم ډول آب او هوا سره مخامخ کېږو؟



د صحرايي اقليم يوه څنډه

آيا پوهېرى- دافريقا په مختلفو اقليمي سيمو كې كوم ډول نباتات پيدا كېږي؟

د افريقا لويه وچه د ډول ډول اقليمونو له پلوه په لاندې اقليمي سيمو وېشل شوې ده:

### ۱- داستوايي ځنگلونو د سيمي اقليم

دا سيمي ډېره توده استوايي آب او هوا او همېشني بارانونه لري چې د كانگو حوزه او د افريقا سوېل لوېديځ سواحل په برکې نيسي. په دې برخې كې استوايي چتر ډوله د لوړو ونو ځنگلونه زيات دي. دلته د كاك او رېر ونې ډېرې شنې كيږي. د استوايي ځنگلونو په ساحې كې په ځانگړي ډول د كانگو پلازمېنه يعنې د كنشاسا حوزه او د گابون، لايبريا، سيراليون او كانگو برازاويل يوه برخه شامله ده.

- د استوايي اقليم ځانگړتياوې ووايست؟

### ۲- د ساوانا د استوا لاندې ساحي اقليم

دا ساحه د استوايي ځنگلونو د ساحې په شمال او سوېل كې موقعيت لري. په سوېل كې تر زامبيا او په شمال كې مركزي افريقا، نايجريا او دمالي سوېل په برکې نيسي.





### ۳- د سټپ د ساحې اقليم

د سټپ د سيمې اقليم چې د افريقا په شمال کې د پټې په څېر د ختيځ څخه لوېديځ لورته غځېدلی دی، ددې سيمې د مالدارانو لپاره يې ښه څر ځايونه منځته راوړي دي او د استوا لاندې سيمو او لويې صحرا ترمنځ موقعيت لري. د سټپ سيمې نسبتاً توده او معتدله باراني آب او هوا لري. نوموړې سيمه د افريقا په سوېل کې بوتسوانا، د ناميبيا يوه برخه او د سوېلي افريقا شمال ختيځې برخې په برکې نيسي چې هغه هم د مالدارانو د څر ځايونو او غلو دانو د کرنې لپاره برابره ده.



د سټپ اقليم

#### ۴- د صحرايي سيمې اقليم

صحرايي سيمه د افريقا د براعظم په شمال کې ډېره پراخه ده، ټوله لويه صحرا په کې راځي. دا سيمه د سوډان او مصر څخه پيل د موريتانيا تر وروستۍ برخې پورې رسيرې او د نړۍ د لويو صحراوو څخه شمېرل کيږي. په دې سيمې کې وچ، صحرايي اقليم او لږ اورښت وي. په نوموړې ځای کې شاپرې ځمکې او پراخ شگلنځايونه شته چې د کرنې لپاره ښه زمينه نشي برابرولای. دا اقليم د سوېل لويديځه وروستۍ برخه په بر کې نيسي او د افريقا په سوېل لويديځ ساحل کې د يوې کوچنۍ پټۍ په څېر تر ۱۰ درجو د عرض البلد پورې غځېدلې ده. په دې سيمه کې د کالاهاری او ناميبيا صحراوې هم شامليرې.

#### ۵- د مديترانه يي سيمې اقليم

مديترانه يي اقليم د افريقا په شمال کې ساحلي غاړې شاملې دي چې د اسکندريې څخه د مراکش تر سواحلو پورې غځېدلې دي. ددې سيمې مهم پيداوار انگور، د ستروس د کورنۍ ميوې (لکه کينو، نارنج،



مالټه، ليمو، سنتره)، خرما او گني دي، خو په جنوبي افريقا کې مديترانه يي اقليم د هغې سوېل ختيځې برخې په برکې نيسي چې د لوسوتو کوچنی هېواد او د سوېلي افريقا جنوب ختيځې برخې په کې شاملې دي. سربېره پر هغې د جنوبي افريقا د هېواد پلازمېنه او مهم بندر کيب ټاون هم مديترانه يي اقليم لري.

### د ټولگي فعاليت



زده کوونکي دې په ډلو ووېشل شي، هره ډله دې د افريقا په اقليمي سيمو باندې بحث وکړي او د هرې ډلې استازی دې د ټولگي مخ ته د خپلې ډلې د بحث پايلې نورو ته بيان کړي.

### پوښتنې



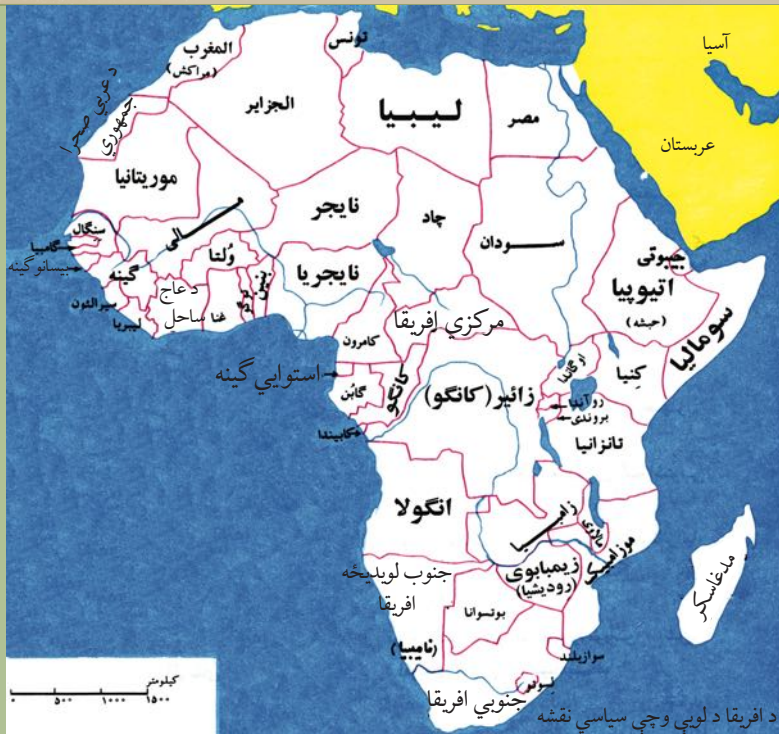
زده کوونکي دې لاندې جدول د ورکړ شوو بيلگو په نظر کې نيولوسره په خپلو کتابچوکې بشپړ کړي.

د اقليم ډول	د اقليم ځانگړتياوې
۱- د استوايي ځنگلونو سيمې اقليم	۱- دا سيمې د ډيرې تودې استوايي اقليم چې همېشني اوربښتونه ورسره مل وي، لرونکي ده. چې په هغې کې د استوايي چتر ډوله لوړو ونو ځنگلونه ډېر ليدل کېږي.
۲- د سټپ د سيمې اقليم	۲-
۳- د صحرايي سيمې اقليم	۳-
۴- د مديترانه يي سيمې اقليم	۴-

### له ټولگي څخه بهر فعاليت



زده کوونکي دې په خپلو کتابچوکې د افريقا نقشه رسم کړي، بيا دې د افريقا د لويې وچې اقليمي سيمې د نقشې پر مخ په ښکلو رنگونو وښيي.



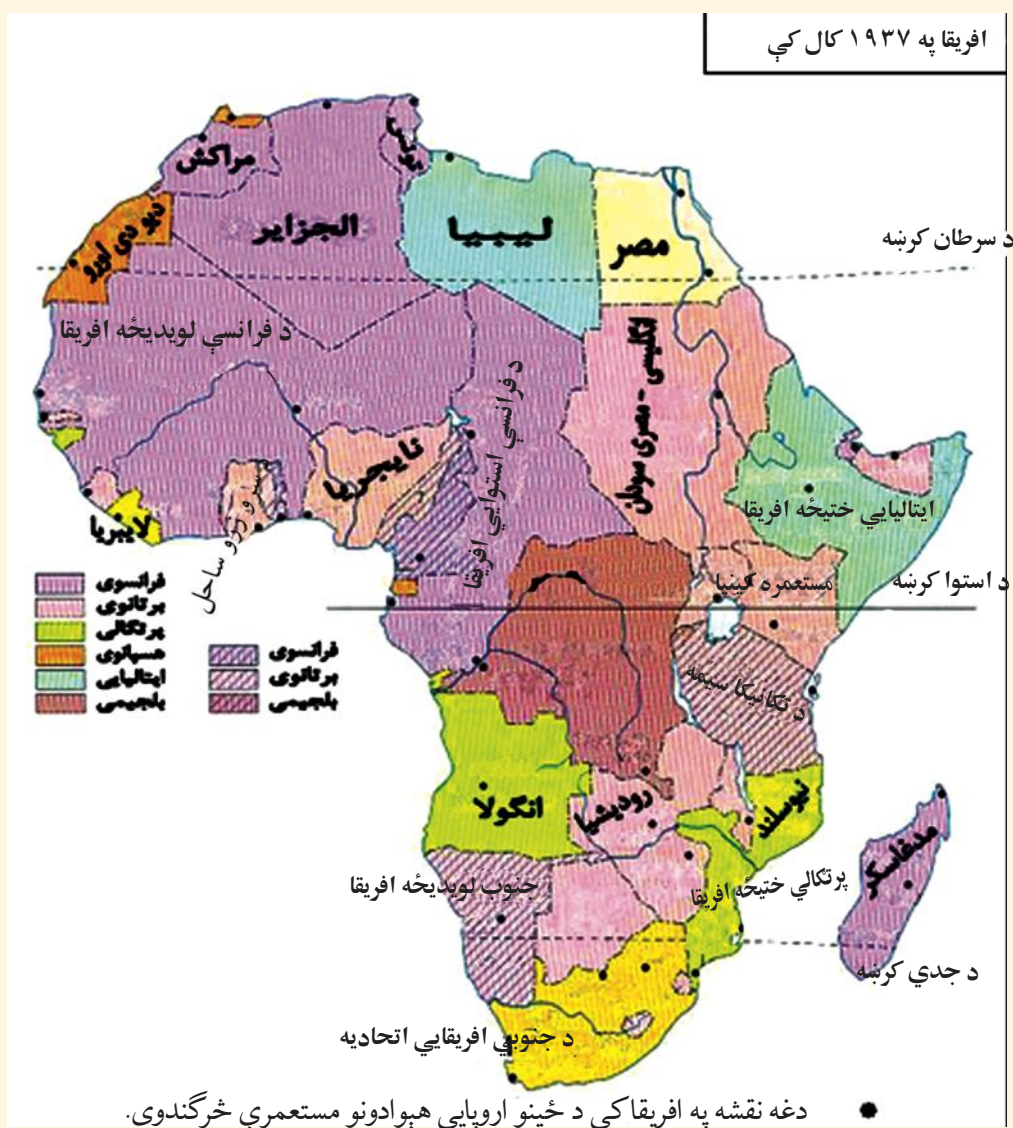
د افریقا د لویې وچې د سیاسي جغرافیې په هکله څه پوهیږئ؟

افریقا هغه لویه وچه ده چې په کې زیات بدلونونه لیدل کیږي، له دې حقیقت سره هغه وخت اشنا کېږئ چې د افریقایي مهاجرینو لویو ډلو ته چې په نړۍ کې ځای پر ځای شوي دي پاملرنه وکړئ. ډېر وگړي یې د سیاسي او اقتصادي ناوړه شرایطو له امله د تېښتې په حال کې دي، خو افریقا په مثبت ډول هم د بدلیدو په حال کې ده، په دې معنا چې د ستونزو د لېږې کولو د حل لاره یې هم پیدا کړې ده. د بېلگې په توگه، د ځینو سیمو د صحرايي کیدلو سره د مبارزې او مخنیوي په خاطر یې ښه کارونه هم سرته رسولې دي او د سمسورتیا د ساتلو لپاره یې کوښښ کوي، خو ددې لویې وچې خلکو د سیاسي، اقتصادي او ټولنیزې پرمختیا په برخه کې د نړۍ د نورو لویو وچو په پرتله وروسته گام ایښی دی، نو ځکه نسبتاً وروسته پاتې دي. ددې لویې وچې زیاتره خلک د سوانا په سیمو کې په شیندلي ډول استوگنه کوي او یا د ځنگلونو په منځ کې اوسېږي یا داچې لاتراوسه د کوچیانو په څېر ژوند کوي. دوی د خپل ژوند اړتیاوې د ابتدایي کرنې له لارې لاس ته راوړي.

د افریقا د لږې پرمختیا په هکله ځینې لیکونکي او څېړونکي په دې باور دي چې د هغو د وروسته پاتې والي اصلي حقیقت د نورو لاملونه ترڅنګ یو هم د لوېدیځو اروپایانو په وسیله د هغوی استثمارول دي او که نه د بنکیلاک (استعمار) د مخه له ۱۲ څخه تر ۱۵ مېلادي پېړۍ پورې ځینو تور پوستکو افریقایانو د سوډان



د هېواد په لوېديځ کې خپل کلتورونه درلودل او متمدنه هېوادونه يې منځ ته راوړي وو چې د گانا او مالي هېوادونو نومونه هم له هماغو پخوانيو قومونو څخه استازيتوب کوي او حتی نن هم وينو هغه هېوادونه چې تازه خپلواکي ته رسيدلي، د هېوادونو يا ښارونو او نورو برخو نومونه يې چې د اسارت په وخت کې اېښودل شوي وو بدل کړي او يا يې بېرته هم هغه پخوانيو اصلي نومونو ته گرځولي دي او يا يې د پخوانيو اتلانو او جنگياليو په نوم يادوي. هغه وخت چې د اروپايي هېوادونو پانگوالو، د ښه سوق الجېشي موقعيت، طبيعي ډېرو منابعو او بشري ارزانه ځواک ته د رسېدو پر بنسټ افريقا خپل هدف وگرځوله او هلته يې د خپلو صنعتي توليدي توکو د وړاندې کولو لپاره تود



بازار وموند، د هغو پر استثمار يې نور هم كوښښ وكړ. د هغو جگړو په پايله كې چې د افريقا خلكو پر دښمن بری حاصل كړ، د افريقا د مختلفو سيمو نورې خپلواكۍ غوښتونكې جبهې يې هم وهڅولې او هغوى يې له استعمارگرانو څخه دخپلواكۍ لاسته راوړلوته، هيله من كړل. په افريقا كې تر ۱۹۵۱ م كال پورې له څلورو هېوادونو (حبشى، لايبريا، مصر او جنوبي افريقا) څخه زيات خپلواك نه وو او له ۱۹۵۲ م څخه تر ۱۹۹۶ م كال پورې د هغو شمېر ۳۷ مملكتونو ته ورسېده چې اوس د افريقا د لويې وچې په سياسي نقشه كې ۵۵ خپلواك هېوادونه ليدلاى شو.

د استعمار د دوران د افريقايي مريانو يو تصوير





په جنوبي افريقا کې د اوږدې مودې لپاره د لويديځو هېوادونو سپين پوستکي لږه کي په واک کې وو او پر زياترو تور پوستکو باندې يې حکومت کاوه. دا نژادي تبعيض (اپارتايد) په هغه ځای کې د تور پوستکو خلکو د مهاجرت لامل شوی و چې د اپارتايد له پای ته رسېدو وروسته کله چې په جنوبي افريقا کې په ۱۹۹۴م کال کې خپلواکي ټولټاکنې وشوې، دهغه هېواد اوسېدونکي بېرته خپلو اصلي سيمو ته راوگرځېدل.

### د ټولگي فعاليت

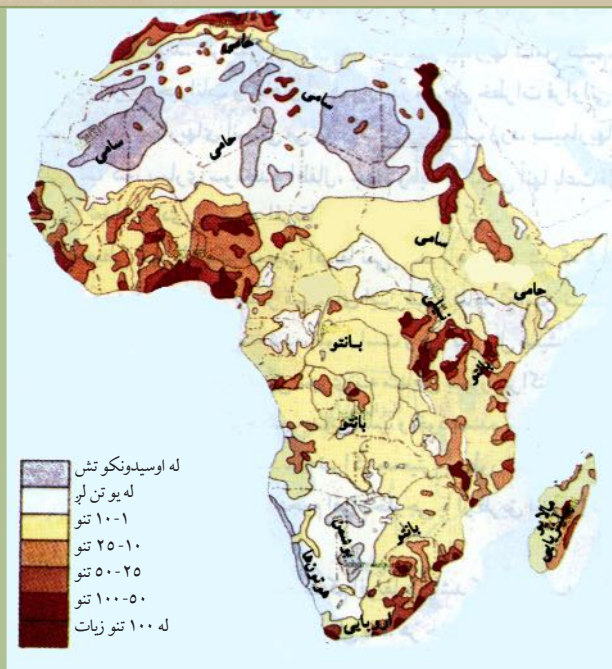
زده کوونکي دې په ډلو ووېشل شي، د جنوبي افريقا په نژادي تبعيض دې بحث وکړي او پایلې دې نورو ته وړاندې کړي.

### پوښتنې

- ۱- نژادي تبعيض په کوم کال کې په جنوبي افريقا کې پای ته ورسیده؟
- ۲- د نړۍ په نقشه کې اوس افريقا څو خپلواک هېوادونه لري؟ د نقشې پرمخ يې وښايست.
- ۳- څېړونکو د افريقايانو د ورو پرمختگ په هکله څه نظر درلوده؟
- ۴- په ۱۹۵۱ م کې افريقا څو خپلواک هېوادونه درلودل؟ نومونه يې ووياست.

### له ټولگي څخه بهر فعاليت

د افريقا د لويې وچې د وروسته پاتې والي لامل په هکله يوه مطلب وليکئ او ټولگيوالو ته يې وړاندې کړئ.



د افریقا په لویه وچه کې د نفوسو د جغرافیایي ویش نقشه

- د افریقا د لویې وچې په کومو سیمو کې د نفوسو شمیر زیات دی او ولې؟

د افریقا د لویې وچې بشري جغرافیه په څلورو برخو کې چې له نفوسو، نژاد، ژبې او دین څخه عبارت دي په بشپړه توګه مطالعه کوو.

### نفوس

د نړۍ د بشر ډېر لرغوني آثار، د افریقا د لویې وچې د تانزانیا په هېواد کې لیدل شوي چې څه ناڅه ۴،۵ میلیونه کاله لرغونتوب لري. په ۱۹۹۸م کال کې د افریقا په لویه وچه کې د ۶۱۵ میلیونو تنو په شاوخوا کې خلکو ژوند کاوه چې د ټولې نړۍ د نفوسو په سلو کې ۱۲،۲ یې جوړول. ددې لویې وچې د نفوسو د لږوالي لامل په صحراوو او ګڼو ځنګلونو کې د ژوند نامناسب شرایط، ساري ناروغی، کورنۍ جګړې او د خوراکي توکو لږوالی دی. د وګړو ګڼوالي د افریقا په مختلفو سیمو کې سره توپیر لري. د افریقا په صحرا کې تقریباً څوک نه اوسېږي، په سوانا او سب تروپیک سیمو کې چې حاصلخیزې ځمکې لري د نفوسو ګڼوالی یې ډېر دی، د بېلګې په توګه: د نیل سیند د وادي په کښتنۍ برخې کې د نفوسو ګڼوالی په هر کیلومتر مربع کې ۱۰۰ تنو ته رسېږي. د نفوسو ګڼوالی د سیندونو او سمندرونو په غاړو کې هم لیدل کېږي.

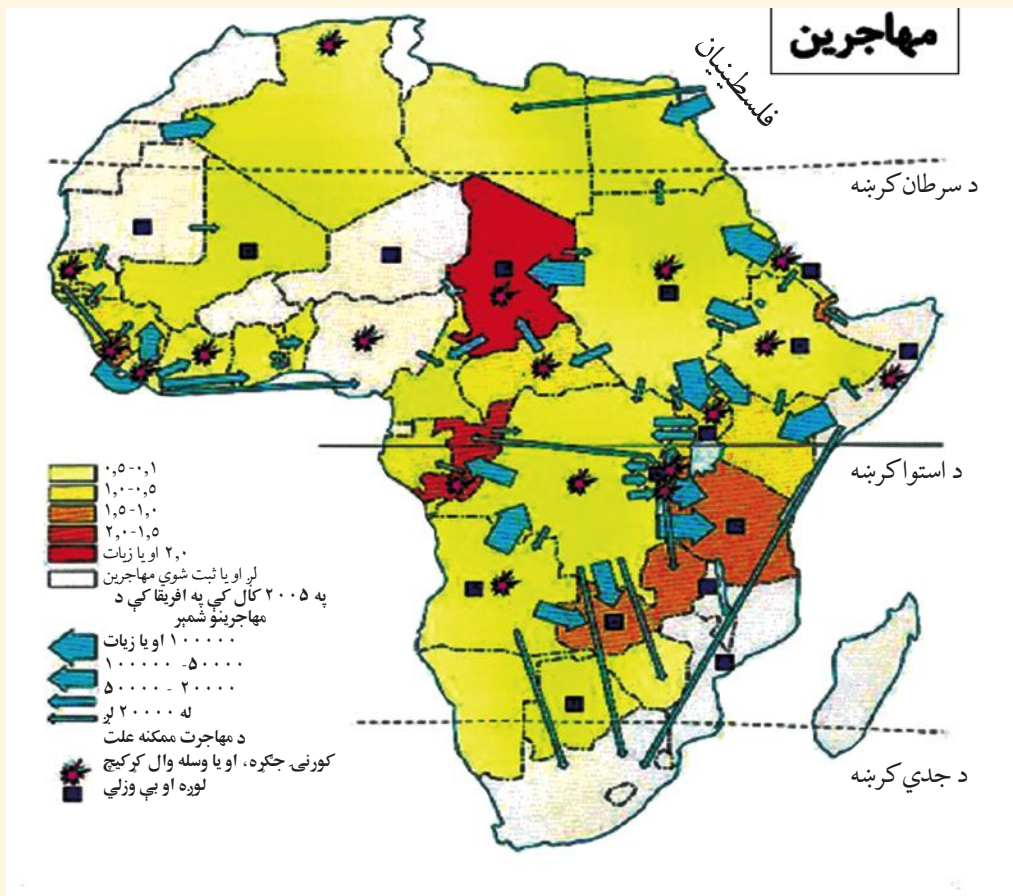
- د افریقا د لویې وچې د نفوسو د لږوالي لامل (علت) څه دی؟



## نژاد

د افریقا د لویې وچې د نفوسو د وېش او قومي ترکیب نقشوته وگورئ. د افریقا په شمال کې عرب خلک ژوند کوي چې په عربي ژبه خبرې کوي او زیات شمېر یې په ښارونو کې اوسېږي. د کلو خلک په کرنه بوخت دي. ددې سیمې عرب اوسېدونکي له دوو قبیلو یعنی حامی (Hami) او سامی (Sami) سره تړاو لري. دا خلک غنم رنگه خېره او تور وېښتان لري. د افریقا په شمال لویديځ کې بربر قبایل استوگنه کوي چې سپین پوستکی لري او د اسپانویانو او ایټالیانو له نسل سره ورته والی لري. له همدې کبله د مراکش، الجزایر او تونس هېوادونه د بربر هېوادونو په نوم یادوي. د افریقا په جنوبي او مرکزي برخو او لویې صحرا کې تور پوستي خلک اوسېږي چې د افریقایي توراتو په نوم یادېږي او د افریقا د ټولو وگړو  $\frac{2}{3}$  برخه جوړوي، خو له توکمیز پلوه سره توپیر لري، نو ځکه په بېلو بېلو ډلو وېشل شوي دي.

د مهاجرینو نقشه



د مرکزي او جنوبي افريقا په لويه صحرا کې توريوستي خلک ژوند کوي چې د ونې، خېرې او د پوستکي د رنگ له پلوه توپير سره لري او په دوو برخو سوډاني او بنتونيگرويانو وېشل شوي دي. د منځنۍ افريقا په استوايي ځنگلونو کې د پيگمي قبيلو وگړي اوسېږي چې ټيټې ونې لري. د نارينوو منځنۍ ونه يې ۱۴۵ سانتي متره او د بنځو يې ۱۳۵ سانتي مترو ته رسېږي. د پيگمي خلکو د پوستکي رنگ دومره تور نه دي. ددې خلکو کورونه او اړتياوې له ځنگلونو څخه پوره کيږي او کورونه يې په مشکل سره ليدل کيږي، ځکه د هغو کورونه د ونو په پاڼو او بناخونو پوښلي دي. د زرو پيگمي خلکو کالي د يو ملاتروني (کمر بند) څخه عبارت دي چې د ملا څخه يې تړي او کله هم د ونو پاڼې په هغو پورې تړي. کله چې اروپايي سپين پوستي مهاجر خلک د ۱۸۰۰ م کال څخه وروسته افريقا ته راغلي وو، د خپلو ښکيلاکي کړنلارو د عملي کولو په خاطر يې د افريقا ډيرې برخې د خپلې واکمنۍ لاندې راوستې، هغوی په جنوبي افريقا او زمبابوي کې ژوند کاوه او وروسته په کينيا، يوگندا او نورو افريقايي هېوادونو کې خواره واره شول.

د افريقا له نيگرو خلکو يوه څېره

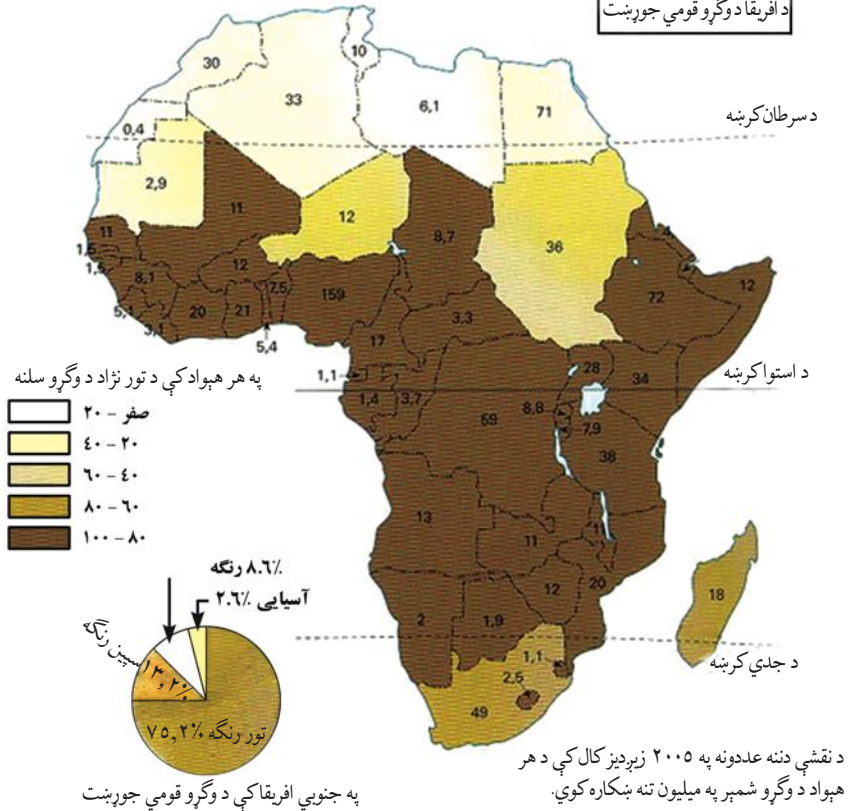


د شمالي افريقا له عربو يوه څېره





### د افریقا د وګړو قومي جوړښت



### د ټولګي فعالیت

زده کوونکي دې په ډلو ووېشل شي، هره ډله دې د افریقایانو د مهاجرتونو پر عواملو بحث وکړي او دخپلو بحثونو پایلې دې نورو ته وړاندې کړي.

### پوښتنې

- ۱- د افریقا په شمال کې کوم خلک ژوند کوي او په کومې ژبې خبرې کوي؟
- ۲- د افریقا په شمال لویدیځ کې کوم قبایل ژوند کوي او کوم نسل ته ورته والی لري؟
- ۳- د افریقا د لویې وچې په لویې صحرا او منځنیو او جنوبي برخو کې کوم خلک اوسېږي او په څه نوم یادېږي؟
- ۴- ولې اروپایي خلکو افریقا ته مهاجرت وکړ؟ دهجرت موخه یې څه وه او د افریقا په کومو هېوادونو کې یې ژوند تېراوه؟

### له ټولګي څخه بهر فعالیت

- د افریقا د وګړو د قومي ترکیب نقشه ولولئ او لاندې پوښتنې په لیکلې بڼه ځواب کړئ:
- ۱- د افریقا په لویې وچې کې په عمومي ډول تور نژاده وګړي په کومې برخې کې اوسېږي؟
  - ۲- د همدې نقشې پر بنسټ د مصر، لیبیا او مراکش هېوادونو په (۲۰۰۵) میلادي کال کې څو میلیونو نفوس درلود؟

## د افریقا د دین او ژبې په هکله څه پوهېږئ؟



د افریقا د لویې وچې د اسلامي هېوادونو نقشه

- د افریقا په لویې وچې کې کوم دینونه زیات پیروان لري؟

**دین:** پورتنی نقشې ته وگورئ. د افریقا په لویې وچې کې بېلابېل دینونه، لکه: د اسلام مقدس دین، عیسویت او بودايي دین زیات پیروان لري چې په ټولو هېوادونو کې خواره واره اوسېږي. په عمومي توگه په دې لویې وچې کې (۲۳) هېوادونه د اسلام د مقدس دین پیروان دي او په نورو افریقایي هېوادونو کې هم په مختلفې سلفې مسلمانان ژوند کوي.

**ژبې:** د افریقا د لویې وچې نفوس د بېلابېلو ملیتونو څخه جوړ شوی چې په بېلابېلو ژبو او لهجو خبرې کوي او شمیر یې ۷۰۰ ژبو او ۳۰۰ لهجو ته رسېږي. څرنگه چې د افریقا زیاتره هېوادونه د اروپایي بنسټ لاندې وو، نو ځکه یې هماغه بنسټلارگره بهرنۍ ژبه خپله رسمي ژبه گرځولې وه. اوس چې دا هېوادونه خپلواک شوي هم دي بیایې هم هماغه بهرنۍ ژبې د رسمي ژبې په توگه پاتې دي چې ډېرې مهمې یې انګلیسي، اسپانوي، فرانسوي او پرتګالي ژبې دي. د افریقا په لویه وچه کې په ډول ډول ژبو خبرې کېږي، خو په عمومي توگه په دې لویه وچه کې څلور ډلې ژبې ډېر رواج لري:

- ۱- سامي ژبې چې په هغو کې سامي، عربي، قبلي او امهري ژبې شاملې دي.
- ۲- ساحلي یا سواحلي ژبې چې په هغو کې د بانتو ژبې او یو ډول نورې ژبې چې د سیمه ییزو ژبو د یو والي محصول دي او شمېر یې ډیر زیات دی، شاملېږي.



- ۳- سیمه ییزه ژبې چې شمېر یې ډیر زیات دی.
- ۴- اروپایي ژبې چې د هغو په سر کې فرانسوي او انگلیسي ژبې دي.
- د افریقایي هیوادونو رسمي ژبې کولای شو په لاندې جدول کې مطالعه کړو.

د افریقایي خلکو د ژبو جدول

افریقایي	سواحلي	پرتکالي	فرانسوي	انگلیسي	عربي	رسمي ژبې
سویلي افریقا	تانزانیا کینیا (او د اوگندا په یوه برخه کې)	انگولا (ګینه - بیسائو) کپ وردي (ساوتام او پرنسېي) موزمبیق	سینګال ګینه مالي د عاج ساحل بورکینا فاسو توګو بنین نایجریا چاد (د مرکزي افریقا جمهوریت) کانګو - کینشاسا (کانګو - برازاویل) روندا ګابون مدغاسکر	نایجریا ګامبیا ګانا سیرالیون لایبیریا اوگندا زامبیا مالاوی زمبابوې کینیا بوتسوانا نامیبیا سویلي افریقا	مصر سودان مراکش تونس الجزایر لیبیا موریتانیا (لویدیځه صحرا) ایرتیریا	د هیوادونو نوم

• همدارنګه نور هیوادونه هم شته چې نورې رسمي ژبې لري.

### د ټولګي فعالیت

زده کوونکي دې په ډلو وویشل شي، هره ډله دې د ژبو د یوې ډلې په هکله معلومات وړاندې کړي.

### پوښتنې

- ۱- مسلمانان زیاتره د افریقا په کومې برخې کې اوسېږي؟
- ۲- د افریقا په لویه وچه کې څو هیوادونه د اسلام د مقدس دین پیروي کوي؟
- ۳- ولې افریقایانو بهرنۍ ژبې د خپلې رسمي ژبو په توګه منلې دي؟
- ۴- اروپایي ژبې او محلي ژبې معرفي کړی.

### له ټولګي څخه بهر فعالیت

زده کوونکي دې د افریقا د لویې وچې نقشه په خپلو کتابچو کې رسمه کړي او د افریقا د خلکو د دینونو سیمې دې په هغې کې وښيي.



په كينيا کې د چای د پانورائولونه

د افریقا د لویې وچې د اقتصادي جغرافیې په هکله څه پوهیږئ؟

د افریقا په لویې وچې کې اقتصادي پراختیا او پرمختګ د نورو لویو وچو په پرتله وروسته یعنی د ۱۹ پېړۍ په لومړیو کې پېل شو او تر هغه دمخه ډیر ورو و. ددې لویې وچې اقتصادي بڼه هم مختلف رنگونه او ډولونه لري. لکه چې دلاسي صنایعو د ډېرې ساده او لومړۍ بڼې څخه تر ډیرو عصري فابریکو پورې کولای شو په هغې کې وینو یا د تیرانسپورت او توکو په وړلو کې د ډیرو ابتدایي اوساده لارو څخه چې نیغ په نیغه د انسانانو په وسیله ترسره کېږي، تر ډیرو عصري سمندري بندرونو، د اوسپنو کربنو، هوایي کربنو او پرمختللو هوایي ډګرونو پورې کولای شو وګورو. د افریقا لویه وچه د طبیعي منابعو له پلوه شتمنه ده. په دې لویه وچه کې د نفتو، سرو زرو، الماسو او مسو کانونه او ګڼ ځنګلونه شته. د افریقا اقتصاد او عایدات زیاتره پر کرنه او مالدارۍ ولاړ دي، په دې توګه د افریقا د اقتصاد مختلفې برخې په لاندې ډول مطالعه کوو:

### کرنه او مالداري

د نړۍ د دې لویې وچې کرنیز حاصلات زیاتره استوایي او د استوا لاندې نباتات تشکیلوي. لکه چې په



ختیځه افریقا کې د کونخلو او چای بوتی، د سوډان د سیمې په لوېدیځ او د ګینې په پورتنۍ برخه کې زیاتره تیلی نباتات، د افریقا په ختیځو ټاپوګانو کې ناربال، د ګینې په سواحلو او نژدې ټاپوګانو کې بې ککو، په لوېدیځه افریقا کې ممپلی په مصر، سوډان او تانزانیا کې پنبه، په لوېدیځه افریقا او څه ناڅه د دې ساحې په ټولو ټاپوګانو کې کپله او اناناس، په حبشې او کینیا کې قهوه او د مدیترانې د سمندرګي په سواحلو کې انځر، انگور او نورې میوې او ترکاری پیداکېږي. د افریقا د لویې وچې په شمال کې د مدیترانې د سمندرګي په سواحلو کې چې مدیترانه یې اقلیم لري، ژمی یې باراني او معتدل او اوږی یې وچ او تود دی، ځنګلونه هلته لږ او همپشه بهار ونې، لیمو، غنم، وربشې، جوار او انگور بڼه حاصل ورکوي. په سوېلي افریقا کې وابنه لرونکې دښتې په للمي توګه حاصل ورکوي چې له هغې جملې یې د پنبې او تنباکو حاصلات د یادونې وړ دي. د هغې په زیاترو سیمو کې لویا غوره کرنیز حاصلات ګڼل کیږي. سره له دې چې د افریقا اقلیم په عمومي توګه د حیواناتو د روزنې لپاره برابر نه دی او مالداري او د څارویو روزنه هم ډېره لږه ده، خو بیایې هم د پسونو او وزو روزنه تر یوې اندازې د یادولو وړ ده. د کبانو ښکار په ځانګړې ډول د اطلس سمندر د هېوادونو په سواحلو کې زیاتره رواج لري. هلته د ښکار وړ د کبانو بېلا بېل ډولونه، لکه: سارډین، تونیاک او مکریل دي.

استوایي سیمې د استوا د کرنې د ۵ او ۱۰ درجو شمالي او سوېلي عرض البلدونو ترمنځ تود او مرطوب اقلیم لري چې د هغه پر اساس په دې سیمه کې ګڼ ځنګلونه منځ ته راغلي دي.

### د ټولګي فعالیت

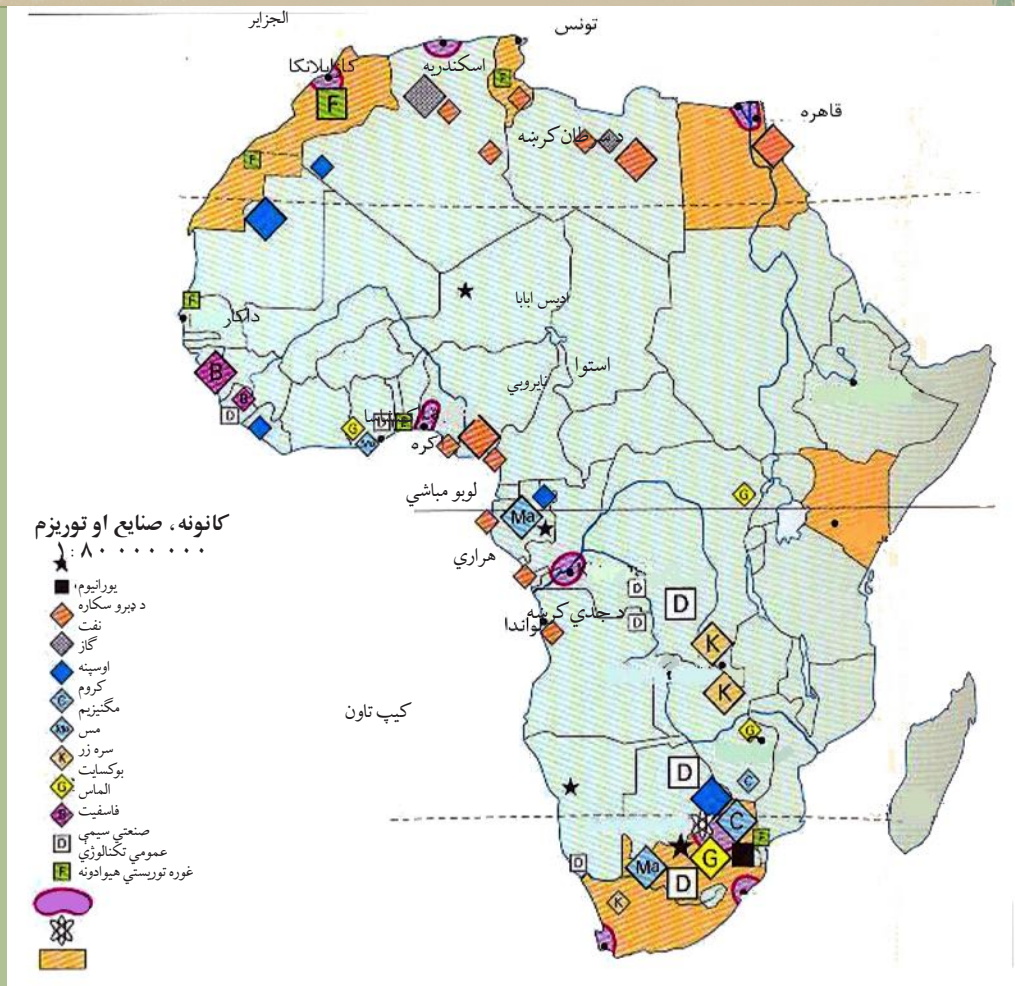
زده کوونکي دې په ډلو ووېشل شي، هره ډله دې د افریقا د لویې وچې د وروسته پاتې والي لامل، د افریقا اقتصادي حالت او د کرنې او مالداري په هکله بحث وکړي او پایلې دې نوروته وړاندې کړي.

### پوښتنې

- ۱- د افریقا د لویې وچې د اقتصادي حالت په هکله معلومات ورکړئ.
- ۲- په افریقا کې د مالدارۍ وده څه ډول ده؟
- ۳- په افریقا کې د حیواناتو او د ښکار وړ کبانو د ډولونو نومونه واخلي.

### له ټولګي څخه بهر فعالیت

د افریقا د لویې وچې د مدیترانه یې محصولاتو په هکله خپل معلومات ولیکئ. همدارنګه وویاست چې ایا افغانستان مدیترانه یې ډوله اقلیم لري؟ که یې لري، نو په کومه سیمه کې؟



د افریقا د کانونو، صنایعو او توریزم نقشه

پورتني نقشې ته وګورئ. د افریقا په کومو سیمو کې کوم کاني توکي او صنعتي محصولات شته ؟

د افریقا لویه وچه د طبیعي منابعو له پلوه شتمنه ده، خو له هغو څخه لږه ګټه اخیستل شوې ده. شمالي افریقا زیات نفت او ګاز لري او سوېلي افریقا د الماسو د زېرمو د درلودلو له پلوه په نړۍ کې لومړی مقام لري او د افریقا د عایداتو لویه منبع جوړوي.

الماس ډېر کلک او ډیر قیمتي طبیعي منرال دی چې په عمومي توګه په تور او ژېړ رنگ لیدل کیږي او ځینې یې په سپین، آبي او شین رنگ هم وي. نوموړی منرال له تورپلو (صیقل) څخه وروسته د بریلیانت (د تورپل شوي الماس) په نوم یادېږي. سره زر د سوېلي افریقا له مهمو کانونو څخه دي. همدارنګه هلته د ډبرو د سکرو، کرومو، مګنیزو او یورانیمو زېرمې هم شته. د زایر او زمبابوې هېوادونه د مسو ډېرې بڼې زېرمې لري. د اوسپنو کانونه په لایبریا او سوېلي افریقا کې شته. په عمومي توګه ویلای شو چې د افریقا لویه وچه د نړۍ په سلو کې ۸۰



الماس، ۴۰ سره زر، ۲۰ سپين زر، ۲۰ مس او ۱۴ قلعي توليدوي. همدارنگه کولای شو د ترانسوال مهمې سيمې نوم واخلو چې په هغې کې صنعتي کارخانې او لوی بناړونه ځای پر ځای شوي دي او زيات شمېر وگړو ته يې د استوگنې زمينه برابره کړې ده.

د افريقا منځنۍ برخې گڼ ځنگلونه او صحرايي سيمې زيات کانونه لري. چې لائر اوسه ورڅخه گټه نه ده اخیستل شوې. افريقايي هېوادونه کوبنې کوي چې دصنعتي توليداتو حجم لوړ کړي. ځينې هېوادونه د برېښنا او کرنيزو بندونو په جوړولو بوخت دي، د بېلگې په توگه په مصر کې د نیل د سیند دپاسه د اسوان بند او د زمبيا او زمبابوې د هېوادونو ترمنځ د زامبزي د سیند دپاسه د ولتا بند د یادونې وړ دی. د افريقا د لویې وچې زياتره کاني (معدني) او کرنيز محصولات بهرته صادريږي. د نړۍ د نورو هېوادونو د صنعتي مرکزونو او کارخانو اومه مواد هم په افريقا کې توليديږي، ځکه چې په خپله په افريقا کې صنعت دومره پرمختگ نه دی کړی. همدارنگه په افريقا کې د گرځندوی (توريزم) له صنايعو څخه هم عايدات تر لاسه کيږي. د مصر اهرام او د نورو پخوانيو هېوادونو لرغوني آثار، د افريقا شمال د مدیترانې د سمندرگي پر غاړه ښکلي سواحل، د خلکو دودونه او دستورونه او هم کوم ملي مشهور پارکونه چې په افريقا کې شته د توريزم او نړۍ گرځېدنې ارزښت لري. او د دې لامل کېږي چې خلک له هغو څخه ليدنه وکړي چې طبعاً د اړوندو هېوادونو او سيمو په اقتصاد کې رول لوبوي.

## د ټولگي فعاليت

زده کوونکي دې په ډلو ووېشل شي، هره ډله دې د افريقا د لویې وچې د طبيعي زېرمو او سرچينو په هکله بحث وکړي او دخپل بحث پایلې دې نوروته وړاندې کړي.

## پوښتنې

- ۱- د افريقا د برېښنا بندونه د کومو سيندونو دپاسه جوړ شوي دي؟
- ۲- شمالي او سوېلي افريقا د طبيعي منابعو له پلوه سره پرتله کړئ.
- ۳- په افريقا کې د هغو هېوادونو نومونه واخلئ چې په هغو کې ډېر مس پيدا کيږي.
- ۴- د اوسپنې کانونه زياتره دافريقا په کومو سيمو کې شته دي؟
- ۵- د هغو کانونو نومونه واخلئ چې دافريقا په لويه وچه کې پيدا کيږي.

## له ټولگي څخه بهر فعاليت

د افريقا د کانونو، صنايعو او توريزم نقشه مطالعه کړئ، لاندېنيو پوښتنو ته ځواب ورکړئ:

- ۱- يورانيم دافريقا په کومو هېوادونو کې شته د هغو نومونه ووايست؟
- ۲- نفت په عمومي توگه دافريقا په کومو برخو کې موندل کيږي؟
- ۳- د افريقا د صنعتي سيمو نومونه واخلئ.



په لاگوس ڪي ترانسپورٽ

د افريقا د لويي وچي د مواصلاتو او د هغو د راتلونڪي پرمختگ په هڪله څه پوهيږئ؟

په افريقا ڪي مواصلات لرغونې مخينه لري او په مختلفو ډولونو ترسره كيدل. اوس يې تريوې اندازې په بڼه او معاصره توگه پرمختيا كړې ده. په دې لويې وچي ڪي د استوايي گڼوځنگلونو، صحرايي تندو بادونو، باتلاقونو او صحراگانو شتوالي خنډونه منځته راوړي دي. د توکو وړل او راوړل د وچي له لارې او په سواحلو ڪي د بېړيو په وسيله سرته رسيري.

د افريقا له لوېديځ څخه ختيځ ته لومړني تگ او راتگ په ۱۸۷۷ م كال ڪي د هري موټن سټيلي (*Harry mouton Stanly*) په وسيلې ترسره شوي چې په دريو كلونو ڪي بشپړ شو. په دغو زياترو برخو ڪي مواصلات او وړل او راوړل په ابتدايي توگه او معمولا د اوبنانو، خرو او په سختو او پيچلو لارو ڪي د انسانانو په وسيلې سرته رسيري. داوسپنو د كرنبو جوړونه دشلمې پېړۍ له لومړيو څخه په ځانگړي ډول له لومړۍ نړيوالې جگړې څخه وروسته ډېره ورو پرمخ تللې، نوځكه په وړلو او راوړلو ڪي زياتره له سړكونو څخه كاراخيستل كيږي. په افريقا ڪي داوسپنو د كرنبو ټول اوږدوالي ۷۰ زرو كيلومترو ته رسېدلي او ډېره اوږده كرنبه يې د ۸۰۰۰ كيلومترو په اوږدوالي قاهره له كپتان سره په جنوبي افريقا ڪي نښلوي. د اوسپنو كرنبو په افريقايي نورو هېوادونو لكه: مراکش، الجزاير، تونس او مصر ڪي پراختيا كړې ده.



سربره پردې ددې لوبې وچې د زياترو هېوادونو پلازمېنې، مرکزونه او مشهور ښارونه په عصري هوايي ډگرونو سمبال دي چې له دې لارې څخه د پرمختللو صنعتي هېوادونو او د نړۍ له نورو هېوادونو سره اړيکې ټينگوي.

د قاهرې په ښارکي د ترانسپورت بهير



### د ټولگي فعاليت

زده کوونکي دې په دوو ډلو ووېشل شي، لومړنۍ ډله دې د افريقا د مواصلاتو پر ابتدايي بڼو او دويمه ډله دې د افريقا د مواصلاتو په پرمختللي بڼې بحث وکړي او د بحث پايلې دې نوروته وړاندې کړي.

### پوښتني

- ۱- د اوسپنو کرښو د شمالي افريقا په کومو هېوادونو کې پراختيا موندلې ده؟
- ۲- د ورلو او راورلو د ابتدايي بڼې په هکله معلومات ورکړئ.

### له ټولگي څخه بهر فعاليت

د افريقا د مواصلاتي لارو د ستونزو او خنډونو په هکله معلومات ورکړئ.



## د اوبو له لارې وړل او راوړل (حمل او نقل)



دوربان د سویلی افریقا مهم سمندری بندر

ستاسو له نظره افریقا د کومو آبنوو او کانالونو له لارې له سمندرونو سره نښلول شوې ده؟

د افریقا د سیندونو او سمندرونو له لارې وړل او راوړل د اهمیت وړ دي او د اوبو مهمې لارې (طبیعی او مصنوعي) چې په افریقا کې د دوو سمندرګیو یا سمندرونو ترمنځ لارې جوړوي، په لاندې ډول دي:

د سویز کانال (د مدیترانې د سمندرګي او سره سمندرګي ترمنځ چې د جوړښت کاري په ۱۸۵۶ م کال کې پیل او په ۱۸۶۹ م کال کې بشپړ شو)، د باب المندب آبناء (د سره سمندرګي او عدن خلیج ترمنځ)، د موزمبیق کانال (د مدغاسکر په لویډیځ کې د هند سمندر د دوو برخو ترمنځ) او د جبل الطارق آبناء (د مدیترانې د سمندرګي او اطلس سمندر ترمنځ). ددې لارو څخه یوازې د سویز کانال مصنوعي او نورې ټولې طبیعي دي. د افریقا په لویې وچې کې د خنډونو او ستونزو سره سره او دځمکنی جوړښت د نا برابرتیا، داستوا او کانګو په سیمو کې د ځنګلونو د شته والي او د استوایي او صحرايي سوځوونکي تاوده اقلیم له امله چې د افریقا زیاتره سیمې شارپې پاتې دي، خو بیا هم د مالونو په وړلو او راوړلو کې آسانتیاوې منځته راغلې دي.

ډېره مهمه سمندري لار د کانګو د سیند په حوزه کې موقعیت لري چې تقریباً د ۱۵۰۰ کیلومترو په اوږدوالي د گټې اخیستنې وړ ده. د اوبو د راټولیدونکې حوزه په استوایي سیمو کې پرته ده چې ټول کال ډېرې اوبه او زیات باران لري. د نیل سیند د اسوان تر بند پورې د سمندري بېړیو د گټې اخیستنې وړ دی. له دې سیند څخه د مصر او سوډان دواړه هېوادونه د حمل او نقل لپاره گټه اخلي. همدارنګه د نایجیر، سنیګال او



لاگوس د نایجریا پایتخت او سمندري بندر



زامبزي په سیندونو کې هم دکال په ځینو وختونو کې چې اوبه یې ډېرې وي بهرې چلول کیږي. ستاسې په نظر د سویز کانال کوم سمندرګي (بحیرې) سره نښلوي؟

نن سبا د سمندري بهرنو په وسیلې وړل او راوړل زیاتره د مدیترانې په بندرونو او د سوېلي افریقا په بندرونو کې ترسره کېږي چې له هغو څخه د سوېلي امریکا او استرالیا د بازارونو په لور سوداګریز مالونه وړل کېږي. همدارنګه سویز کانال چې د اروپا اړیکې یې د ختیځې او سوېل ختیځې افریقا سره ټینګې کړي دي د ځانګړې اقتصادي ارزښت لرونکی دی.

### د ټولګي فعالیت

د افریقا نقشې ته په پاملرنې سره که وغواړو د بهرې په وسیله د عدن له خلیج څخه د مراکش د هیواد ساحلي ښار یعنې کازابلانکا ته سفر وکړو له کومو آبنګانو او کانالونو څخه تېرېږو؟

### پوښنې

- ۱- د افریقا د شمال ختیځ کوم کانال د زیات ارزښت لرونکی دی؟
- ۲- د جبل الطارق آبنګوم سمندر او سمندرګي سره نښلوي؟
- ۳- د افریقا د لویې وچې پخواني مواصلات د هغې د وروستیو پرمختګونو سره پرتله کړئ.

### له ټولګي څخه بهر فعالیت

یو کتاب، مجله یا اخبار چې د افریقا د لویې وچې په هکله معلومات ولري مطالعه کړئ او د کتاب نوم د خپرېدو کال او نورې ځانګړتیاوې یې ولیکئ او د مضمون استاد ته یې ورکړئ.

- که چيرې شمالي او سوېلي امريکا د بېلو لويو وچو په توگه په نظر کې ونيسو، افريقا له آسيا څخه وروسته د نړۍ ډېره پراخه وچه ده. خو که چيرې ټوله امريکا د يوې لويې وچې په توگه په نظر کې ونيول شي، نو په دې صورت کې افريقا له آسيا او امريکا څخه وروسته د نړۍ دريمه لويه وچه شمېرل کېږي.
- افريقا له ۳۰ ميليونه كيلومتره مربع څخه په زيات پراخوالي سره (د اړوندو ټاپوگانو په گډون) د نړۍ د مساحت په سلو کې ۲۰،۳ په برکې نيسي چې په هغې کې له ۸۰۰ ميليونو تنو څخه زيات وگړي اوسېږي. ډېره شمالي نقطه يې سپينه دماغه (Cape Blanc) او د بن دماغه (Cape Bon) په تونس کې د شمالي عرض البلد د ۳۷ درجو او ۲۰ دقيقو د پاسه او ډېره سوېلي نقطه يې د اگولهاس دماغه (Cape Agulhas) په سوېلي افريقا کې د جنوبي عرض البلد په ۳۴ درجو او ۴۰ دقيقو د پاسه پرته ده.
- ختيځه نقطه يې د گاردافوي دماغه (Cape Guardafui) په سوماليه کې د ختيځ طول البلد پر ۵۲ درجو او ډېره لوېديځه نقطه يې شنه دماغه (Cape Verde) د سنيگال په گاونډيتوب کې ده چې د لوېديځ طول البلد پر (۱۷) درجو باندې پرته ده.
- افريقا په استوايي سيمې کې ډېره پراخه ساحه راجاېږه کړې ده چې ۲ برخه يې د استوا د کرښې په شمال کې او ۱/۳ برخه يې د استوا په جنوب کې پرته ده.
- دا لويه وچه لکه څرنګه چې د هغې له نوم څخه څرګندېږي يوه حاره وي لويه وچه ده او داستوا کرښه دهغې له منځ څخه داسې تېرېږي چې شمالي او سوېلي برخې يې تقريبا په يو ډول واټن کې پرتې دي.
- د افريقا په لوېديځ کې د اېلاتيک سمندر او په ختيځ کې يې د هند سمندر موقعيت لري. په شمال کې د مديترانې د سمندرګي په وسيله د اروپا له لويې وچې څخه او په شمال ختيځ کې د سوز کانال او د سره سمندرګي په وسيله له آسيا څخه بېله شوې ده.
- د افريقا وچه کولای شو په لوېديځې، ختيځې، مرکزي، سوېلي او شمالي افريقا ووېشو.
- افريقا د غرونو، صحراگانو او هوارو سيمو لرونکې ده چې ډېر مشهور يې په شمال لوېديځه څنډه کې داطلس غرونه، په تانزانيا کې د کيليمانجارو (Kilimanjaro) ځوان غرونه، دالجزاير په سوېل ختيځ کې د اهاګر (Ahaggar) زاړه غرونه، د چاد په شمال لوېديځ کې د تېستي (Tibesti) غرونه او همدارنګه د حبشې لوړې سطحې د يادونې وړ دي.
- په افريقا کې ژورې او لږې لوړې سيمې کمې دي. ددې سيمو ځينې جبه زار او د روغتيا لپاره د نامناسبه اقليم لرونکې دي چې په استوايي سيمو کې پرتې دي او په نورو سيمو کې يې وچې او سوځونکې دښتې هم شته دي.
- د افريقا صحرا چې د نړۍ لويه صحرا ده، څه ناڅه دافريقا د لويې وچې ۱ برخه کې يې پراختيا موندلې ده. په تېرو کلونو کې د وچکالۍ له امله نوره هم پراخه شوې ده.
- د افريقا په لويه وچه کې ډېر سيندونه شته چې ډېر مشهور يې د نيل او کانګو سيندونه دي. د نيل سيند د مصر د لرغوني مدنيت د منځته راتلو سبب شوی او اوس هم د کرنيزو سيمو په خړو بولو کې ځانګړی ارزښت لري.
- افريقا دهغه موقعيت له امله چې د ځمکې د کرې پر مخ يې غوره کړې له آسټراليا څخه وروسته د نړۍ ډېره توده لويه وچه شمېرل کېږي.
- د افريقا لويې وچې استوايي برخې زيات اورښت لري خو د شمال او جنوب لورته اورښت کمېږي.
- په افريقا کې ۵۵ خپلواکه هېوادونه شته چې په هغو کې مختلف قومونه له بېلابېلو کلتورونو سره ليدل کېږي. په شمالي افريقا کې اسلامي کلتور حاکم دی. په داسې حال کې چې په نورو سيمو کې نور کلتورونه ليدل کېږي.
- د افريقا زياتره خلک په کلو کې استوګنه کوي چې په کرڼه او مالدارۍ بوخت دي.
- سره له دې چې په افريقا کې اقتصادي شرايط د بنکيلاک (استعمار) له منځه تللو وروسته مخ په ښه کيدو دی خو تر اوسه هم نفوس او انساني توليدي قواو په پوره اندازه په ټولو ځايونو کې يو ډول پراختيا نه ده موندلې.
- په افريقا کې زياتې کورنۍ جګړې او وچکالي د کورنيو له پولو څخه د بهر مهاجرتونو سبب کېږي. همدارنګه د افريقا زيات شمېر خلک د بې وزلۍ او لوړې څخه رنځېږي او د ژوند سطحه يې ټيټه ده.
- د افريقا لوی ښارونه لاګوس (Lagos) په نايجريا کې (د ۹ ميليونو وگړو په درلودلو سره)، کينشاسا (Kinshasa) د کانګو په جمهوريت کې (د ۸،۴ ميليونو وگړو په درلودلو سره) او قاهره په مصر کې (د ۷،۹ ميليونو وگړو په درلودلو سره) دي.
- په افريقا کې مهمې رسمي ژبې: عربي، انگليسي، فرانسوي، پرتګالي، افريقايي، سواحلي او نورې دي.



## د افریقا د خپلواکو هېوادونو د ځینو جغرافیایي ځانګړنو جدول

ګڼه	هېوادونه	عموميات					په بېلا بېلو سکټورونو کې د بوختو وګړو فیصلي (۲۰۰۱ کال)	
		مرکز	مساحت په کیلومتر مربع	د وګړو شمېر په ۲۰۰۶ کال کې	د وګړو ګټوالی په یو کیلو متر مربع کې	کرڼه		صنعت
۱	آنگولا	لواندا	۱,۲۴۶,۷۰۰	۱۲,۱۲۷,۰۷۱	۱۰	۷۴,۷	۸,۴	۱۶,۹
۲	ایتویا	آدیس ابابا	۱,۱۰۴,۳۰۰	۷۴,۷۷۷,۹۸۱	۶۸	۸۶,۰	۲,۰	۱۲,۰
۳	ارتریا	اسمره	۱۱۷,۶۰۰	۵,۰۲۸,۴۲۷	۴۲,۸	---	---	---
۴	جنوبي افریقا	پرتوریا	۱,۲۲۱,۰۳۷	۴۴,۱۸۷,۶۳۷	۳۶	۱۳,۷	۳۱,۸	۵۴,۵
۵	مرکزي افریقا	بانګی	۶۲۳,۰۰۰	۴,۳۰۳,۳۵۶	۷	۸۰,۵	۳,۰	۱۶,۵
۶	الجزیره	الجزیره	۲,۳۸۱,۷۴۱	۳۲,۹۳۰,۰۹۱	۱۴	۲۸,۳	۲۹,۸	۴۱,۹
۷	یوګاندا	کمپالا	۲۴۱,۰۳۸	۲۸,۱۹۵,۷۵۴	۱۱۷	۸۴,۳	۴,۶	۱۱,۱
۸	بینین	پرتونو	۱۱۲,۶۲۲	۷,۸۶۲,۹۴۴	۷۰	۶۳,۴	۸,۱	۲۸,۵
۹	بوتسوانا	ګابرون	۵۸۱,۷۳۰	۱,۶۳۹,۸۳۳	۳	۴۶,۳	۲۰,۴	۳۳,۳
۱۰	بورکینافاسو	اوګادوګو	۲۷۴,۰۰۰	۱۳,۹۰۲,۹۷۲	۵۱	۹۲,۴	۲,۰	۵,۶
۱۱	بوروندي	بوجومبورا	۲۷,۸۳۴	۸,۰۹۰,۰۶۸	۲۹۱	۹۱,۹	۲,۵	۵,۶
۱۲	ناترانیا	دارالسلام	۸۸۳,۷۴۹	۳۷,۴۴۵,۳۹۲	۴۲	۸۴,۴	۵	۱۰,۶
۱۳	توګو	لومه	۵۶,۷۸۵	۵,۵۴۸,۷۰۲	۹۸	۶۵,۶	۱۰,۰	۲۴,۴
۱۴	تونس	تونس	۱۶۳,۶۱۰	۱۰,۱۷۵,۰۱۴	۶۲	۲۸,۹	۳۲,۷	۳۸,۴
۱۵	جیبوتي	جیبوتي	۲۳,۲۰۰	۵,۰۶۲,۲۲۱	۲۱,۸	---	---	---
۱۶	چاد	انجامنا	۱,۲۸۴,۰۰۰	۹,۹۴۴,۲۰۱	۸	۸۳,۲	۴,۳	۱۲,۵
۱۷	رواندا	کیګالی	۲۶,۳۳۸	۸,۶۴۸,۲۴۸	۳۲۸	۹۱,۹	۳,۶	۴,۵
۱۸	زمبیا	لوساکا	۷۵۲,۶۱۸	۱۱,۵۰۲,۰۱۰	۱۵	۷۴,۸	۸,۵	۱۶,۸
۱۹	زیمبابوی	هراری	۳۹۰,۷۵۷	۱۲,۲۳۶,۸۰۵	۳۱	۶۸,۲	۸,۱	۲۳,۷
۲۰	سائوتومه او پرنسپ	سائوتومه	۹۶۴	۲۰۶,۱۷۸	۲۱۳,۹	---	---	---
۲۱	عاج ساحل	ياموسوکرو	۳۲۲,۴۶۳	۱۷,۶۵۴,۸۴۳	۵۵	۶۰,۰	۱۰,۰	۳۰,۰
۲۲	سنيګال	داکار	۱۹۶,۷۲۲	۱۱,۹۸۷,۱۲۱	۶۱	۷۶,۸	۷,۴	۱۵,۸
۲۳	سوازېلند	امبابان	۱۷,۳۶۴	۱,۱۲۸,۸۱۴	۶۵	---	---	---
۲۴	سودان	خرطوم	۲,۵۰۵,۸۱۳	۴۱,۲۳۶,۳۷۸	۱۶	۶۹,۸	۸,۶	۲۱,۶
۲۵	سوماليا	موګادیشو	۶۳۷,۶۵۷	۸,۸۶۳,۳۳۸	۱۴	۶۸,۰	۱۲,۰	۲۰,۰
۲۶	سیراليون	فری تاون	۷۱,۷۴۰	۶,۰۰۵,۲۵۰	۸۴	۶۷,۷	۱۵,۴	۱۶,۹
۲۷	سیشل	ویکتوریا	۴۵۵	۸۲,۲۴۷	۱۸۰,۸	---	---	---

۱- سودان په دوو برخو وېشل شوی دی، خو ملګرو ملتونه د هغې مستند نقشه نه دی ورکړې.

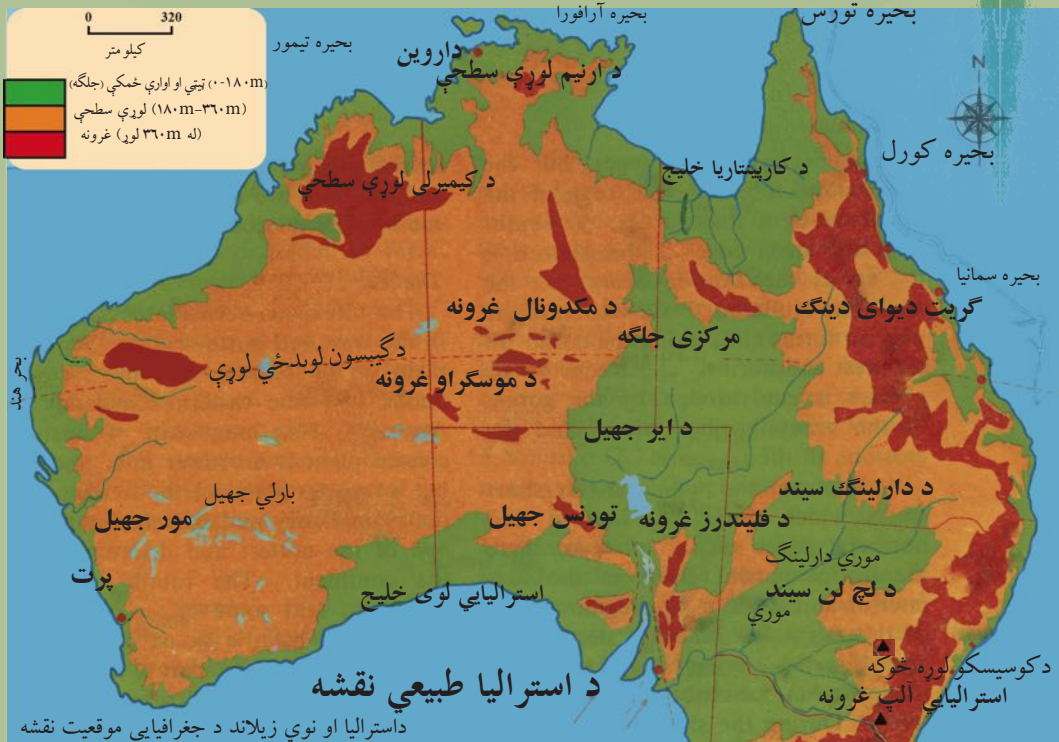
په بېلا بېلو سکتورونو کې د بوختو وگړو فیصدي (۲۰۰۱ کال)			عمومیات				هېوادونه	گڼه
خدمتونه	صنعت	کرنه	د وگړو گڼوالی په یو کیلو متر مربع کې	د وگړو شمېر په ۲۰۰۶ کال کې	مساحت په کیلو متر مربع	مرکز		
--	--	--	۱.۵	۳۹۳,۸۳۱	۲۶۶,۰۰۰	العین	لویځه صحرا	۲۸
۲۷.۶	۱۳.۰	۵۹.۴	۹۴	۲۲,۴۰۹,۵۱۷	۲۳۸,۵۳۳	اکرا	گانا	۲۹
۱۲.۵	۸.۶	۶۹.۹	۳۶	۱۷,۳۴۰,۷۰۲	۴۷۵,۴۴۲	یانونده	کامرون	۳۰
۳۶.۶	۱۴.۸	۴۸.۶	۱۱	۳,۷۰۲,۳۱۴	۳۴۲,۰۰۰	برزاویل	کانگو برزاویل	۳۱
۱۸.۵	۱۳.۵	۶۸.۰	۲۷	۶۲,۶۶۰,۵۵۱	۲,۳۴۴,۸۵۸	کینشاسا	کانگو کینشاسا	۳۲
۱۳.۴	۷.۰	۷۹.۶	۶۰	۳۴,۷۰۷,۸۱۷	۵۸۰,۳۶۷	نایروبی	کینیا	۳۳
--	--	--	۳۲۷.۴	۷۳۱,۷۵۵	۲,۲۳۵	مورونی	کومورن	۳۴
--	--	--	۱۰۵.۹	۴۲۶,۹۹۸	۴۰,۳۳	پرایا	کپ ورد	۳۵
۴۲.۱	۱۵.۱	۵۱.۸	۵	۱,۴۲۴,۹۶۰	۲۶۷,۶۶۸	لیرویل	گابون	۳۶
۹.۹	۸.۰	۸۲.۱	۱۴۵	۱,۶۶۱,۵۶۴	۱۱,۲۹۵	بانجول	گامبیا	۳۷
۱۰.۸	۲.۱	۸۷.۲	۳۹	۹,۶۹۰,۲۲۲	۲۴۵,۸۵۷	کوناکری	گینه	۳۸
--	--	--	۲۲	۶۱۶,۴۵۹	۲۸,۰۵۱	مالابو	استوایی گینه	۳۹
--	--	--	۴۱.۶	۱,۵۰۳,۱۸۲	۳۶,۱۲۵	بیساو	بیساو گینه	۴۰
--	--	--	۷۰.۱	۲,۱۲۸,۱۸۰	۳۰,۳۵۵	ماسرو	لسوتو	۴۱
--	--	--	۲۹.۹	۳,۳۳۴,۵۸۷	۱۱۱,۳۶۹	مونرویا	لایریا	۴۲
۶۶.۳	۲۲.۱	۱۱.۶	۳	۵,۹۰۰,۷۵۴	۱,۷۵۹,۵۴۰	تریپولی	لیبیا	۴۳
۱۵.۱	۶.۹	۷۸.۰	۳۲	۱۸,۵۹۵,۴۶۹	۵۸۷,۰۴۱	تناناریوو	مدغاسکر	۴۴
۸.۱	۵.۱	۸۶.۸	۱۱۰	۱۳۰,۱۲,۹۲۶	۱۱۸,۴۸۴	لیلونگوه	مالاوی	۴۵
۱۲.۲	۲.۰	۸۵.۸	۹	۱۱,۷۱۶,۸۲۹	۱,۲۴۰,۱۹۲	باماکو	مالی	۴۶
۴۰	۳۰	۳۰	۷۹	۷۸,۸۸۷,۰۰۷	۱,۰۰۱,۴۴۹	قاهره	مصر	۴۷
۵۹.۲	۳۴.۸	۶.۰	۷۴	۳۳,۲۴۱,۲۵۹	۴۴۶,۵۵۰	رباط	المغرب (مراکش)	۴۸
۳۴.۲	۱۰.۷	۵۵.۱	۳	۳,۱۷۷,۳۷۸	۱,۰۲۵,۵۲۰	نواکشوت	موریتانیا	۴۹
--	--	--	۶۲۴.۶	۱,۰۲۷۴,۱۸۹	۲,۰۴۰	پورت لويس	موریشیث	۵۰
۹.۲	۸.۲	۸۲.۶	۲۵	۱۹,۶۸۶,۵۰۵	۸۰۱,۵۹۰	ماپوتو	موزمبیق	۵۱
۳۵.۰	۱۵.۷	۴۹.۳	۲	۲,۰۴۴,۱۴۷	۸۲۴,۲۹۲	ویندهوک	نامیبیا	۵۲
۶.۴	۳.۸	۸۹.۸	۱۰	۱۲,۵۲۵,۰۹۴	۱,۲۶۷,۰۰۰	نیامی	نایجر	۵۳
۴۹.۸	۶.۸	۴۳.۴	۱۴۳	۱۳۱,۸۵۹,۷۳۱	۹۲۳,۷۶۸	آبوجا	نایجریا	۵۴
							جنوبی سودان	۵۵

منبع:

Wolters- Noordhoff, WN Atlas Productions, Groningen, the 2007 Netherlands







آسټراليا د ځمکې د کرې په کومې برخې کې موقعيت لري؟

### څلور خواوې

د آسټراليا لويه وچه چې د ځينو په نظريو لوی ټاپو دی، زیاته برخه (کابو  $\frac{3}{4}$ ) یې دښته ده. آسټراليا د ۱۲ او ۴۳ درجو جنوبي عرض البلدونو ترمنځ او د ۱۱۵ او ۱۵۴ ختیځو طول البلدونو ترمنځ موقعيت لري. د آسټراليا په شمال کې د تیمور سمندرګي (Timor Sea)، د ارافورا سمندرګي (Arafura Sea)، د کارپنتاريا خليج (Gulf of Carpentaria)، او د تورس آبنا (Str. Torres) موقعيت لري. په ختيځ کې یې د کورل سمندرګي (Coral Sea) او د تسمانيا سمندرګي (Tasmania Sea) او د آسټراليا په سوېل کې د باس آبنا (Str. Bass) او د آسټراليا خليج پراته دي. د هند سمندر د آسټراليا په سوېل او لوېديځ کې پروت دی. د آسټراليا ټوله ساحلي کرښه ۲۵،۷۶۰ کیلومترو ته رسېږي.

### د آسټراليا کشف

کابو پنځوس زره کاله د مخه لومړني خلک آسټراليا ته ورغلل. انګریزانو هغوی له (۱۷۸۹) کال څخه د ابورجینالس (Aboriginals) په نامه یاد کړي دي چې دا یوه لاتیني اصطلاح ده او د اصلي یا بومي



اوسېدونکو لپاره کارول کېږي. دا خلک له سوېل ختيځې آسيا څخه راغلي وو. پنځوس زره کاله مخکې د خاورينو پلونو په وسيله چې د آسيا او استراليا په منځ کې وو، له همدې پلونو اولارو څخه خلکو او خاړويو کولای شول له آسيا څخه استراليا ته لاړ شي. دا يوه څلويښت زره کلنه پروسه وه. وروسته چې د ځمکې کره توده شوه او کنگلونو په ويلې کېدو پيل وکړ، د سمندر د اوبو سطحه جگه شوه او په دې توگه استراليا د يوه ټاپو بڼه غوره کړه. په ۱۵۰ م کال کې د لومړي ځل لپاره يونانيانو د استراليا په باره کې ليکنې وکړې. هغوی دا وچه د تيرا استرالیس (Terra Australis) او يا سوېلي غاړو په نامه ياده کړه. خلک د هغې زيات مينه وال شول او ددې نابلدې سيمې په لټه کې شول.

په شپاړسمه او اووه لسمه پېړۍ کې پرتگاليان، هسپانويان او هالنډيان له آسيا سره د سوداگرۍ علاقمند وو. د هغه وخت د سمندري زياتو مسافرتونو او کشفیاتو په اساس ووچې استراليا هم د اروپايانو له خوا کشف شوه. په ۱۶۰۶ م کال کې د هالنډيانو لومړنۍ بېړۍ د کارپنتاريا د خليج (Gulf of Carpentaria) پر غاړه د استراليا په شمال کې نوې گيني (New Guinea) ته مخامخ ودرېده. ددې بېړۍ کپتان وليم جانسن (Willem Janszoon) بېرته جاوا (Java) ته وگرځېد. په ۱۶۱۶ م کال يوه بله هالنډي بېړۍ د شارک (Shark) خليج ته د استراليا په لويديځ کې ورسېده. په وروستۍ يوه نيمه پېړۍ کې هالنډي، فرانسوي او انگليسي بېلابېلو خلکو استراليا ته چې په هغه وخت کې د نوې هالنډ (New Holland) په نامه يادېده، مسافرت وکړ، خو په هغه وخت کې د استراليا د زياتې پېژندنې اویا مستعمره کولو احساس نه و. لومړنی برتانوی چې استراليا ته ورسېد د يوې بېړۍ کپتان و د وليم دامپير (William Dampier) په نامه چې په ۱۶۸۸ م کال استراليا ته ورسېد.

اېل تاسمان (۱۶۴۲ ميلادي) هالنډی سمندرگر ځيدونکی او د استراليا د لويې وچې يو کاشف






په ۱۷۷۰ م کال جیمز کوک انګلیسي لومړنی اروپایي و چې د آسترالیا ختیځو غاړو او سواحلوته ورسېد او د بوتاني Botany دخليج (اوسنی سدني Sydney) له لارې پر ختیځو غاړو تېرشو او هغه یې د نوي سوېلي وېلز (New South Wales) په نامه یادې کړې.

د ۱۸۰۰ م کلونو په پیل کې سدني پر یوه سوداګریز مرکز د بدلیدلو په حال کې و. همدارنگه داسترالیا د نورو برخو د کشف لپاره هڅې روانې وې.

د ۱۸۹۰ م کال په شاوخوا کې دا نظر چې بېلابېلې مستعمرې پر یوه لوی فدرالي هېواد باندې بدلې شي، منځ ته راغی چې په پای کې د ۱۹۰۱ م کال د جنوري په لومړۍ نېټه په آسترالیا کې ایالتي سیستم را منځ ته شو او په حقیقت کې له انګلستان څخه د آسترالیا د خپلواکۍ ورځ ده.


د بادبان لرونکي کښتۍ انځور





خو تر ډېره وخته پورې آستراليا په يوه ډول د انگلستان د مستعمرې په توگه پاتې شوه چې ورو ورو يې د يوه خپلواک هېواد په توگه ځای ونيو.

جيمز کوک (۱۷۷۰ م) انگليسي کپتان او د آستراليا د لويې وچې يو کاشف څخه



### د ټولگي فعاليت

زده کوونکي دې په دوو ډلو ووېشل شي، لومړۍ ډله دې د آستراليا جغرافيايي موقعيت د نقشې پرمخ تشبېت او وېنېي. دويمه ډله دې د هغو هېوادونو او اشخاصو نومونه چې د آستراليا په کشف او موندنه کې يې ونډه درلوده، وليکي او نوروته دې يې بيان کړي.

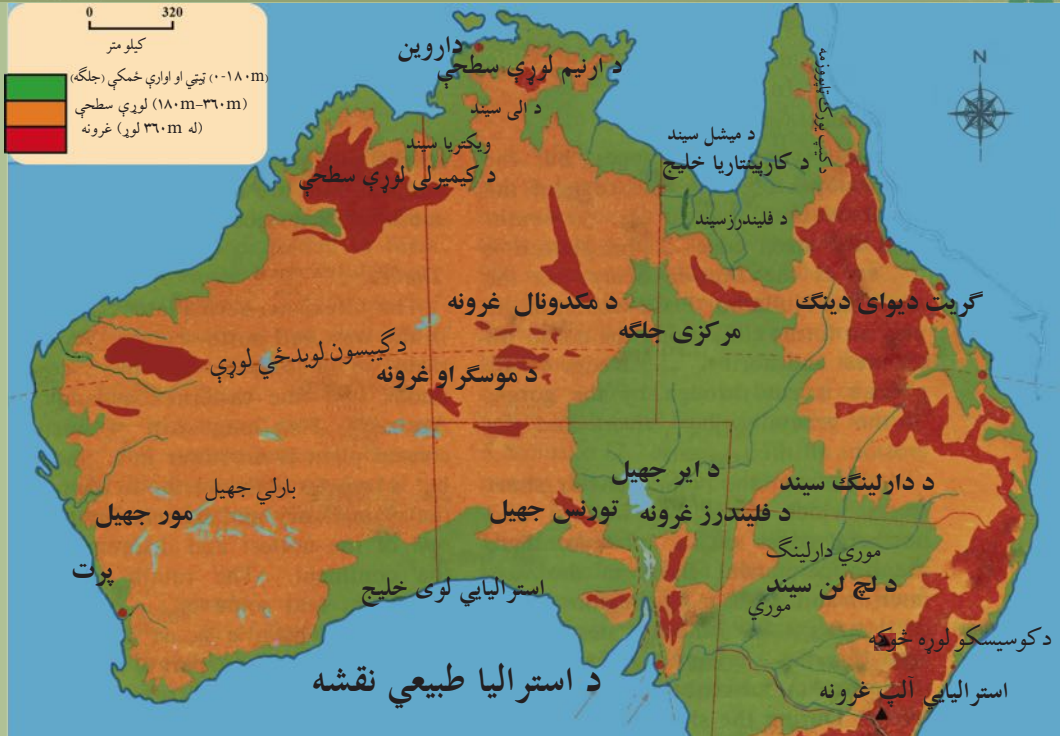
### پوښتنې

لاندې سمې او ناسمې جملې وپېژنئ؟

- ۱- آستراليا يولوی ټاپو دی.
- ۲- آستراليا دهند سمندر په ختيځ کې پرته ده.
- ۳- د آستراليا کشف د زياتو مسافرتونو او سمندري کشفياتو پايله وه، چې د اروپايانو په وسيله ترسره شول.
- ۴- آستراليا خپله خپلواکي په ۱۹۰۱ م کال له انگلستان څخه ترلاسه کړه.

### له ټولگي څخه بهر فعاليت

د انټرنټ يا کتابتون څخه د گټې اخيستنې په اساس د سمندري کشفياتو او د آستراليا د کشف په باره



د آستریا طبیعی حالت خرنکه دي؟

آستریا د نړۍ ډیره کوچنی لویه وچه ده چې له ټولو ټاپوگانو سره په مجموعي توګه په سوېلي نیمه کره کې موقعیت لري. د آستریا هېواد له جغرافیایي نظره کولای شو په څلورو بېلابېلو سیمو ووېشو:

- ۱- منځنۍ دښتې، چې نسبتاً دځمکې لاندې زیاتې اوبه لري.
  - ۲- لویدیځې لوړې (فلات) چې ډېر یې بیابانونه او دښتې دي.
  - ۳- ختیځه ساحلي ښېرازه برخه چې په حقیقت کې د گريت دیوای دینګ د غرونو ختیځه لمن (د اوبو لویه زېرمه) ده.
  - ۴- ختیځ غرونه یا لوړې چې په (گريت دیوای دینګ) مشهور دي.
- د آستریا طبیعی جغرافیه په څو بېلو بېلو برخو کې په لاندې ډول مطالعه کوو:

### غرونه

- د آستریا زیاتره غرونه په کومو برخو کې پراته دي؟

د آستریا په ختیځ کې د گريت دیوای دینګ (Great Dividing) په نوم مشهور غرونه شته چې له ۳۰۰۰ کیلو مترو څخه زیات اوږدوالی لري. د غرونو دا لړۍ د تسمانیا (Tasmania) له ټاپو څخه په سوېل کې پیلېږي او د کپ یورک (Cape York) تر ټاپووزمې په شمال کې غځېدلې دي. د غرونو دا لړۍ

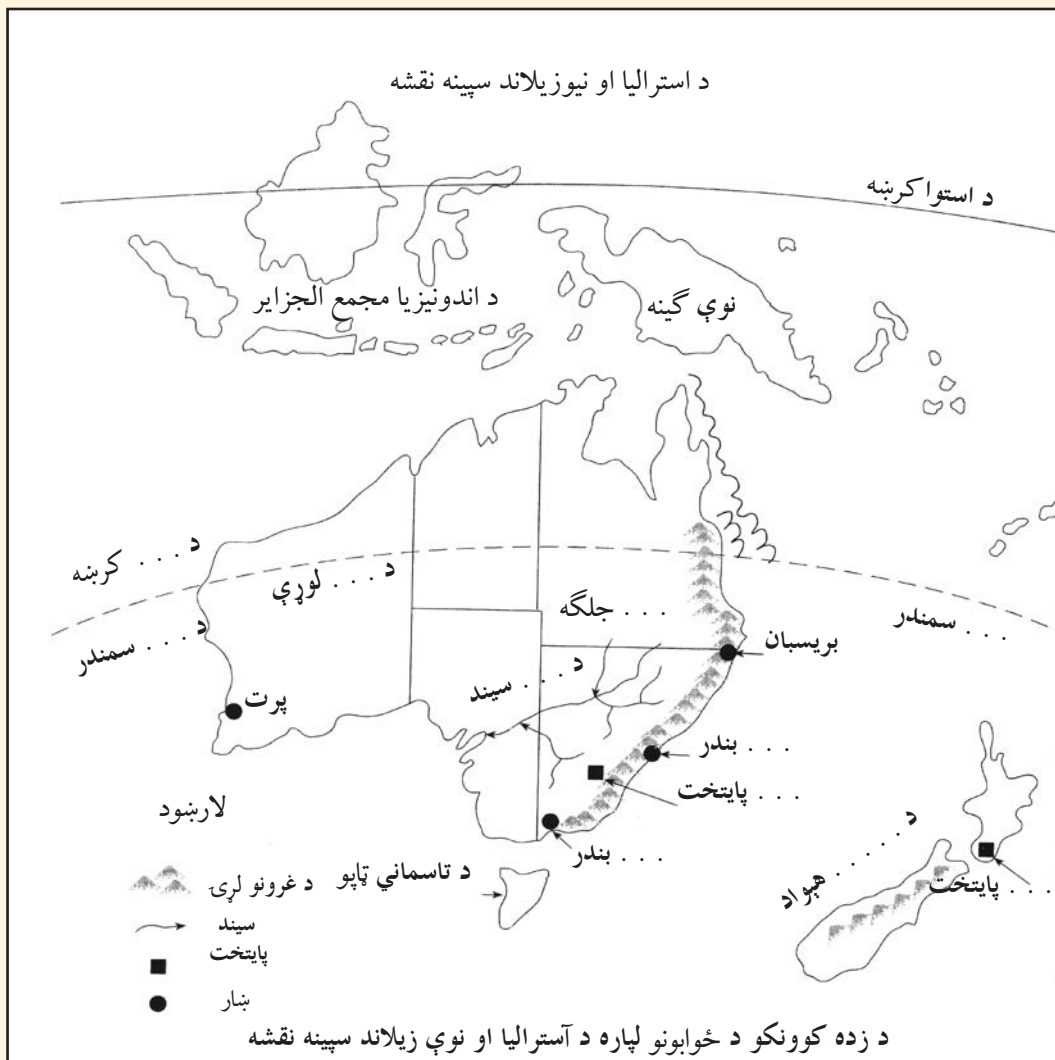


چې د منځني جگوالي لرونکي غرونه او لوړې سطحې لري، د سیندونو په وسیله سره جلا شوي دي. نوموړو غرونو خپلې لمنې د ختیځو سواحلو په لور او د لویدیځ په لور تر هوارو سیمو پورې پراخه کړي دي. د گریټ دیوای دینګ له غرونو څخه زیات لوی او واړه سیندونه سرچینه اخلي او آرام سمندر ته توپیری. د استرالیا نور غرونه د آسترالیایي الپ (Australian Alps) په نامه شهرت لري چې په حقیقت کې د (دیوای دینګ) د غرونو یوه برخه ګڼل کېږي. دا غرونه چې د آسترالیایي الپ په سویل ختیځ کې پراته دي، د نیو سوت ویلز (New South Wales) په سیمو او د ویکتوریا (Victoria) په ختیځې سیمې کې یې لوړې سطحې جوړې کړې دي. ددغو غرونو ډېره لوړه څوکه کوسیسکو (Kosciusko) ده، چې (۲۲۳۱) متره لوړوالی لري.

هغه غرونه چې د استرالیا د ختیځو سیمو د اوبو سرچینه ده او پر ګڼو ځنګلونو پوښل شوي دي.



د استرالیایي آلپ غرونه د تفریح او استراحت لپاره ښې سیمې لري او هم یې د اوبو ښې سرچینې جوړې کړې دي. په دې سیمه کې ډېر ملي ښونه شته چې د ژمني سپورت (د سکې لوبو) لپاره په استرالیا کې یوازینی سیمه گڼل کېږي. همدارنگه د فلیندرز (Flinders) غرونه هم د دیوای دینګ د لویو غرونو یوه څانګه ده، چې په سوېلي استرالیا کې پراته دي.





د استرالیا په منځنیو برخو کې د مک ډونل (Macdonnell) غرونه او د موسگراو (Musgrave) غرونه د یادولو وړ دي. د استرالیا په لوېدیځ کې هم مشهور غرونه شته چې د هامرسلي (Hamersley) په نامه یادېږي او لوړه څوکه یې بروس (Bruce) ده، چې د ۱۲۰۰ مترو څخه زیات لوړوالی لري. د استرالیا په شمال کې مشهورې لوړې سطحې شته چې د کیمبرلي (Kimberley Plateau) او ارنیم (Arnhem Land) په نامه شهرت لري او لوړوالی یې له (۸۰۰) مترو څخه زیات نه دی.

### د ټولګي فعالیت

- زده کوونکي دې په ډلو ووېشل شي، هره ډله دې له لاندېنیو فعالیتونو څخه یو پای ته ورسوي او د خپل فعالیت پایله دې نورو ته وړاندې کړي.
- ۱- د استرالیا څلور بېلابېلې سیمې د جغرافیې له نظره د نقشې پرمخ تثبیت او وېشې.
  - ۲- د ګریت دیوای دینګ دغرونو د څانګو نوم دې واخلي او د نقشې پرمخ دي وېشې.
  - ۳- د استریالیایي آلپ د غرونو اقتصادي اهمیت دې توضیح کړي.
  - ۴- د هغو غرونو چې د استرالیا په لوېدیځ او شمال کې موقعیت لري، نوم واخلي او د نقشې پرمخ یې وېشې.

### پوښتنې

- ۱- استرالیا په څو او کومو جغرافیایي سیمو وېشلای شو؟
- ۲- له ملي بڼو څخه زموږ مقصد څه دی.
- ۳- د استرالیا غرونه د خلکو پر اقتصادي او ټولنیز ژوند څه اغېزه کولای شي؟
- ۴- ستاسو په نظر په استرالیا کې غرونو د هغه هېواد خلکو ته څه ستونزې او څه اسانتیاوې پیداکړي دي؟

### له ټولګي څخه بهر فعالیت

د استرالیا او نوي زیلانډ سپینه نقشه کاپي او یا یې په خپلو کتابچو کې رسم کړئ او تش ځایونه یې ډک کړئ.



ستاسو په نظر ولې په آسټراليا کې زيات سيندونه موجود دي؟

په دې لوی ټاپو کې د ډېرو لوړو برخو د شتون او د هغه د ځانگړي جغرافيايي موقعيت له امله چې له هرې خوا يې سمندرونه چاپير شوي دي، په دې ټاپو کې اوربنت زيات دی. له همدې امله پکې ډېر سيندونه بهيري چې زياتره يې په آرام سمندر يا د هند په سمندر کې توپيري.

د آسټراليا مهم سيندونه عبارت دی له:

دارلینګ (Darling)، مورې (Murray)، او لچ لن (Lachlan) څخه. دا سيندونه چې د لوی ديواي دینګ له ختيځو سيمو څخه سرچينه اخلي، په پای کې د استراليا لوی خليج ته توپيري. د آسټراليا د سيندونو ډېر لوی سيستم د مورې - دارلینګ سيستم دی، د مورې سيند که څه هم د دارلینګ له سيند څخه لنډ دی خو ددې سيستم له مهمو سيندونو څخه شمېرل کېږي، ځکه د دارلینګ نه ډېرې اوبه لري. د مورې د سيند اوږدوالی ۲۵۷۰ کيلومترو او د دارلینګ د سيند اوږدوالی ۲۷۳۰ کيلومترو ته رسېږي. ددې سيند د اوبو اخیستونکي حوزې مساحت ۱۸۷۲ زره کيلومتره مربع ته رسېږي. د موریا دويمه لويه څانگه د مورامبيدجي (Murrumbidgee) سيند، چې ۱۶۹۰ کيلومتره اوږدوالی لري، جوړوي.

ټول هغه سيندونه چې د مورې - دارلینګ په سيستم کې شامل دي نامنظم دي. ددې سيندونو زياتره اوبه د بارانونو په واسطه او تریوې اندازې پورې د آسټراليا د آلپ د واورو د ويلي کيدو په اساس منځ ته راځي. له همدې امله د اوبو ډېر زيات د بت په دوبي کې وي. يعنې کله چې د اوبو سطحه د مورې او دارلینګ په سيندونو کې لوړه شي، پرهوارو دښتو وراوړي او کله هم د تخريباتو او ويجاړولو لامل گرځي. په دې وخت کې سيندونه له ځانه سره ډېر تخريب شوي توکي او د ډبرو ټوټې وړي، چې د بېړۍ چلولو کارونه له ستونزو سره مخامخ کوي. د مورې - دارلینګ د سيستم سيندونه اقتصادي اهميت هم لري، ځکه د هغو له اوبو څخه د ځمکو په خړو بولو کې گټه اخیستله کېږي.





په شمال او شمال ختیځ کې مهم سیندونه عبارت دي له: میشل (Mitchell) او فلیندرز (Flinders) څخه چې د گریټ دیوای دینګ د غره له شمال ختیځ څخه سرچینه اخلي او دکارپنتاریا خلیج ته توپیری. همدارنگه د ویکتوریا Victoria، دلی (Daly) او اورد (Ord) سیندونه چې د استرالیا په شمال کې بهیږي او د تیمور سمندرګي ته توپیری، د یادولو وړ دي.

د لوېدیځې استرالیا ټولې برخې د اوبو له کمښت سره مخامخ دي.

یوازې د هغې ډیرې لږې پرتې سیمې په ځانګړې توګه په خپلو لوړو برخو کې ډېر خوړونه لري، چې د بارانونو په وخت کې د اوبو نه ډکیري. د کال په زیاتره موده کې دا خوړونه وچ وي، ځکه د دې برخې په ډیرو لږو پرتو سیمو کې وچکالي په کال کې تر ۳۰۰ ورځو پورې دوام مومي. د استرالیا



د سطحې اوبو سرچینې سره له دې چې زیاته برخه یې تر وې دي د خلکو اړتیا نه پوره کوي، خو استرالیا د ځمکې لاندې د اوبو ډېرې زېرمې لري. او له دې اوبو څخه د ګټې اخیستنې لپاره بېلابېلې حوزې تر مطالعې لاندې نیول شوي دي چې د صنایعو او خرڅایونو د اړتیا وړ اوبه برابروي.

دا اوبه د ډېر منرالیزه کیدو له امله د څښلو او د کروندو د خرڅوولو لپاره دومره ګټورې نه دي. (د ځمکې لاندې اوبو) ډېره لویه حوزه په نړۍ کې هغه پراخه حوزه ده چې دکارپنتاریا له خلیج څخه یې د دارلینګ تر حوزې پورې

پراختیا موندلې ده. په استرالیا کې په ټولیزه توګه د ۶۵۰۰ په شاوخوا کې د ځمکې لاندې د اوبو ځاګانې شتون لري.

## د ټولګي فعالیت

زده کوونکي دې په ډلو ووېشل شي، په دې هکله دې چې ولې د استرالیا سیندونه غیر ثابت رژیم لري بحث وکړي او دخپل بحث نتیجه دې نوروته وړاندې کړي.

### پوښتنې

- ۱- آیا د ځمکې لاندې اوبه په استرالیا کې د خلکو ستونزې رفع کولای شي؟
- ۲- د هغو سیندونو نوم واخلي چې د استرالیا په شمال او شمال ختیځ کې پراته دي.
- ۳- د استرالیا د سیندونو د اوبو بهیر د کال په کوم موسم کې ډېر وي؟
- ۴- ولې د موري - دارلینګ د سیندونو سیستم نامنظم دی؟
- ۵- د موري - دارلینګ سیندونه کومې اقتصادي ګټې لري؟

## له ټولګي څخه بهر فعالیت

د استرالیا د لوېې وچې نقشه رسم کړئ او په هغې کې سیندونه په ځانګړې رنگ سره په نښه کړئ او نورو ته یې وړاندې کړئ.



### د آسترالیا ډیر لوی مالګین جهیل کوم دی؟

له آسترالیا څخه پرته د اقیانوسیې په نورو ټاپوګانو کې مهم جهیلونه نشته. ددې ټاپوګانو د طبیعي جوړښت شرایط داسې دي چې د جهیلونو د پیدایښت لپاره یې لارې چارې نه دي برابرې کړي. د ۵۷ مخ په نقشې کې وګورئ د آسترالیا له مهمو جهیلونو څخه یو د ایر (Eyre) جهیل دی چې په آسترالیا کې ډیر لوی مالګین جهیل دی. دا جهیل د آسترالیا د سوېلي ایالت په شمال لوېدیځ کې د سیمپسون (Simpson) د دښتې په سوېل کې پروت دی.

د ایر جهیل له دوو برخو څخه جوړ شوی دی چې یو یې د شمالي ایر لوی جهیل او بل یې د سوېلي ایر کوچنی جهیل دی او د یوه طبیعي کانال په وسیله سره نښتي دي. د ایر جهیل د ملي پارک په سیمه کې پروت دی. د آسترالیا ډیره ژوره نقطه (کابو ۱۵ متره د سمندر له سطحې څخه ټیټه) هم په همدې جهیل کې پرته ده.

د ایر جهیل په سوېل کې د تورنس (Torrens) او ګایردنر (Gairdner) په نومونو نور جهیلونه هم شته چې د ځمکې سطحه، یعنی بستری یې هم د مالګې په وسیله پوښل شوی دی. کله د ډېرې تودوخې له امله ددې جهیلونو اوبه براس کېږي او وچېږي. د آسترالیا نور جهیلونه چې د آسترالیا په سوېل لوېدیځ او لوېدیځ کې پراته دي، کارنګي (Carnegie)، بارلي (Barlee)، مور (Moore) او داسې نور دي.





### د ټولګي فعالیت

د آسټراليا د ۵۵ مخ نقشې ته وګورئ هغه جهيلونه چې نومونه يې واخيستل شول د نقشې پرمخ يې په نښه او وښاياست.

### پوښتنې

- ۱- د آسټراليا ډېره ټيټه نقطه په کوم جهيل کې پرته ده؟
- ۲- د آسټراليا د مهمو جهيلونو نومونه واخلي.
- ۳- څرنگه د آسټراليا دځينو جهيلونو د ځمکې سطحه او يا بستر د مالګې په واسطه پوښل شوی دی؟

### له ټولګي څخه بهر فعالیت

د آسټراليا جهيلونه د افريقا له جهيلونو سره پرتله کړئ، توپيرونه او ورته والی يې په څو کرښو کې وليکئ.



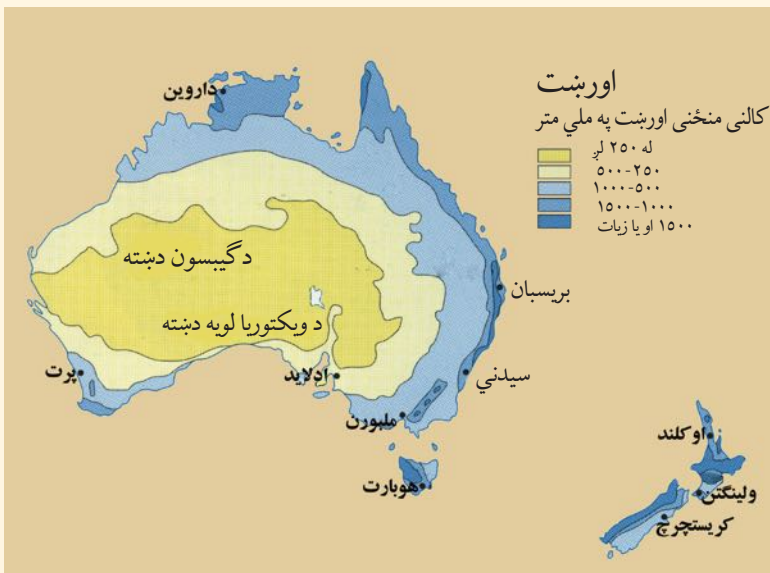
پورتني نقشې ته وگورئ. د آسترالیا اقلیم څرنگه دی؟

په آسترالیا کې د فصلونو بدلون ځکه منځ ته راځي چې د مرغومي د میاشتې په لومړي ورځ لمر د جدي پر دایرې (د سویلي عرض ۲۳° بلډ په ۲۳ درجو) باندې عمود لگيږي؛ نو ځکه په سویلي نیمه کره کې اوړی پیل کیږي. څرنگه چې آسترالیا په سویلي نیمه کره کې موقعیت لري، نو ځکه هلته د اوړي موسم وي. برعکس په شمالي نیمه کره کې ژمی وي چې دا موضوع د ځمکې د محور د کوروالي (میلان) تابع ده. که چېرې په شمالي نیمه کره کې اوړی وي په جنوبي نیمه کره کې به د ژمي موسم وي.

د آسترالیا د اقلیم یوه ډېره مهمه ځانګړنه هلته د لمر لرونکو ورځو ډېروالی دی. په عمومي توګه آسترالیا یو تود هېواد شمېرل کېږي، د جدي کرښه یې له منځ څخه تېرېږي تود دوی او معتدل ژمی لري. د آسترالیا زیاته برخه تر استوا لاندې اقلیم (سب تروپیک) او یوه شمالي برخه یې استوایي اقلیم لري. د آسترالیا د مساحت لږ تر لږه په دريو کې دوې برخې داسې وچه ده چې د کښت او کروندې وړتیا نه لري. د آسترالیا په شمال کې، دوی موسمي بارانونه لري، خو ددې هېواد په سوېل کې اورښت لرونکي بادونه، لوېدیځ بادونه دي چې د ژمي په اوږدو کې لگيږي. د آسترالیا په ځینو سیمو کې اورښت ډېر لږ دی او امکان لري چې د وچکالیو سبب شي. د آسترالیا  $\frac{3}{4}$  برخې په شاوخوا په کال کې د ۲۵۰ ملي مترو څخه لږ اورښت لري چې په دې سیمو کې یې کرڼه ډېره کمه ده. د آسترالیا له  $\frac{1}{3}$  نه لږه برخه چې زیاتره یې غرنۍ برخې دي په کال کې د ۵۰۰ ملي مترو په شاوخوا کې اورښت لري.



- آسترالیا د اب او هوا له نظره کولای شو په څو سیمو ویشو:
- ۱- په شمال کې حاره یي توده اقلیم له مرطوب دوبي سره.
  - ۲- معتدله توده اقلیم دیو وچ فصل سره د کویزلند په سیمه کې.
  - ۳- توده معتدله او مرطوب اقلیم د جنوبي ویلز په څنډه او ویکتوریا کې.
- باید یادونه وکړو چې د آسترالیا زیاتې مرکزي او لویدیځې برخې صحرايي اقلیم لري.<sup>(۱)</sup>



### د ټولګي فعالیت

د آسترالیا د اقلیمي نقشې ته وګورئ او اقلیمي بېلې بېلې سیمې پکې په نښه او وښایاست.

### پوښتنې

- ۱- د آسترالیا کومې سیمې صحرايي اقلیم لري؟
- ۲- د آسترالیا کومې سیمې په منځنۍ توګه زیات کلنی اورښت لري؟
- ۳- ولې د آسترالیا اقلیم توده دی؟

### له ټولګي څخه بهر فعالیت

په دې هکله چې ولې د آسترالیا موسمونه د شمالي نیمې کرې د فصلونو معکوس دي، معلومات راټول او وړاندې یې کړئ.

(۱) منبع: د پوهاند عارض د اقلیم پېژندنې کتاب ۱۳۸۶.

## د آسټراليا سياسي جغرافيه



آسټراليا څرنگه اداره کيږي؟


آسټراليا مشروطه شاهي فدرالي دولت يا پارلماني پاچاهي ده چې د انگلستان ملکه يې په تشریفتي توگه د دولت په سر کې ده، خو آسټراليا په حقیقت کې یو فدرالي دولت دی چې اووه ایالتي پارلمانونه لري او هر پارلمان د هغه ایالت اړوند کارونه سرته رسوي او یو عمومي او گډ پارلمان د آسټراليا په مرکز، یعنی د کانبرا په ښار کې لري چې د هېواد ټولې دندې سرته رسوي. دارنگه حکومت د امریکا له متحده ایالاتو او کاناډا د فدرالي حکومت سره ورته والی لري. ددې هېواد رسمي ژبه انګلیسي او پلازمینه یې د کانبرا ښار دی. د نوموړي هېواد زیاتره خلک د عیسوي دین پیروان دي. که د آسټراليا سياسي نقشې ته وګورئ، وینی چې آسټراليا په شپږو ایالتونو او دووسیمو ویشل شوې چې عبارت دي له:

- ۱- نیوساوت ولز (New South Wales) (جنوبي نوی ولز) چې په هغه کې د آسټراليا دوه لوی ښارونه یعنی سدني (Sydney) چې د همدې ایالت مرکز دی او کانبرا (Canberra) چې د آسټراليا پلازمېنه ده موقعیت لري. د سدني ښار، د آسټراليا ډېر لوی ښار، ډېر مهم بندر او ددې هېواد مالي مرکز دی.
- ۲- د ویکتوریا (Victoria) ایالت، چې مرکز یې ملبورن (Melbourne) دی.
- ۳- کوینزلند چې مرکز یې بریسان (Brisban) دی.
- ۴- جنوبي آسټراليا چې مرکز یې د ادلاید (Adelaid) ښار دی.



- ۵- لوېديځه آستراليا چې مرکز يې د پرت (Perth) ښار دی.
- ۶- تسمانيا چې مرکز يې هوبارت دی او يو ټاپو دی چې د جنوبي نوي ولز په جنوب کې موقعيت لري. دوي خپلواکي سيمې يې د پلازمېنې کانبرا سيمه او شمالي سيمه ده.
- د آستراليا حکومت په ۱۹۰۱م کال کې خپلواکي ترلاسه کړې ده. د آستراليا فدرالي پارلمان د ولسي جرگې چې ۱۴۸ غړي لري او د سنا (Senate) د مجلس چې ۷۶ غړي لري، لرونکی دی.

د ملبورن او سډني د ښارونو تصوير



### د ټولگي فعاليت

زده کوونکي دې په ډلو ووېشل شي، هره ډله دې د آستراليا د حکومت په ډول بحث وکړي او د هرې ډلې استازي دې د خپل بحث نتیجه خپلو ټولگيوالوته بيان کړي.

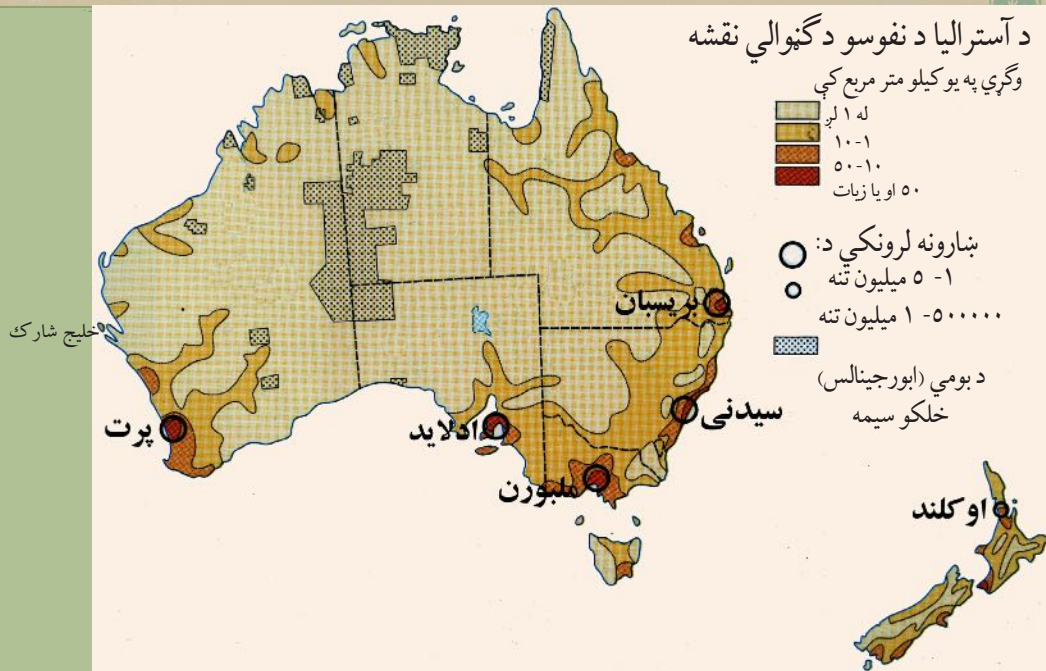
### پوښتنې

- ۱- آستراليا په څو ايالتونو ویشل شوې ده، نوم يې واخلي؟
- ۲- آستراليا په کوم کال اوله کوم هېواد څخه خپله خپلواکي ترلاسه کړه؟
- ۳- د آستراليا د حکومت ډول څرنگه دی؟
- ۴- د آستراليا پلازمېنه په کومې برخې کې موقعيت لري؟

### له ټولگي څخه بهر فعاليت

په خپلو کتابچو کې د آستراليا سياسي نقشه رسم کړئ او د ايالتونو نومونه يې په اړوندو ځايونو کې وليکئ.

## بشري جغرافيه



د آستراليا د نفوسو او نژاد په هکله څه پوهیږئ؟

په دې برخې کې، لومړی د آستراليا د نفوسو او نژاد او وروسته د آستراليا د خلکو له دين او ژبې سره آشنا کېږئ. د آستراليا لومړني استوگن هغه بوميان وو، چې د آسيا له سوېل ختيځ څخه هغه ځای ته کډوال شوي وو. کله چې اروپايان له ۱۸۳۰ م کال څخه وروسته آستراليا ته ورغلل په دې لويې وچې کې له نيم ميليونو څخه لږو بومي خلکو ژوند کاوه. د آستراليا بومي خلک توربخن پوستکی لري چې په (۵۵۰) قبيلو وېشل شوي وو او هره قبيله له څو طایفو څخه جوړه شوې وه. د اروپايي سپين پوستکو د کشفیاتو له پيل سره چې دوه سوه کاله دمخه ترسره شول او د هغوی او د آستراليا د بوميانو ترمنځ د جگړې په نښتو سره د بوميانو د نفوسو شمېر کم شو. په دې وروستيو کې د آستراليا د بوميانو شمېر کابو ۶۰۰۰۰ تنو ته رسیده، خو اوس د هغوی د نفوسو وده د ژوند د ښو شرايطو په اساس يو ځل بيا زياته شوې او شمېر يې زيات شوی دی.

د آستراليا نفوس تر ۱۹۲۰ م کاله پورې ۵ ميليونو تنوته رسیده. غير انگليسي مهاجرينو هم د آستراليا نفوس زيات کړ او په ۱۹۴۵ م کال کې يې وگړي (۷،۵) ميليونو تنو ته ورسېدل، په داسې حال کې چې د هغوی يوازې نيم يې انگليسي وو.

د آستراليا نوي مهاجرين له المان، هالنډ، ايتاليا، پولنډ او داسې نورو هېوادو څخه ورغلي دي. په آستراليا کې په ۲۰۰۸ م کال کې له ۲۰ ميليونو څخه زياتو خلکو ژوند کاوه چې د نفوسو زياتوالی يې په منځنۍ کچه په هرکيلومتر مربع کې ۳ تنو ته رسیده.

آستراليا يو له هغو هېوادو څخه دی چې ډېری خلک يې په ښارونو کې ژوند کوي. د آستراليا په سلو کې



د ۸۵ په شاوخوا کې وګړي په څو مهمو مرکزونو کې استوګنه لري، په داسې حال کې چې د استرالیا په کلو او بانډو کې پراخې سیمې له اوسېدونکو څخه تشې دي. د استرالیا د وګړو لږ تر لږه له شپږو ملیونو څخه زیات په دوو لویو ښارونو سډني او ملبورن کې ژوند کوي. لکه څرنګه چې د مخه مویادونه وکړه پرته له بومي خلکو څخه د استرالیا د خلکو په سلو کې د (۹۰) په شاوخوا کې اروپایي سپین پوستکي (په تېره انګلیسان)، کابو ۷ په سلو کې اسیایان او کابو په سلو کې بومیان او نور جوړوي. سربېره پردې په دې ځای کې (دوه رګه) یا ګله نژاد چې له سپین پوستکو او بومي خلکو څخه جوړ شوي، د یادولو وړ دي.

د استرالیا د بومي (ځایي) ماشومانو یو تصویر



### د ټولګي فعالیت

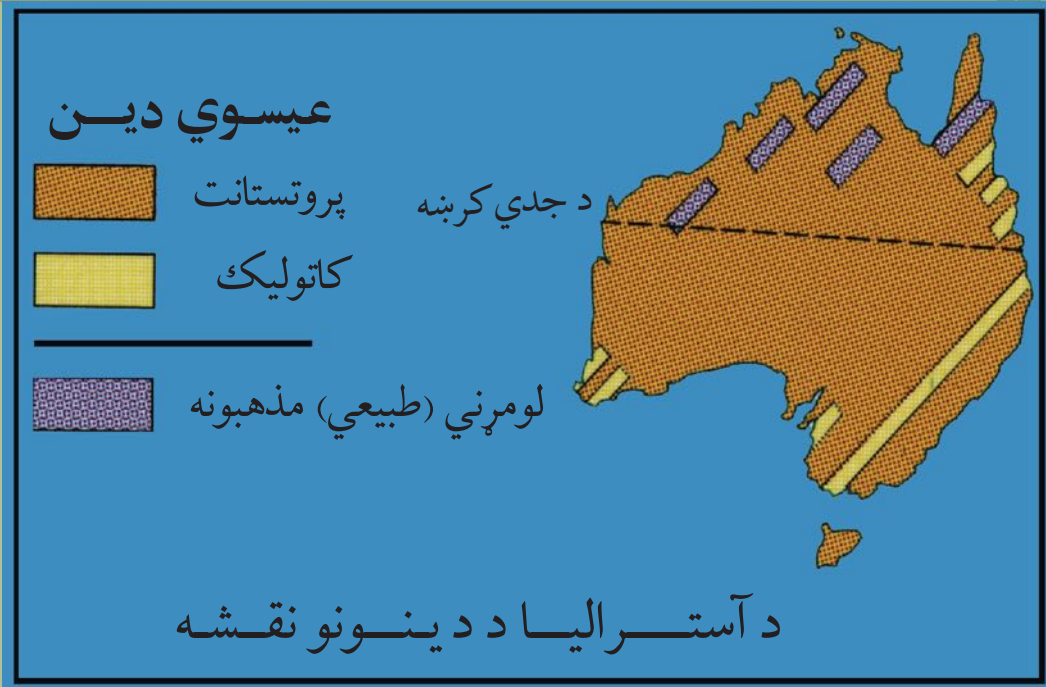
- د آسټرالیا د نفوسو د ګڼوالي نقشې ته وګورئ او دې لاندې پوښتنوته ځواب ورکړئ:
- ۱- په عمومي توګه د آسټرالیا په کومې برخې کې د نفوسو ګڼوالی زیات دی؟
  - ۲- ستاسو په نظر ولې ځینو ځایونو کې د نفوسو زیاتوالی زیات دی؟

### پوښتنې

- ۱- د آسټرالیا بومیان له کوم ځای څخه آسټرالیا ته ورغلي او اوس د هغو شمېر څو تنو ته رسېږي؟
- ۲- د آسټرالیا د اوسنیو نفوسو اکثریت کوم خلک تشکیلوي؟
- ۳- د آسټرالیا نفوس او مساحت له افغانستان سره پرتله او خپل نظر د هغو په باره کې وویاست.

### له ټولګي څخه بهر فعالیت

د آسټرالیا بومیانو د نفوسو او اروپایي سپین پوستکو مهاجرینو د ځانګړنو په هکله معلومات را ټول کړئ او خپلو ټولګیوالو ته یې توضیح کړئ.



په آسترالياکې کوم دين ډير پيروان لري؟

په آسترالياکې زياتره خلک عيسوي دي. له عيسوي دين څخه پرته د ابتدايي مذهبونو پيروان، بت نمانځونکي او نور هم د آسترالي او اقيانوسيا په ټاپوگانو کې ليدل کېږي. د اسلام د دين پيروان هم شته چې په اقليت کې دي، يو شمېر يهوديان هم په دې لويه وچه کې مېشت دي.

د آسترالي رسمي ژبه انگليسي ده. په آسترالي او د اقيانوسيا په نورو ټاپوگانو کې بېلابېلې ژبې شته چې ځينې دا ژبې له يوې ريښې څخه دي او ځينې يې هم يو له بله څخه ډېر توپير لري. بايد يادونه وکړو چې د انگليسانو اوږده استوگنه ددې لوبې وچې په غوره ټاپوگانو او په ځانگړې توگه په آسترالي او نوي زيلاند کې ددې سبب شوې چې انگليسي ژبه په اقيانوسيا او په ځانگړې توگه په آسترالي او نوي زيلاند کې عمومي او مومي. د اقيانوسيا د ټولو بومي ژبو په منځ کې (پولي نزي) زيات ويونکي لري.



په آسترالييا کې د دينونو او د هغو د پيروانو په هکله د اضافي معلوماتو جدول

پيروان يې په فيصدي	دين
۶۸	عيسويت
۲,۱	بوديزم
۱,۷	اسلام
۰,۴	هندوايزم
۲۷,۸	نور مذهبونه

### د ټولگي فعاليت

زده کوونکي دې په دوو ډلو ووېشل شي. لومړۍ ډله دې په آسترالييا کې د دينونو په هکله او دويمه ډله دې د ژبو په باره کې بحث وکړي او د بحث پايله دې خپلو ټولگيوالو ته بيان کړي.

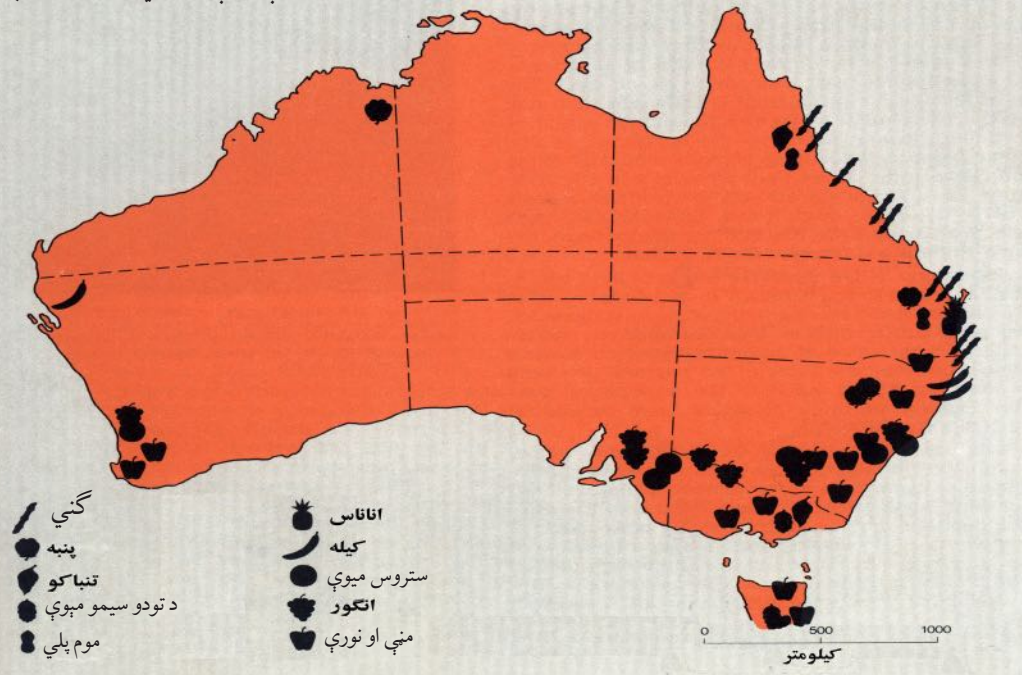
### پوښتنې

- ۱- د آسترالييا رسمي ژبه کومه ده او ستاسو په نظر ولې دا ژبه د رسمي ژبې په توگه ټاکل شوې ده؟
- ۲- د آسترالييا دينونو د نقشې څخه په گټې اخيستې سره ووياست چې کوم دين په آسترالييا کې زيات پيروان لري او ولې؟
- ۳- ستاسو په نظر په آسترالييا کې د اسلام دين پيروان اصلاً له کومو اسلامي هېوادونو څخه هغه ځای ته مهاجر شوي دي؟

### له ټولگي څخه بهر فعاليت

د خپلو دوستانو او خپلوانو په مرسته په آسترالييا کې د مهاجرو افغانانو په هکله معلومات ترلاسه کړئ چې افغانان او نور مسلمانان د خپلو ديني فرايضو د ادا کولو لپاره هلته څه امکانات لري؟

د استراليا د لويې وچې صنعتي نباتات او ميوې



د استراليا د اقتصادي پرمختگ نښې نښانې په څه کې ويني؟

آستراليا چې لويديځ کلتور لري، داسې هېواد دی چې د آزاد بازار د اقتصاد سيستم لري او پرمخ تللی هېواد دی. ديوه تن کلنی عايد يې په منځنۍ توگه له ۲۳ زرو امريکايي ډالرو څخه زيات دی. ددې هېواد د چټک اقتصادي پرمختگ نښې په دې کې دي چې له يوه کرنيز حالت څخه په چټکۍ سره د صنعتي کېدو په حالت کې دی. په دې معنا چې په ۱۹۷۵م کال کې په سلوکې کابو ۱۵ خلک د کرنې په برخه کې بوخت وو او په اوسني وخت کې دا شمېره په سلوکې ۳ ته رسېږي. ددې هېواد د فعالو نفوسو د پاتې برخې په سلو کې ۲۶ په صنعت او په سلوکې ۷۱ د خدماتو په برخه کې بوخت دي.

د کرنې د ځمکې او د اوبو له کمښت سره سره، آستراليا د کرنيزو غذايي توکو له مخې، په ځان بسيا هېواد دی. لږو وگړو او د ډول ډول اقليمي لرونکو سيمودرلودل د دې هېواد په ځان بسيا يې سره مرسته کړې ده. د غنمو کرنې د آستراليا په سلوکې ۶۰ کروندې ځانته اختصاص او بېلې کړې دي. د کښت سيمه يې په ويکتوريا او نيو ساوت ولز کې د ختيځو لوړو غرونو لويديځې جلگې دي. همدارنگه، زيتون او انگور د مديترانه يي اقليم په ساحه کې له جنوب لويديځ او ځينو جنوب ختيځو برخو او د معتدلو برخو کرنيز محصولات لکه: جوار، شفتالو، مڼې او ناک د تسمانيې د ټاپو له جنوب ختيځو سواحلو څخه لاس ته



راځي. آستراليا ته مالداري له کرنې څخه غوره ده. ډېر کلونه د آستراليا اقتصادي بنسټ په مالدارۍ تکیه درلوده. طبيعي پراخ څړ ځايونو او چمنونو چې د آستراليا د ټول مساحت په سلو کې کابو ۳۴ سيمې پوښلي دي، په دې لوی ټاپو کې د مالدارۍ د بشپړ رواج او پراختيا سبب شوي دي. په جنوب ختيځ کې د مورې او دارلینګ د سیندونو شاوخوا سيمې، د څارويو د ساتلو لپاره د څړ ځايونو غوره سيمې دي. دې سيمو وروسته د پسونو د روزنې د مرکز په توګه پراختيا ومونده او اوس په نیو ساوت ويلز کې د ۱۷۵ ميليونو پسونو په شاوخوا کې پيدا کېږي. وروسته د څارويو د ساتلو مرکزونه، د کوينزلنډ سيمو ته لېږدېدلې دي. د اوبو د کمښت له امله، د پسونو روزنه د لوېديځ لور ته لږه شوې او په مقابل کې يې د غوايانو ساتل زياتېږي.



مالداري د آستراليا له اقتصادي غوره فعاليتونو څخه ده



آسټراليا په نړۍ کې د وړيو د توليدوونکو او صادروونکو د لويو هېوادونو له ډلې څخه ده چې محصولات يې جاپان، المان او فرانسې ته صادريږي. همدارنگه اسټراليا د غوښې مهم صادرونکی هېواد هم دی چې د غوښې صادرات يې د امریکا متحده ايالاتو، انگلستان، جاپان او کاناډا ته ترسره کېږي.

په آسټراليا کې د يوې کروندې تصوير





قند هم د دی هېواد له سترو صادراتي توکو څخه گڼل کېږي، همدا راز دغه هېواد د نړۍ د غنمو د صادرونکو هېوادونو څخه دی چې د غنمو محصولات یې د روسیې، چین او منځني ختیځ هېوادو ته صادريږي.

په آسترالیا کې د انگورو د محصولاتو تصویر



### د ټولگي فعالیت

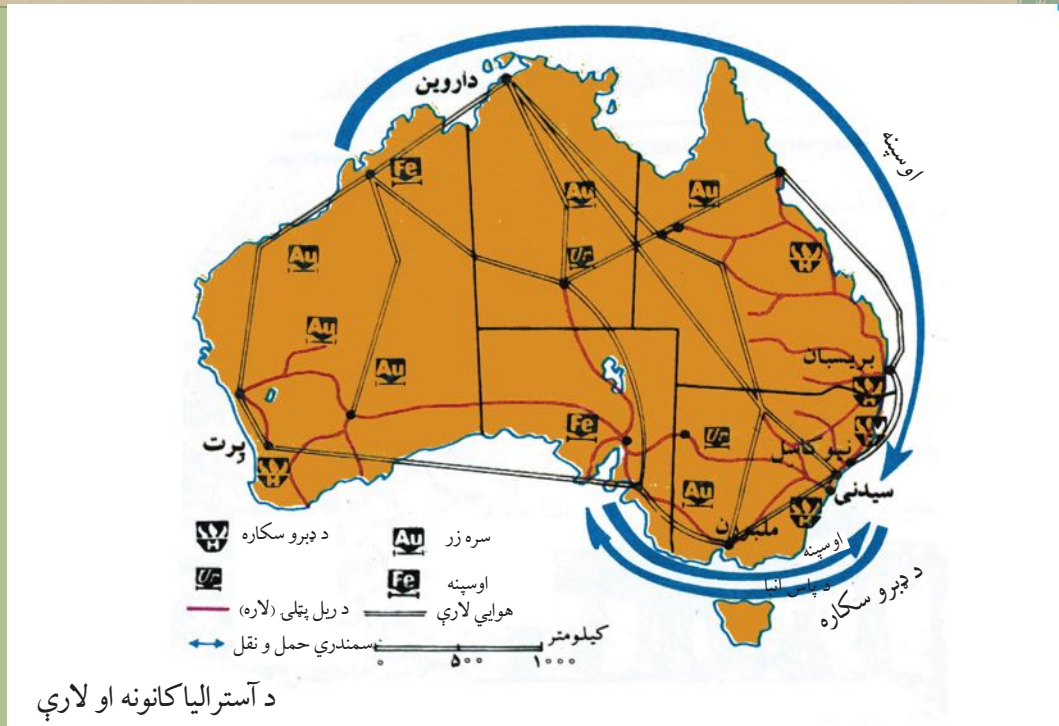
زده کوونکي دې په ډلو ووېشل شي، هره ډله دې د آسترالیا د نقشې څخه په کار اخیستلو سره د څپر ځایونو او د کرنیزو برخو نومونه واخلې او هغه دې د نقشې پرمخ وښيي.

### پوښتنې

- ۱- ولی مالدرای په آسترالیا کې زیاته وده کړې ده؟
- ۲- کوم ډول کرنیز محصولات په معتدلو سیمو کې موندل کېږي؟ نوموړې سیمې د نقشې پرمخ هم وښيي.
- ۳- د آسترالیا د ډېرو مهمو کرنیزو او د مالداري محصولاتو نومونه واخلې.

### له ټولگي څخه بهر فعالیت


د آسترالیا د اقتصادي پرمختگ د عواملو په هکله معلومات راټول او وړاندې کړئ.



په آسټراليا کې د کانونو او صنایعو حالت څرنگه دی؟

آسټراليا د کاني توکو يو غوره توليدونکی او صادرونکی هېواد گڼل کېږي. په ۱۸۵۱م کال کې په اسټراليا

د آسټراليا له صنایعو څخه يو تصوير



کې د سرو زرو شتون د انگلیسانو او نورو اروپایانو پاملرنه ځانته راواړوله او د هغو زیات شمېر اسټراليا ته مهاجر شول. دا هېواد په نړۍ کې د اوسپنې د تولید دویم هېواد او همدا ډول د بوکسیت چې د المونیم د تولید لپاره ورڅخه گټه اخیستل کېږي، ډېر لوی تولیدونکی دی. نور کاني توکي چې په آسټراليا کې ایستل (استخراج) کېږي عبارت دي له: سرو زرو، نکل، مس، سرپ او یورانیم څخه. آسټراليا د امریکې د متحده ایالاتو څخه وروسته په نړۍ کې د یورانیمو دویمه لویه زیرمه په واک کې لري. د آسټراليا د نفتو ډېره مهمه سیمه د باس په اېنا (Bass Strait) کې ده چې د تسمانيې د ټاپو او ویکټوریا په منځ کې پرته ده. دا هېواد کولای شي



خپلې یوڅه نفتي اړتیاوې پوره کړي. په همدې سیمې کې د طبیعي ګازو تولیدات هم ترسره کېږي. آسترالیا د ډبرو سکرو د صادرونکو هېوادونو له ډلې څخه هم دی.

له دویمې نړیوالې جګړې څخه وروسته (د ۱۹۵۰ م کال څخه وروسته) د آسترالیا صنایعو زیات پرمختګ کړی دی. په ۱۹۹۹ م کال کې ددې هېواد په کورنیو تولیداتو کې د صنایعو برخه په سلو کې شپږ ویشته ته رسیدلې وه. د دې هېواد لرغونې صنایع د حیواني محصولاتو پربنسټ جوړ شوي وو، خو په اوسني حالت کې د آسترالیا د استهلاکي مالونو په صنایعو او درنو صنایعو کې چټکه وده لیدل کېږي. د بېلګې په توګه په دې وروستیو ۳۰ کلونو کې د دې هېواد د فولادو تولید شپږ برابره زیات شوی دی. د اوسپنې او فولادو صنایع هم زیاتره په نیو ساوت ولز کې ځای پر ځای شوي دي. له فولادو، د ودانیو له صنایعو او کاغذ جوړولو پرته، نور غوره صنایع یې د غذایی توکو، کیمیاوي توکو او ټوکرانو څخه عبارت دي. د آسترالیا صنایع زیاتره په هغو ځایونو کې متمرکز او ځای پر ځای دي چې د صنایعو د منځته راتلو لپاره پکې لومړني امکانات برابر دي او په ځانګړې توګه په هغو ځایونو کې چې د خرڅلاو او لګښت لپاره پکې لوی بازارونه شته دي. د آسترالیا په صادراتو کې پر غنمو، غوښو او وړیو سربیره چې مخکې مو ورځنۍ یادونه وکړه، د ډبرو سکاره، سره زر او ماشین آلات شاملېږي. چې د ۶۹ میلیارده ډالرو په مجموعي ارزښت سره جاپان، د اروپا اتحادیې، د امریکا متحده ایالاتو، چین، او نورو آسیایي هېوادونو ته صادر شوي وو. د آسترالیا واردات زیاتره ماشین آلات، ترانسپورتي وسایل، کمپیوټر، مخابراتي وسایل، د دفترونو سامان آلات، د خاورو تېل او پټرولي محصولات دي چې د ۷۷ میلیاردو ډالرو په ارزښت په ۲۰۰۰ م کال کې د اروپا له اتحادیې، د امریکا له متحده ایالاتو، جاپان او نورو آسیایي هېوادونو څخه وارد شوي وو.

## د ټولګي فعالیت


زده کوونکي دې په دوو ډلو وویشل شي، لومړۍ ډله دې د درس د متن او نقشې څخه په ګټې اخیستوسره د کانونو په هکله او دویمه ډله دې د آسترالیا د صنایعو په هکله بحث وکړي او د خبرو پایلې دې خپلو ټولګیوالو ته وړاندې کړي.

### پوښتنې

- ۱- یورانیم د آسترالیا په کوم ایالت کې شته دي؟
- ۲- د اوسپنې کانونه زیاتره د آسترالیا په کومه برخه کې دي؟
- ۳- د آسترالیا غوره صنعتي سیمې په کوم ځای کې دي؟

## له ټولګي څخه بهر فعالیت

د آسترالیا د وارداتو او صادراتو په هکله معلومات راټول او ټولګیوالو ته دې وړاندې کړي.



د آستراليا په مرکزي جلگوکي د ريل يو تم ځای

د آستراليا ځمکنی، د اوبو او هوایي ترانسپورت په کومه سطحه کې دی؟

حمل او نقل په آستراليا کې د واټن له ستونزې او د نفوسو د نابرابر گڼوالي سره مخامخ دی. له بلې خوا د پراخو دښتو او د هېواد د ډېر پراخوالي له امله نه دی توانیدلی چې په دې ځمکه کې د پراخو شبکو د جوړولو مخه ونیسي. د ريل لومړنۍ کرښه په ۱۸۵۴ م کال کې د ملبورن او پورت - ملبورن ترمنځ ایستل شوی ده. په آستراليا کې د ۴۰ زرو کیلومترو په شاوخوا کې د اوسپنې لارې (د ريل کرښې) او له ۹۰۰ زرو کیلومترو څخه زیاتې لویې لارې او د موټرو لارې شته دي. د دې لارو زیاتره د آستراليا په ختیځو، سوېلي او سوېل لوېدیځو برخو کې جوړې شوې دي. د دې هېواد د اوسپنې د لارې ختیځه څانگه چې له شمال څخه سوېل خواته غځېدلې ده د بریسان، سډني او ملبورن ښارونه له یو بل سره نښلوي. د اوسپنې دا لاره په سوېل کې لوېدیځ لورته غزیدلې ده او د ادلاید څخه له تېرېدو وروسته د پرت بندرته د آستراليا په سوېل لوېدیځ کې پای ته رسېږي.

د آستراليا له ډېرو سیندونو څخه د هغو د چټک بهیر له امله د اوبو د کورنیو لارو لپاره گټه نه اخیستل کېږي، خو د آستراليا په سوېل کې له جهیلونو او تریوه حده پورې له سیندونو څخه د حمل او نقل لپاره گټه اخیستل کېږي. آستراليا د بېړۍ چلولو ۵۲ بندرونه لري، چې له هغې جملې څخه سلېني، ملبورن،



نیوکاسل، ادلاید، بریسبان، هوبارت او نور د یادولو وړ دي. د آسترالیا بندرونه داوبو له لارې نه یوازې د توکو د وړلو او راوړلو لپاره په نړۍ کې اهمیت لري، بلکې د آسترالیا په دننه کې هم د حمل او نقل لپاره د بېلابېلو ایالاتو په منځ کې د استفادې وړ دي. د آسترالیا هوایي لارو د دویمې نړیوالې جګړې څخه وروسته زیاته پراختیا موندلې ده. د آسترالیا هوایي ترانسپورت د هغو ښارونو تر منځ چې سره ډیر واټن لري د ډېر اهمیت وړ دی او ښه پرمختګ یې کړی دی. ټول لوی ښارونه یې هوایي ډګرونه لري. په دې هېواد کې ۴۴۱ لوی او واړه هوایي ډګرونه شته چې له لازمو آسانتیاوو څخه برخمن دي.

### د ټولګي فعالیت

زده کوونکي دې په درې ډلو ووېشل شي، د آسترالیا د ځمکنیو، اویزو او هوایي مواصلاتي لارو په هکله دې سره بحث وکړي او د خپل بحث پایله دې خپلو ټولګیوالوته وړاندې کړي.

### پوښتنې:

- ۱- آسترالیا څو ډوله مواصلاتي لارې لري؟ د هغو نومونه واخلي.
- ۲- ستاسو په نظریه آسترالیا کې کوم ډول ترانسپورت ښه پرمختګ کړی دی؟
- ۳- ستاسو په نظر د توکو وړل او راوړل د کوم ډول ترانسپورت په وسیله ارزانه تمامیږي او ولې؟

### له ټولګي څخه بهر فعالیت:

د آسترالیا د مواصلاتو په هکله له انټرنټ، او د کتابتون څخه په ګټې اخیستنې سره یو مخ مقاله ولیکئ.



د آسټرالیا او اقیانوسیه د لویې وچې نقشه

د اقیانوسیه ټاپوګانو په کوم سمندر کې موقعیت لري؟

اقیانوسیه د ډېرو ټاپوګانو نوم دی چې په آرام سمندر کې موقعیت لري. که څه هم آرام سمندر په یوازې توګه د ځمکې د کرې د مساحت په دريو کې یوه برخه نیولې ده، خو د اقیانوسیه ټاپوګانو له (۱۳۰۰۰۰۰) کیلومترو مربع څخه لږ مساحت لري.

د نوي ګیني ټاپو (Papua New Guine) په سلو کې د ۶۰ په شاوخوا کې او نوي زیلانډ (New Zealand) په سلو کې ۲۰ د اقیانوسیه مساحت په برکې نیولی دی. او پاتې په سلو کې ۲۰ نورو ټاپوګانو پورې اړه لري. د اقیانوسیه ټاپوګانو د جغرافیه له نظره په لاندې درې ډلو ویشلي دي:

**ملانزی (Melanesia)** چې د آسټرالیا په شمال او ختیځ او د استوا کرنبې په سوېل کې پرته ده او د تورانو د ټاپوګانو معنا ورکوي. نوي ګینه د دې ټاپوګانو له ډلې څخه ده.

- د استوا د کرنبې په شمال، د فلپین په ختیځ او د جاپان په سوېل کې نور ټاپوګانو موقعیت لري چې هغوته **میکرونیزیا (Micronesia)** یا کوچني ټاپوګانو ویل کېږي.

د آرام سمندر په مرکزي برخو کې یو شمېر نور ټاپوګانو پراته دي چې د **پلی نزی (Polynesia)** یا د زیاتو ټاپوګانو په نامه یادېږي. ددې ټاپوګانو له جملې څخه هاوایی په شمال او نوي زیلانډ په سوېل کې د یادولو وړ دي. اوقیانوسیه د جغرافیایي عرض او سمندري هوا تر اغېزې لاندې، توده او سمندري اقلیم لري. په اقیانوسیه



کې د لنډه بل او تودوخې کچه اکثراً زیاته وي او په ټول کال کې یو ډول ده. گومان کېږي چې د اقیانوسپې لومړني اوسېدونکي په زرگونو کاله د مخه له آسیا څخه هغه ځای ته مهاجر شوي دي. د اقیانوسپې ټاپوگانو ته د رسېدلو لپاره لومړنیو مهاجرینو له کوچنیو بېړیو څخه گټه اخیستې ده او په هغو ځایونو کې چې د پله جوړولو امکان درلوده پل یې جوړ کړی دی. د څو پېړیو په اوږدو کې خلک لږ لږ په بېلابېلو ټاپوگانو کې مېشت شول. په ۱۷۰۰ او ۱۸۰۰ میلادي کلونو کې اروپایي کاشفینو د اقیانوسپې له ډېرو ټاپوگانو څخه لیدنه وکړه او د ملانزیا، پلي نزییا او میکرونزییا د خلکو ظاهري او څرگند توپیر د هغو پاملرنه ځانته راوگرځوله. د دې ټاپوگانو اوسېدونکي معمولاً بیلابیلې ژبې، دینونه او دود او دستورونه لري. وایي چې هغه خلک چې په دغو پورتنیو دريو سیمو کې ژوند کوي له بېلابېلو نژادونو سره تړاو لري او ان دا ویل کېږي چې د ملانزییا ځینې اوسېدونکي د افریقا او هندي تورپوستکو مهاجرو څخه دي.



د ساموایو بومي اوسېدونکي چې زوی ته دکبانو د ښکار د یادولو په حال کې دی.

سرېره پردې د ټاپوگانو تر منځ هم مهاجرتونه ترسره شوي، اروپایان او آسیایان هم په خپلو مهاجرتونو کې له ځایي خلکو سره گډ شوي دي.

- ملانزیان د اقیانوسپې د ډېرې ټیټې ونې لرونکي خلک دي، تورپوستکی لري.

- میکرونزیان له ملانزیانو څخه یوڅه جگه ونه او روښانه پوستکي لري.

- پلي نزیان نسبت نورو ته ډېره جگه ونه لري او د یادوشوو دريو نژادونو تر منځ ډېر روښانه پوستکي لري.

## د ټولگي فعالیت


زده کوونکي دې په دريو ډلو ووېشل شي، لومړۍ ډله دې د ملانزییا ټاپوگان، دویمه ډله دې د پلي نزییا ټاپوگان او دریمه ډله دې د میکرونزییا ټاپوگان د نقشې پرمخ او وښيي.

## پوښتنې

- ۱- د اقیانوسپې د دريو لویو ټاپوگانو نومونه واخلي.
- ۲- د اقیانوسپې د ټاپوگانو خلک له نژادي پلوه په څو ډلو ووېشل شوي دي؟ د هغو نومونه واخلي.

## له ټولگي څخه بهر فعالیت

د اقیانوسپې د نقشې له مخې د اقیانوسپې غوره ټاپوگان لېست کړئ.




ناریال د اقیانوسې ډېر غوره محصول دی

د اقیانوسې په ټاپوگانو کې کرنیز حالت څرنگه دي؟

د اقیانوسې د ټاپوگانو ډېر غوره کرنیز محصول ناریال دي. کبله او د ډوډۍ رنگه مېوه هم د دې ټاپوگانو د ونو د غوره محصولاتو څخه دي. ککائو، مرچ او قهوه یې هم د غوره کرنیزو محصولاتو له ډلې څخه شمېرل کېږي. په ټولو ځایو کې یې د خلکو ژوند د کرنې له لارې پرمخ وړل کېږي. په اقیانوسې کې دودیزه کرنه رواج لري او ځمکې د کورنیو له خوا کرل کېږي. په ډېرو ټاپوگانو کې د خلکو د کښت او کب نیولو حق خوندي شوی دی. په اوسني وخت کې د اقیانوسې د ټاپوگانو د کروندو زیاته برخه د اروپایانو په واک کې ده.

خو ځینې کروندگر د خپلو ځمکو خاوندان دي. په ځینو کلو کې د کرنې ځمکې د یوه کلي پر ټولو خلکو پورې اړه لري او ټول پکې گډون لري. د اقیانوسې ډېر پرمخ تللی هېواد نوی زیلانډ دی.

د ډوډۍ ونه



د ټولو ټاپوگانو یوازینی صادراتي محصول کوپرا (Copra) د ناریال مغز دی. د ناریال له غوړو څخه د نباتي غوړیو او صابون په جوړولو کې هم گټه اخیستل کېږي او نوره برخه یې د نړۍ بېلابېلو هېوادونو ته صادريږي. د کیلې صادرات هم په دې ټاپوگانو کې له ځانگړې اهمیت څخه برخمن دي. د میکرونزیا او ملائزیا په ټاپوگانو کې د فسفاتو زېرمې مخ په تمامیدو دي. له دې کانونو څخه هر کال ۲،۶ میلیون ټنه گټه اخیستل شوې ده.



د کاني توکو له نظره ډېر بډایي ټاپو، نوې کالدونیا ده چې په سلو کې ۹۰ صادرات يې کاني توکي او فلزات جوړوي. د اقيانوسيه د توليدي فلزاتو له ډلې څخه نکل، کروم، اوسپنه، کوبالت، منگنيز، سره زر او مس دي. د اقيانوسيه ډېره غوره صنايع د کرنيزو محصولاتو بنسټ لري. د ناربال د غوري، صابون، بوره او کنسرو

د ساده او لومړنيو بهرنيو جوړولو د صنايعو يو تصوير



جوړول له دې ډلې څخه دي. د سليمان په ټاپوگانو، نوي گيني او لويديځې سامواکې د ترکاني د لرگيو دگټې اخيستني لپاره د اړه کولو کارخانې جوړې شوې دي. د ميکرونزيا او پلي نزيا په ټاپوگانو کې د صنعت وده ډېره لږه ده او خلک يې زياتره په لاسي کارونو لگيا دي.

پارويي کوچني بيري د اقيانوسيه په سيمې کې د وړلو او راوړلو لپاره دوديزه وسيله ده او د کلو خلک له هغو څخه د لنډو مسافرتونو او د مالونو د وړلو او راوړلو لپاره گټه اخلي. د اوږده واټن مسافرتونو لپاره د بادباني او يا ماشين لرونکو بېړيو څخه گټه اخيستل کيږي. په اوسني وخت کې د اقيانوسيه خلک له يو بل سره او يا د نړۍ له نورو هېوادوسره د اړيکو لپاره بېړيو او هوايي الوتنو ته اړتيا لري.

له سمندري ترانسپورټ څخه يو تصوير



## د ټولگي فعاليت

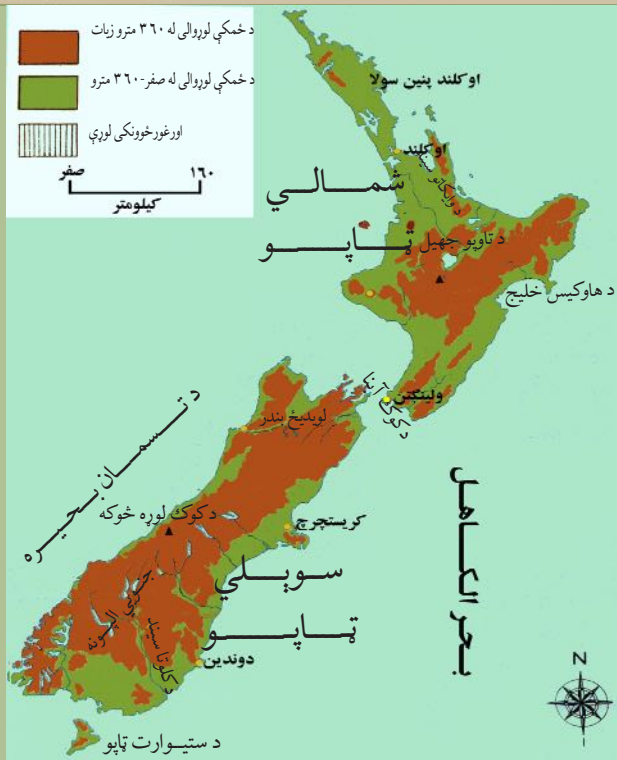
د اقيانوسيه د ټاپوگانو د کرنيزو توليداتو په هکله دوه کسيزه بحث وکړئ او د خپلو خبرو پايله خپلو ټولگيوالوته بيان کړئ.

### پوښتني

- ۱- د اقيانوسيه د ټاپوگانو ډېر غوره کرنيز توليدات کوم دي؟
- ۲- د اقيانوسيه د ټاپوگانو د ډېرو غوره کاني توکو نوم واخلي.
- ۳- د اقيانوسيه د ټاپوگانو د صنايعو بنسټ کوم توکي جوړوي؟

## له ټولگي څخه بهر فعاليت

د اقيانوسيه په ټاپوگانو کې د حمل او نقل، مواصلاتي امکاناتو او خنپونو په هکله معلومات راټول او سبا يې په ټولگي کې وړاندې کړئ.



د اقیانوسی مشهور هېواد نوی زیلاند څرنگه جغرافیایي ځانگړنې لري؟

د نوي زیلاند هېواد په اقیانوسی پورې اړوند دی چې د بحر الکاهل په جنوب لوېدیځ کې د ۱۶۰۰ کیلومترو په واټن د استرالیا په ختیځ کې موقعیت لري. دا هېواد د شمالي ټاپو او جنوبي ټاپو په نومونو دوه اصلي ټاپوگان او یو شمېر نور واړه ټاپوگان لري. د تسمانیا سمندرګي دا خاوره له استرالیا څخه بېله کړې ده. جنوبي ټاپو ډېر وسعت لري او د کوک اېنا (Cook Strait) دا دواړه ټاپوگان له یوبل څخه بېل کړي دي. د نوي زیلاند مساحت نژدې درې پر څلورو برخو غرونو او غونډیو پوښلې ده چې ډېر مهم یې جنوبي الپونه (South Alps) نومېږي او د شمال ختیځ - جنوب لوېدیځ پر لور د سمندرګي په اوږدو کې غځېدلي دي. د جنوبي الپونو ډېره لوړه څوکه د کوک څوکه ده، چې د ۳۷۰۰ مترو څخه زیات لوړوالی لري. څرنگه چې نوی زیلاند زیات وسعت یا لوړوالی نه لري نو اوږده سیندونه هم پکې نه لیدل کېږي. د وایکاتو (Waikato) او کلوتا (Clutha) سیندونه د دې هېواد له نامتو سیندونو څخه دي. د نوي زیلاند زیاتره سیندونه لنډ دي او زیاته چټکتیا لري او له همدې امله د برېښنا د تولید او تامین لپاره ډېر مناسب دي. ددې هېواد له سیندونو څخه په اوبولګولو کې هم ګټه اخیستله کېږي. د استرالیا په خلاف نوی زیلاند د ډېر باران لرونکی هېواد دی او په ټولیزه توګه معتدل او سمندري مرطوب اقلیم لري.



د نوي زيلاند بشري او اقتصادي حالت څرنگه دی؟

نوی زيلاند له ۲۷۰ زره كيلومتره مربع څخه زيات وسعت لري. دغه هېواد په ۲۰۰۶ م كال كې د څلورميليونو څخه زيات وگړي درلودل. د نفوسو گڼوالی يې په هر كيلومتره مربع كې ۱۵ تنو ته رسيږي. ددې هېواد په سلوكې اويو خلك اروپايي اصله دي، چې زياتره يې د انگلستان له هېواد څخه نوي زيلاند ته كېوال (مهاجر) شوي دي. خلك ددې هېواد په ټولو سيمو كې ژوند كوي او د درې مليونو په شاوخوا كې يې په شمالي ټاپو او يو ميلون يې په جنوبي ټاپوكې مېشته دي. دنوي زيلاند مهم ښار اوكلند (Auckland) دی چې په هغه كې د نفوسو گڼوالی زيات دی او د يوميلون په شاوخوا كې وگړي لري.


د نوي زيلاند پلازمينه د ولينگتن ښار





ولینگتن چې د نوي زیلانډ مرکز دی له ۳۰۰ زرو څخه زیات نفوس لري. نوي زیلانډ یو عصري او پرمخ تللی صنعتي هېواد دی. ددې هېواد زیاتره ځمکې غرنۍ دي او د خاورې زیاته برخه یې په ساحلي جلگو کې کرکېلې ته برابره ده چې په عمومي توګه پکې غنم، اوربشې، جودر او د څارویو لپاره وابنه کرل کېږي. د دې هېواد مناسبې آب او هوا، پراخو چمن زارونه او په کرنه کې له نوو فنونو او وسیلو څخه ګټې اخیستنې د کرنې په پرمختګ کې مرسته کړې ده. په دغه هېواد کې کرنه وروسته له مالدارۍ څخه په دویمه درجه کې راځي. د څارویو روزنه، په ځانګړې توګه پسه ددې هېواد په اقتصاد کې ځانګړې اهمیت لري.


طبيعي بڼه چاپیریال، په نوي زیلانډ کې مالداري پراخه کړېده.





د دې هېواد غوره کاني توکي فلزات دي چې له هغې جملې څخه سره زر ددې هېواد د سپين پوستو د مهاجرت په لومړيو کلونو کې له مهمو صادراتو څخه و او د ډبرو سکاره هم په دې هېواد کې موندل کيږي. د نوي زيلاند صنعت د خوراکي توکو د توليد، د کاغذي صنايعو، لرگيو او سيمه ييزو لگښتونو پر بنسټ ولاړ دی چې په هغو کې د سيندونو د اوبو له پراخو منابعو او برېښنا څخه گټه اخيستل کېږي او په سلوکې ۱۸ ملي عايد جوړوي.

داوبو د برېښنا له قوې څخه گټه اخيستل



### د ټولگي فعاليت

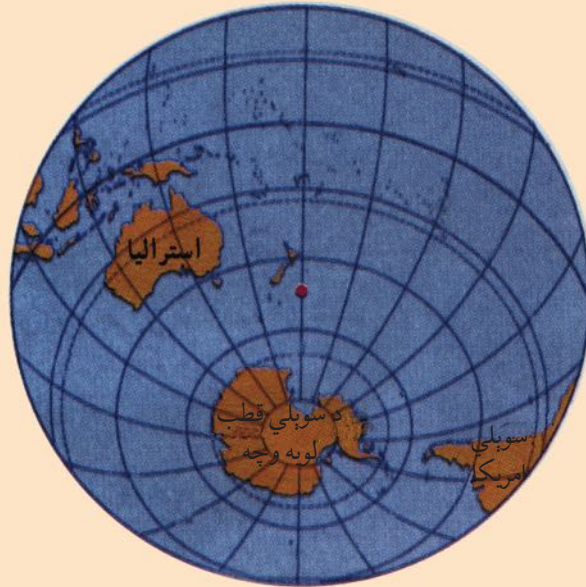
زده کوونکي دې د نوي زيلاند له نقشې، عکسونو او د لوست له متن څخه په گټې اخيستلو سره، د لوست مهم ټکي راټول کړي او په ټولگي کې دې بيان کړي.

### پوښتنې

- ۱- نوی زيلاند له څو لويو ټاپوگانو څخه جوړ شوی او څه نومېږي؟
- ۲- د نوي زيلاند د نفوسو زيات شمېر په کوم ټاپو کې استوگنه لري؟
- ۳- د نوي زيلاند دغوره کرنيزو، کاني او صنعتي پيداوارو نوم واخلي.

### له ټولگي څخه بهر فعاليت

له نقشې څخه په استفادې سره د نوي زيلاند موقعيت د طول البلد او عرض البلد د کرښو په اساس تثبيت او وليکئ.



په جنوبي نیمه کره کې د آستراليا د لویې وچې، د اقیانوسییې د ټاپوگانو او د انتارکتیکا موقعیت

د انتارکتیکا نقشه

- انتارکتیکا څرنگه کشف شوه؟

انتارکتیکا هغه لویه وچه ده چې زیاته برخه یې د جنوبي قطب د دایرې په جنوب کې موقعیت لري او د درې سمندرونو، یعنی آرام سمندر، اتلانتيک سمندر او د هند سمندر له خوا چاپېره شوې ده. هغه اوبه چې د انتارکتیکا په شاوخوا کې شته دي ځینې پوهان هغه د جنوبي کنګل سمندر په نامه هم یاد وي. انتارکتیکا له آسیا، افریقا، شمالي او جنوبي امریکا څخه وروسته د نړۍ څلورمه لویه وچه ده چې د ۱۴ میلیونو کیلومترو مربع په شاوخوا کې مساحت لري.

دا لویه وچه د نړۍ د ډېرو لیرې پرتو او منزوي وچو څخه ده چې د کنګل لویو ټوټو محاصره کړې ده. له ۲۰۰ کلونو څخه د مخه تصور کېده چې انتارکتیکا د اوسیدو وړ او د ښه اقلیم لرونکې ځمکه ده، خو په ۱۷۶۸ م کال کې د انګلیس د سمندري قواوو یوه افسر د جیمز کوک (James Cook) په نامه وروسته له هغې څخه چې ویې کولای شول په ډېر زیار سره ځان ددې لویې وچې شاوخوا ته ورسوي، خبر یې ورکړ چې حتی یو حیوان هم په دې کنګلونو کې د ژوند د دوام وړکولو توان نه لري. پنځوس کاله وروسته په ۱۸۱۸ م کال کې یو امریکایي سمندرګر څېدونکی د ناتانیل پالمر (Nathaniel Palmer) په نامه بریالی شو چې له جنوبي امریکې (ارجنټاین) څخه د جنوبي قطب (انتارکتیکا) ډېرې نژدې نقطې ته ځان ورسوي.

په ۱۹۱۱ م کال کې د دوو اکتشافی ډلو ترمنځ د انتارکتیکا د کشف لپاره یوه مسابقه رامنځ ته شوه چې یو انګلیسي هیأت د انګلستان د سمندري قواوو د یوه افسر په مشرۍ د روبرت فالکن سکات (Robert Falcon



Scott) په نامه او یو نارویژي هیأت د یونارویژي سمندر گرځېدونکي ډلې په مشرۍ د روالد اموندسن (Roald

د قطبي حیواناتو څخه یو تصویر



Amundsn) په نامه په دې سیالی کې گډون وکړ. ددې مسابقې وړونکی نارویژي ډله وه چې د ۹۹ ورځو مسافرت له تېرولو څخه وروسته د دسمبر په څوارلسمې ورځې په ۱۹۱۱ م کال کې د ۲۹۹۳ کیلومترو د واټن په وهلو د جنوبي قطب نقطې ته ورسېدل او نارویژي رېانده بیرغ یې هلته په یادگار پرېښود. وروسته کاپیتان سکات د ۱۹۱۲ م کال د جنوري د میاشتې په ۱۷ (یوه میاشت وروسته) هغه ځای ته ورسید. نارویژي ډله په سلامتی سره بېرته راورگرځېده، خو انګلیسي ډله په بېرته راتګ کې د واورې او کنګلونو سره مخامخ شوه او ټول یې مړه شول. په هغه ځای کې چې د هغوی جسدونه موندل شوي دي د انتارکتیا د مکتشف په یاد په همدې ځای کې یو څېړنیز مرکز جوړ شوی، چې د آن دو (اموندسن - سکات) په نوم نومول شوی دی. د انتارکتیکا طبیعي حالت څرنگه دی؟

د انتارکتیکا په لویه وچه کې څوک نه اوسېږي، لاس یې نه دی خوړلی دا لویه وچه پراخه دښته او هواره نه ده، بلکې جګه سطحه ده چې په کنګل او واورې پوښل شوې ده. د دې لویې وچې په سواحلو او د قطب په مرکزي برخه کې د غرونو ډېرې لړۍ شته دي. انتارکتیکا د ځمکې ډېره لویه لویه وچه ده، چې منځنۍ لوړوالی یې د سمندر له سطحې څخه ۱۸۳۰ متره دی.

جنوبي قطب ډېره سره هوا لري چې په ژمي کې د سانتي ګراد تر منفي ۸۹ درجو پورې رسېږي. هیڅ بوتی په دې لویې وچې کې د لوبیدو او ودې توان نه لري، یوازې د دې لویې وچې په ځینو برخو کې ځنې بوتې لکه (گل سنگ) شنه کیري او د جنوبي قطب په شاوخوا اوبو کې د سمندري حیواناتو ځینې ډولونه هم ژوند کوي. په یوه کوچنۍ برخه کې چې کومې څېړنې د کانونو د کشف لپاره ترسره شوي دي، څرګندوي چې په انتارکتیکا کې د اوسپنې، ډبروسکارو، نفتو، ګازو اونورو کاني موادو زېرمې شته دي، خو د زیات لګښت له امله یې اوس استخراج ته کومه لیوالتیا نشته.

### د ټولګي فعالیت

زده کوونکي دې په دوو ډلو وویشل شي، لومړۍ ډله دې د انتارکتیکا د لویې وچې د کشف په هکله او دویمه ډله دې په دې هکله چې ولې تر اوسه دا لویه وچه د استوګنې وړ نه ده بحث او خبرې اترې وکړي او د خپل بحث پایله دې خپلو ټولګیوالوته وړاندې کړي.

### پوښنې

- ۱- انتارکتیکا په کوم ځای کې موقعیت لري او د کومو سمندرونو په وسیله چاپېره شوې ده؟
- ۲- د انتارکتیکا د کاشفینو نومونه واخلئ.
- ۳- د جنوبي قطب اقلیم څرنگه ده؟
- ۴- د انتارکتیکا د لویې وچې د اټکلي کانونو په باره کې معلومات ورکړئ.

### له ټولګي څخه بهر فعالیت:

په یو دېرشم لوست کې ورکړ شوي شکلونه توضیح کړئ او د هغو په هکله خپل نظر په څو کرښو کې ولیکئ.

## د دویم څپرکی لنډیز

- د آسټرالیا لویه وچه په حقیقت کې یو لوی ټاپو دی چې په جنوبي نیمې کرې کې د آرام سمندر او د هند سمندر په اوبو کې پروت دی.
- کابو پنځوس زره کاله مخکې لومړني خلک آسټرالیا ته لاړل. ددې ځمکې اصلي اوسېدونکي خلک د ابورجینالس (Aboriginals) په نامه یادېږي.
- دا لویه وچه په شپاړسمه او اووه لسمه پېړۍ کې د اروپایانو د سفرونو او زیاتو سمندري کشفیاتو په لړ کې کشف شوه. ددې لویې وچې مشهور غرونه ګریت دیوای دینګ (Great Dividing) دي چې په ختیځ کې یې له شمال څخه تر سویل پورې غځېدلې دي او د اوبو مهمې سرچینې هم جوړوي.
- د آسټرالیا ډېر مهم سیند موري (Murray) دی چې درې څانګې لري، نوموړی سیند د دیوای دینګ د غرونو له برخو څخه سرچینه اخلي او د آسټرالیا لوی خلیج ته توپېږي.
- ایر (Eyre) په آسټرالیا کې ډېر لوی مالګین جهیل دی، چې د آسټرالیا ډېره ژوره نقطه هم په همدې جهیل کې موقعیت لري.
- د آسټرالیا زیاتره برخه تحت استوایي اقلیم او یوه شمالي برخه یې استوایي اقلیم لري. د آسټرالیا په درو برخو کې کابو دوه برخې وچه وو چې د کرنې وړ نه ده.
- آسټرالیا فدرالي دولت دی چې په شپږو ایالتونو او دوو سیمو وېشل شوی دی او مرکز یې د کانبرا ښار دی.
- د آسټرالیا زیاتره وګړي اروپایي سپین پوستي عیسوي دي چې په انګلیسي ژبه خبرې کوي.
- آسټرالیا یو پر مخ تللی هېواد دی چې زیاتره خلک یې د خدماتو په برخه کې بوخت دي. د دې هېواد غوره صادرات وړۍ، غوښه، غنم، د ډبروسکاره، سره زر او ماشینونه او واردات یې ترانسپورتي وسایل، ماشینونه، د مخابراتو وسیلې او پترولې محصولات دي.

د اقیانوسېي د ځینو مستقلو هېوادونو د جغرافیایي ځانګړنو جدول

کڼه	هېوادونه	مرکز	مساحت په کیلومتر مربع	د وګړو شمیر په ۲۰۰۸م کال کې	د وګړو کڼوالی په یو کیلومتر مربع کې
۱	یاپوانیوګیني	پورت مورسي	۴۶۲۸۴۰	۵۹۳۱۷۶۴	۱۲/۸
۲	پالانو	کورور	۴۵۹	۲۱۰۹۳	۴۶
۳	تونګا	نوګو الوفا	۷۴۷	۱۱۹۰۰۹	۱۵۹/۳
۴	تووالو	واپاکو	۲۴	۱۰۴۰۰	۴۰۷/۷
۵	ختیځ تیمور	دیلی	۱۴۸۷۴	۱۱۰۸۷۷۷	۷۴/۵
۶	نوی زیلانډ	ولینګتن	۲۷۰۵۳۴	۴۱۷۳۶۶۰	۱۵/۴
۷	ساموا	اپیا	۲۸۳۱	۲۱۷۰۸۳	۷۶/۷
۸	د سلیمان ټاپوګان	هونیاړا	۲۸۸۹۶	۵۸۱۳۱۸	۲۰/۱
۹	فیجی	سووا	۱۸۲۷۴	۸۵۰۰۰۰	۴۶/۷۹
۱۰	کیریباتي	جنوبي-تاراواي	۷۲۶	۱۱۰۳۵۶	۱۵۲
۱۱	د مارشال ټاپوګان	ماجورو	۱۸۱	۶۳۱۷۴	۳۴۹
۱۲	میکرونزیا	پالیکیر	۷۰۲	۱۰۷۶۶۵	۱۵۳
۱۳	نانورو	یارن	۲۱	۱۳۷۷۰	۶۵۵/۷
۱۴	وانواتو	ویلا بندر	۱۲۱۸۹	۲۱۵۴۴۶	۱۷/۷

- آسټرالیا د حمل او نقل ټول ډولونه او د مواصلاتو پر مختللي وسایل لري.
- اقیانوسیه ډېر ټاپوګان لري چې ډېر لوی ټاپو یې د پاپوا نیو ګیني (Papua New Guinea) ټاپو دی. ددې ټاپو ګانو خلک بېلا بېلې ژبې، دینونه، دودونه او دستورونه لري.
- د اقیانوسېي د ټاپوګانو ډیر مهم کرنیز محصول ناربال دي - نوی زیلانډ د اقیانوسېي له مشهورو هېوادونو څخه دی چې یو عصري او صنعتي پر مخ تللی هېواد دی.
- د انتارکتیکا (سوېلي قطب) په لویه وچه کې څوک نه اوسېږي، لاس یې نه دی خوړلی او په کنگلونو پوښلې ده. ددې لویې وچې مرکزي نقطه د یوې نارویژي ډلې له خوا په ۱۹۱۱ میلادي کال کې کشف شوه.
- انتارکتیکا د هوا د سربښت او طبعي نا مناسبو شرایطو له امله تر اوسه د استوګنې وړنه ده او له طبعي زېرمو څخه یې هم ګټه نه اخیستل کېږي.



- **پارتايد:** د سپينو پوستو او تورو پوستو خلكو سره بېل بېل چلند او تر منځ يې توپير چې له ۱۹۴۸ ميلادي كال څخه يې د سوېلي افريقا په هېواد كې قانوني بڼه درلوده.
- **استوايي اقليم:** هغه اقليمي سيمه چې د استوا د كرښې په شاوخوا كې پرته ده او د استوايي باراني ځنگلونو د اقليم او سوانا ساحه په كې شامله ده.
- **اقتصادي جغرافيه:** هغه جغرافيه چې د ډول ډول توکو د توليد، وېش او لگښت په هكله بحث كوي.
- **اورښت (بارنده گي):** ټولې اوبه، واورې او ږلې چې له وړېځو څخه اوري، اورښت ورته ويل كېږي.
- **استوايي ځنگلونه:** د استوايي سيمو ځنگل چې د شمالي عرض البلد له ۷ درجونه د جنوبي عرض البلد تر ۷ درجو پورې شتون لري، د تودې او لنډې هوا، او ډېرو بارانونو لرونكې دي.
- **بوميان:** هغه خلك چې د يوې سيمې د لومړنيو اوسېدونكو په توگه پېژندل شوي وي.
- **بشري جغرافيه:** بشري فعاليتونه، د نفوسو او بشري ټولنو جغرافيايي وېش د ژوندانه د چاپېريال په اړه مطالعه كوي.
- **پراس (تبخير):** د مايع د فزيكي حالت بدلون په پراس (بخار).
- **توپوگرافي:** توپوگرافي له دوو يوناني كلمو څخه اخيستل شوې يعنې (توپو) د ځای په معنا او (گرافي) د رسمولو يا تشریح په مفهوم چې د هرې سيمې د طبيعي يا مصنوعي جوړښتونو رسمولو يا ښوولو ته توپوگرافي ويل كېږي.
- **تجارتی بادونه:** د شمالي او جنوبي نيمې کرې، ۵ او ۳۰ درجو عرض البلدونو ترمنځ له شمال ختيځ څخه مخ په جنوب لوېديځ باندې لگېږي، خو په جنوبي نيمې کره کې د هغو لورې له جنوب ختيځ څخه د شمال لوېديځ خواته وي.
- **توريزم:** هغه خلك چې د سفر امكانات لري او د خپل فراغت وخت په يو بل سيمې كې تېروي د سيلانيانو (توريستانو) يا نړۍ گرځېدونكو په نامه يادېږي. هغه هېوادونه چې ښې توريستيكي سيمې لري او د سيلانيانو د راکښلو سبب گرځي زياته شتمني لاسته راوړي.
- **تكتونیکي ساحه:** د ځمکې په مخ (قشر) کې يوه ساحه ده چې په هغه ځای کې ډول ډول جوړښتونه لکه لوړې برخې، ټيټې برخې، گونځې، درزونه، چاودونه او نور جوړ شوي وي.
- **د باراني ځنگلونو د اقليم ساحه:** هغه اقليم چې ټول كال ورسره اورښت مل وي.
- **دېټ (Debit):** د اوبو اندازه چې له سيند څخه په يوه ټاکلي وخت کې له يوې ټاکلې نقطې څخه تېرېږي او د سيند د اوبو د حجم د اندازه کولو لپاره ورڅخه استفاده کېږي.
- **د سكي لوبې:** يو ډول ژمنۍ لوبې دي چې له واورو څخه ډکو غرونو کې تر سره کېږي.
- **د سټپ اقليم:** وچ اقليم چې په دوبي کې د لنډې مودې باران لري.
- **د نفوسو کثرت يا گڼوالی:** په هر كيلومتر مربع کې د استوگنو وگړو اوسط.

- د سیند خوله یا مصب: هغه ځای دی چې سیند، سمندرګي یا سمندر ته توپيري او ور سره یو ځای کيږي؟
- د لټا (Delta): د سیند په خوله کې د رسوبي موادو یوه سیمه چې د ځمکې هوارېدو او د سیند د څانګه کیدو سبب ګرځي.
- ژبه: منظمه غریزه وسیله ده چې انسان یې د خپلو خلکو سره د اړیکو لپاره کاروي.
- سټپ: نیم وچ اقلیم لرونکې برخې چې په هغو کې بوتې او ونې شیندلي او یا لرې لرې لیدل کيږي.
- سور اقلیم: هغه اقلیمي ساحه چې د توندرا اقلیم، د واورو اقلیم او د لوړو غرونو د اقلیم لرونکې ده.
- سوداګري (تجارت): د محصولاتو او توکو پلورل او پېرودل.
- سمندري کشفیات: د بېړۍ په وسیله سمندري سفرونه د ناپېژندل شوو سیمو د کشف لپاره.
- سیاسي جغرافیه: د جغرافیې یوه برخه ده چې د هېوادونو د سرحدونو او څلور خواوو، کورنیو او بهرنیو اړیکو، ادارې او ټولنیزو تشکیلاتو او داسې نورو په باره کې بحث کوي.
- صادرات: بهرنیو هېوادونو ته د پلورلو لپاره د محصولاتو لیږل.
- صنعت: د محصولاتو یا توکو د شکل بدلون، په ځانګړې توګه د ماشین په وسیله.
- طبیعي جغرافیه: د ځمکې پدیدې او جوړښتونه (عوارض) تر څېړنې لاندې نیسي.
- کلتور: ټول دودونه او دستورونه چې د یوې ډلې خلکو له خوا زده شوي وي او په سمبولونو، اتلانو، رواجونو او ارزښتونو باندې پېژندل کيږي.
- کانال: د انسان په وسیله د دوو سمندرګیو او یا سمندرونو د ارتباط او د حمل و نقل د آسانتیاوو لپاره د وچې کیندل کیدای شي چې د دوو سیندونو په منځ کې هم کانال وکیندل شي او دوه سیمې سره ونښلوي.
- مدیترانه یې اقلیم: هغه اقلیم دی چې دوی یې تود او وچ اوږمۍ یې ملایم او باراني وي.
- ملي پارک (National Park): طبیعي با ارزښته تړلې سیمه، چې لږ تر لږه لس زره هکتاره وي او د دولت له خوا یې ساتنه کيږي.
- مهاجرت: د خلکو خوځښت او ځای په ځای کیدل د هېواد دننه او یا د سرحداتو څخه بهر. کورني او بهرنی مهاجرتونه د اقتصادي، سیاسي او طبیعي بېلا بېلو عواملو له امله تر سره کيږي.
- ملي نا خالص عواید: د ټولو محصولاتو ارزښت دی چې د یوه هېواد په بېلا بېلو برخو کې په یوه کال کې تولیدېږي.
- مواصلاتي جغرافیه: د جغرافیې یوه څانګه ده چې د وچو، اوبو او هوايي لارو په باره کې بحث کوي.
- نژاد: یوه ډله خلک چې د طبیعي، وراثت او اصالت له نظره یو ډول خصوصیات لري، یعنې د قیافې، د ونې جګوالی او ټیټوالی، د سترګو، وینښتانو او پوستکي د رنگ ځانګړنې یې ورته والی ولري.
- واردات: په بهرنیو هېوادونو کې د محصولاتو او توکو پېرودل او هېواد ته دننه یې راوړل.
- وچ اقلیم: هغه اقلیمي سیمه چې د سټپ اقلیم او صحرايي اقلیم پکې شامل دی.