



د پوهنې وزارت
د تعلیمي نصاب د پراختیا
د روزنې او د ساينس د مر
د تعلیمي نصاب د پراختیا
کتابونو د تالیف لوی

کیمیا

کیمیا اتم ټولگی

اتم ټولگی

1 H																	2
3 Li	4 Be											10 Ne					
11 Na	12 Mg											18 Ar					
19 K	20 Ca	21 Sc	22 Ti	23 V	24 Cr	25 Mn	26 Fe	27 Co	28 Ni	29 Cu	30 Zn	31 Ga	32 Ge	33 As	34 Se	35 Br	36 Kr
37 Rb	38 Sr	39 Y	40 Zr	41 Nb	42 Mo	43 Tc	44 Ru	45 Rh	46 Pd	47 Ag	48 Cd	49 In	50 Sn	51 Sb	52 Te	53 I	54 Xe
55 Cs	56 Ba	57 La	72 Hf	73 Ta	74 W	75 Re	76 Os	77 Ir	78 Pt	79 Au	80 Hg	81 Tl	82 Pb	83 Bi	84 Po	85 At	86 Rn
87 Fr	88 Ra	89 Ac	104 Rf	105 Db	106 Sg	107 Bh	108 Hs	109 Mt	110 Ds	111 Rg	112 Uub	113 Nh	114 Fl	115 Mc	116 Lv	117 Ts	118 Og
		58 Ce	59 Pr	60 Nd	61 Pm	62 Sm	63 Eu	64 Gd	65 Tb	66 Dy	67 Ho	68 Er	69 Tm	70 Yb	71 Lu		
		89 Ac	90 Th	91 Pa	92 U	93 Np	94 Pu	95 Am	96 Cm	97 Bk	98 Cf	99 Es	100 Fm	101 Md	102 No	103 Lr	

ISBN 978-9936-25-031-4
9 789936 250314 >

Ketabton.com

ار کي يې پيرودل او
ي چلن وشي.



د تعلیمي نصاب د پراختیا، د ښوونکو د روزني او د ساینس د مرکز معینیت د تعلیمي نصاب د پراختیا او درسي کتابونو د تالیف لوی ریاست

کیمیا

Chemistry

ټولگاتلی

د چاپ کال: ۱۳۹۰ هـ. ش

الف

تالیف کوونکی:

پوهنمل دوکتور نظر محمد «حلم» د کابل پوهنتون استاد.
دوکتور محمد حسن «سليمي» د پوهني وزارت د علمي شورا غړی.
پوهنپار هدايت الله «هدايت» د بلخ پوهنتون استاد.
د مؤلف مرستيال عتيق احمد «شينواری» د تعليمي نصاب د پراختيا او درسي کتابونو د تالیف ریاست علمي غړی.

علمي ادیتوران:

دوکتور محمد حسن «سليمي» د پوهني وزارت د علمي شورا غړی.
پوهندوی دینلم انجنیر عبدالمحمد «عزیز» د کابل پوهنتون استاد.
پوهنپار محمد نور «شریفی» د پروان د عالی تحصیلاتو د استیتوت استاد.

د ژبې ادیت کوونکی:

پوهنوال محمدجان «حقیال» د کابل پوهنتون استاد.
محمد قدوس «رکخیل» د تعليمي نصاب د پراختيا او درسي کتابونو د تالیف ریاست علمي غړی.

دیني، سیاسي او فرهنگي کمیټه:

- مولوي عبدالصبور عربي
- دکتور محمد يوسف نیازی
- حبيب الله راحل د پوهني وزارت سلاکار د تعليمي نصاب د پراختيا په ریاست کې.

د څارني کمیټه:

- دکتور اسدالله محقق د تعليمي نصاب د پراختيا، د بنوونکو د روزني او د ساينس مرکز معين.
- دکتور شېرعلي ظریفی د تعليمي نصاب د پراختيا د پروژې مسؤول.
- د سر مؤلف مرستيال عبدالظاهر گلستاني د تعليمي نصاب د پراختيا او درسي کتابونو د تالیف لوی رئیس.

کمپيوټر او ډیزاين:

وحیدالله «انورزاد» حمید کریمي (سمنجره بڼي)





ملي سرود

دا وطن افغانستان دی دا عزت د هر افغان دی
کور د سولې کور د توري هر بچی بې قهرمسان دی
دا وطن د ټولو کور دی د بلوڅو د ازبکو
د پښتون او هزاره وو د ترکمنو د تاجکو
ورسره عرب، گوجر دي پامیریان، نورستانیان
براهوي دي، قزلباش دي هم ایماق، هم پشه بان
دا هیواد به تل ځلېږي لکه لمر پر شنه اسمان
په سینه کې د اسیا به لکه زړه وي جاویدان
نوم د حق مو دی رهبر وایو الله اکبر وایو الله اکبر

بِسْمِ اللّٰهِ الرَّحْمٰنِ الرَّحِیْمِ

د پوهني د وزير پيغام گرانو ښوونکو او زده کوونکو،

ښوونه او روزنه د هر هېواد د پراختيا او پرمختگ بنسټ جوړوي. تعليمي نصاب د ښوونې او روزنې مهم توکي دی چې د معاصر علمي پرمختگ او ټولني د اړتياو له مخې رامنځته کېږي. څرگنده ده چې علمي پرمختگ او ټولنيزې اړتياوې تل د بدلون په حال کې وي. له دې امله لازمه ده چې تعليمي نصاب هم علمي او رښانه انکشاف ومومي. البته نه ښايي چې تعليمي نصاب د سياسي بدلونونو او د اشخاصو د نظريو او هيلو تابع شي.

دا کتاب چې نن ستاسو په لاس کې دی، پر همدې ارزښتونو چمتو او ترتيب شوی دی. علمي گټورې موضوعگانې پکې زياتې شوې دي. د زده کړې په بهير کې د زده کوونکو فعال ساتل د تدرسي پلان برخه گرځېدلې ده.

هيله من يم دا کتاب له لارښوونو او تعليمي پلان سره سم د فعالې زده کړې د ميتودونو د کارولو له لارې تدریس شي او د زده کوونکو ميندې او پلرونه هم د خپلو لویو او زامنو په پاکيفيته ښوونه او روزنه کې پرله پسې گډه مرسته وکړي چې د پوهنې د نظام هيلې ترسره شي او زده کوونکو او هېواد ته ښې برلوي وړ په برخه کړي.

پر دې ټکي پوره باور لرم چې زموږ گران ښوونکي د تعليمي نصاب په رښانه پلي کولو کې خپل مسؤوليت په رښتيني توگه سرته رسوي.

د پوهنې وزارت تل زيار کاږي چې د پوهنې تعليمي نصاب د اسلام د سپېڅلي دين له بنسټونو، د وطن دوستۍ د پاک حس په ساتلو او علمي معيارونو سره سم د ټولني د څرگندو اړتياو له مخې پراختيا ومومي. په دې توگه کې د هېواد له ټولو علمي شخصيتونو، د ښوونې او روزنې له پوهانو او د زده کوونکو له ميندو او پلرونو څخه هيله لرم چې د خپلو نظريو او رښانه وړاندیزونو له لارې زموږ له مولفانو سره د درسي کتابونو په لايښه تاليف کې مرسته وکړي.

له ټولو هغو پوهانو څخه چې د دې کتاب په چمتو کولو او ترتيب کې يې مرسته کړې، له ملي او نړېوالو درنو مؤسسو او نورو دوستو هېوادونو څخه چې د نوي تعليمي نصاب په چمتو کولو او تلوين او د درسي کتابونو په چاپ او وپس کې يې مرسته کړې ده، مننه او درناوی کوم.

وَمِنَ اللّٰهِ التَّوْفِیْقِ
فَارَوِقْ وَرَدِّکَ

د افغانستان د اسلامي جمهوريت د پوهني وزير

سلیک

مخ	شمیره
۱	۱
۲	۲
۳	۳
۱۰	۴
۱۲	۵
۱۳	۶
۲۴	۷
۲۶	۸
۲۷	۹
۴۲	۱۰
۴۴	۱۱
۴۵	۱۲
۴۶	۱۳
۵۰	۱۴
۵۴	۱۵
۵۶	۱۶
۵۷	۱۷
۶۱	۱۸
۶۲	۱۹
۶۶	۲۰
۶۸	۲۱
۶۹	۲۲
۷۸	۲۳
۸۰	۲۴
۹۲	۲۵
۹۴	۲۶
۱۰۴	۲۷

سریزه

لومړی څپرکی: د اټوم اساسي اجزاوې

د اټوم تاریخچه ته کتنه

د لومړي څپرکي: لنډيز او پوښتني

دویم څپرکی: په دورانې جدول کې د عناصرو ترتیب

د عناصرو دوره يي (تناويي) جدول

د دویم څپرکي لنډيز او پوښتني

دريم څپرکی: کيمياوي رابطي

د ځينو مهمو مفهو مونږ يادونه

د درېم څپرکي لنډيز او پوښتني

څلورم څپرکی کيمياوي تعاملونه او معادلي

کيمياوي تعاملونه

کيمياوي معادلي

د کيمياوي تعاملونو ډولونه

د څلورم څپرکي لنډيز او پوښتني

پنځم څپرکی: ډاکسايډونو جوړښت او ډکارولو ځلونه يي

اکسيجن د تحمض کونکي مادې په حيث

د اکسايډونو نوم ايښودل

د سون موادو سوځول

د پنځم څپرکي لنډيز او پوښتني

شپږم څپرکی: مهم صنعتي مرکبونه

سره څه شی ده؟

د شپږم څپرکي لنډيز او پوښتني

اووم څپرکی: تيزابونه او القلي گانې

د اووم څپرکي لنډيز او پوښتني

اتم څپرکی: مالگې

د اتم څپرکي لنډيز او پوښتني


سسرین ه

د کیمیا علم د انسانانو د اوزدو کلونو تجربو د ترسره کولو گټه ده چې د یو حیاتي مضمون په توگه څرگند شوی دی او د معاصرو ارزښت لرونکو علومو له جملې څخه شمیرل کېږي. څرنگه چې کیمیا د مادې څخه بحث کوي او په اووم ټولگي کې د مادې او د هغې د ځانگړتیاوو په اړه بحث شوی دی، په دې کتاب کې د مادې د بنسټیزو ذرو په اړه معلومات وړاندې شوي دي. د اتم ټولگي په کیمیا کې لاندې مطالب د لړلیک په شکل ځای پر ځای شوي دي. په لومړي څپرکي کې د اټوم د اجزاو په اړه بحث او د اټوم د تاریخ په اړه معلومات وړاندې شوي دي. د هستې او د اټوم د الکتروني قشر د ټولو مشخصاتو سره توضیح شوي دي. دوهم څپرکي د عنصرونو دوره يي جدول، د عنصرونو ترتیب توضیح کوي او عموماً د دوره يي جدول د دورو او گروپونو، په ټاکلي گروپ کې د عنصرونو ورته کیمیاوي خواص په اړه معلومات وړاندې شوي دي.

د دې کتاب دریم څپرکي د کیمیاوي اړیکو او د هغوی د ډولونو په اړه معلومات وړاندې کوي او ځینې اساسي مفهومونه؛ لکه: سمبول، ولاس، فارمول او د اوکټیت قوانین توضیح شوي دي. په څلورم څپرکي کې تعاملونه او کیمیاوي معادلي توضیح شوي دي او د کیمیاوي تعاملونو په کیمیاوي تعاملونو کې د کتلې د پایښت قانون او د کیمیاوي معادلو توزین په اړه معلومات ورکړ شوي دي.

په پنځم څپرکي کې اکسایډونه او د هغوی اکسیدیشن نمبر، د موادو نوم ایښودنه، د فلزونو رنگ وهل او خرابیدل اود اکسایډونو د استعمال ځایونه څرگند شوي دي. شپږم څپرکي د مهمو صنعتي مرکبونو څخه بحث کوي او عموماً د کیمیاوي سرو، د نباتاتو ضروري عنصرونه، د سرو ډولونه او د کلورین مرکبونو په اړه معلومات وړاندې کوي. په اووم څپرکي کې د تیرایونو او القلیو په اړه معلومات وړاندې شوي او خواص، لاسته راوړل او د هغوی د کارولو ځایونه توضیح شوي دي. په اتم څپرکي کې د مالگو او د هغوی خواصو په اړه معلومات او عادي مالگي، د هغوی اهمیت توضیح شوي دي.

د هر څپرکي په متن کې د ذکر شو مطالبو د بڼې زده کړې په موخه کړنې وړاندې شوي دي، ترڅو زده کوونکي د هغوی په سرته رسولو د بڼې زده کړې څخه برخمن شي. همدا رنگه د هر څپرکي په پای کې د مطالبو لنډيز، او نا حل شوي پوښتنې لیکل شوي دي چې زده کوونکو سره د درسي موضوعگانو په پوهیدلو کې مرسته کوي. په دې کتاب کې ټول لیکل شوي مطالبونه په ډیر ساده او د ټولو لپاره د پوهیدلو وړ په پام کې نیول شوي دي چې د زده کوونکو په زده کړې کې گټور واقع شي.



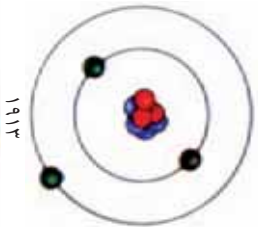

د اټوم اساسي اجزاوې

له څېرو پخوانيو پېړيو راهيسې پوهانو د اټوم په باره کې مختلفې نظريې وړاندې کړې دي. د هغوی له جملې څخه د لرغوني يونان، فيلسوف ديموکریت داسې نظر ورکړې دي: که چېرې ماده په پرله پسې توگه ووشو په پاي کې داسې ذرې په لاس راځي چې نور نه ویشل کېږي. ديموکریت پر دې ذرې د اټوم نوم کېښود. د اټوم کلمه له يوناني اصطلاح د atomos څخه اخيستل شوې ده چې د نه ویشل کېدونکې معني لري.

جان دالټون هم د ديموکریت نظريه ومنله او د اټوم لپاره يې يو ډک کروې شکله جوړښت وړاندې کړ، اما نن ثابته شوي ده چې اټوم د ویشلو وړ او له نورو وړو ذرو څخه جوړ شوی دی. تاسې په شپږم او اووم ټولگي کې د اټوم او د هغه د اجزاوو په باره کې لازم معلومات تر لاسه کړي دي.

په دې فصل کې د اټوم او د هغه د اساسي اجزاوو؛ لکه: اټومي نمبر، د کتلې نمبر او په مدارونو کې به د الکترونونو ویشل او دې ته ورته مطالبو په زده کړه به د کيمياوي تعاملونو او عناصرو ماهيت ساده شي.

د اټوم تاریخچي ته کتنه



اوسپي

(۱-۱) شکل د اټومي مودلونو ترتیب د پورته څخه نښکته خواته: دالتون اټومي مودل، تامسون اټومي مودل، رادرفورد اټومي مودل، د بور اټومي مودل او کوانټومي اټومي مودل.

د اټوم د پاره مختلف جوړښتونه وړاندې شوي دي. پر ششمیر پوهانو د جان دالتون نه وروسته د اټوم د جوړښت په هکله ډیرې مطالعې او تجربې تر سره کړې دي او د اټوم د پاره یې دقیقې نظریې او مناسب مودلونه وړاندې کړې دي. جوزف تامسون د دالتون نظریه چې اټوم ته یې یوه کروي شکله ذره ویلې وه ومنله، مگر ویې ویل چې په اټوم کې منفي چارج لرونکي ذرې موجودې دي، چې الکترون نومېږي. څرنګه چې ټول مواد ختني دي، نو هرو مرو به د اټوم په جوړښت کې مثبت چارج لرونکي ذرې چې تعداد یې د منفي چارج لرونکو ذرو سره مساوي وي، هم شتون ولري.

تامسون د دې سوال په ځواب کې چې منفي او مثبت چارجونه څرنګه د یو بل په څنګ کې شتون لري؟ داسې وویل: الکترونونه د ممبرو په شان په ممبرو لرونکي کیک کې د مثبت چارجونو د خمیرې په منځ کې خپاره شوي دي.

نیوزیلاندي پوه رادرفورد په ۱۹۱۱ کال کې د تامسون اټومي مودل رد کړ او د هغه پر ځای یې خپل اټومي مودل داسې معرفي کړ:

● اټوم یوه وړه هسته لري، چې د اټوم تقریباً ټوله کتله په هغه کې تمرکز موندلې دي او دا هسته مثبت چارج لري.

● د هستې حجم د اټوم د حجم په مقایسه ډیر کوچني دي؛ نوله دي کبله د اټوم د حجم ډیره برخه تشه فضا جوړوي.

● د اټوم هسته د الکترونونو په واسطه چاپیره شویده.

رادرفورد د شمسي منظومي مودل د اټوم لپاره داسې معرفي کړ: "څرنګه چې لمر د شمسي منظومې په مرکز کې ځای لري، د اټوم په مرکز کې هسته ځای لري، د هغه په شاوخوا کې الکترونونه په دايمي او دایروي شکل څرخېږي.

نیلز بور دنمارکي پوه، د رادرفورد څخه دوه کاله وروسته په ۱۹۱۳ کال کې خپل نظر داسې وړاندې کړ: الکترونونه د هستې پر شاوخوا د انرژي په ټاکلو سمبول کې ګرځي چې نه انرژي جذبوي او نه یې آزادي.

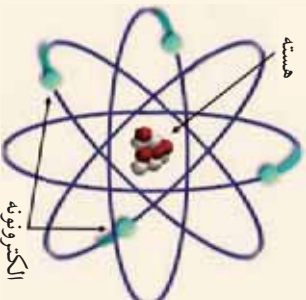
"البته ځینې نمینګ تیاوي په وړاندې شوي مودلونو کې لیدل کېږي. نن

کوانتومي مودل د اټوم د جوړښت له پاره منل شوی شکل دی چې په پورتنیو ټولگيو کې د هغه په باره کې به بشپړه معلومات لاس ته راوړي. په دې ټولگي کې د بورډ اټومي مودل څخه چې لږ څه اسان دی او هم دا چې تریوري اندازي پورې د اټوم خواص په ښه توگه توضیح کوي، استفاده کوو.




مقایسه یي کوي : کومه

په دې نظر د بورا د تامسن اټومي مودلونه کم تاثیرونه او ورته والی سره لري؟



(۲-۱) شکل د بور اټومي مودل



(۳-۱) شکل د تامسن اټومي مودل


د اټوم اجزاوی وپېژني

څرننگه چې پوهېږي، اټوم د دوو اساسي برخو، هستې او الکتروني قشرونو څخه جوړ شوی دی.

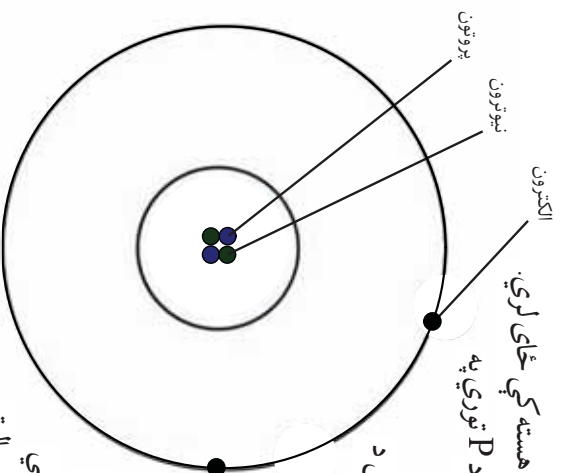
د اټوم هسته د اټوم په مرکز کې واقع ده او مثبت چارج لري. د اټوم هسته د اټوم د حجم په مقایسه جیره کوچنۍ فضا نیولي ده.

که چیرې د اټوم هسته د توپ په اندازه وگڼل شي، نو د اټوم د حجم غټ والی به د فوتي بال د سټیوم د حجم په اندازه وي.

به هسته کې دوی اساسي ذرې، پروتون او نیوترون ځای لري چې د اټوم کتله په هغوي پورې اړه لري.



(۴-۱) شکل د اټوم د هستې او اټوم د حجم ترمنځ مقایسوي شکل



(۰-۱) شکل د هلیوم ائومی مودل

پروتونونه: پروتونونه کوچنی ذری دی چې د ائوم په هسته کې خای لری. دا ذری د برېښنايي مثبت چارج (+) لرونکی دی او د P توري په واسطه ښودل کېږي.

نیوترونونه: نیوترونونه هم کوچني ذري دي چې د هغوی کبله د پروتون د کتلې سره تقریباً مساوي ده او کوم برقي چارج نلري. (چارج ئي صفر دی) او د n د توري په واسطه ښودل کېږي. دا ذري د انګلیسي پوه جمیز چادویک، په واسطه کشف شويدي.

الکترونونه: الکترونونه په الکتروني قشرونو کې ځای لري او خورا ډیرې کوچني ذري دي او د هستې په شاوخوا په مختلفو انرژيکې سويو کې د ګرځیدو په حالت کې دي. الکترونونه د e توري په واسطه ښودل کېږي، چارج ئي منفي (-) دی او د یو الکترون کبله د یو پروتون په پرتله ۱۸۴۰ ځلې سپیکه ده. همدا علت دی چې د ائوم کبله په طبیعي توګه د هغې په هسته کې تمرکز موندلی دی.

ائومي نمبر

د عنصر ونو ماهیت او اساسي خاصیت د هغوي په ائومي نمبر پوري تړلی دی. د پروتونونو مجموعي شمیره چې د ائوم په هسته کې ځای پر ځای دی د هغه عنصر د ائومي نمبر په نوم یادېږي؛ د مثال په توګه: د هیلروجن د ائوم په هسته کې یو پروتون شتون لري، نو د هغه ائومي نمبر یو دی. همدارنګه د اکسیجن د ائوم په هسته کې ۸ پروتونونه شتون لري، نو د اکسیجن ائومي نمبر اته دی. د عنصرونو ائومونه په عادي حالت کې مساوي پروتونونه او الکترونونه لري، نو له دې کبله د عنصرونو ائومونه د چارج له مخې تل ختني وي.



کوچه

د اوسپني اټوم ۲۶ الکترونونه لري، نو دا اټوم په خپله هسته کې پروتونونه لري او د هغه اټومي نمبر دی.

د کتلې نمبر څه شی دی؟

څرخنگه چې وویل شول، د الکترون کتله خورا ډیره کوچنۍ ده، نو د هغه کتله د اټومي کتلې په محاسبه کې په پام کې نه نیول کېږي؛ نو په دې ډول د پروتونونو او نیوترونونو مجموعي ته چې د پیر اټوم په هسته کې شتون لري، د هغه عنصر د کتلې نمبر ویل کېږي؛ د مثال په توګه: د هیلیم عنصر په خپله هسته کې دوه نیوترونونه او دوه پروتونونه لري، نو د هغه د کتلې نمبر ۴ دی. همدارنګه د فلورین د اټوم په هسته کې ۹ پروتونونه او ۱۰ نیوترونونه شتون لري، نو: د کتلې نمبر یې ۱۹ دی.

د یو اټوم په هسته کې د پروتونونو او نیوترونونو مجموعي ته د کتلې نمبر ویل کېږي.

د کتلې نمبر = پروتونونه + نیوترونونه د عنصرونو د کتلې نمبر او اټومي نمبر د اټوم دوه خاصیتونه دي چې په لاندې ډول ښودل کېږي: سمبول F د کتلې نمبر ۱۹ د اټومي نمبر ۹ دی.



کوچه

لاندې جدول په خپلو کتابچو کې ولیکئ او د هغه تښت ځایونه وګڼ کړئ.

پټاشیم	مس	کلورین	د عنصر نوم
۱۹		۱۷	اټومي نمبر
۲۰	۳۴		د نیوترونونو شمیر
	۶۳	۳۵	د کتلې نمبر
K	Cu	Cl	سمبول

الکتروني قشرونه

خړنگه چې وویل شول الکترونونه د هستې په شاوخوا کې د خړجیدلو په حالت کې دی او چارج یې منفي دی. د هغوی چارجونه د پروتونونو د چارجونو سره معادل دی.

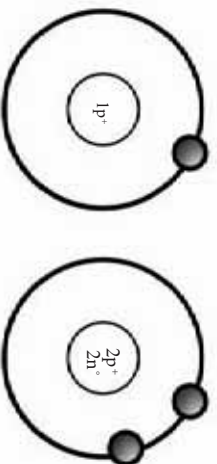
آیا ټول الکترونونه د هستې په شاوخوا په یوه انرژیکي سوبه کې حرکت کوي؟ نه، الکترونونه په یوه سوبه کې حرکت نه کوي؛ بلکې په مختلفو انرژیکي سوبو کې حرکت کوي. الکترونونه په اصلي انرژیکي سوبو کې د $2n^2$ فورمول سره د تعداد له کبله سمون لري؛ په دې فورمول کې n د اړوند انرژیکي نمبر رابښي چې $1, 2, 3, 4, 5$ او نور قیمتونه ځانته غوره کوي؛ د مثال په توګه: په لومړۍ اصلي انرژیکي سوبه کې چې $n = 1$ دی، د الکترونونو اعظمي شمیره داسې محاسبه کولای شو:

$$2n^2$$

$$n=1$$

$$2 \times 1^2 = 2 \times 1 = 2$$

د فورمول محاسبې وښودله چې د الکترونونو اعظمي شمیره په لومړۍ اصلي انرژیکي سوبه کې ۲ دی؛ د مثال په توګه: د هایدروجن او هیلیم عنصرونه پراخې یوه یوه انرژیکي سوبه لري. خړنگه چې د هایدروجن اټومي نمبر یو او د هیلیم اټومي نمبر دوه دی، نو مونږ د هغوی اټومي موډل داسې رسمولای شو:



(۱-۷) شکل د هایدروجن د اټوم موډل

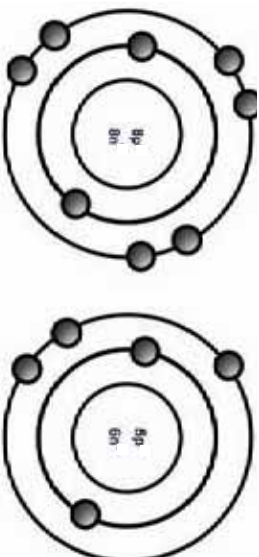
(۱-۶) شکل د هیلیم د اټوم موډل

د دوهمې انرژيکي سوي د الکترونونو اعظمي شميره داسې محاسبه $2n^2$ کېږي.

$$n=2$$

$$2 \times 2^2 = 2 \times 4 = 8$$

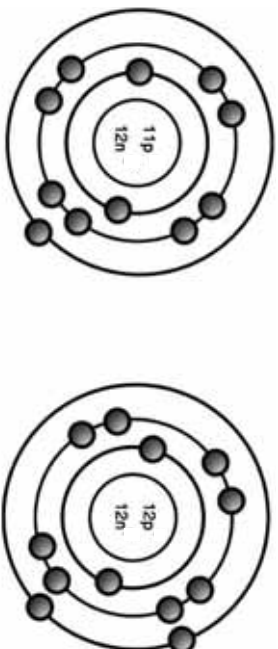
څرنگه چې ليدل کېږي په دويمه انرژيکي سويه کې له يوه الکترون څخه نيولی تر اټو الکترونونو پورې ځای په ځای کېدای شي؛ د بيلگي په توگه: د اکسيجن عنصر د الکترونونو ويشلو څرنگوالی په اصلي انرژيکي سويو کې چې اټومي نمبر يې اته او د بورون د اټوم اټومي نمبر پنځه دی، داسې بڼو دل کېږي.



شکل (۱-۹) د اکسيجن د اټوم مودل

شکل (۱-۸) د بورون د اټوم مودل

که چېرته د الکترونونو شمير له لسو څخه زيات شي؛ نو اضافي الکترونونه په درېيمې اصلي انرژيکي سوي کې ځای نيسي؛ د مثال په توگه: د سوډيم عنصر اټومي مودل چې اټومي نمبر يې ۱۱ اود مگنيزيم اټومي مودل چې اټومي نمبر يې ۱۲، په لاندې ډول بڼو دل کېږي:



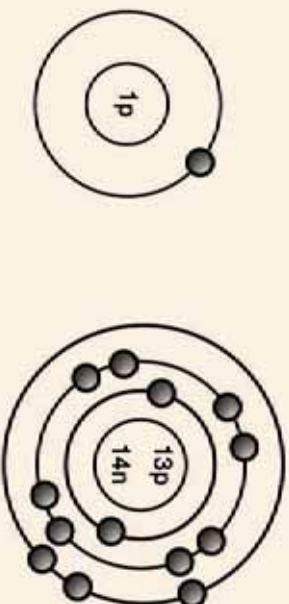
شکل (۱-۱۱) د سوډيم د اټوم مودل

شکل (۱-۱۰) د مگنيزيم د اټوم مودل

اوس پوره شول چې په لومړی اودوهمه انرژيکي سويو کې ټول ۱۰ الکترونو پورې ځای په ځای کېدای شي.

گونه

د دوو لاندینيو اټومونو جوړښت سره پرتله کړئ او د هغوی ترمنځ توپیر او ورته والی په خپلو کتابچو کې وليکئ.



شکل (۱-۱۳) د هایدروجن د اټوم موډل

شکل (۱-۱۲) د هیلیم د اټوم موډل

زیاتي معلومات

د اټوم الکتروني اصلي انرژيکي سونې د هستې له لورې بهر خوا ته سربيره پر بشپړ طبيعي عددونو لکه ۱، ۲، ۳ او نورو تورو په واسطه هم معرفي کېږي، داسې چې لومړی انرژيکي سويه په (K)، دوهمه انرژيکي سويه په (L)، دريمه انرژيکي سويه په (M)، او داسې نور ښودل کېږي.




شکل (۱-۱۴) د الکتروني مدارونو ښودل د توري په واسطه

گونه

د لاندینيو عنصرونو جوړښتي رسم کړئ.

د عنصر نوم او سمبول	Mg	S	Cl
اتومي شمېر	۱۲	۱۶	۱۷
د کتلې شمېر	۲۴	۳۲	۳۵



د لومړي څپرکي لنډيز

- ▶ ديموکريټ او وروسته دالتون دواړه په دې باور وو چې اټومونه خورا ډير کوچني ډک کروي ذرې دي، چې د تجزيې وړ نه دي.
- ▶ رادرفورډ د اټوم د پارټلې جوړښت وړاندې کړ. يعنې هسته د اټوم په مرکز کې شتون لري او الکترونونه د هستې په شاوخوا کې په مختلفو اثر کې سويو کې حرکت کوي.
- ▶ نن کوانټومي نظريه د منلو وړ کړځيدلي ده.
- ▶ د اټوم د هستې چارج مثبت دی چې د اټوم په مرکز کې شتون لري او د پروټونونو او نيوترونونو اساسي ذرې په هغه کې ځای لري.
- ▶ الکتروني اثر کې سويي هغه ساحې يا ځايونه دي چې په هغوي کې الکترونونه د هستې په شاوخوا کې د گړځيدلو په حالت کې دي.
- ▶ د يو اټوم د پروټونونو مجموعه چې په هسته کې شتون لري، د هغه اټوم د اټومي نمبر په نامه يادېږي.
- ▶ د پروټونونو او نيوترونونو مجموعه چې د اټوم په هسته کې شتون لري د کتلې نمبر په نامه يادېږي.

د لومړي څپرکي یونیني

۱- لاندیني جدول په خپلو کتابچو کې ولیکي او د هغه ش ځایونه ډک کړئ:

د عنصر نوم او سمبول	P فاسفورس	Ne نېون	K پوتاشیم	Be بېریلیوم	Al المونیم
اتومي نمبر			۱۹		۱۳
ډکېلې نمبر	۳۱		۲۹	۹	۲۷
د الکترونونو شمیر	۱۵				
د پروتونونو شمیر	۱۰				
د نیوترونونو شمیر	۱۰			۴	

د هری یونیني له پاره څلور ځوابونه ورکړل شويدي یوازې صحیح ځواب حلقه کړئ.

۲- پروتونونه او نیوترونونه په کوم ځای کې وی؟

الف) هسته (ب) په انرژیکي سیمو کې (ج) د اټوم په خارج (د) هېڅ یو

۳- اټومونه له څو اساسي برخو څخه جوړ شويدي؟

الف) ۵ برخې (ب) ۳ برخې (ج) ۴ برخې (د) ۲ برخې

۴- اټومي نمبر د کوم ذره مجموعه ده؟

الف) الکترونونه او پروتونونو (ب) پروتونونو او نیوترونونو

(د) پروتونونو، نیوترونونو او الکترونونو

سمي او ناسمي یونیني

د سمو یونینونو په څنګ د اینیوډل شوو قوسونو په منځ کې د (س) توري اود ناسمو یونینونو له

پاره د (نا) توري کېږدي.

۵- پروتونونه چارج لرونکی ذرې دی چې د هستې په شاوخوا کې ګرځي ()

۶- د پروتونونو او نیوترونونو مجموعه چې په هسته کې ځای لري د کتلې د نمبر په نامه یادېږي ()

۷- الکترونونه منفي چارج لري. ()

۸- پروتونونه وړی ذرې دی چې په هسته کې ځای په ځای دی او مثبت چارج لري. ()

لاندیني یونیني په دوو برخو چې د یونینونو او ځوابونو برخې دی ، د پاتې په ښي او کینو خواو کې لیکل شوي دي ، د ځوابونو هغه نمبرې چې په اړوند یونیني پورې اړه لري ، په ځانګړی قوس چې د هغه یونیني په څنګ کې ځای لري ، ولیکئ.

یونیني

۹- د شمسي نظام مودل د اټوم د پاره وړاندې کړئ ()

۱۰- دالتون په دې باور وو چې اټوم ()

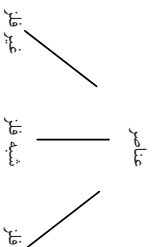
۱۱- په دوهم مدار کې په اعظمي توګه ()

۱۲- د اټوم جوړښت د سمین لرونکي کیک په شکل

دی ()

۰- ۸ الکترونه ځایږي.

۱- رادرفورډ.




خړنگه چې په سرېزه کې وویل شول، پوهانو هېې ځلې وکړې چې عنصرونه د هغوی د ورته خواصو پر بنسټ په ټاکلو گروپونو کې ځای پر ځای کړي. ددې هدف ترسره کولو لپاره عنصرونه په لومړي سر کې په فلز او غیر فلز ووېشل شول، وروسته له هغه ویلې شول چې څینې عنصرونه دوه گونې خاصیت (هم فلز او هم غیر فلز) له ځانه څخه بښي؛ نو له دې امله شبه فلزات په پاسني تقسیمات کې ورزیات شول.


د عنصرونو دوره یي (تناوی) جدول



(ج)



(ب)



(الف)

شکل (۱-۲) الف: سرب، د فلز نمونه ب: سلفر، د غیر فلز نمونه ج: سیلیکان، د شبه فلز نمونه

کله چې نوري عنصرونه کشف شول، دې وپېشلو هم ونښو کولای چې ډېرو پوښتنو ته ځواب ورکړي، پوهان د داسې خواصو د موندلو په فکر کې ولیدل چې وکړای شي د هغه په واسطه عنصرونه داسې ترتیب کړي چې د هغوی د یوه عنصر د خواصو په پوهیدلو د څینې د نورو د خواصو په هکله هم معلومات تر لاسه کړي.

روسي پوه د یمتری ایوانو وینچ منلیف په ۱۸۶۹ کال کې عنصرونه دهغوی د اټومي کتلې د زیاتوالي پر بنسټ دوراني جدول ترتیب کړ. د منلیف تر وخته تر وخته پورې ۶۳ عنصرونه کشف شوي وو. منلیف ددې خاصیت (اټومي کتلې) په استفادې سره د هغو عنصرونو ځایونه چې تر هغه وخته پورې کشف شوي نه وو تش پرېښودل. دا کار ددې لامل شو چې پوهان یو له بل نه وروسته د خپلو هلو ځلو

په ترڅ کې هغه عنصرونه چې پېژندل کېدل په تشو پرېښودل شوو ځايونو کې ځای په ځای کړي. منډلیف د فکر کاوه چې د عنصرونو ټول خواص د هغوي په اتومي کتلې پورې تړلي دي. منډلیف د کار د آسانتیا د پاره له عنصرونو د مکمل نوم په عوض دهغوي سمبولونه په خپل ترتیب شوي جدول کې ولیکل. د منډلیف په ترتیب شوي جدول کې عنصرونه د هغوي د اتومي کتلې د زیاتوالي په بنسټ ترتیب شوي وو، ځینې ستونزې رامنځ ته شوي؛ د مثال په توګه: د آرګون عنصر (Ar) چې اتومي کتله یې ۴۰ ده، بېلابېلې ترتیب شوی وای چې د پېټاشیم عنصر (K) څخه چې اتومي کتله یې ۳۹ ده خوروسته راغلی وای، منډلیف د خپلې طرحې پر خلاف عنصرونه د ورته خواصو پر بنسټ په خپلو اړوند ګروپونو کې ځای په ځای کړل، ځکه چې منډلیف فکر کاوه چې ممکن ده په خپله د عنصرونو د اتومي کتلې په اندازه کولو کې اشتباه کړي وي.



ګونه

د منډلیف جدول ته څېړنې او هغه عنصرونه په کې پیدا کړي چې د منډلیف د قاعدې په خلاف پر هغه کې ځای په ځای شوي وي.

په ۱۹۱۴ کال کې هنری موزلی او راډرفورډ انګلیسي او نیوزیلانډي پوهانو د عنصرونو اتومي نمبر کشف څخه وروسته وویل چې د مختلفو عنصرونو اتومونه مختلف اتومي نمبرونه لري. کله چې اتومي نمبر د عنصرونو د ترتیب له پاره په جدول کې معیار و ټاکل شو، نو د منډلیف د جدول ستونزه له منځه لاړه. د عناصرو ننی دوراني جدول د اتومي نمبر پر بنسټ ترتیب شوي دي.

	IA 1											IIA 2							IIIA 13	IVA 14	VA 15	VIA 16	VIIA 17	VIIIA 18				
1	H 1.008											He 4.003							B 10.81	C 12.01	N 14.01	O 16.00	F 18.99	Ne 20.18				
2	Li 6.941											Be 9.012							Al 26.98	Si 28.09	P 30.97	S 32.06	Cl 35.45	Ar 39.95				
3	Na 22.99											Mg 24.31	IIIB 3	IVB 4	VB 5	VIB 6	VII B 7	VIII 8 9 10			IB 11	II B 12	Al 26.98	Si 28.09	P 30.97	S 32.06	Cl 35.45	Ar 39.95
4	K 39.10											Ca 40.08	Sc 44.96	Ti 47.88	V 50.94	Cr 52.00	Mn 54.94	Fe 55.85	Co 58.93	Ni 58.69	Cu 63.55	Zn 65.38	Ga 69.72	Ge 72.64	As 74.92	Se 78.96	Br 79.90	Kr 83.80
5	Rb 85.47											Sr 87.62	Y 88.91	Zr 91.22	Nb 92.91	Mo 95.94	Tc 98.00	Ru 101.07	Rh 102.91	Pd 106.42	Ag 107.87	Cd 112.41	In 114.82	Sn 118.71	Sb 121.76	Te 127.60	I 126.91	Xe 131.29
6	Cs 132.91											Ba 137.33	La 138.91	Hf 178.49	Ta 180.95	W 183.84	Re 186.21	Os 190.23	Ir 192.22	Pt 195.08	Au 196.97	Hg 200.59	Tl 204.38	Pb 207.2	Bi 208.98	Po 209	At 210	Rn 222
7	Fr 223											Ra 226	Ac 227	Rf 261	Db 262	Sg 266	Bh 264	Hs 269	Mt 268	Ds 271	Ts 272	Og 277						

La 138.91	Ce 140.12	Pr 140.91	Nd 144.24	Pm 145	Sm 150.36	Eu 151.96	Gd 157.25	Tb 158.93	Dy 162.50	Ho 164.93	Er 167.26	Tm 168.93	Yb 173.05	Lu 174.97
Ac 227	Th 232.04	Pa 231.04	U 238.03	Np 237.05	Pu 244.06	Am 243.06	Cm 247.07	Bk 247.07	Cf 251.08	Es 252.08	Fm 257.10	Md 258.10	No 259.10	Lr 260.10

(۱-۲) شکل د عنصرونه دوراني جدول جي مطابق د دوروي جدول چارو ترتيب کر

ګروپونه او تناوبونه (دوري)

خړنگه چې په دوراني جدول کې ګوري، په هغه کې افقي او عمودي قطارونه شتون لري. د دوراني جدول افقي قطارونه د تناوب يا دوري (period) په نامه يادېږي. عنصرونه په پېرودونو کې د هغوي د اټومي نمبر پرله پسې د زياتوالي پر بنسټ ځای په ځای شوي دي؛ د مثال په توګه: د لېتيم اټومي نمبر ۳ د بيريليم اټومي نمبر ۴، د بورون اټومي نمبر ۵، د کاربن اټومي نمبر ۶ او داسې نور دي چې ټول په يوه دوره کې ځای نيولي دي او د دوو څنګ په څنګ عنصرونو د اټومي نمبرونو ترمنځ توپير يو دی.

Li	Be	B	C	N	O	F	Ne
----	----	---	---	---	---	---	----

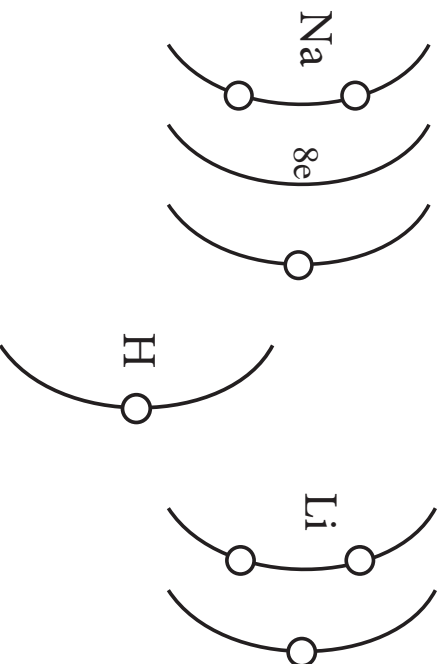
(۳-۲) شکل د عنصرونو د دوراني جدول دويمه دوره

خړنگه چې د عنصرونو خواص په ټاکلو واټن کې په ګرځنده بڼه تکرار کېږي، د عنصرونو خواص په تناوبي شکل تکرارېږي. نو عنصرونو د يوې دورې د بشپړېدلو څخه وروسته په عمودي سټونو کې يو د بل لاندې ليکل کېږي.

په جدول کې عمودي سټي د ګروپ او يا کورنۍ په نوم يادېږي. عنصرونو په عمودي سټونو کې د هغوي د وروستي انرژيکي سويې د الکترونونو د شمېر پر بنسټ ځای په ځای شوي دي؛ د مثال په توګه: هغه ټول عناصر چې په لومړۍ ګروپ کې ځای لري په خپل وروستي انرژيکي قشر کې يو الکترون لري. (۴-۲) شکل ته وګورئ.

سره له دې چې هایدروجن يو غير فلز دی او د هغه ډير کيمياوي خواص د لومړۍ ګروپ له نورو عنصرونو سره توپير لري او په جلا توګه تر مطالعې لاندې نيول کېږي؛ خو د لومړۍ ګروپ په سر کې ځای لري؛ نو ځکه د عنصرونو په لومړۍ ګروپ کې شپږ فلزي عنصرونه شته دي. هغوي ټول په خپل وروستي قشر

کې يو الکترون لری. ددې گروپ عنصرونه د القلی فلزونو د گروپ په نامه يادېږي.



۲-۱۲ شکل د لومړۍ گروپ د ځینو عنصرونه او د هایدروجن د اټوم جوړښت

عنصرونه په گروپونو کې د هغوي د کيمياوي ورته خواصو پر بنسټ ترتيب شوي دي، که چېرته په يو گروپ پورې تړلي د يوه عنصر په کيمياوي خواصو پوره شوه، د هغه گروپ د نورو عنصرونو د خواصو په هکله وړاندوينه کولای شو؛ نو ويلاى شو چې د يوه گروپ ټول عنصرونه په تقريبي ډول ورته کيمياوي خواص لري.

منډليف د خپل ترتيب شوي جدول په واسطه وکولای شول د څو عنصرونو خواص چې تر هغه وخته پورې پېژندل شوي نه وو، په دقت سره وړاندوينه وکړي؛ د بېلگې په توگه: د يوه عنصر د ځينو خواصو په هکله د هغه د لاندني او باندني عنصرونو د خواصو د اوسط نيولو له لارې وړاندوينه وکړي. هغه په خپله پايلو اخستلو دومره ډاډمن وو چې کوم عنصرونه تر هغه وخته کشف شوي نه وو ځايونه يې په جدول کې تش پرېښودل. څه موده وروسته چې هغه عنصرونه کشف شول، هغه تش ځايونه يې ډک کړل. د منډليف د شهرت زياتوالي ډېره برخه د هغه د سمې او دقيقې وړاندوينې سره اړيکه لرله.



۲-۱۰ جدول لومړۍ گروپ او د هغوي واقعي شکل



زياتي معلومات

متلايف د نا پيژندل شورو عناصر و د خواصو د پوهيلو له پاره د هغو پيژندل شورو عنصرونو (نېکته او پوزتڼه) خواص جمع او پر ۲ يي وروپېشل او اوسط يي پيدا کړي. دغه لاسته راغلې اوسط د هغه عنصر د خواصو له ډلې څخه عبارت وو؛ د بېلگې په توگه: فرض کړي چې کرپتون (Kr) يو ناپيژندل شوي عنصر دی چې د هغه اېنشيډو ټکی هم معلوم نه دی. نو د هغه د پيدا کولو له پاره د ارگون (Ar) د اېنشيډو ټکي (-186°C) د زينون (Xe) د اېنشيډو ټکي (-112°C) سره جمع او پر ۲ يي وروپېشي چې په پايله کې د کرپتون د اېنشيډو ټکي داسې لاسته راځي:

$$\text{Ar د څوښ اېنشيډو } + \text{Xe د څوښ اېنشيډو} = \frac{\text{Kr د اېنشيډو ټکي په تقريبي توگه}}{2}$$

$$-149^\circ\text{C} = \frac{(-186^\circ\text{C}) + (-112^\circ\text{C})}{2} = \text{حسابي اوسط}$$

حاصل شوي عدد -149°C د کرپتون د اېنشيډو ټکي (-153°) سره لږ څه مساوي دی.

د عنصرونو دوراني جدول ټول د اتلسو عمودي ستونو او اوو دورو څخه جوړ شوي دی.

د عنصرونو د دوراني جدول گروپونه په دوو اصلي او فرعي ډلو وېشل شوي دي چې له هغو ډلو، څخه اته گروپه يې اصلي گروپونه (A) او نور يې فرعي گروپونه (B) دي، په لوړو ټولگيو کې به يې ولولئ؛ خو اصلي گروپونه په لنډه ډول لاندې معرفي کېږي:

په لومړۍ اصلي گروپ (IA) کې چې د ليټيم (Li) څخه پيل او په فرانسيم (Fr) ختمېږي، شپږ عنصره شته دي. همدا رنگه، په دوهم اصلي گروپ (IIA) کې شپږ عنصره، په هرو دريم (III) څخه تر اووم (VIIA) گروپونو کې پنځه، پنځه عنصرونه او په اتم اصلي گروپ (VIII) کې شپږ عنصره شتون لري. د (VIIIA) اصلي گروپ چې د نځميه گازونو څخه تشکيل شوی دی، صفري گروپ هم وايي؛ ځکه چې دا عنصرونه خپل فعال دي او کيمياوي فعاليت له ځانه نه نښتي.

د عنصرونو د دوراني جدول په لومړۍ دوره کې دوه عنصره (H او He)، په دويمه او دريمه دوره کې اته، اته عنصره، په څلورمه او پنځمه دوره کې اتلس، اتلس عنصره، په شپږمه دوره کې دوه دېرش شتون لري؛ خو اووم پېرود تر اوسه بشپړ شوی نه دی.

8A	He	2
	Ne	10
	Ar	18
	Kr	36
	Xe	54
	Rn	86

(۵-۲) جدول اتم گروپ يا صفري گروپ او د هغوي حقيقي لڅوړونه



ګڼه

د لاندینو عناصرونو موقعیت په دوراني جدول کې د ګروپ او دوري پر بنسټ و ټاکي:

الف: پوټاشیم ب: فلورین ج: نیون

د عناصرونو ټه کیمیاوي خواص په یو ګروپ کې

په تېرو لوستونو کې مو ولوستل چې د عناصرونو ترتیب او ځای په ځای کول په یوه ګروپ کې د هغوي په ورته کیمیاوي خواصو پر بنسټ ترسره شوي دي؛ همدا رنگه زده کړي مو دي چې که په یوه ګروپ کې د یوه عنصر د کیمیاوي خواصو په هکله معلومات ولرو؛ نو کولای شو چې د هغه ګروپ د نورو عناصرونو د کیمیاوي خواصو په هکله لازمه وړاندوینه وکړو؛ د مثال په توګه: کاربن (C) او اکسیجن (O₂) سره تعامل کوي او د کاربن دای اکساید (CO₂) مرکب جوړوي، د وړاندې شوي مثال په پام کې نیولو سره سس کولای شو د هغه مرکب د جوړېدو په هکله وړاندوینه وکړو کوم چې د کاربن او سلفر (S) د تعامل په واسطه لاسته راځي. هغه مرکب چې کاربن او سلفر د تعامل په واسطه جوړېږي، د کاربن دای سلفاید (CS₂) مرکب به وي.



ګڼه

د ورګر شوو بیلګو په کارولو سره لاندیني جدول بشپړ کړئ:

د مرکب فورمول	د مرکب نوم یی	د عنصرونو نوم او سمبول	د عناصرو نوم او سمبول
NaCl	سودیم کلوراید	کلورین Cl	Na سودیم
		برومین Br	Na سودیم
MgI ₂	مګنیزیم آیوډاید	ایوډین I	Mg مګنیزیم
MgF ₂		فلورین F	Mg مګنیزیم
AlCl ₃	المنیم کلوراید	کلورین Cl	Al المنیم
BCl ₃		کلورین Cl	B بورون

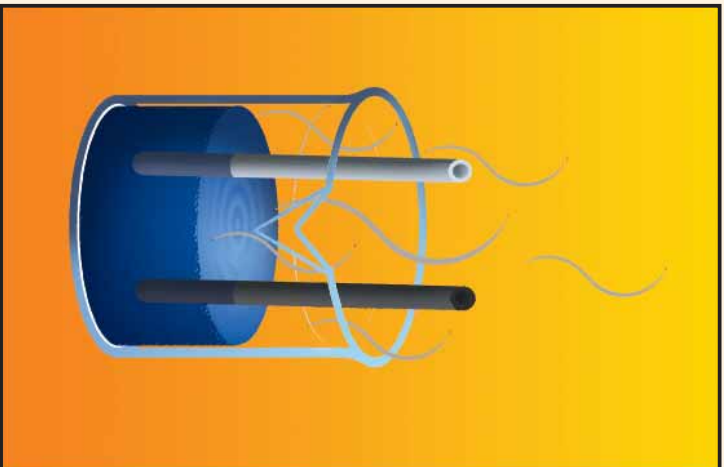
د فلزونو او غیرفلزونو ترمنځ توپیر
 مخکې مو زده کړل چې د دوراني جلول ټول عنصرونو په درې بنسټیزو ډلو فلزونو، غیرفلزونو او شبه فلزونو وېشل شوي دي.
 فلزونه د هغوي د فلزي اړیکو پر بنسټ چې په راتلونکو ټولګیو کې لوستل کېږي، د برېښنا او تودوخې د تیرولو نښه خاصیت لري او غیرفلزونه د برېښنا او تودوخې تیرولو خاصیت ډېر کم لري. شبه فلزونه منځني خواص یعنی دوه ګوني فلزي او غیرفلزي خواص له ځانه ښيي.



کړنه

د فلز او نافلز د تودوخې تیرولو پرتله

- د اړتیا وړ لوازم او مواد:** یو بیکر ایشیلو اوبه، دکاربنی (د پینسل تورکي)، د اوسپني میله، ګوفلاډه، کړنې ټولې په یو وخت تر سره کړي.
- د اوسپني میلي یوسر په خپل لاس کې ونیسئ، او بل سر یې په ایشیلو اوبو کې ډوب کړئ.
 - د پینسل دکاربنی میلي یو سر په لاس کې ونیسئ او بل سر یې په ایشیلو اوبو کې کښیږدئ. د دې کړنې د سرته رسولو په پای کې لالینیتو پوښتنو ته ځواب ورکړئ:
 - کله چې د کاربن د میلي یو سر مو په ایشیلو اوبو کې ننه کښیږدلی وو، آیا په بل سر مو د تودوخې احساس وکړ؟
 - کله چې د اوسپني د میلي یو سر مو په ایشیلو اوبو کې ډوب کړی وو، آیا په بل سر مو د تودوخې احساس وکړ؟



(۳-۲) شکل د اوسپني د تودوخې تیرولو مقایسه وکاربن سره

له فلزونو او په ځانگړي توگه له مسو (Cu) او المونيمو (Al) د غښتلي برېښنا او تودوخې تيرولو خاصيت پر بنسټ له هغوی څخه د کورونو، روښانو لو او د پخاندځي د لوازمو په توگه گټه اخلي. له اوسپني (Fe) څخه د اوسپني د پټلۍ او د ترانسپورتي وسايلو جوړولو او همدارنگه له جستو (Zn) څخه د اوبو مرکزگرمي او نورو شیانو په جوړولو کې ډېره پراخه گټه اخيستل کېږي.

که چيرې برېښنا د سيم او فلزي لين له لارې بهر نه وای موندلې، گروپ به روښانه شوی نه وای چې دا په خپله د فلزي سيم له لارې د برېښنا د تيريدو بهير ورنښي.

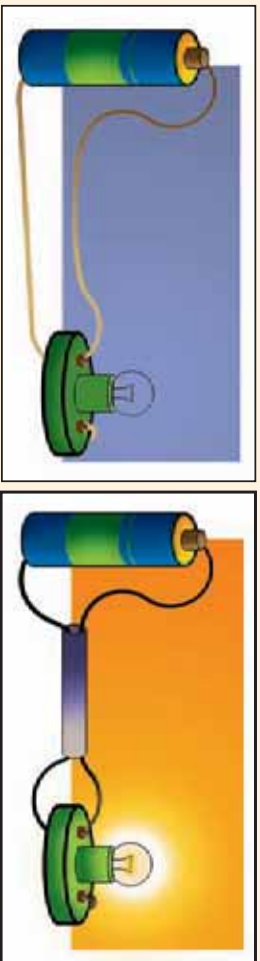


د فلز او غير فلز د برېښنا تيرولو پر تله

د اړتيا وړ لوازم او مواد: فلزي پوښ لرونکی سيم، تار، د بایسکل گروپ، فلمي بټرۍ، کيو تارلار. دوه لښه پوښ لرونکي سيم څوکي لږ څوکي کړۍ، يوه څوکه يې د برېښنا بټرۍ په هښت اړخ او بله څوکه يې د برېښنا بټرۍ په منفي اړخ پورې وتړي او دمسيم دوه نورې څوکي د بایسکل له گروپ سره وصلې کړۍ، همداسې عمل له تار سره هم تر سره کړۍ.

خپلې ليدنې و ليکئ او لاندنيو پوښتنو ته ځواب ور کړئ:

- آیا کله مو چې بټرۍ د فلزي سيم له گروپ سره وتړله، گروپ روښانه شو که نه؟
- آیا کله مو چې بټرۍ د تار په واسطه له گروپ سره وتړله، گروپ روښانه شو که نه؟

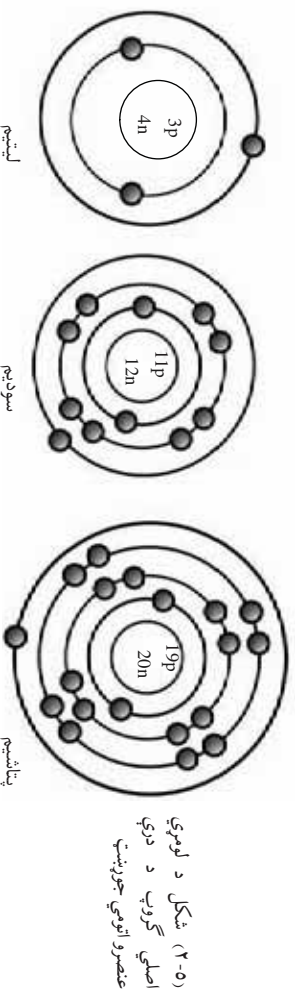


(۴-۲) شکل د فلز او غير فلز د برېښنا تيرولو وړتيا مقايسه

به ټاکلي گروپ کې د عنصر ونډو د الکتروني جوړښت وړته والي

خړنگه چې وويل شول، د يوه گروپ عنصرونه د الکتروني جوړښت او کيمياوي خواصو له کبله سره ورته دي. په خپل وروستي انرژيکي سويه کې د مساوي الکترونونو لړل د دوی ډير مهم وړته والی د هغوی د مساوی تعداد الکترونو نه په باندني قشر کې دی.

که چېرې د عنصرونو لومړی اصلي گروپ (IA) ته څير شو، ليدل کېږي چې هغوي ټول په خپل وروستي قشري کې يو الکترون لري. ددې گروپ د درې عنصرونو هې جوړښت د بيلگې په توگه په لاندې ډول ښودل شوي دي.



خړنگه چې د عنصرونو کيمياوي خواص د دوی د وروستي قشر الکترونونو له شمېرې سره تړون لري؛ نو هغه عنصرونه چې په خپل وروستي قشر کې مساوي الکترونونه ولري، د ورته خواصو لرونکي دي او کيمياوي وړته تعاملونه ترسره کوي.

په دې ترتيب د دويم اصلي گروپ (IIA) عنصرونه هر يو په خپل وروستي قشر کې دوه الکترونونه او د درېم اصلي گروپ (IIIA) عنصرونه هر يو درې الکترونونه لري، چې دا سلسله په همدې شکل تر اتم اصلي گروپ (VIIA) پورې ادامه مومي. هغه عنصرونه چې په خپل وروستي قشر کې اته الکترونونه لري، مشبوع ويل کېږي او د کيمياوي تعامل له ځانه څخه نه بنسټي؛ نو همدا علت دي چې د VIIIA گروپ عنصرونه د هيليم (He) څخه پرته (چې په خپل قشر کې دوه الکترونونه لري) هر يو په خپل وروستي قشر کې اته الکترونونه لري؛ نو ځکه غير فعال دي او د دوي د کيمياوي تعامل ميل هم صفر دی.

د فلزونو او غیرفلزونو د فزیکي خواصو پرته


د فلزونو او غیرفلزونو فزیکي خواصو ترمنځ توپيرونه په لاندني ډول په پرتلیزه توګه وړاندې شوي دي:

غیرفلزونه


- د برېښنا او تودوخې تیرول یې ډېر ضعیفه دي.
- د خټکې خورلو په وخت کې یا ماتېږي او یا هم ټیټېږي.
- غیر فلزونه -خلا نه لري.
- د کښولو او فشار په مقابل کې لږ مقاومت لري.
- د تیت کثافت لرونکي دي.
- د ډیرو غیر فلزونو د ایشیلو او وېلي کېدلو ټکي تیت دي.
- کاربن (C)، سفیر (S)، فسفورس (P) او آیوډین (I) په جامد حالت، برومین (Br) په مایع حالت، هیلوجن (H)، نایټروجن (N)، اکسیجن (O)، کلورین (Cl) او فلورین (F) په عالی شریاډو کې د ګاز په حالت شتون لري.

فلزونه

- د برېښنا او تودوخې تیرورونکي دي.
- د خټکې خورلو، وېلي کېدو او د باندې کېدو وړتیا لري.
- فلزونه -خلا لرونکي دي.
- د کښولو او فشار په مقابل کې ډېر مقاومت لري.
- د لوړ کثافت لرونکي دي.
- تل د ایشیلو او وېلي کېدلو لوړ ټکي لري.
- نېرال فلزونه جامد دي، پرته له پارې (Hg) چې د تودوخې په عالی درجه کې مایع حالت لري.



(۱۰-۲) شکل د فلزونو او غیر فلزونو د ماتېدنې پرته کول.



د دویم خپر کی لنډیز

- ▶ دیمتری منلیف لومړنی پوه و چې د ننني دورانې جدول بنسټ یې کینود.
- ▶ د عنصرونو په دوره یې جدول کې عنصرونه د اټومي نمبر د زیاتوالي پر بنسټ ترتیب او تنظیم شوي دي.
- ▶ افقي قطارونه د دورو یا تناونونو په نوم یادېږي.
- ▶ د جدول عمودي سټي د گروپ په نوم یادېږي.
- ▶ هغه عنصرونه چې په عین گروپ کې شتون لري، د کیمیاوي ورته خواصو لرونکي دي.
- ▶ هغه عنصرونه چې په یوه گروپ کې ځای په ځای دي ورته الکتروني باندیني قشر لري.
- ▶ عنصرونه په عمومي توگه په درې دستو؛ لکه: فلزونه، غیر فلزونه او شبه فلزونه باندې ویشل شوي دي.

د دویم خپر کی پوښتي

سمې او ناسمې پوښتي

د هرې پوښتي په مخامخ اېنډول شوي قوس کې له لوستلو څخه وروسته که سمې وي د (س) نښه او که چېرته ناسمې وي د (نا) نښه په خپلو کتابچو کې ولیکلئ.

- 1-) (په دورانې جدول کې د عنصرونو فزیکي او کیمیاوي خواص په نوښتي توگه تکرارېږي.
- 2-) (غیر فلزونه څلا لري.
- 3-) (د عنصرونه په دورانې جدول کې هریوه عمودي سټي ته گروپ وايي.
- 4-) (د عنصرونو د وروستي قشر الکترونونه چې په عین گروپ کې شتون لري، سره مساوي دي.
- 5-) (په دورانې جدول کې عمودي سټي د تناوب په نامه یادېږي.
- 6-) (مورلي اټومي کتله کشف کړه.

لانديني- يونبيني او خواپونه په دوه سټني کې (د يونبينو سټنه او د خواپونو سټنه) ليکل شوي دي. د هر يو خواپ هغه شمېره چې د اړوند يونبيني خواپ بلل کېږي د هغه يونبيني په اړوند لينديو کې په خپلو کتابچو کې وليکلې خواپونه يونبيني


- ۱- د عناصرو لومړنۍ وېشل په () . ۱- وروستي قټر پورې تړلی دی.
- ۲- د عناصرو کيمياوي خواص د هغوي ۲- د تناوب جدول وو.
- ۳- په () . ۳- فلز او غير فلز وو.
- ۴- د دويم اصلي گروپ عناصر په خپل ۴- اته الکترونونه لري.
- ۵- وروستي قټم کې () ۵- دوه الکترونونه لري.
- د سم خواپ د توري په شاوخوا کې دايره و باسي
- ۴- په جدول کې عمودي سټني په کوم نوم يادېږي؟
- الف) دوره (ب) گروپ
- ۵- د عنصرونو لومړنۍ وېش کوم دی؟
- الف) فلز او شېبه فلز (ب) شېبه فلز او غير فلز (ج) فلز او غير فلز
- ۶- د دوراني جدول ستونزې څه وخت لری شو؟
- الف) کله چې اتومي کتلې معيار و ټاکل شوه (ب) کله چې اتومي نمبر معيار وټاکل شو
- ج) کله چې د الکترونونو شمېر معيار و ټاکل شو (د) کله چې د نيوترونونو شمېر معيار وټاکل شو
- تشرېحې يونبيني.
- ۷- ولې د يوه گروپ پورې د اړونده عنصرونو کيمياوي خواص سره يو شان دي؟
- ۸- د کومو فلزونو څخه په ډېره اندازه د ساختمانونو په جوړولو کې استفاده کېږي؟
- ۹- د عنصرونو دوراني جدول د څو گروپونو او څو دورو څخه جوړ شوي دي؟ د هغه په باره کې لنډه معلومات ورکړئ.
- ۱۰- د فلزونو او غير فلزونو ترمنځ بنسټيز توپيرونه روښانه کړئ.

درېم څپرکي

کيمياوي اړيکي

په تيرولو لگيو کې د ځينو مهمو مطلبونو لکه: سمبول، فورمول او کيمياوي معادلو سره اشنا شوي يې. په دې څپرکي کې به ټول ياد شوي مطلبونه په زيات تفصيل سره ولولي، ځکه دغه مطلبونه د کيمياوي مسايلو د بڼه درک او زده کړې لپاره ارزښت ناکه دي. دا ټول ياد شوي مطلبونه به له ناستې سره د صنعتي موادو او دواگانو په پېژندلو کې زيات کومک وکړي. هغه څوک چې د کيمياوي فورمولونو او سمبولونو سره اشناني لري، په تجارت (په اخيستلو او خرڅولو) کې به زياته گټه پر لاس راوړي.

سر تيره د دې څپرکي په درشل کې به ځينې پوښتنو ته لکه: ايون څه شي دي؟ اوني اړيکه څرنگه تشکيلېږي؟ کوم ټول اړيکي ته اشتراکي اړيکه وبل کېږي؟ فلزي اړيکه څرنگه اړيکه ده؟ لازم خوا بونه پيدا کړي او د څپرکي په پاې کې به د مختلفو کيمياوي اړيکو او کيمياوي معادلو په ليکلو بڼه وټوانېږي.



د ځينو مهمو مفهومونو یادونه

سمبول: مخکې هم د سمبول له مفهوم سره اشنا شوي یاست او پوهېږئ چې د هر شي د زده کړې له پاره ځانگړي لاره په کار ده. څرنگه چې کیمیا په عمومي ډول د کیمیاوي تعاملونو او معادلو سره سرو کار لري او په کیمیاوي معادله کې د عنصر بشپړ نوم لیکل له یوې خوا د وخت ضایع کیدل او له بلې خوا دکاغذ زیات مصرف دي، نو په همدې ډول علماوو دکار د اسانتیا او د مصرف د مخنیوي لپاره د عنصر د مکمل نوم د لیکلو پر ځای د نوم لنډه نښه منځ ته راوړه، د یادوني وړ ده چې د سمبولونو لیکل نه یوازې په کیمیا؛ بلکې په زیاتو علومو کې رواج لري.

سمبول د عنصرونو د نومونو لنډه نښه ده چې هغه د یو عنصر د انګلیسي یا لاتیني نوم له لومړۍ توري څخه عبارت دی، که چېرې لومړۍ توري د عنصرونو سره یو ډول وي؛ نو د لومړۍ توري په څنګ چې په غټ توري لیکل کېږي، د عنصر د نوم بل ښکاره توري په وړو کې توري لیکل کېږي؛ د بیلګې په توګه: هایدروجن (Hydrogen) په H، کاربن (Carbon) په C او فلورین (Fluorine) په F ښودل کېږي چې ددې عنصرونه سمبولونه په یوه توري ښودل شوي.

(۱-۳) جدول د یوه توري لرونکو عنصرونو سمبولونه

ښتو نوم	انګلیسي نوم	لاتیني نوم	سمبول
هایدروجن	Hydrogen	Hydrogen	H
اکسیجن	Oxygen	Oxygen	O
فلورین	Fluorine	Fluorine	F
ایوډین	Iodine	Iodine	I
سلفر	Sulfur	Sulfur	S
ولفرام	Tungsten	Wolfram	W
پوتاشیم	Potassium	Kalium	K

په لاندې مثالو کې تاسې هغه عنصرونه گورئ چې لومړي توري يې سره يو ډول دي؛ نو ځکه يې يو بل توری هم ليکل شوي دي.

کروميم (Chromium) په Cr، کلورين (Chlorine) په Cl، کلسيم (Calcium) په Ca، سوديوم (Sodium) په Na، نيون Neon په Ne، اوسميوم (Osmium) په Os، برومين (Bromine) په Br او باريم (Barium) په Ba بنډول کېږي.

د يو شمير عنصرونو سمبولونه له لاتيني نوم څخه اخيستل شوي دي په لاندې جدول کې يو شمير عنصرونه له انگليسي او لاتيني نومونو سره بنډول کېږي:

(۲-۳) جدول د ځينو عنصرونو نومونه په لاتيني، انگليسي نومونه د پېنتو او سمبولونو سره يې:

د پېنتو نوم	د انگليسي نوم	لاتيني نوم	سمبول
سپين زر	Silver	Argentum	Ag
سره زر	Gold	Aurum	Au
مس	Copper	Cuprum	Cu
اوسپنه	Iron	Ferrum	Fe
پاره (سيمان)	Mercury	Hydrargyrum	Hg
سوديوم	Sodium	Natrium	Na
سرب	Lead	Plumbum	Pb
انتيموني	Antimony	Stibium	Sb
قاعي	Tin	Stannum	Sn

فورمول

تير کال کې مو د فورمول په هکله معلومات ترلاسه کړل، په دې توگه کې به د فورمول په اړه لا زيات مطلبونه زده کړئ.

مرکبونه د عنصرونو له يو ځايي کيدو څخه جوړېږي او مرکبونه د فورمول په واسطه بنسټول کېږي، فورمول په يو مرکب کې د شاملو عنصرونو د سمبولونو له مجموعي څخه عبارت دی؛ د بېلگې په ډول:

د اوبو فورمول (H_2O)، د امونیا فورمول (NH_3) او د خوړو د ملاګي فورمول ($NaCl$) دی. په یو کیمیاوي فورمول کې د شاملو عنصرونو سربیره د هغه اټومونو شمیر او نسبت چې په نوموړي مرکب کې برخه لري، هم ښودل کېږي؛ د بېلګې په ډول: د ګوګرو تیزاب (H_2SO_4) د مرکب په فورمول کې ۲ چې د H د سمبول په ښي او لاندیني خوا کې لیکل شوی، د هایدروجن د اټوم تعداد ښيي او ۴ چې د اکسیجن سمبول په ښي او لاندیني خوا کې لیکل شوی، د اکسیجن د اټومونو شمیر ښيي او د هغه عنصرونو سمبولونه چې ضریب لري، دهغوي ضریب یو دی، د ګوګرو تیزاب په فورمول کې د سلفر اټوم چې ضریب لري د هغې ضریب یو دی. همدا رنگه د سوډیم کلوراید $NaCl$ په مرکب کې د سوډیم او کلورین د اټومونو ترمنځ نسبت یو پر یو (۱:۱) دی.

(۳-۳) جدول د یو شمیر مرکبونو نومونه او فورمولونه

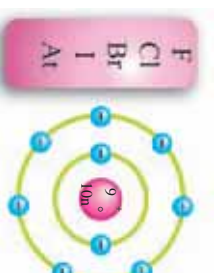
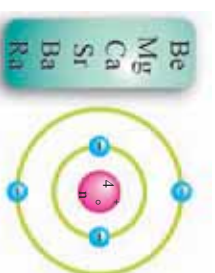
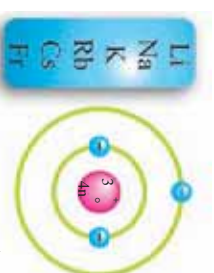
د مرکبونو نومونه	د مرکبونو فورمولونه
سوډیم کلوراید	NaCl
هایدروجن کلوراید	HCl
کلسیم بروماید	CaBr ₂
امونیا	NH ₃
پوتاشیم کلوراید	KF
مگنیزیم کلوراید	MgCl ₂
باریم ایوډاید	BaI ₂

ولانس

په مرکبونو کې د عنصرونو د اټومونو ترمنځ د اړیکو د بڼه درک او څرنگوالي په خاطر لازم دي د عنصرونو د ولانس د مفهوم سره اشنا شي؛ پوهیږئ چه د عنصرونو اټومونه په عادي حالت (مخکې له تعامل څخه) د چارج له کبله ختني دي چې په دې حالت د اټوم د هستې مثبت چارج (د P شمیر) د قشرونو منفي چارج د (e⁻شمیر) سره برابر دی. وروسته له هغې چې د عنصرونو اټومونه یو له بل سره تعامل وکړي، د عنصرونو د اټومونو په منځ کې اړیکې منځ ته راځي همدې عنصرونو د اټومونو ترمنځ اړیکو ټینګولو ته د یو ځای کېدو قوه یا ولانس وايي؛ نو ویلي شو چې د عنصرونو د اتحاد قوه ولانس دی.

عنصرونه د وروستي قشر د الکترونونو راکړې ورکړې او شریکولو په واسطه په خپل منځ کې اړیکې ټینګوي.

د ویلو ورده چې په یوه گروه کې د عنصرونو ولانس سره برابر دی؛ د بیلاګې په توګه: د لومړۍ گروه (Fr, Cs, K, Rb, Na, Li) د عنصرونو ولانس یو دی. د دویم گروه (Ra, Ba, Sr, Ca, Mg, Be) د عنصرونو ولانس دوه دی، د اووم گروه (I, Br, Cl, F) عنصرونو د یوه الکترون په اخیستلو د وروستي قشر الکترونونه په اته الکترونونو پوره کوي او ځانته یو ولانس اختیاروي؛ خو د دې گروه زیاتره عنصرونه متحول ولانس لري او کولای شي چې په مختلفو مرکبونو کې ۱، ۳، ۵ او ۷ ولانس ولري. د وروستي قشر الکترونونه د ولانسي الکترونونو په نوم یادوي. په (۱-۳) شکل کې لومړۍ گروه چې د یوه ولانسي الکترون لرونکي دی. دویم گروه چې د دوه ولانسي الکترونونو لرونکي دي او اووم گروه چې د اووه ولانسي الکترونونو لرونکي دی، ښودل شوي دي. ولانس د (+) او (-) علامې لرونکي نه دي؛ بلکې یې علامې عددوي؛ نو د عناصرونو ولانس د پایل شوو، اخیستل شوو یا په شریک ډول اېښودل شوو الکترونونو پورې اړه لري؛ د بیلاګې په توګه: کلسیم کولای شي د وروستي قشر دوه الکترونونه وپایلي؛ نو ولانس یې (۲) دی. او اکسیجن هم کولای شي چې (۲) الکترونونه واخلي نو د هغه ولانس (۲) دی او د

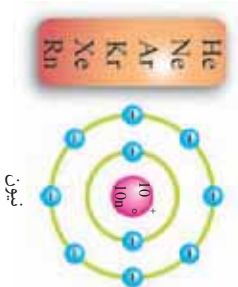


(۱-۳) شکل د عناصرو د دوراني جدول لومړۍ، دوهم او اووم گروه

المزيم فاز چي په ڪيميائي تعامل ڪي خپل دري (۳) الکترونونه له لاسه ورکوي، ولانس يي (۳) دي.

اوکتيت (د وروستي قشر اته الکتروني کيدل)


په تير خپر ڪي ڪي مولوسٽل چي د دوره يي جدول د اتم گروپ عنصرونه (پرته د هيليم په خپل وروستي قشر ڪي دوه الکترونونه لري) په خپل وروستي قشر ڪي د اته (۸) الکترونونو د لرلو له کبله د صفري گروپ يا نجيبه غازونو په نوم ياديري. دا عنصرونه د ڪيميائي فعاليت له امله غير فعال دي او په يو اټومي ډول پيدا ڪيري. د هغوی وروستي قشر د الکترونونو له کبله مشوع دی او د اوکتيت حالت لري. په وروستي قشر ڪي د اټو الکترونونو (اوکتيت) شتون د اتم گروپ د عنصرونو د پيدايي او ثبات لامل شوي دي. د نجيبه غازونو د دي خاصيت نه استفاده ڪيري او په مختلفو ځايو ڪي ور څخه گټه اچلي؛ د بيلگي په توگه: د هيليم غاز په بالونونو او د نيون غاز په گروپونو او نورو ځايونو ڪي کارول ڪيري.



(۲-۳) شکل د نجيبه غازونو سمبولونه او د نيون د غاز اټومي جوړښت



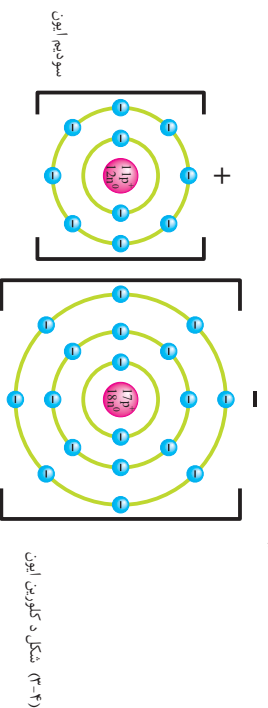
ب- يوکاني چي د هيليم د غاز څخه ټوڪي شويدي



(۳-۳) شکل د استعمال ځايونه الف- د نيون گروپونه

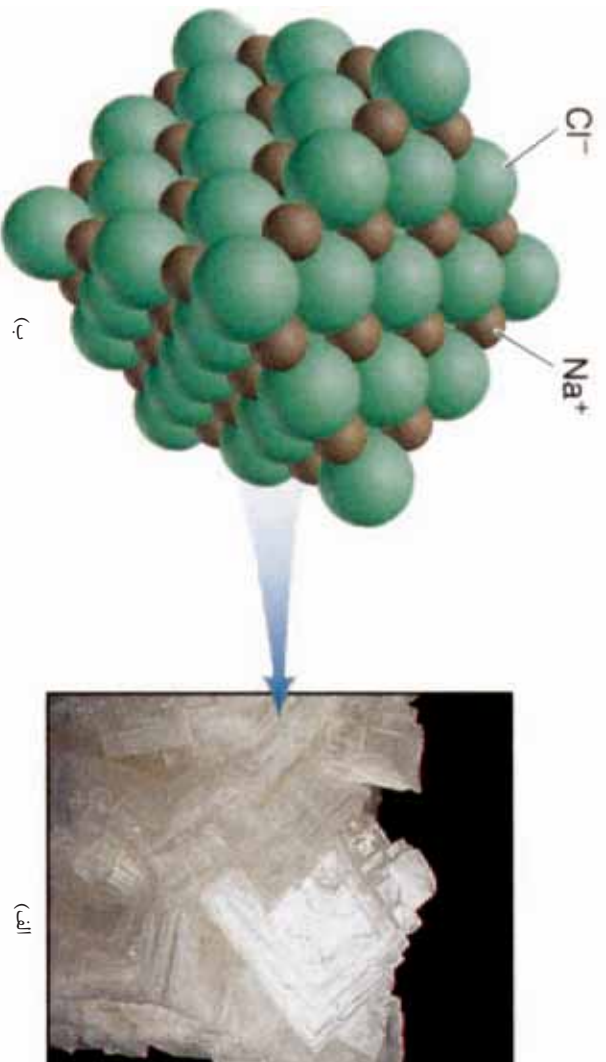
نور عنصرونه هم میل لري چې کيمياوي ثابت حالت ته د رسيدو لپاره خپل وروستي قشر اوکټيت (اته الکتروني) ته ورسوي؛ يعنې خپل وروستي قشر په اتو الکترونو جک کړي. د وروستي قشر الکترونونه د ولاسي الکترونونو په نوم هم يادوي.

عنصرونه د خپل وروستي قشر د پوره کولو (Octet حالت) لپاره د الکترونو بايللو، اخيستلو او شريک ايښودلو ته اړ دي؛ نو په همدي ډول عنصرونه د الکترونونو په بايللو مثبت چارج او د الکترونونو په اخيستلو منفي چارج ځانته غوره کوي؛ د بيلگي په توگه: د سوډيم اټوم چې په خپل وروستي قشر کې يو الکترون او د کلورين اټوم اوه (۷) الکترونونه لري، يو له بل سره تعامل کوي؛ نو سوډيم د خپل وروستي قشر يو الکترون کلورين ته ورکوي:



سوډيم د يو الکترون په بايللو وروستي قشر (دريم قشر) له لاسه ورکوي او د وروستي قشر څخه د مخه قشر يې (دوهم قشر) اته الکترونونه لري. څرنگه چې گورن د سوډيم په پاڼې شوي دوه قشرونو کې ۱۰ الکترونونه شتون لري؛ نو د سوډيم په هسته کې ۱۱ پروتونونه شتون لري، څرنگه چې د سوډيم د الکترونونو شمير د هغې د پروتونونو له شمير څخه يو الکترون کم دی؛ نو ځکه يې چارج مثبت يو دی او په مقابل کې يې کلورين چې په سره وروستي قشر کې اوه الکترونونه لري، د يو الکترون په اخيستلو خپل وروستي قشر يې اته الکترونونه پوره کوي، څنگه چې د کلورين په هسته کې (۱۷) پروتونونه او په دريو قشرونو کې (۱۸) الکترونونه شتون لري؛ نو په دې توگه د کلورين د الکترونو شمير يو واحد د پروتونو د شمير څخه زيات دی نو ځکه د کلورين چارج منفي يو دی.

کری دی او هغه عنصرونه چي دوه الکترونه اخلي چارج يي ($2-$) کېږي؛ لکه: د Na_2O په مرکب کې د اکسیجن چارج د دواو الکترونو په اخيستلو سره منفي دوه دی؛ څنگه چې گورئ د آیونونو چارج د آیونو د سمبول په ښي او پورتي خوا کې لیکل کېږي؛ لکه Na^+ او O^{2-} ؛ خو د مرکبونو په فورمولو کې د عنصرونو چارج نه لیکل کېږي؛ لکه: NaCl او AlCl_3



(۱-۳) شکل الف: د خورود مالګې کرسټلونه
ب: د خورود مالګې په کرسټلونو کې د آیونونو جوړښت

ایرزنونه په دوه گروپو، ساده او مرکب ویشل شويدي، ساده ایرزنونه له یوه اټوم څخه تشکیل شوي دي او ترکیبي ایرزنونه د دو یا څو اټومونو څخه جوړېږي چې په کیمیاوي تعاملونو کې د یوه عنصر په شان عمل کوي. په ($4-3$)، ($5-3$) او ($6-3$) جدولونو کې د دې ډول آیونونو سره آشنا کېږئ:

جدول ساده انیونونه (۳-۴)

د اټوم نوم	د اټوم سمبول	د اټوم نوم	د اټوم سمبول
فلوراید	F ⁻	فلورین	F
کلوراید	Cl ⁻	کلورین	Cl
بروماید	Br ⁻	برومین	Br
آیو داید	I ⁻	ایوډین	I
اکساید	O ²⁻	اکسیجن	O
سلفاید	S ²⁻	سلفر	S
نایترايد	N ³⁻	نایتروجن	N
فسفاید	P ³⁻	فسفورس	P
هایدرايد	H ⁻	هایدروجن	H

(۳-۶) جدول منفی چارج لرونکي

د اټوم نوم	د اټوم نوم
پرايوديت	IO ₄ ⁻
پرکلوريت	ClO ₄ ⁻
کاربونيت	C ₃ ²⁻
فسفیت	₄ ³⁻
سلفيت	₄ ²⁻
نایتريت	NO ₃ ⁻
هایدروکساید	HO ⁻

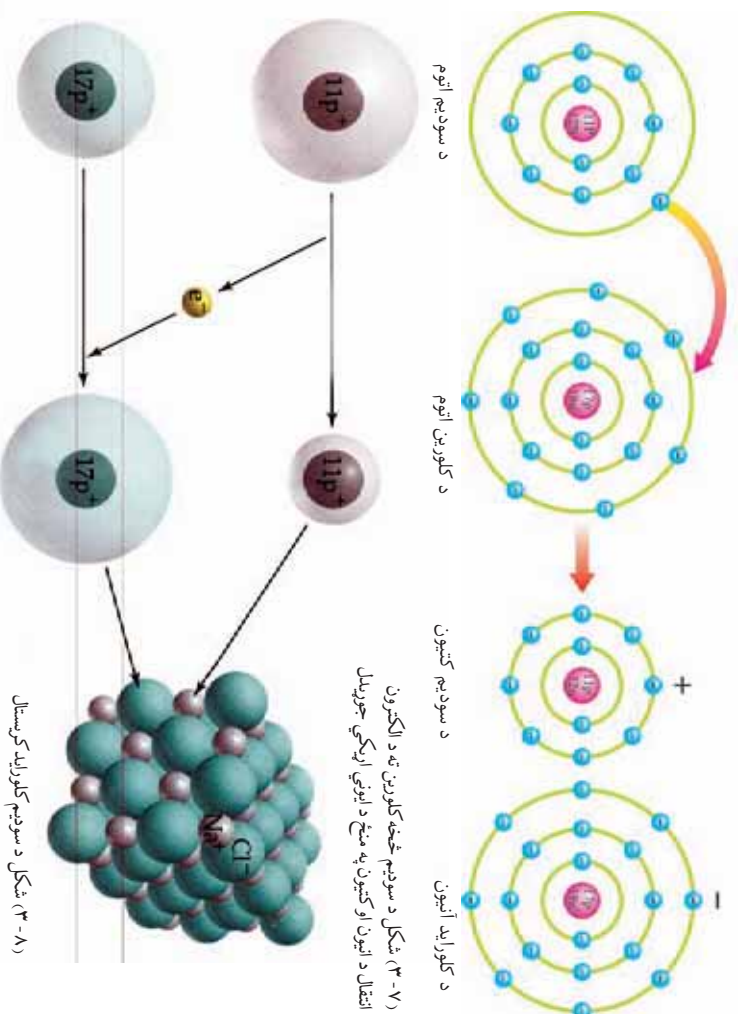
(۳-۵) جدول ساده کاتیونونه

د اټوم نوم	د اټوم سمبول	د اټوم نوم	د اټوم سمبول
لیتیم اټوم	Li ⁺	لیتیم	Li
سودیم اټوم	Na ⁺	سودیم	Na
پوتاشیم اټوم	K ⁺	پوتاشیم	K
کلسیم اټوم	Ca ²⁺	کلسیم	Ca
مگنیزیم اټوم	Mg ²⁺	مگنیزیم	Mg
المونیم اټوم	Al ³⁺	المونیم	Al
پروتون اټوم	H ⁺	هایدروجن	H
امونیم اټوم	NH ₄ ⁺	نایتروجن، هایدروجن	H, N

آیوني اړيکه (Ionic Bond)

ایوني اړيکه هغه اړيکه ده چې د الکترونونو د راکړې ورکړې له امله جوړېږي د بیلګې په توګه: د سوډیم کلوراید په مرکب کې جوړه شوی اړيکه برېښنايي اړيکه ده. تاسې پوهېږئ چې ټول مرکبونه د چارج له کبله خنثي دي؛ نو د سوډیم کلوراید (NaCl) مرکب د Cl^- او Na^+ له آیونونو څخه تشکیل شوی دی او د چارج له کبله خنثی دی.

باید یادونه شي چې ایوني اړيکه د انیونونو او کاتیونونو په منځ کې د جاذبې قوې په پایله کې جوړېږي. دا قوه د دې لامل ګرځي چې آیونونه په بشپړه توګه یو له بله سره ونښلې او آیوني اړيکه جوړه کړي. فلزونه په عمومي ډول په کیمیاوي تعاملونو کې خپل ولانسي الکترونونه له لاسه ورکوي؛ خو غیر فلزونه په کیمیاوي تعاملونو کې الکترونونه اخلي.

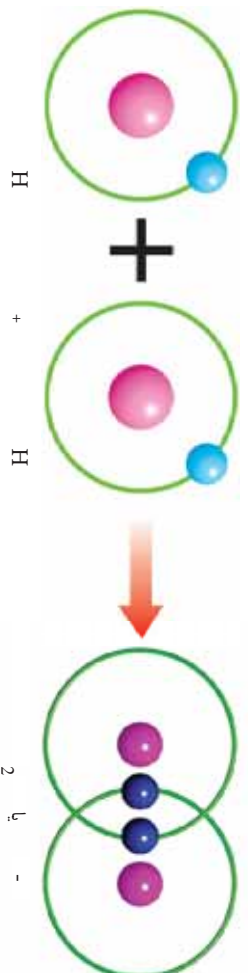


۳-۷) شکل د سوډیم څخه کلورین ته د الکترون انتقال د انیون او کاتیون په منځ کې آیوني جوړېدل

۳-۸) شکل د سوډیم کلوراید کریستال

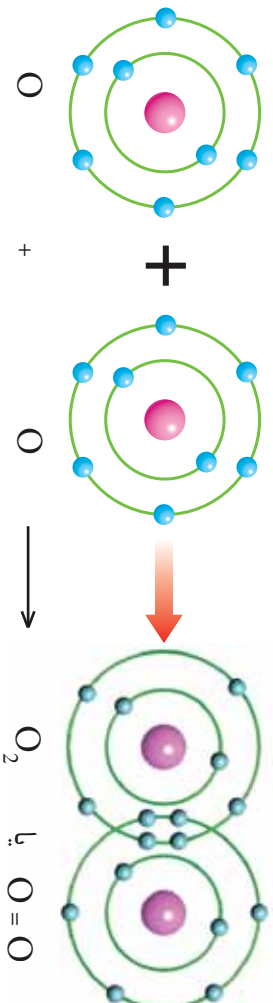
اشتراکي اړیکه (Covalent bond)

اشتراکي یا کوولانت اړیکه د دوو یا زیاتو اټومونو په منځ کې د الکترونونو د شریکولو له امله منځته راځي. اشتراکي اړیکه هغه محال جوړېږي چې د الکترون غوښتنی توپیر د اټومونو په منځ کې کم وي. اشتراکي اړیکه د یو ډول عنصرونو اټومونو او مختلفو عنصرونو د اټومونو په تر منځ جوړېږي د بیلگې په توگه: د هایدروجن عنصر په ازاد بڼه په یو اټومي بڼه نه پیدا کېږي بلکې د دوه اټومي مالیکول په بڼه موندل کېږي، د هایدروجن د مالیکول د جوړېدو لپاره د هایدروجن دوه اټومونه په منځ کې خپل یو، یو الکترون سره شریکوي، د هایدروجن په مالیکول کې جوړه الکترونونه چې د هایدروجن د دو اټومونو تر منځ شتون لري، د یوه لیکي (-) په واسطه نښلول کېږي:



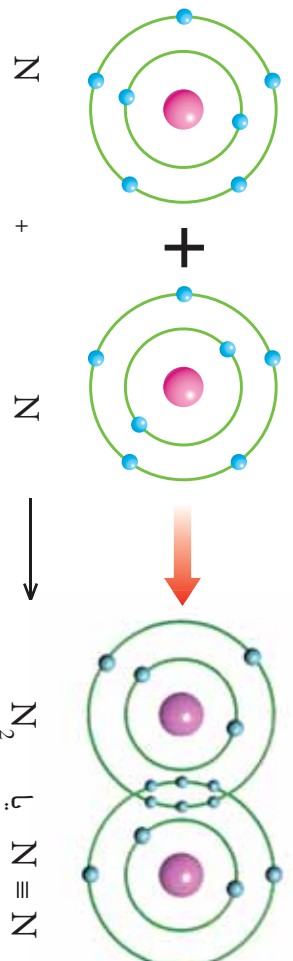
(۹-۳) شکل د هایدروجن په مالیکول کې د هایدروجن د اټومونو په منځ د یوگوني اشتراکي اړیکې جوړښت

باید وویل شي چې په شریک شوي الکترونونه دواړو اټومونو پورې اړه لري؛ په پورتني بېلگه کې جوړه الکترونونه د هایدروجن په هر یوه اټوم پورې اړه لري، اشتراکي اړیکې کولای شي یو گوني، دوه گوني یا درې گوني وي؛ د بیلگې په توگه: د اکسیجن په مالیکول کې دوه اټومونه یو ځای شوي دي او خپل دوه-دوه الکترونونه یې په خپل منځ کې شریک کړي دي او دوه گوني اشتراکي اړیکه یې مینځته راوړي ده چې په پایله کې د اکسیجن دوه اټومي مالیکول یې جوړکړی دی، د اکسیجن په مالیکول کې څلور الکترونونه په شریک ډول ایښودل شوي دي چې د اکسیجن دواړو اټومونو پورې اړه لري.



(۱-۳) شکل د دوه گوني اړيکي جوړښت او د اکسيجن دوه اتومي ماليکول

درې گوني اشتراکي اړيکه د نايټروجن په ماليکول کې شته ده، په درې گوني اشتراکي اړيکه کې د نايټروجن هر اټوم درې- درې الکترونونه په شریک کوی او درې گوني اشتراکي اړيکه جوړوي چې درې گوني اړيکه د درې خطونو (≡) په واسطه ښودل کېږي:

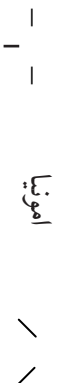


(۱-۳) شکل د درې گوني اړيکي جوړښت او د نايټروجن ماليکول

درې گوني اشتراکي اړيکه کېدای شي د يوه عنصر د اټومونو ترمنځ جوړه شي چې پورته ورسره اشنا شوی، همدارنگه کېدای شي دا اړيکه د مختلفو عنصرونو د اټومونو په تر منځ هم جوړې شي. اشتراکي اړيکي په عمومي توګه د غیر فلزاتو خپل منځني تعاملونو په پایله کې جوړېږي. د مختلفو عنصرونو د اټومونو په منځ کې د اړیکو په جوړېدو مرکبونه تشکيلېږي؛ د بېلګې په توګه: د اکسيجن او هایدروجن له تعامل څخه د اوبو (H_2O) مرکب جوړېږي. همدارنگه درې اټومه هایدروجن د يوه اټوم نايټروجن سره تعامل کوي او د امونيا (NH_3) په نوم یو مرکب جوړوي چې په راتلونکي څپرکي کې به یې په بشپړ توګه ولولئ. په کیمیا کې دوه ډوله فورمولونه؛ یعنې ماليکولي او مشرح یا ساختماني فورمولونه رواج لري.

مالیکولي فورمول: مالیکولي فورمول یوازې د اټومونو د شتون او د هغوی شمیر په یوه مالیکول کې نښتي؛ د اوبو (H_2O)، امونیا (NH_3)، گوګرو تیزاب (H_2SO_4)، دمالګي تیزاب (HCl) نایټروجن (N_2) فورمولونه او داسې نور مالیکولي فارمول بیلګې دی.

ساختماني (مشرح) فورمول: ساختماني فورمول سربیره د اټومونو شمیر، د اړیکو شمیر او د اټومونو ځای هم څرګندوي لکه:



اکسیجن = نایټروجن $N \equiv N$

فلزي اړیکه (Metallic bond)

فلزي اړیکه هغه اړیکه ده چې د اشتراکي (کوولانت) او د ایوني اړیکي سره بشپړ توپیر لري. فلزونه د نورو موادو سره د برېښنايي او تودوخې تیروني ښه خاصیت پر بنسټ توپیر کېدای شي. په فلزونو کې ولانسي الکټرونونه (د وروستي قشر الکټرونونه) له اړوند اټوم سره تړلي نه وي؛ بلکې د فلزونه په ټولو برخو کې د حرکت په حال کې وي او کولاي شي له هري خوا سره اړیکه ټنګه کړي.

په فلزونو کې ولانسي الکټرونونه له اړوندو اټومونو څخه جلا په چټکتیا د مثبتو ایونونو په منځ کې ګرځنده دي. د مثبتو ایونونو او ټولو ولانسي الکټرونونو ترمنځ د جاذبي قوه شته ده چې د فلز د جوړښت د کلکوالي لامل ګرځي او د فلزي اړیکي په نوم یادېږي.



ګونه

برېښنا تېريدنه او د الکتروفونو بهير په فلزونو کې

د اړتيا وړ لوازم او مواد: وچې بهير، پوښ لرونکي دوه لینه سيمه، پلاستيک يا تار.

ګړ تارا: دوه ټوټې پوښ لرونکي سيم چې دواړه سررونه يې لوڅ وي او د بهيری دواړو څڼو پورې کلک وتری، وروسته د دواړو سيمونو سررونه يو له بل سره واکړی بيلې داسې چراغ ګروپ په هغه ډول سره واکړی چې په شکل کې ليدل کېږي.

خپلې ليدني په څير سره وليکئ او لاندې پوښتنو ته ځواب ورکړئ.

الف - د دوو سيمونو د څوکو د لګيدو په پايله کې څه پېښه منځ ته راځي؟


ب - کله چې سيمونه د ګروپ سره وصل شي څه پېښه به تر منځ شي؟

ج - ورته عمل مو چې په پلاستيک يا تار تر سره کړه څه مو ليدل؟




(۱۲-۳) شکل د فلزونو د برېښنا
تېريدنی ښودل

پورتیو تجربو وینودله چې
فلزونه په آسانی بریښنا تیروي
او په همدې ډول فلزونه
په چیر بڼه شکل تودوخه
لیږدوي او د تودوخې لیږدونه
په غیر فلزونو کې چیره کمه
ده. تودوخه د ایریزونو او
الکترونونو د حرکتې انرژي د
زیاتیدو لامل ګرځي. د ذراتو
اهتزازي حرکت دانرژي
په تیرولو کې له یوې نقطې
څخه بلې نقطې ته بنسټیز
رول لوبوي، د تودوخې د
لیږدېدو لامل ګرځي چې
په لوړو ټولګیو کې به د دې
موضوع سره زیاتره آشنا
شي.



(۱۳-۳) شکل د فلزي عنصرونو د برېښوي برخې. خلا او د الومونو جوړښت



د درېم څپرکي لنډيز

- ▶ د عنصرونو د نومونو لنډيزي ته سمبول وايي چې د عنصرونو د انگليسي يا لاتيني نومونو د لومړي توري څخه اخیستل شوی او ثبتولی کېږي.
- ▶ د عنصرونو د اتحاد قوه ولاس دی. که چېرې یو الکترون د اړیکې په جوړولو کې برخه ولري د هغه عنصر ولاس یو او که دوه الکترونه برخه واخلي د هغه عنصر ولاس دوه او که درې الکترونه د اړیکې په جوړولو کې برخه واخلي، د هغه عنصر ولاس درې دی.
- ▶ په یو مرکب کې د شاملو عنصرونو د سمبولونو مجموعه کیمیاوي فورمول دی.
- ▶ اټوم او یا د اټومونو گروپ چې د کیمیاوي تعامل په پایله کې الکترون اخیستی او یا ورکړی وي د آیون په نوم یادېږي.
- ▶ د وروستي قشر الکترونونه د ولاسي الکترونونو په نوم یادوي.
- ▶ اوکسید د وروستي قشر اته الکتروني کېدل دي.
- ▶ ولاس د مثبت یا منفي ($+n$ یا $-n$) نېټې لرونکی نه دی.
- ▶ آیوني اړیکه هغه اړیکه ده چې د ولاسي الکترونونو د راوړې ورکړې له امله منځ ته راځي.
- ▶ فلزونه په تعامل کې غیر فلزونو ته الکترون ورکوي او په مقابل کې غیر فلزونه الکترون اخلي.
- ▶ اشتراکي اړیکه د اټومونو په منځ کې د الکترونونو په شریک ایښودلو سره منځته راځي.
- ▶ اشتراکي اړیکه کولای شي چې یو گوني، دوه گوني او درې گوني اوسي.
- ▶ غیر فلزونه په خپل منځ کې اشتراکي (کوولانت) اړیکه جوړوي په همدې ترتیب اشتراکي اړیکه د یو ډول اټومونو په منځ کې هم جوړېږي.
- ▶ فلزي اړیکه هغه کش کونکي قوه ده چې د ولاسي الکترونونو او د فلزونو د مثبتو آیونونو په منځ کې شتون لري.
- ▶ فلزونه د برېښنا تیرېدنې، تودوخې تیرېدنې او فلزي خلا لرونکي دي.

د درېم څپر کې پوښتي

لاندي پوښتي ولولئ د سمو پوښتنو په مقابل لېنديو کې (س) توري او د ناسمي پوښتي په مقابل کې د (نا) توري وليکئ.

- ۱- د عنصر د نوم لنډه نښه سمبول دی ()
 - ۲- په يوه مرکب کې د شاملو عنصر وزنو مجموعه د کيمياوي معادلي په نوم يادوي. ()
 - ۳- د عنصر وزن په منځ کې د اتحاد قوې ته ولاس وايي ()
 - ۴- زياتره عنصرونه په ميل لري چې خپل وروستی قشر په اته الکترونو (اوکتيت) بشپړه کړي ()
 - ۵- ايوني اړيکه د الکترونونو د شريک اېښودلو په واسطه جوړېږي. ()
 - ۶- عنصرونه د الکترون اخيستلو په واسطه ځانته منفي چارج غوره کوي ()
 - ۷- اشتراکي اړيکه داتومونو په منځ کې د الکترونونو د راکړي ورکړي له امله جوړېږي ()
 - ۸- کلورين د يوه الکترون په اخيستلو خپل وروستی قشر پوره کوي ()
- لاندي پوښتنو ته څلور ځوابونه ورکړ شوېدي د سم ځواب د توري څخه کړئ-
ناو کړئ.

- ۹- اړيکه چې د الکترونونو د راکړي او ورکړي په اثر تشکيلېږي څه نومېږي؟
الف) کوولانت (ب) اشتراکي (ج) ايوني (د) فلزي
- ۱۰- دهايډروجن په ماليکول کې د اتومونو په منځ کې څه ډول اړيکه شتون لري؟
الف) ايوني (ب) اشتراکي (ج) فلزي (د) کوولانت
- ۱۱- په فلزنو کې بنسټيز عامل د تودوخې او برېښنا تيرولو وړتيا پر لاندي کوم نوم اصطلاح پورې اړه لري؟
الف) د الکترون بايلل (ب) د الکترونونو اخيستل (ج) ازاد الکترونونه (د) فلزي څلا
- ۱۲- هغه ذرې چه د کيمياوي تعاملونو په پايله کې الکترون اخيستلی او يا يې ورکړی دی، څه نومېږي؟

- | | | | | |
|--|--------------|------------|------------|-------------|
| الف) ماليکول | ب) مرکب | ج) عنصر | د) ايون | |
| ۱۳- ايونونه په عمومي ډول په څو ډلو ويشل شويدي؟ | الف) دوه ډلو | ب) درې ډلو | ج) شپږ ډلو | د) څلور ډلو |
- لاندي پوښتي شرحه کړئ:
- ۱۴- د اوکتيت حالت د مادي کوم حال ته وايي
 - ۱۵- ولي فلزونه برېښنا او تودوخه لېږدوي.

- ۱۶- د NO_3^- ايون د سونديم د کټيون $+$ او SO_4^{2-} ايون د کلسيم د کټيون Ca^{2+} سره کوم مرکبونه جوړوي؟

خلورم څپرکی

تعاملونه او کیمیاوي معادلي

ناسې په خپل کور او شاوخوا کې د موادو خسا کېدل، د او سپینزو سامانو او لوازمو؛ لکه: یوم، فلزي دروازي او تیشی زنگ وهل لیدلي دي او هر ورځ د لرگي، کاغذ او نورو د سوځولو سره به مخامخ شوي یاست. آیا پوهیږئ چې دا ټولې پېښې کیمیاوي عمل یعنې کیمیاوي تعاملونه دي؟ تر اوسه ناسې ځینې قاعدې او کیمیاوي مطلوبونه زده کړل او په تیر څپرکي کې مود کیمیاوي مرکبونو په هکله اړوند معلومات په لاس راوړل. په دې څپرکي کې به په ډیر تفصیل سره تعاملونه او کیمیاوي معادلي ولولئ. سربیره له دې په دې څپرکي به پای کې به وکولای شئ چې ځینو پېښتو ته؛ لکه: کیمیاوي تعامل څه مفهوم لري؟ د کتلې د پلټنې قانون څه شی دی؟ د کیمیاوي معادلو انډول څه ډول ترسره کېږي؟ د کیمیاوي تعاملونو ډولونه کوم دي؟ قانع کوونکي خواږونه پیدا کړئ، ستاسې کتنه د محیط او د هغه د تغیراتو په نسبت د یوه ساینس دان کتنه ده او هر هغه تغیر چې ستاسې په شاوخوا کې لیدل کېږي، په څیر ځانه ډول یې وگورئ.

کیمیایي تعاملونه

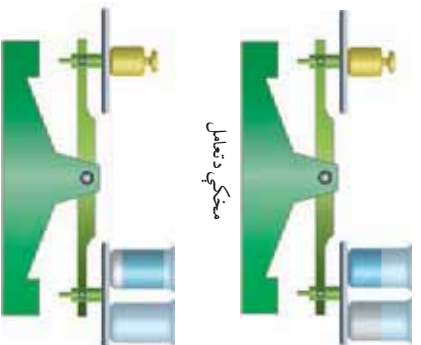
خرنگه چې تر مخه وویل شول، د شیدو تبدیلیدل په مستو، د موادو خواص کیدل د آچار رسیدل، د کاغذ او لرگی سوځیدل، د اوسپنیزو الو او سامانونو زنگ وهل او داسی نور، د کیمیایي تعاملونو په پایله کې پېښېږي. په دې څپرکي به د تعاملونو له مختلفو ډولونو سره آشنا شی.

کیمیایي تعامل عبارت له هغه عملي څخه دی چې د هغې په واسطه یوه ماده یا مواد په یوه بله ماده یا موادو تبدیلېږي چې ټول خواص یې د لومړنیو موادو سره توپیر لري. کیمیایي تعاملونه د کیمیایي معادلو یو واسطه ښودل کېږي. د کیمیایي تعاملونو په پایله کې په موادو کې بدلونونه راځي او نوي مواد جوړېږي؛ خو د نورو جوړ شورو موادو کتله د تعامل کوونکو موادو له کتلې سره برابره وي دا موضوع د کتلې د پایښت په قانون پورې اړه لري.

د کتلې د پایښت قانون

لومړی د نیل توتیا ($\text{CuSO}_4 \cdot 5\text{H}_2\text{O}$) یوه اندازه محلول چې د آبي رنگ لرونکی دی، د یوې اندازې سدریم هایدروکساید سره چې په اوبو کې حل شوی دی، د تلې په بله کې کېږدی او پیمایش یې کړی.

وروسته دواړه مواد یو له بل سره مخلوط کړي، ترڅو یو له بل سره تعامل وکړي. په پایله کې د موادو رنگ تغییر کوي او سپین رنگی رسوب جوړېږي. اوس د دوهم ځل لپاره نوي جوړ شوي مواد د تلې په بله کې کېږدی او پیمایش یې کړي. د دواړو کتلې (له تعامل څخه د مخه د موادو کتله او له تعامل څخه وروسته د موادو کتله) یو له بل سره برابره ده؛ یعنې د تعامل په پایله کې په مادې کې تغییرات راغلي دي، ولي د مادې کتلې تغییر نه دی کړی. نو ویلای شو چې د تعامل په پایله کې د موادو کتله نه د منځه ځي او نه زیاتېږي چې دا مسئله د کتلې د پایښت د قانون په نوم یادېږي.



(۱-۴) شکل د تلې کارول په کیمیایي تعاملو کې

کله چي د معادلي د دواړو خواو د موادو کتله سره برابره وي؛ نو د اټومونو تعداد هم د معادلي په دواړو خواو کي برابرې؛ له دې کبله د کتلي د پایښت قانون په کيمياوي تعاملونو کي د تطبيق وړ دی.



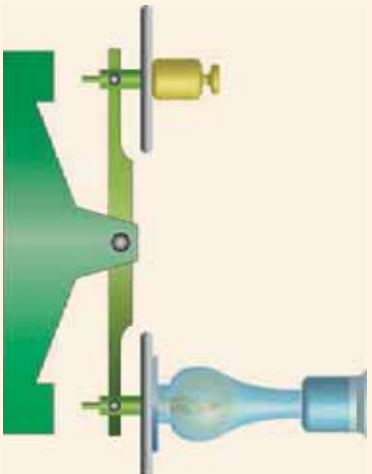
ګرڼه

د کتلي د پایښت قانون توضیح

د اړتیا وړ لوازم او مواد: شمع، د لمبي خړخ ښښنه، ښښنه یی پوتنه، بیکر، پخې اوبه، تله او وزنونه یی. ګرڼلاره: یو شمع، د لمبي خړخ ښښنه، د ښښني پوتنه او د سورو اوبو بیکر د تلي په پله کي کېږدی او وزن یې کړی، وروسته شمع د ښښني پوتني له پاسه کېږدی او د اورلګیت پواسطه یې روښانه کړی، بیا د لمبي ښښنه د هغه د پاسه کېږدی او د یخو اوبو یو ګیلاس د ښښني لمبي په خولي داسې کېږدی چې له هغې څخه هېڅ ماده راکرښ دای اګساید، د اوبو پراس اوتور) د ننه یا وڼه وزی.

خپلي لیدني وليک؛ او لاندې پوښتنو ته ځوابونه ورکړی:

- آیا د شمع د سوځیدو په دوام د تلي شاهین توازن بدلون مومی که نه؟
- د اوبو څاڅکي چې د ګیلاس لاندې لیدل کېږي، څنګه جوړ شوي دي؟



(۲-۴) شکل د کتلي د پایښت قانون په کيمياوي تعامل کي

کيمياوي معادلي

د تیر لوستونو څخه په یاد لری چې کيمياوي تعاملونه د کيمياوي موادو په واسطه ښودل کېږي. همدارنګه پوهېږی چې فورمول د یوه مرکب د شاملو عنصرونو د سمبولونو مجموعه ده، په کيمياوي معادله کي د تعامل لوری د تیر په واسطه ښودل کېږي. په عمومي ډول ترکیبي تعاملونه داسې لیکل کېږي:



په پورټني معادله کې A او B هر یو له یوه عنصر یا مرکب څخه نماینده گي کوي چې یو له بل سره تعامل کوي او د تعامل کوونکو موادو په نوم یادېږي، ټول تعامل کوونکي مواد د معادلې کیني خواته لیکل کېږي، AB د لاسته راغلي مرکب څخه نماینده گي کوي او \longrightarrow ، د تعامل لوری راښيي. باید وویل شي چې په کیمیاوي معادلو کې د مادي حالت د هغوي د انگرېزي نوم لومړۍ توره په وړي الفبا توری ښودل کېږي؛ د بیلگې په توگه: د گاز حالت په (g) ، مایع حالت په (l) ، جامد حالت په (s) او د اوبو محلول حالت په (aq) ښودل کېږي او دا علامې د سمبولونو یا فورمولونو ښيي خواته لیکل کېږي.

پورټني مطلب په لاندې معادله کې چې د اوسپني د زنگ وهلو معادله ده، ښودل کېږي:



په پورته معادله کې اوسپني له اکسیجن سره تعامل کوي او یوه سره رنگي ماده چې د اوسپني اکساید (زنگ) په نوم یادېږي، جوړه کوي ده. په پورټني تعامل کې اوسپني له اکسیجن سره ورو ورو تعامل کوي چې دا ډول تعامل د ورو (بطي) اکسیدیشن په نوم یادوي.

اوس چې یوه شوی د فلزي الو او سامانو زنگ وهل د اکسیجن او اوسپني او نورو فلزونو له تعامل څخه عبارت دی؛ نو لازمه ده چې د فلزي الو او سامانو مخ د لنډه بل او اکسیجن له نښتو څخه لرې وساتي؛ د دې لپاره لازمه ده چې د فلزونو مخ د جوړیو زنگ په واسطه زنگ کړی او په دوامداره ډول یې له استفادې څخه وروسته پاک او په وچ ځای کې یې کېږدئ. تر څو ستاسې فلزي لوازم د زنگ په واسطه له منځه لاړ نشي.



(۳-۴) شکل د اوسپني زنگ وهل

د کیمیاوي معادلو برابرول

د معادلو د سم لیکلو لپاره لازمه ده چې د هغو د برابرولو په لارې پوه شو. د کیمیاوي معادلو برابرول د کتلې او اټومونو د پایښت قانون پر بنسټ ترسره کېږي، د دې قانون په بنسټ په ټولو کیمیاوي تعاملونو کې د تعامل کوونکو موادو د عنصرونو د اټومونو تعداد او د حاصل شویو موادو د عنصرونو د اټومونو له تعداد سره برابرېږي. د توازن کولو لپاره د اوبو د جوړیدو معادله په پام کې


نیسو:



په پورتنۍ معادله کې د معادلې کین خواته د هایدروجن دوه اټومه او د اکسیجن دوه اټومه موجود دي او د معادلې ښې خواته دوه اټومه هایدروجن او یو اټوم اکسیجن شته دي، د معادلې د دواړو خواو د اکسیجن اټومونو د برابرولو لپاره د معادلې ښې خوا دوه (۲) سره ضرب کړئ:



اوس وگورئ چې د معادلې ښې خواته ۲ اټومه اکسیجن او ۴ اټومه هایدروجن موجود دي او د معادلې کینې خواته ۲ اټومه اکسیجن او ۲ اټومه هایدروجن شته، کپه خوا د ښې خوا په نسبت ۲ اټومه هایدروجن کم لري نو د معادلې کینې خوا هایدروجن د دوو (۲) په عدد کې ضربوو:



د پورته معادلې دواړه خواوي له هره پلوه سره برابرې دي.

د اټومونو تعداد وټاکئ، وروسته یو مرکب چې د اټومونو ډیر تعداد ولري په نظر کې ونیسئ د هغې پر بنسټ د دواړو خواو د اټومونو ډیر تعداد په اړونده ضربونو سره برابر کړئ.

په لابر اتوار کې د لاندې تعامل سره سم پوتاشیم کلوریت (KClO₃) ته د تودوخې ورکولو په واسطه یوه لږ اندازه اکسیجن په لاس راوړي.

$$2\text{KClO}_3(\text{s}) \longrightarrow 2\text{KCl}(\text{s}) + \text{O}_2(\text{g})$$

پورتنۍ معادله په لاندې طریقو توازن کولی شی:

په لومړي پړاو کې د شاملو عنصرونو د اټومونو شمیر د معادلې دواړو خواو ته

و شمیرئ:



د تعامل کونکي مواد	تفاعل حاصل شوي مواد		
K د اټومونو شمیر	۱	۱	۱
Cl د اټومونو شمیر	۱	۱	۱
O د اټومونو شمیر	۳	۲	۲

په دوهم پړاو کې د اکسیجن د اټومونو تعداد د معادلې په دواړو خواو کې سره برابر نه دي، نو د ۲ په عدد او د O₂ عنصر د ۳ په عدد کې ضرب کړئ ترڅو د اکسیجن د اټومونو شمیر د معادلې دواړو خواو کې سره برابر شي:



په درېم پړاو کې KCl چې د معادلې ښې خوا ته شتون لري، د ۲ په عدد ضرب کړئ ترڅو چې د K او Cl اټومونه د معادلې دواړو خواو کې برابر شي:



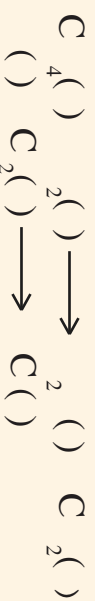
تفاعل کونکي مواد	تفاعل محصول		
K د اټومونو شمیر	۲	۲	۲
Cl د اټومونو شمیر	۲	۲	۲
O د اټومونو شمیر	۶	۶	۶

همدارنگه کولای شئ چې نورې معادلې هم توازن کړئ.



ګرڼه

لاندې معادلې په خپلو کتابچو کې وليکئ او برابري يې کړئ.



د کيمياوي تعاملونو ډولونه

کيمياوي تعاملونه بيلابيل ډولونه لري چې په مختصر ډول يې څيړو.

تجزیوي تعاملونه

هغه تعاملونو ته وايي چې د هغې په واسطه يوه ترکيب شوي ماده په دوو يا څو مادو تجزيه شوي؛ لکه: د اوبو مرکب په خپلو لومړنيو اجزاو باندې په لاندې توګه تجزيه کېږي.



(5-4) شکل د اوبو پرېښتلې تجزیه

جمعي تعاملونه

هغه تعاملونو ته وايي چې د دوه يا څو مادو د يو ځای کېدو څخه يوه نوی ماده جوړېږي؛ لکه:



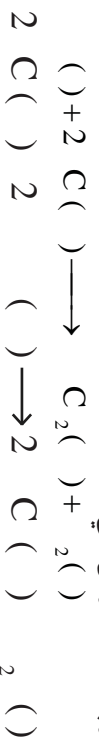
د سون تعاملونه

د موادو چټک تعامل له اکسیجن سره چې له لمبې او تودوخې سره يو ځای وي؛ د سون تعامل په نوم يادېږي؛ لکه:



تعويضي تعاملونه

هغه تعاملونو ته وايي چې د يوه مرکب د ځينو عنصرونو د اتومونو ځای د نوره عنصرونو په واسطه عوض شي:



د فلزونو تعاملونه له غیر فلزونو سره

فلزونه له غیر فلزونو سره په آساني تعامل کوي او مالګې جوړوي، يوه له دې مالګو څخه چې هره ورځ په خوروکې ترې گڼه اخلو، د خوړو مالګه ده. د سوديوم فلز چې په لومړي گروپ او کلوډين چې په اووم گروپ کې ځای لري، د تعامل څخه بې مالګه جوړه شوي ده. فلزونه په کيمياوي تعاملونو کې غیر فلزونو ته الکترون ورکوي، په هر اندازه چې فلزونه په آساني الکترونونه د لاسه ورکوي، فعال فلزونه دي، غیر فلزونه له فلزونو څخه الکترون اخلي. که غیر فلزونه هم په آساني الکترون واخلي، فعال غیر فلز بلل کېږي:



په همدې ډول فلزونه؛ لکه: کلسيم (Ca)، جست (Zn)، اوسپنه (Fe) او نور کولاي شي چې په آساني له غیر فلزونو سره تعامل وکړي او مختلف مرکبونه جوړ کړي؛ لکه: د کلسيم تعامل چې له برومين سره تر سره کېږي.



(0-4) شکل د سوديوم تعامل له کلورين ګاز سره



ګرځنه

د پوټاشیم (K) تعامل معادله له فلورین (F₂) سره، لیتیم (Li) د تعامل معادله له برومین (Br₂) سره د مګنیزیم (Mg) تعامل معادله د آیونین (I₂) سره ولیکئ او توازن یې کړئ.

د پوټاشیم کیمیاوي تعامل له اکسیجن سره

اکسیجن (O₂) د عنصرونو د دوره یي جدول په شپږم اصلي ګروپ (VIA) کې ځای لري؛ نو اکسیجن د عنصر اټوم په وروستي مدار کې شپږ الکترونونه لري؛ ځکه میل لري چې د خپل مقابل عنصر څخه د ۲ الکترونو په اخیستلو خپل وروستي قشر پوره کړي؛ خو د پوټاشیم د عنصر اټوم چې په لومړي اصلي ګروپ (IA) کې ځای لري، یوازې یو ولانسي الکترون لري؛ نو نشي کولای چې د اټو الکترونو په اخیستلو خپل وروستي قشر پوره کړي او د اوکټ حالت ته د رسیدلو لپاره د خپل وروستي قشر یو الکترون اکیسیجن ته ورکوي؛ نو دا چې د اکسیجن اټوم دوه الکترونونه اړتیا لري، د پوټاشیم دوه اټومه باید په تعامل کې برخه واخلي، دا تعامل په داسې لیکلای شو:

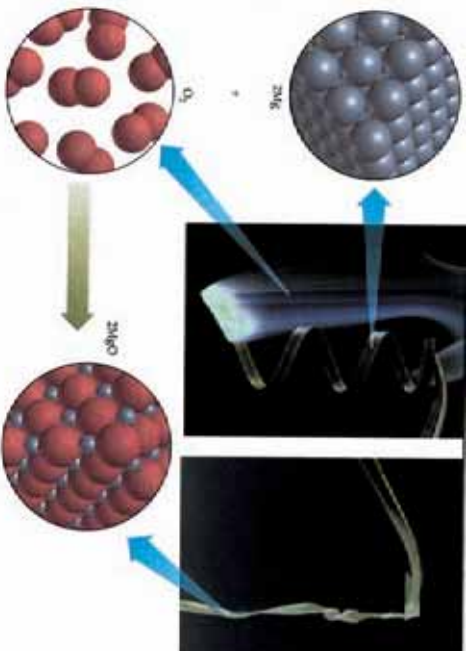


د مګنیزیم کیمیاوي تعامل له اکسیجن سره

د مګنیزیم (Mg) فلز په دویم اصلي ګروپ (IIA) کې ځای لري، د دې ګروپ عنصرونه وروسته د لومړي اصلي ګروپ له عنصرونو څخه زیات کیمیاوي فعالیت لري، مګنیزیم او د دوهم اصلي ګروپ ټول نور عنصرونه خپل وروستي قشر کې دوه الکترونه لري؛ نو نه شي کولای چې شپږ الکترونه واخلي چې خپل اصلي وروستي قشر په اټو الکترونو ډک کړي؛ نو ځکه د کیمیاوي تعاملونو په بهیر کې د خپل وروستي قشر دوه الکترونونه اکیسیجن ته ورکوي او د اکسیجن چارج منفي دوه (۲-) کېږي د دې ذره په منځ کې آیوني اړیکه شتون لري. په لاندې معادلي کې د Mg او O₂ تعامل لیدلای شئ:



د مګنیزیم فلز له تعامل څخه په اورلیو کې استفاده کېږي:



(۴-۶) شکل د مگنیزیم تعامل د اکسیجن سره

اکسیجن له کلسیم Ca فلز سره هم تعامل کوي او کلسیم اکساید جوړوي:

$$2C () \longrightarrow 2C ()$$

په همدې ډول جست په لوره تودوخه کې له اکسیجن سره تعامل کوي او په ښایسته رنگ سوزي او د جستو اکساید جوړوي:



د غیر فلزونو ترکیب له یو بل سره

غیر فلزونه په خپل منځ کې تعامل کوي او مختلف مرکبونه جوړوي. د جوړو شویو مرکبونو د اټومونو په منځ کې اشتراکي (کوولانت) اړیکې وي، تاسې د اوبو د حیاتي مرکب له معادلي سره پوره اشنایي لری، چې دوو غیر فلزي عنصرونو اکسیجن (O) او هایدروجن (H) څخه جوړ شوی دی. د اوبو په مرکب کې د اکسیجن او هایدروجن په منځ کې اشتراکي اړیکه شته ده:



د نایتروجن تعامل له هایدروجن سره د اموینیا NH₃ مهم مرکب جوړوي. په دې مرکب کې د نایتروجن او هایدروجن په منځ کې اشتراکي اړیکه شته ده.




سلفر له اکسیجن سره تعامل کوي او سلفر دای اکساید جوړوي:



کاربن له اکسیجن سره تعامل کوي او کاربن دای اکساید جوړوي:



(۴-۷) شکل د جستو د سوخیللو تعامل د اکسیجن سره



د څلورم څپر کې لنډيز

- ▶ هغه عمليه چې د هغې په درشل کې يوه ماده په بله ماده بدله او ټول خواص يې تغير وکړي، کيمياوي تعامل بلل کېږي.
- ▶ په يوه کيمياوي تعامل کې د شاملو مرکبونو او عنصرونو سمبولونو او فورمولونو مجموعې ته کيمياوي معادله ويل کېږي.
- ▶ د کتلې د پايښت د قانون سره سم، په يو کيمياوي تعامل کې د تعامل کوونکو موادو مجموعې کتله د تعامل د حاصل شوو موادو له مجموعې کتلې سره برابره ده.
- ▶ کيمياوي تعاملونه مختلف ډولونه لري؛ لکه: تجزيوي، جمعي، سون او تعويضي تعاملونه.
- ▶ فلزونه له غير فلزونو سره په آساني تعامل کوي او مالګې جوړوي، جوړ شوي مرکبونه د ايوني اړيکو لرونکي دي.
- ▶ که چيرې غير فلزونه سره تعامل وکړي په پايله کې داسې مرکبونه جوړېږي چې اشتراکي اړيکې لري.

د څلورم څپر کې پوښتني

- لاندي پوښتني په ځير ولولئ او خپلو کتابچونه يې نقل کړئ که سمې وي د قوس په منځ کې د (س) علامه او که ناسمې وي د (ن) علامه کېږدئ.
- 1- د موادو خسا کيدل يو فزيکي بدلون دی. ()
 - 2- د کيمياوي تعامل پواسطه ماده نه له منځه ځي او نه يې په کتله کې زياتوالی پيدا کېږي ()
 - 3- د کتلې د پايښت (تحفظ) د قانون پر بنسټ بايد د معادلي دواړه خواوي سره برابري وي ()
 - 4- په يوه مرکب کې د شاملو عنصرونو د سمبولونو مجموعه د کيمياوي معادلي په نوم يادوي ()
 - 5- د اوسپني زنگ وهل يو کيمياوي تعامل دی ()

- ۶- د فلزونو د سطحو رنگول له زنگ وهلو څخه مخنیوی کوي ()
- ۷- که دوه یا زیات مواد یو له بل سره تعامل وکړي اونیوی مرکب تشکیل کړي، دا تعامل جمعي تعامل دی ()

لاندي پوښتنوته څو ځوابونه ورکول شويدي، د سم ځواب توري څخه کړۍ تاوی کړۍ.

- ۸- هغه تعامل چې د هغه په واسطه مرکبونه په خپلو لومړنیو اجزاو توته کېږي، کوم ډول تعامل دی؟ الف (جمعي تعامل ب) د سون تعامل ج) تعويضي تعامل د) تجزیوي تعامل
- ۹- د باریم (Ba) تعامل له اکسیجن سره، د باریم چارج به څو اوسي؟ الف - ۲ ب) ۳ ج) ۲ + د) ۱ +

لاندي پوښتي روښانه کړۍ

- ۱۰- د کتلې د پایښت قانون په لنډ ډول شرحه کړۍ.
- ۱۱- کیمیاوي تعامل څه شی دی؟ روښانه یې کړۍ.
- لاندي پوښتي دوه ستونه لري د پوښتنو ستون او د ځوابونو ستون.
- د سم ځواب شمیره د ځوابونو له ستون څخه هغه فوسونو کې چې د پوښتنو په پای کې اښودل شويدي، ولیکۍ:

- ۱- فزیکي عملیه ده
- ۲ - د MgO مرکب جوړېږي.
- ۳ - کیمیاوي عملیه ده
- ۴ - MgS مرکب جوړوي
- ۵ - د توازن په واسطه
- ۶ - د کتلې د پایښت قانون
- ۷ - مالګې جوړوي
- ۸ - اکسایډونه جوړوي

- ۱۲- د اچار جوړول څه ډول عملیه ده. ()
- ۱۳- د کومې عملیې په واسطه د معادلې دواړه خواوې سره برابرېږي. ()
- ۱۴- فلزونه له غیر فلزونو سره څه ډول مرکبونه جوړوي. ()
- ۱۵- د مګنیزیم د سوځیدو وروسته کوم مرکب جوړېږي. ()

لاندي معادلې توازن کړۍ:



د اکسایدونو جوړښت او د کارولو ځایونه

پي

په څلورم څپرکي کې د کيمياوي تعاملونو په برخه کې د اکسيجن تعامل له فلزونو او غير فلزونو سره، په ځانگړي ډول د مگنيزيم د فلز سوسوځول مو په ازاده هوا کې وليدل. ايا د اکسايډ کلمې سره پوره بلډياست؟ د لسم څپرکي وړاندې شوي معلومات په ياد راوړئ. اوبه نارسيلاي چونه چې زياتره ساختماني او صنعتي چارو کې په کارورول کېږي، کلسيم اکسايډ (CaO) دي. همدارنگه په طبيعت کې د تيترو اساسي برخه سليکان ډاي اکسايډ (SiO₂) جوړه کړېده. د اوسپني زنگ چې موزر هر کله هغه ليدلی دی، د اوسپني دوه ولاسه (FeO) او درې ولاسه (Fe₂O₃) اکسايډونه دي. اکسايډونه په عمومي ډول د عنصرونو له اکسيډيشن (Oxidation) څخه لاسته راځي.

همدارنگه د کاربن ډاي اکسايډ (CO₂) غاز د سون موادو د سوځولو او يا د تنفس په بهير کې توليديږي. چې کاربن اکسايډ دی، د سلفر ډاي اکسايډ (SO₂) غاز چې د نفتي موادو د سون په بهير او يا د گوگړو تيزابو د توليد په درشل کې توليديږي. دواړه غازونه د هوا د ککړتيا لامل گرځي او د همدې علت پر بنسټ دی چې د نړۍ په ډيرو لويو صنعتي بناونو لکه توکيو، لندن او همدارنگه زمونږ د گاونډي هيواد ايران په پایتخت کې تيزابي باران اوربوري څرنگه چې وويل شول تول اکسايډونه د عناصرو له اکسيډيشن څخه لاسته راځي.

اکسيډيشن څه شی دی؟ کوم عنصر د اکسيډيشن د عمليې د پيښلو لامل گرځي؟ د اکسايډونوم ايتنودل څه ډول تر سره کېږي؟ د انسانانو په ژوند کې اکسايډونه څه اهميت لري؟ تيزابي او القلي اکسايډونه څه شی دي؟ او يو له بل څخه څه توپير لري؟ د دې څپرکي په لوستلو به اړونده ځوابونه پورتنيو پوښتنو ته پيدا کړئ.

اکسیجن د تخمض کوونکي مادي په توگه

د اکسیجن عنصر یوه فوق العاده مهمه حیاتي او صنعتي ماده ده چې په اووم ټولگي کې مو، زموږ په ژوند کې د مهمو عنصرونو تر عنوان لاندې ولوستل. په ښکاره ډول اکسیجن په طبیعت کې د تخمض او احتراق بنسټیزه وسیله ده. اکسیجن هم د فلزونو؛ لکه: سوډیم (Na)، کلسیم (Ca) او اوسپني (Fe) او هم د غیر فلزونو؛ لکه: نایټروجن (N₂)، سلفر (S) او کاربن (C) سره تعامل کوي، او اکسایدونه جوړوي.



گونه

اکسیجن د تخمض کوونکي مادي په توگه

د اړتیا وړ لوازم او مواد: د لرگي سکاره، برقي بانډکه یا لاسي بانډکه، کپولاره، لومړی د لرگي د سکرو یوه معلومه اندازه په نیمو سوخیډلو سکرو ټوټو تبدیلې کړئ. د نیمو سوخیډلو سکرو پکه کول خو ځله به وقفه یې ډول تر سره کړئ، خپلې لښې ولیکئ او لاندې پوښتنو ته ځوابونه ورکړئ.

۱- هر کله چې د لرگيو د سکرو نیمې سوخیډلي سکروټي پکه نشي، څه پېښه منځته راځي؟ ایا سکروټي شوی سکاره په خپل حال پاتې کېږي؟ او یا دا چې دوهم وار توریږي؟

۲- د سکروټي د کیفیت د بدلون لامل روښانه کړئ.



(۵-۱۱) شکل د لرگو نیم سوخیډلي سکاره



کونه

د سودیم (Na) اکسیدیشن

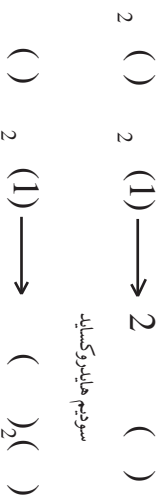
د اړتیا وړ لوازم او مواد: د سودیم (Na) د فلز یوه تویټه، پنس، د ساعت نښینه، دستکش، چاقو کورلاسه: د سودیم د فلز تویټه په پنس باندي ونیسئ او هغه د چاقو په واسطه وگرولئ او د ساعتی نښیني کې بې کېړنۍ له (۵) دقیقو څخه تر (۱۰) دقیقو پورې د سودیم د فلز صیقلی گول شوي سطحه بیا وگرولئ، راول شوي بدلونونه په څیر سره وگرولئ، خپلي لیدني ولیکئ او لاندې پوښتنو ته ځواب ورکړئ:

- ۱- کوم بدلون د سودیم د گړول شوی سطحې په ځلا کې د وخت په تیریدو سره لیدلای شي؟
- ۲- د تعامل معادله بیا ولیکئ.



(۲-۵) د سودیمي ځلا او ځلا لرونکي گړول شوي سطحه

د فلزونو د اکسیدونو او اوبو له تعامل څخه په ځانگړي توگه د لومړي (IA) او دوهم (IIA) اصلي گروپونو د فلزونو اکسیدونه په عمومي ډول القلي جوړوي:



د غیر فلزونو اکسیدیشن

د غیر فلزونو اکسیدیشن د عملیې په پایله کې د غیر فلزونو اکسایدونه جوړیږي. چې بیلګې یې CO_2 ، SO_2 ، SO_3 ، NO_2 ، NO ، NO_2 او نور دي.



ګوته

د سلفر اکسیدیشن

د اړتیا وړ لوازم او مواد: د سلفر (S) پودړ، د بنسن څراغ او یا هر مناسب بل څراغ، عادي قاشوغه، د سوځیدو قاشوغه، عینګې او بنسن.

ګوټلاره: یوه لږه اندازه سلفر د سوځیدو په قاشوغه کې واچوئ او د بنسن څراغ وړانګو باندې یې کیږوئ؛ عملیه په آزاده هوا کې تر سره کړئ. د سلفر د سوځیدو د بهیر په وخت کې د تنفس او همدا رنگه د وتلي ګاز له نیغ بوی څخه ځان وساتئ؛ خپله لیښنه ولټکئ او لاندې پوښتنو ته ځواب ورکړئ:

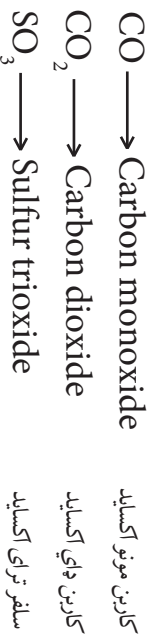
- ۱- آیا سلفر وروسته له سوځیدو څخه د سوځولو په قاشوغه کې لیدل کېږي؟ که نه لیدل کېږي نو ولې؟
- ۲- آیا د آزماښت په وخت کې بوی هم حس کوئ؟
- ۳- آیا د بنسن څراغ د وړانګو رنگ د سلفر د سوځیدو په وخت کې بدلون مومي؟
- ۴- خپلې لیدنې یادداشت کړئ.



(۳-۵) شکل د سلفر سوځیدل د سوځیدو په قاشوغه کې

د غیر فلزي اکسایډونو نوم ایښودل

د غیر فلزونو د اکسایډونو د نوم ایښودلو طریقه داسې ده چې لومړی د غیر فلز نوم او ورپسې د اکسایډ Oxide کلمه ذکر کېږي همدا رنگه یو غیر فلز په مختلفو ولاړسو مختلف اکسایډونه جوړوي، له دې کبله په هغو اکسایډونو کې چې د اکسیجن یو اتم شامل وي د مونو (Mono) رقم او که دوه اتمونه شامل وي د ډای (Di) رقم او که درې اتمونه شامل وي د تری (Tri) او په همدې ترتیب تترا (Tetra) او پینتا (Pent) رقمونه له اکسایډ (Oxide) سره په مختاړي بڼه یو ځای کېږي:



کاربن د CO په مرکب کې د ۲ په ولاړس او CO₂ په مرکب د ۴ ولاړسه عمل کوي د ایویک په طریقه د غیر فلزي اکسایډونو نوم ایښودونه د فلزي اکسایډونو د نوم ایښودنو سره یو شان ده، آیا ویلای شئ چې سلفر د SO₃ په مرکب کې پخپل کوم ولاړسه عمل کېږي؟



گونه

د اکسایډونو نوم ایښودل

ګونلاره: شاگردان دې په درې ډلو وویشل شي او په لاندې ډول دې عمل وکړي.

لومړی ډله: لږ تر لږه د څلور مختلفو فلزونو اکسایډونه دې پیدا کړي چې په هغو کې هر فلز مختلف ولاړسو نه ولري.

دویمه ډله: د هغوی نومونه او فورمولونه دې په معمولي او د ایویاک (IUPAC) په طریقو ولیکي.

درېمه ډله: لږ تر لږه د څلورو مختلفو غیر فلزونو اکسایډونه دې، په مختلفو ولاړسونو سره پیدا کړي او د هغو اړوند کیمیاوي فورمولونه او نومونه دې ولیکي.

د سون موادو سوځول

د سون موادو لکه: لرګي، جبرو سکاره، نفتي مواد او طبیعي غازونه د هواد اکسیجن په شتون کې

سوخي. طبيعي ده، کله چي اکسيجن له يوري مادي سره تعامل کوي، هغه ماده تخمض کېږي. د موادو سوځيدل د اکسيجن په واسطه چټک تخمض يا چټک اکسيديشن بلل کېږي او اکسيجن د موادو په سوځولو کې د تخمض کونکي مادي په توگه برخه اخلي. د سوځيدلو او اکسيديشن په منځ کې بنسټيز توپير دادی چې د سوځولو د عمليې په بهير کې تل تودوخه او زړا ازاډيري، پداسې حال کې چې د عادي اکسيديشن په بهير کې زړانه راوځي، په لاندې کيمياوي معادله کې د سون د موادو سوځول د اکسيجن پواسطه بنودل کېږي.



تودوخه + کاربن ډاي اکسايډ + داووبه براس \longrightarrow اکسيجن + ايتان

د سون د ټولو موادو له سوځولو څخه يوه اندازه گېوره انرژي د تودوخې په بڼه ازاډيري چې له لاسته راغلي انرژي څخه د صنعت په مختلفو برخو؛ لکه: د فلزونو ويلي کول او په لاس راوړل، د سمټوبه بنسټو او کاشي گانو توليد، د غذايي موادو پخول او همدا رنگه د کورونو په گرمولو کې لازمه استفاده کېږي. د سون موادو د سوځولو د حاصلو څخه يو هم د کاربن ډاي اکسايډ گاز لاس راځي چې يې بويه، بې خونده او بې رنگه غاز دی؛ خو ناسي په عادي ډول تور لوگي د سون موادو د سوځولو په وخت کې گوري. دا تور رنگه لوگي د کاربن د ذراتو ناسو څيدلي يا د سون مادي د نيمگړي سوځيدلو په پايله کې جوړېږي. د کاربن ډاي اکسايډ توليد شوي غاز او نور حاصل شوي غازونه د سوځولو په بهير کې هواته پورته کېږي د تور رنگه غليظ دود پورته کېدل د صنعتي فابريکو د لوگي ايستلو نلونو چې له جبرو سکرو او يا نفتو څخه د سون مادي

په توگه په هغوی کې ترې استفاده کېږي، ليدلی شئ.



(۶-۵) شکل د بوي فابريکې د لوگي وټلو د لوگي ټوک توليد

د فلزونو خورل کیدل (د فلزونو زنگ وهل)



د اکسایډي قشر جوړښت د فلزونو پر سطحې باندې د فلزونو د زنگ په نوم یادېږي او دغه قشر د محافظوي قشر په حیث د اکسیجن له وروستي نفوذ څخه د ځینو فلزونو منځنی برخه مخنیوی کوي او په ځینو حالاتو او د فلزونو د نوعیت په پام کې نیولو سره؛ لکه: اوسپنه، دا قشر خلا لرونکی وي او له فلز څخه د پامو په څیر جلا کېږي چې په دې ډول د فلز لاندیني برخې هم اکسیدي کېږي، د دې عملې د دوام په پایله کې د وخت په تیریدو سره فلز خورول او له منځه ځي.

(ه-ه) شکل اوسپنه زنگ وهي او خورل کېږي.



ګرځنه

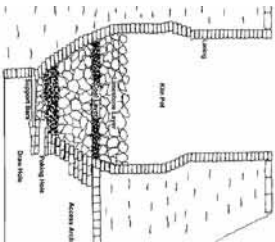
د اوسپني فلز د زنگ خورلو مطالعه

د اړتیا وړ لوازم او مواد: ۳ دانې د اوسپني پاک او صیقل شوی میخونه، ۳ دانې ازمینښتي نلونه، مقطرې اوبه، پنس، غوړي، د خورلو مالګه او ریګ مال.

ګرځلاره: په یوه ازمینښتي نل کې جوش شوي مقطرې اوبه چې اکسیجن و نه لري واچوئ او د هغه په منځ کې یو میخ چې په ریګ مال پاک او صیقل شوي وي، کېږدئ او وروسته غوړي ورزیات کړئ؛ ترڅو یو ناڅرګ پوښ جوړ او د اکسیجن د وروستي ننوتلو څخه مخنیوی وکړي، په بل تست توب کې د مالګې اوبه چې د خوړو د مالګې په زیاتولو (له هوري منحلې مالګې څخه) استفاده کولای شي) زاتره تریو او مالګین کړي وي، واچوئ بیا هم یو بل میخ له صیقل شویو میخونو څخه په دې ازمینښتي نل کې داخل کړئ او په درېیم تست توب کې مقطرې اوبه واچوئ، په هغه ازمینښتي نل کې درېیم صیقل شوي میخ داخل کړي، باید پام وکړئ چې دویم او درېیم ازمینښتي نلونه د لومړي ازمینښتي نل په شان جوش نه وي او د غوړیو پوښ هم ونه لري، له یوې هغې وروسته درې واړه میخونه د ازمینښتي نلونو څخه د باندې راوباسئ او یو له بل سره یې پرتله کړئ، خپلې لیدني ولیکئ او لاندې پوښتنو ته ځوابونه وواځئ:

- ۱- د لیدل شوو تغیراتو لامل ولیکئ.
- ۲- د فلزونو د زنگ خورلو د مخنیوي لپاره څه ډول لارې چارې ترسره کړو.

ځینې فلزونه د هغوی د طبیعت او خواصو پر بنسټ؛ لکه: المونیم (Al)، جست (Zn)، مس (Cu) او نور په سسختي زنگ وهي؛ خو څو نور لږ فلزونه چې د (نخښه فلزونو) په نوم یادېږي او د کیمیاوي



(۱-۵) د چوڼي د پخولو پيچي

فعالیت له کبله غیر فعال دي؛ لکه: سسره زر (Au)، پلاتین (Pt) او سپین زر (Ag) په عملي توګه زنگ نه وهي؛ یعنې په عادي اقلیمي شرایطو کې اکساید نه شي جوړولی.

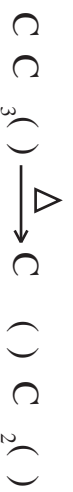
د اکسایدونو د استعمال ځایونه

فلزي او غیر فلزي اکسایدونه د صنعت په مختلفو برخو او د بشري نړۍ په تولیدي فعالیتونو کې کارول کېږي.

د C C_2 C_3 e_2 e_3 او د ځینو فلزونو

رنگه اکسایدونه د سمیتو، بنسینو، کاشي په صنعت او د خالصو فلزونو په تولید یا متالورجی، دواو او نورو کې کارول کېږي.


د فلزونو د اکسایدونو له ډلې څخه چونه (CaO) چې په عادي ډول اوبه نارسیډلي چونه ورته ویل کېږي، یوازینی فلزي اکساید دی چې په صنعت او ساختماني چارو کې زیات استعمالېږي. د چوڼي تېږي د لوړې تودوخې په واسطه په اوبه نارسیډلي چوڼي او د کاربن ډای اکساید په غاز د لاندې معادلي سره سم تجزیه کېږي.



د غیر فلزونو له اکسایدونو؛ لکه: SO_2 ، SO_3 ، NO_2 ، CO_2 ، او نورو څخه د غیر عضوي تیزابونو په جوړولو کې کار اخیستل کېږي؛ لکه: سلفورس اسید (H_2SO_3)، سلفوریک اسید (H_2SO_4) او نایتریک اسید (HNO_3).
غاز لرونکي شربتونه کې د C_2 غاز شتون لري.

(۷-۵) شکل ګاز لرونکي شربتونه چې له کاربن ډای اکساید څخه ګڼ دي





د پنځم څپر کې لنډيز

- ▲ اکسايډونه هغه مرکبونه دي چې د اکسيجن او نورو عناصرو د تعامل په پايله کې لاس ته راځي.
- ▲ اکسايډونه په دوه ګروپو فزري او غير فزري اکسايډونو وېشل شويدي.
- ▲ د اکسيجن نېټول پر يوري مادي باندې د اکسيډيشن په نوم يادېږي، که څه هم دا ماده عنصر وي او يا مرکب.
- ▲ اکسيجن د تعامل په جريان کې له هر عنصر څخه زېږته د فلورين) الکترون اخلي، له همدې کبله له يو عنصر څخه د الکترون اخيستل اکسيډيشن نومېږي.
- ▲ د سون موادو د سوځيدلو په پايله کې د غير فلزونو اکسايډونه او په زياته اندازه انرژي د رڼا او تودوخې په څير توليديږي.
- ▲ د فلزونو زنگ وهل د خوړلو او ياد فلزونو د پرله پسي خرابيدو لامل ګرځي.

د پنځم څپر کې پوښتنې

هرې پوښتنې ته څلور ځوابونه ورکړ شوېدي چې له هغو له ډلې څخه يوازې يوې سم دی، تاسې سم ځواب پخپلو کتابچو کې غوره کړئ.

۱- اکسيډيشن عبارت دي له:

الف) د اکسيجن نصب په يوري مادي باندې ب) د الکترون اخيستل د يوري مادي په واسطه

ج) د هايډروجن نصب په يو عنصر باندې د) له يوري مادي څخه د اکسيجن ايستل

۲ - د چوڼي تيره يو له لاندې فورمولو لرونکي ده.

الف) CaO ب) $Ca(OH)_2$ ج) $CaCO_3$ د) $CaSO_4$

۳- کوم يو له لاندې فلزونو څخه په ازاده او مرطوبه هوا کې د زنگ په واسطه ډير خرابيږي.

الف) مس ب) کوبالت ج) سپين زر د) اوسپنه

۴- په طبیعت کې غیر قوی الکترون اخیستونکی عنصر... دی.
 الف) O_2 ب) Cl_2 ج) F_2 د) Au
 ۵- په هوا کې د اکسیجن اندازه د حجم په بنسټ مساوي... دی:

الف) $\frac{1}{5}$ برخه د هوا ب) $\frac{1}{4}$ برخه د هوا ج) د هوا ۸۰٪ د) د هوا ۵۰٪

تش ځایونه په مناسبو کلمو ډک کړئ.

- ۶- د اکسیجن د ترکیب له امله د فلزونو او غیر فلزونو سره () حاصلېږي.
 ۷- د اکسیجن تعامل له یو عنصر سره () تشکېلیږي.
 ۸- د اکسیجن تعامل له هایدروجن سره د ژوندانه یوه مهمه ماده () تولیدېږي.
 ۹- د چوڼي د تیرې کیمیاوي فورمول () دی او د تودوخې په واسطه یې له تجزیې څخه () او () مرکبونه لاسته راځي.
 ۱۰- اکسایدونه د () او () په طریقو سره نوم ایښودل کېږي.

په ښي خوا کې یوښتي او په کینه خوا کې ځوابونه وړاندې شوېدي، د ځوابونو شمېره د یوښتنو مخامخ قوسونو کې ولیکئ.

- ۱۱- C_2H_6 گاز د سوځیدو محصول دی () ۱- د غیر فلز اکساید دی.
 ۱۲- اکسیدیشن ویل کېږي () ۲- BaO
 ۱۳- Cl_2O_7 () ۳- $Magnetite (Fe_3O_4)$
 ۱۴- مقناطیسي خاصیت لري () ۴- H_2O ، CO_2 تودوخه او رڼا
 ۱۵- د باریم اکساید کیمیاوي فورمول دی () ۵- په عمومي ډول د الکترون پایل

لاندي پوښتنو ته مناسب ځوابونه ورکړئ.

- ۱۶- تکمیل او توازن شوي معادلي د سکرو د سوځیدلو رکاربن، سلفر، مگنیزیم او فاسفورس د تعاملونو ولیکئ.
 ۱۷- د کاربن او اکسیجن له تعامل څخه کوم اکسایدونه جوړېږي؟
 ۱۸- کومو مرکبونو ته اکساید ویل کېږي؟
 ۱۹- PbO ، Fe_2O_3 او SrO مرکبونو نومونه ولیکئ.
 ۲۰- H_2S د مرکب له سوځیدو څخه کوم مرکبونه حاصلېږي؟ کیمیاوي معادلي یې ولیکئ.
 ۲۱- اکسیدیشن Oxidation تعریف کړئ.

شپږم څپرکی



مهم صنعتي مرکبونه

تر اوسه مو څيز مهم کيمياوي مسایل؛ لکه: د اټوم جوړښت، د عناصرو دوره يي جدول، کيمياوي تعاملونه او اړيکي لوستي دي. اوس هغه تغييرات چې ستاسې په اطرافو کې پېښېږي په اړوندې علمي نظر لری. په دې څپرکي کې يو بل وړاندې بزده، د مهمو صنعتي مرکبونو؛ لکه: کيمياوي سړی او کلورين لرونکي مرکبونه او د هغوي د استعمال ځايونو سره اشنا کېږو؛ سربيره پر مهمو مرکبونو به کلورين هم ولولئ. د نننۍ نړۍ بد لوفونه د مهمو صنعتي مرکبونو له گټې اخيستنې پرته نه شي تصور کېدای.

زموږ د هېواد د مزار شريف په ښار کې د کيمياوي سړي د توليد فابريکه شته چې زموږ هېواد د بزگرانو د اړتيا يوه برخه د يوريا (کيمياوي سړي) له درکه پوره کوي.

سره څه شی ده؟

پوهنيزې چې نباتات د انسانانو او حيواناتو د خوراک بنسټيزه سرچينه ده. نباتات د خپل ودې او نمو لپاره د انسانانو او حيواناتو غوښندي غذا ته اړتيا لري. نباتات د خپلې غذا يوه بنسټيزه برخه له ځمکې څخه اخلي، د دې لپاره چې نباتات خپله وده په عادي ډول سرته ورسوي، لازمه ده چې په کال کې د نباتاتو د اړتيا وړيروه اندازه ضروري مواد په ځمکه کې ورزيات کړو، چې د سړې په نوم يې يادوي. سړې کېدای شي چې طبيعي او يا مصنوعي وي، په دې ځای کې لازمه ده چې د نباتاتو د ضروري عنصرونو سره آشنا شي.



(۱-۱) شکل د کیمیاوي سره مختلف ډولونه

د نباتاتو د اړتیاوو عنصرونه

نباتات د خپلې ودې او نمو لپاره زیاتو عنصرونو ته ضرورت لري چې له هغې ډلې څخه درې عنصره نایتروجن، فاسفورس او پوټاشیم د نباتاتو په وده او نمو کې ډیره مهمه ونډه لري چې لاندې مطالعه کېږي.


د نباتاتو په وده او نمو کې د هغوی اغېزې	
عنصر	نایتروجن د کلوروفیل، امینو اسیدونو او پروټینونو په ترکیب کې شامل دی او د نباتاتو د تنو او پامو په ودې او نمو کې زياته برخه لري
نایتروجن	پوټاشیم د نباتاتو په وده او نمو کې، همدارنگه د نېټاسټي، فټونو، پټي او ککبان د رشتو په زیاتوالي کې برخه لري، د نباتي ناروغیو مخنیوی او د نایتروجن د زیاتوالي منفي اغېزې راتیډوي.
پوټاشیم	فاسفورس د نباتاتو د میوو او دانو د ودې، نمو او د جوړښت په عملو کې چټکتیا راولی.
فاسفورس	

نباتات د خپلې طبیعي ودې او نمو لپاره مختلفو منرالونو او عنصرونو ته اړتیا لري. د ۶۰ عنصرونو په شاوخوا کې د مرکبونو په بڼه په نباتاتو کې شتون لري. په نباتاتو کې ټول شامل عنصرونه د ځمکې په پورتنۍ حاصل ورکوونکې قشر او د نباتاتو په شاوخوا اتموسفیر کې شتون لري چې د نباتاتو په واسطه اخیستل کېږي. د کاربن، هایدروجن، اکسیجن، نایتروجن، پوټاشیم، فاسفورس، مگنیزیم، سفر، کلسیم او اوسپنې عنصرونه د نباتاتو په ژوند کې بنسټیزه ونډه لري. پورتنۍ یاد شویو عنصرونو له ۹۹٪ څخه زیات د نباتاتو کبله جوړ کړی دی، له دې ډلو څخه درې عنصره کاربن، هایدروجن او اکسیجن د نباتاتو په حجروي نسجونو کې شامل دي.

باید وویل شي چې نور عنصرونه سره له دې چې په ډېره لږه اندازه په نباتاتو کې شتون لري، خو د نباتاتو په وده او نمو کې زیات اهمیت لري.

نباتات څنګه خپل خواړه (غذا) په لاس راوړي؟

نباتات د کاربن زیات مقدار د کاربن ډای آکساید په شکل د فوټوسنتیز د عملیې په واسطه له هوا څخه جذبېږي، ډېر کم مقدار کاربن له خاورې څخه د نباتاتو د ریښو په واسطه جذبېږي. هایدروجن او اکسیجن په بنسټیز ډول د اوبو په ترکیب کې د ریښو په واسطه او نور عنصرونه د منرالونو او د متحللو مالګو د جذب له لارې یا د ضعیفو تیزابونو د جذب له لارې نباتاتو ته انتقالېږي، په معمولې توګه منرالي مالګې چې د نایتروجن، پوټاشیم او فاسفورس لرونکې دي، څنګه چې د نباتاتو له خوا په چټکۍ په مصرف رسېږي او اندازه یې په خاوره کې کمېږي باید د سرو په بڼه ځمکې ته ورزیاتي شي.



(۲-۱) شکل د ضابطې ترکیب عملیه د نباتاتو په پلور کې.

کیمیاوي سرې

انسانانو له ډیرې پخوا زمانې راهیسې یو شمیر طبیعي مالګې د کرلو او کرنې د ضرورت د پوره کولو لپاره د استفادې لاندې نیولې. د بشري ټولنو پر مخ تګ د دې لامل شو چې د غیر عضوي مالګو څخه د خپل اړتیا وړ سرې د نباتاتو لپاره ترکیب کړي. غیر عضوي ترکیبي سرې چې د معنې سره په نوم هم یادېږي، د مالګو له ډلو څخه حساینېږي. دا سرې د طبیعي منرالونو او هم دا رنگه د هواله نایتروجن څخه په لاس راوړل کېږي.

(۳-۱) شکل په ایټالوي ډول د سرې شینولو عملیه رر اعني ځمکې ته



سري هغه مواد دي چې د زراعتي محصولاتو د كميت او كيفيت د لوړولو لپاره په خاوره كې ور زياتېږي. د محصولاتو له اخيستو څخه وروسته كه هر كال په خاوره كې كيمياوي سري ور زياتې نشي، د محصولاتو اخيستل په پرله پسې ډول كمېږي، په پای کې ځمکه د حاصل وركولو څخه پاتې کېږي.



(۴-۱) شکل زراعتي ځمکوته د سري شيندل د تراكتور په وسيله

لكه څنگه چې وويل شول: نباتات د خپلو غذايي موادو بنسټيزه برخه له ځمكې څخه اخلي همدا رنگه هر كال دوايماره كرل (د يو ډول نبات كرل) ددې لامل گرځي تر څو د ځمكې د ضرورت وړ مواد د نباتاتو په واسطه په مصرف ورسېږي او ځمكه د نباتاتو د كرلو لپاره په راتلونكو كلونو كې د اړتيا وړ مواد نشي برابر ولای؛ په همدې ډول حاصلات د كمې او كفي له كبله ټيټېږي. د ځمكې د قوې كولو لپاره مونږ اړ يو چې هغه مواد (ضروري عنصرونه) چې د كالونو په اوږدو كې د نباتاتو په واسطه په مصرف رسېدلي دي، بېرته ځمكې ته ور زيات كړو، تر څو چې د كرل شونو نباتاتو لپاره د اړتيا وړ مواد برابر شي. بايد د اړتيا وړ عنصرونه د مركبونو په بڼه ځمكې ته وركول شي چې نباتات هغه د محلول په ډول له ځمكې څخه واخيستلی شي. د سرو استعمال د نباتاتو مقاومت د مرضونو د اړسو كموالي او د تودوخې درجې ټيټوالي او نورو په مقابل كې بېرته وړي.

د سرو ډولونه

سري په دوه ډوله وېشل شوي دي:

- ۱- عضوي سري (Organic Fertilizers)
- ۲- غير عضوي سري (Inorganic Fertilizers)

۱- **عضوي سري**: په دې سرو کې حیواني فاضله مواد، د غذایي موادو د صنایعو پاتې شوني، نارسیدلي سکاره په خاورو کې د نباتاتو ښخې شوی پاتې او تې، شاملې دي. همدارنگه د یوریا سره چې په صنعت کې تولیدیږي له مهمو عضوي سرو څخه ده.



(۰-۱) د حیواني سري ډولونه او د استعمال ځایونه یې.



۲- **غیر عضوي (هنرالي) سري**: د دې سرو ځینې ډولونه په طبیعت کې په طبعي شکل شته دي، لکه: د کلسیم فاسفیټونه، گچ، د چیلې شوره او نور. د غیر عضوي سرو ډیره اندازه؛ لکه: اموڼیا، کلسیم هایدروجن فاسفیت او نور د ټولې نړۍ په فابریکو کې په ډیر لوړ او ښه کچه تولیدیږي.

د غیر عضوي کیمیاوي سرو ډولونه

په غیر عضوي سرو کې فاسفیټونه، پوټاشیمي مالګې، سلفیټونه، نایتریتونه، اموڼیم فاسفیټونه او نور شامل دي. ځینې مالګې او نور محصولات چې د نباتاتو د اړتیا وړ عنصرونو لرونکي دي، د غیر عضوي سرو په توګه استعمالیږي، ځکه په هغو کې شامل عنصرونه د نباتاتو د ودې او نمو

لیاره په مصرف رسیږي. د سرو عمده او مروج ډولونه لاندې پېژندل کېږي.

فاسفورس لرونکي سړي

د فاسفورس عنصر د نباتاتو د ودې او نمو بنسټیز محرک دی او د نباتاتو د میو او دانو د جوړېدو عملې ته چټکتیا ورکوي؛ د نباتاتو د بڼې ودې او نمو او په وخت حاصلاتو لاسته راوړلو لپاره لازمه ده چې هر کال د اړتیا وړ فاسفورس د فاسفورس لرونکو سرو له لارې ځمکې ته ورزیات کړو. نېټري مروجي فاسفورس لرونکي سړي چې په کرهڼه کې له هغې څخه ډیره ګټه اخیستل کېږي، له امونیم مونو هایدروجن فاسفیټ $[(NH_4)H_2O_4]$ او تری امونیم فاسفیټ $[O_4(NH)_3]$ څخه عبارت دي. د پورټینو سرو څخه سرو بیره دوه ګونې سسوپر فاسفیټونه یا مضاعف (د څو سرو مخلوط) سړي د استعمال ډیر ځایونه لري.

پوټاشیم لرونکي سړي

د پوټاشیم عنصر د نشایستي، قنلي موادو، د کتان او بڼې د رشتو د زیاتوالي لپاره ضروري دی او د مرضونو د پیدا کېدو مخنیوی هم کوي د نایټروجن د زیاتې انمازې منفي اغېزې کموي، پوټاشیمي سړي له منرالونو څخه چې د پوټاشیمي مالګو لرونکي دي، په لاس راوړي چې د هغې ډلې څخه سیلو نایت $Cl \cdot NaCl$ او کرزلایت $[O_2 \cdot gC \cdot KC]$ د پوټاشیمي سرو د جوړولو لپاره د استعمال زیات ځایونه لري. پوډر شوي سیلو نایت په نیغ ډول ځمکې ته د سړي په توګه ورکول کېږي.

نایټروجن لرونکي سړي

نایټروجن یو عنصر دی چې د نبات د پالنې او تنې په وده او پراختیا، همدا رنگه د پروټیني موادو د جوړولو لپاره په نباتاتو او حیواناتو د ضرورت لپاره په مصرف رسیږي. د ځاوري، بډای کول د دې عنصر له پلوه، یوریا (CO_2NH_2) ، امونیا او نوري سړي ځمکې ته ورزیاتېږي.

اوبه نه لرونکي امونيا (NH_3) : دا سره ۸۳٪ نایټروجن لري او د زیات فشار په وسیله د اوسپني په کپسول کې ساتل کېږي. دا سره په مستقیم ډول ځمکې ته ورکول کېږي.



(۶-۱) شکل د امونیا شیندل کړنیزو ځمکو ته



د امونیم نایټریت مالیکولی کتله (۸۰) او د یوریا مالیکولی کتله (۶۰) ده. معلوم کړئ چې د نایټروجن مقدار په سلنه کې په کومه یوه سره کې زیاته ده؟

په امونیم نایټریت (NH_4NO_3) یا په یوریا ($\text{CO}(\text{NH}_2)_2$) کې.

د یوریا سره ($\text{CO}(\text{NH}_2)_2$)

یوریا یو عضوي مرکب دی چې کرسټلونه یې سپین رنگ لري. د جیوانانو په تشو متیازو کې په زیاته اندازه شتون لري، د ایشیدو (جوش) نقطه یې 32°C ده، او په 8°C اوبو د حرارت په 25°C کې د یوریا 8 g حل کېږي، زموږ په هېواد کې د سپینې سرې په نوم شهرت لري چې د مهمو او بنسټیزو سرو له ډلې څخه شمیرل کېږي. یوریا د کیمیاوي سرې په توګه د لاندې خصوصیاتو له امله د استعمال زیات ځایونه لري: په خاوره کې په اسانې سره په امونیا بدلېږي، چاودیدونکي خاصیت نه لري، او نه اخلي او د اوسیدو چاپیریال ته تاوان نه رسوي. د جامد او محلول په شکل کیدای شي چې کړنیزو ځمکو ته ورکړل شي.



(۶-۷) شکل یوریا نایټروجن لرونکي ټوره مهمه سره

په صنعت کې یوړا د امونیا (NH_3) او کاربن ډای آکساید (CO_2) له ترکیب څخه، په لوړ فشار کې په دوه پړاوونو کې په لاس راوړي. په لومړي پړاو کې امونیم کاربامیت (Ammonium Carbamate) جوړیږي.



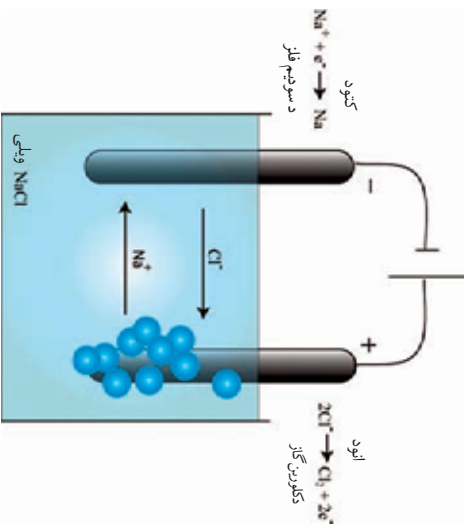
دا تعامل اکزوترمیك (Exothermic) دی. اکزوترمیك هغه تعامل دی چې د تعامل په پایله کې تودوخه تولیدیږي. د دې په خلاف انډوترمیك تعامل هغه تعامل دی چې تودوخې ته اړتیا لري. په دویم پړاو کې امونیم کاربامیت ته تودوخه ورکوي چې په پایله کې له یوړا سره اوږه جوړیږي:



څرنگه چې له یوړا سره په خپل ترکیب (جوړښت) کې د نایتروجن زیاته اندازه لري؛ نو د نباتاتو د پالو او تنو په ودې او نمو کې زیات کومک کوي. له یوړا- سره د مخلوط په ډول او یا په خالص ډول کرنیزو ځمکو ته ورکول کېږي. د مزارشرف د سړي او بریښنا فابریکه په یوه کال کې له ۳۵ څخه تر ۳۶ زرو ټنو پورې یوړا او له ۲۶ څخه تر ۲۸ زرو ټنو پورې د امونیا گاز تولیدوي.

د کلورین مرکبونه (Cl)

څنگه چې یو هیلېډ، د کلورین عنصر د عنصرونو د دوره یي جدول په اوم گروپ (هلوجنو) کې ځای لري. د غیر فلزونو له ډلې څخه فعال او مهم عنصر دی. د کلورین غاز شین زبر ته مایل رنگ لري او اور نه اخلي. د کلورین گاز ۲،۵ مرتبي دهوا څخه دروند او زهرې گاز دی. کلورین په طبیعت کې د مختلفو مرکبونو په بڼه پیدا کېږي چې ډیر مهم مرکبونه یې د خوړو مالګه (NaCl)، پوتاشیم کلراید (KCl) او اوبه لرونکي مګنیزیم کلراید (MgCl_2) دي. دا عنصر د ډیرو صنعتي مرکباتو په ترکیب کې شامل دی، د ځانګړو خواصو له امله د استعمال ډیر ځایونه لري، له کلوریت څخه



(۸-۲) شکل دکلورین استحصالی د سولیم کلرید خخته

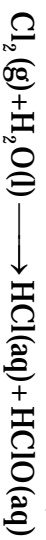
د خښلو اوسو، د لامبلو ونلونو د سابو او تر کاري د تعقیم کولو لپاره گټه اخلي. دکلورین د مرکبونو خخته د پلاستیکی جوړولو په صنعت کې زیاته استفاده کېږي.

کلورین د خوړو مالګې (NaCl) د محلول د برېښايي تجزيې خخته په لاس راوړي:

برقی تجزیه



کلورین په اوبو کې په منځني ډول حل کېږي او لاندې مرکبونه جوړوي:



هایپو کلورس اسید او هایډروکلوریک اسید دواړه تخریش کونکي دي.

د کلورین مهم مرکبونه سولیم هایپو کلرایټ NaClO، پوتاشیم هایپو کلرایټ KClO او کلسیم هایپو کلرایټ Ca(ClO)₂ دي.


سولیم هایپو کلرایټ: د سولیم هایپو کلرایټ مرکب هم د کلورین له مرکباتو خخته دي چې فورمول یې NaClO دی. دا مرکب هم انټي سېټیک (عفوني ضد) دی. د څه گانو او ذخیره شوو او بو د کلورین (د کلورینو زیاتول د مکررونو له منځه وړلو لپاره) لپاره کارول کېږي.

چرنگه چې سولیم هایپو کلرایټ د رنگ وړلو خاصیت لري؛ نو ځکه یې د داغونو پاکولو او د کالیو سپینولو لپاره استعمالوي او ۱٪ محلول یې د کالیو د منځلو او د غاښونو د ضد عفوني بد بوي د منځه وړلو لپاره استعمالېږي.

دا مرکب د سولیم هایډروکساید او کلورین له تعامل خخته په لاس راوړي:



(۹-۲) شکل د NaClO په واسطه د لامبا ونلونو د اوبو تعقیم



د شپږم څپرکي لنډيز

- ▶ د بايټروجن عنصر د کلوروفيل، امينو اسيدونو او پروټينو په جوړښت کې شامل دی د نباتاتو د پلنو او تنو په وده کې مهمه ونډه اخلي.
- ▶ پوټاشيم د نباتاتو د ودې او د نشايستې، پټې او کتان د نارونو د زياتوالي لپاره ضروري دی.
- ▶ فاسفورس د ودې په تحريک د ميوې او دانې د جوړښت په بڼه والي کې کومک کوي.
- ▶ سري په عمومي ډول په دوو بنسټيز ګروپونو عضوي او غير عضوي سرو ویشل شوي دي.
- ▶ ۱۰ عنصرونه د مرکبونو په بڼه د نباتاتو په ترکيب کې شتون لري.
- ▶ نوري سري د حيواني فاضله موادو د غذايي موادو د صنايعو پاتې شوني، نارسيلې سکاره، د نباتاتو پاتې او تپي د خاورو لاندې بنځي شوي او نورو څخه جوړ شوي دي.
- ▶ کيمياوي سري هغه مادې دي چې د کرنيزو حاصلاتو د کميت او کيفيت د لوړولو لپاره خاوري ته ورکول کېږي.
- ▶ د غير عضوي سرو لويه برخه په فابريکو کې توليديږي او د دې سرو څيني ډولونه په طبيعت کې شتون لري.
- ▶ سدويم هاپيوکلورايد، پوټاشيم هاپيوکلورايد او کلسيم هاپيوکلورايد د کلورين مرکبه دي چې د تعقيم او داغونو له مينځه وړلو لپاره استعمالېږي.
- ▶ يوريا يوه له نايټروجن لرونکو مهمو سرو څخه ده.
- ▶ د يوريا سره د دې کبله چې په خاوره کې په آساني سره په امونيا بدليږي، چاوديدونکي خاصيت نه لري، اور نه اخلي او د اوسيدلو چاپيريال ته زيان نه رسوي؛ نو ځکه د استعمال زيات خپرونه لري.
- ▶ په صنعت کې يوريا د امونيا او کاربن ډای آکسايډ له ګاز څخه د زيات فشار په واسطه په دوو پړاوونو کې په لاس راوړي.

د شپږم څپر کې پوښتنې

د سمو جملو په مقابل کې د (س) توری او د ناسمو جملو په مقابل کې د (نا) توري وليکئ.

- ۱- لس (۱۰) عنصره د نباتاتو %۹۹ وزن تشکیلوي ()
- ۲- نباتات د خپلې اړتیا وړ کاربن د خپلو پاتو په واسطه په لاس راوړي. ()
- ۳- سړي په دود مهمو کربو عضوي او غیر عضوي وشل شوي دي. ()
- ۴- پورنا د غیر عضوي سرو له دلي څخه ده. ()
- ۵- د سونډیم هاپیو کلورایټ (NaClO) مرکب څخه د تعقیم لپاره استفاده کېږي. ()
- ۶- د جیواناتو فضله مواد د غیر عضوي سرو له دلي څخه دي. ()
- ۷- د نایټروجن عنصر %۴۶ د پوریا سره جوړ وي. ()

لاندي پوښتنې په مناسبو کلمو پوره کړئ.

- ۸- د (NH_4COONH) څخه د بیومالیکرل اوبو ایستلو په پایله کې مرکب جوړېږي.
- ۹- د پوریا سره زموږ د ګران هېواد په ولایت کې په زیاته اندازه تولیدېږي.
- ۱۰- د غیر عضوي مهمو سرو له ډلو څخه ده.


لاندي پوښتنو ته څلور ځوابه ورکړه شوي دي، د سم ځواب د توري په چاپیره ډایره وباسئ.

- ۱۱- د اوبو جذب د رسنیو له لارې د کومو عنصرونو په واسطه برابرېږي؟
الف) کاربن او فاسفورس ب) نایټروجن او اکسیجن
ج) اکسیجن او هایدروجن د) کلورین او سونډیم
- ۱۲- د پوریا سړي فورمول کوم یو د لاندي فورمولونو څخه دی؟
الف) $\text{CO}(\text{NH}_2)$ ب) $\text{CO}(\text{NH}_4)$ ج) $\text{Ca}(\text{CN})_2$ د) NaOCl
- ۱۳- دکاربن د عنصرونو زیاته اندازه د کوم مرکب په ټپه د پاتو په واسطه جذبېږي؟
الف) CO_2 ب) CaCO_3 ج) NaOCl د) NH_3
- ۱۴- کوم مرکب د ډنوبونو اوبو د تعقیم لپاره په کارول کېږي؟
الف) سونډیم کلوراید ب) سونډیم هاپیو کلورایټ
ج) امونیا د) پوریا

لاندي پوښتنې تشریح کړئ.

- ۱۵- نباتات څنګه خپل غلایي مواد (خواړه) په لاس راوړي؟
- ۱۶- ولې کرنیزو څمکو ته سړي وړزناټېږي؟
- ۱۷- کوم عنصرونه د نباتاتو ۹۹% کتله جوړوي؟
- ۱۸- د پوریا لاس ته راوړنه دکیمیاوي معادلو په واسطه ولیکئ.

اووم خپر کی



تیزابونه او القلی کانی

د اګسایدونو په خپر کې (پنځم خپر کې) کې د تیزابونو او القلیو د جوړښت په هکله په لنډ ډول بحث شوی و، ایا کله مو د تروو ماسټو او ځینو تروو میوو؛ لکه لیمو، مالټه، نارنج او نورو په هکله فکر کړېدی؟ تیزابونه او القلی کانی د کیمیاوي مرکبونو د مهمو صنفونو له ډلې څخه دي، ځکه د ورځیني ژوند سره نېغی اړیکې لري او په صنعت کې ضروري ګڼل کېږي. باید پوه شو چې تیزابونه او القلی څه ډول مواد دي؟ د هغو صومې خواص څه شوی دي؟ او څنګه کولای شو چې هغه یو له بل څخه پیل کړو؟ تیزابونه او القلی کانی د کومو موادو په واسطه پېژندلای شو؟ تاسې کولای شئ چې ددې فصل له لوستلو څخه وروسته دې پوښتنو ته ځواب ورکړئ او د تیزابونو او القلیو په اړه به لازم معلومات په لاس راوړئ.

د تیزابونو او القلیو تعریف

د تیزاب یا اسید کلمه (acid) د یوناني کلمې (acidus) څخه اخیستل (مشتق) شوی ده چې معنی یې تریوالی دی. د القلي کلمه (alkali) یوه عربي کلمه ده چې ابرو ته ویل کیږي چې زیاتره د لرگیو ابرو ته چې د پوټاشیم کاربونیټ (C_3) لرونکي دي، نسبت ورکول شوي دي. د تیزابونو د خاص، ساده او لومړني تعريف سوبینې، مشهور پوه سوانت اریټوس (Svante Arhenius) داسې توضیح کړي دي. تیزابونه هغه مرکبونه دي چې په اوبو کې د حل کېدو په وخت کې د هایدروجن ایون (H^+) جوړ کړي. القلي هغه مرکبونه دي چې په اوبو کې د حل کېدو په وخت د هایدروکساید ایون (OH^-) تولید کړي.

د تیزابونو او القلیو اوبلن محلولونه

تیزابونه او القلي گانې په اوبلنو محلولونو کې په ایونونو توپه کیږي. تیزابونه په خپل اوبلن محلول کې خړنگه چې مخکې د تیزابونو په تعریف کې وویل شول د هایدروجن ایون (H^+) د معادلي سره سم جوړوي:



نور مرکبونه هم شتون لري چې په خپل ترکیب کې د هایدروجن اټوم نلري؛ خو د هغو تعامل له اوبو سره تیزاب تولیدوي، په دې معني چې د هغوی اوبلن محلولونه د هایدروجن د ایون لرونکي دي؛ نو دا ډول مرکبونه د تیزابي خاصیت لرونکي دي؛ لکه: کاربن ډای اکساید (C_2) او سلفر ډای اکساید (C_2):



القلي گانې په خپل اوبلن محلول کې د هایدروکساید ایون (OH^-) د لاندي معادلي سره سم جوړوي:



د هایدروکساید ایون د پوټاشیم ایون پوټاشیم هایدروکساید

$$2 \quad () + 3 \quad 2 \quad () \longrightarrow 2 \quad 3 \quad ()$$

له سوډيم هائيډروكسائيډ - څخه ډڪاڼډ جو روډلو په صنعت او د

سوډيم هائيډروكسائيډ

فازي سوډيم په برابرولو كې استفاده كېږي، څرنگه چې د القليو په تعريف كې ويل شوي دي: القلي هغه مواد دي چې په اوبلن محلول كې د هائيډروكسائيډ آيونونه جوړوي. دا القلي د سوډيم آكسائيډ او اوبو له نېغ تعامل څخه جوړېږي:



د تيزابونو او القلي ګانو خواص

د تيزابونو فزيكي خواص: تيزابونه د څو ګډو خواصو لرونكي دي، ناسي به د دوي ځيني خواص په دې برخه كې زده كړئ.

تيزابونه د تريو خوند لرونكي دي: كه ناسي ليمو څكلئ وي (۱-۷) شكل د تيزابو تريو خوند به مو حس كړئ وي. تيزابونه د تروي مزي په بنسټ پېژندل كېږي.

د ليمو تريو خوند په دوي كې د ليمو ډكورنې، ميوي د سټريڪ تيزاب شتون پېښي. نور څو اړه لکه: پېنې، (رواش)، آچار او ماسته تريو خوند لري. ددې څو تريو خوند د يو ډول موادو شتون دی چې د تيزابونو په نوم يادېږي.

يو شمير زيات مرکبونه شتون لري چې د تيزابو په توګه پورې اړه لري، هغه بايد ونه څکل شي، ځکه تخريش کونکي دي. تيزابونه د بدن انساج، منسوجات او نور مواد تخريسيوي او له منځه يي وړي، ځينې تيزابونه زهري وي او د استعمال په وخت كې بايد زيات احتياط ورسره وشي.

(۱-۷) شكل د ليمو تريو خوند حس كړل





کونه

د خوراکی موادو لست کول چې د تیزابونو لرونکي دي.

ناسی د خوراکی موادو لست د میوو په شمول چې په کور یا محیط کې مو خورلي یا بللي وي چې د تیزابو لرونکي وي ، ترتیب او په ټولګي کې یې ولولئ.

۷-۱ جدول د ځینو تیزابونو شتون په خوراکی موادو کې:

دخواړو ډول	تیزاب
د سیتروس میوې (د لیمو کورنی)	د سټریک تیزاب
سرکه	د سرکی تیزاب
ماستنه	د لکټیک تیزاب
د لیمو د کورنی میوي	د سکاریک تیزاب
شرټونه	د کاربونیک تیزاب (C_2O_3)

نور تیزابونه چې (۲-۷) جدول کې ښودل شوي دي، تخریش کوونکي دي نو د استعمال په وخت کې باید احتیاط وکړو.

۲-۷ جدول ځینې تخریش کوونکي تیزابونه

کیمیاوي فورمول	د تیزابو نوم په پښتو	د تیزاب نوم په انګلیسي
C	د ملاګي تیزاب	Hydrochloric acid
	هایدرو برومیک اسید	Hydrobromic acid
3	د نیوري تیزاب	Nitric acid
2 4	د ګرو تیزاب	Sulfuric acid
3 4	فاسفوریک اسید	Phosphoric acid



ګرڼه

د تیزابونو پېژندنه

د اړتیا وړ لوازم او مواد: ازمنښتي نل، ښښه يي مېله،

د لشمس آبي کاغذ، د مالګې، ګوګرو او سرکي تيزابونو نري

(رفيق) محلولونه او مقطرې اوبه.

ګوګرلاړه: څو ملي ليټره د HCl محلول په يو ازمنښتي نل

کي واچوئ، د ښښه يي مېلي په وسيله يو څاڅکي د HCl

محلول د لشمس پر کاغذ واچوئ او د کاغذ د رنگ بدلون ياد

داشت کړئ، وروسته ښښه يي مېله د مقطرو اوبو په واسطه

وميځي، په پورته ډول د ګوګرو او سرکي په تيزابونو بدلې هم

تجربه تکرار کړئ، خپلې ليښې وليکئ او لاندي پوښتنې ته

ځواب ورکړي.

آيا تيزابونه د لشمس پر کاغذ يو ډول اغېزه کوي؟

(۷-۸) شکل د تيزابونو پېژندل د ابي لشمس په واسطه

د تيزابونو کيمياوي خواص

تيزابونه له ځينو فلزونو سره تعامل کوي، نو د تيزابونو هيلدروجن د فلز په واسطه له لاندي معادلي سره سم

بې ځايه کېږي.



ګرڼه

د مالګي تيزابو (HCl) نري محلول تعامل د مګنيزيم له فلز سره

د اړتيا وړ لوازم او مواد: د مګنيزيم سيم، د HCl نري محلول، ازمنښتي نل، درجه لرونکي سلنډر چې ۱۰ml حجم لري.

ګوګرلاړه: ۵ml د مالګي تيزاب په يوه ازمنښتي نل کي واچوئ، وروسته يوه ټوټه مګنيزيم په يوه ازمنښتي نل کي

چې د HCl لرونکي وي، واچوئ او يو روښانه اورلګيت د ياد شوي ازمنښتي نل له پاسه کېږي. خپلې ليښې

وليکئ او لاندي پوښتنو ته هم ځواب ورکړئ:

۱- آيا منځ ته راغلي ګاز په روښانه لمبه سوځيږي؟

۲- آيا مګنيزيم له ۲ او ۳ سره تعامل کوي؟

۳- په تعامل کي توليد شوی ګاز څه نومېږي.

۴- د مګنيزيم د تعامل معادله له HCl سره وليکئ.

ټيز اېونه برېښنا تېروي


هغه مواد چې په اوبو کې حل او په اېونونو توګه شي، دا مواد د الکتروليټونو په نوم یادېږي او د هغوی اوبلن محلول برېښنا تېروي؛ لکه ټيز اېونه، القلي او مالګي. هغه مواد چې په اوبو کې په اېونونو د ټوپه کېدو وړ نه وي، د غیر الکتروليټ په نوم یادېږي، د هغوی محلولونه برېښنا نه تېروي. چې بېلګې يې بوره، الکول او نور دي.



ګرڼه

- د O_4 ۲ محلول برېښنا تېرونه
د اړتیا وړ لوازم او مواد: د ۴ ۲ نری تیزاب، نیکر د 200 mL په ظرفیت، تېری، وړوکی ګروپ، د برېښنا هادي سیم، 2 دانې کاربنی الکتروډونه.
ګونفلاړه، 100 mL یاد شوي تیزاب په یوه 200 mL نیکر کې واچوئ وروسته دوه دانې کاربنی الکتروډونه د تیزابو په محلول کې ورننه کړئ. د برېښنا تېرونکي سیم په واسطه له تېری سره چې په شکل کې ښودل شوي دي، ونښلوئ. خپلې لیدنې ولیکئ، او لاندې پوښتنو ته ځواب ورکړئ.
- ۱- آیا ګروپ روښانه شو؟
 - ۲- آیا د تیزاب محلول برېښنا تېروي؟

(۳-۷) شکل د ګروپو تیزابو برېښنا تېرونې ښودنه



کله چې تیزاب په اوبو کې حل شي، جلا کېږي او اېونونه جوړېږي، اېونونه چارج لرونکي ذرې دي، له دې کبله د برېښنا تېرېدنې لامل ګرځي، د هیلډروجن مثبت اېون (H^+) د پروټون په نوم هم یادېږي، پورتنی

تعریف دا معنی نه ورکوي چي هایدروجن لرونکي ٽول مرکبونه دي تيزابونه وي؛ د بيلگي په ډول: کله چي دلي ايتال اتر ($C_2H_5O_2CH_3$) په اوبو کي حل شي په اټونونو نه جلا کيږي نو له دي کبله د تيزابونو په ډله کي نه شميرل کيږي.



(۶-۷) شکل په ترتيب سره له بني خوا څخه کيښي خوراک، ميوي د اسپرين ټاټوبي سرکه او د ويناټين سي ټاټوب.

القلي کاني او د هغوي خواص


القلي کاني هم د تيزابونو غونډي، د گډو خواصو لرونکي دي چي په يوه گروپ کي ټولگي بندي کيږي. په دي برخه کي به ناسي د ځينو القليو د خواصو په باره کي معلومات تر لاسه کړئ. ډير مواد چي په ورځني ژوند کي ور څخه گټه اخلي؛ لکه: صابون، د لوښو مينځلو مایع، د کاليو مينځلو پوږو او نورو، په خپل تركيب کي القلي کاني لري.

د القلي محلول بنسوينده او تريخ خونند لري: که تاسي د صابون بنسروالی حس کړی وی؛ نو تاسي د القلي سر بنسناکوالی هم حس کولای شئ. هغه هم د صابون خونند لري؛ خو د صابون په خلاف زياتي القلي گانې سوځونکي (تخریش کوونکي) دي، باید د هغه خونند د ژبې په واسطه ونه شکل شي. د بدن ځینې برخې او کالي چې د هغوي په واسطه ککړ شوي وی، باید سمستې د اوبو په واسطه ومیخل شي.

۷-۳ جدول ځینې عادي القلي

د القلي نوم	د القلي نوم په پښتو	د القلي کیمیاوي فورمول
Sodium hydroxide	کاستک سودا	NaOH
Potassium hydroxide	پوتاشیم هایدروکساید	KOH
Calcium hydroxide	د جونی اوبه	$\text{C} ()_2$

القلي د لتمس رنگ ته تغییر ورکوي: القلي د تیزابو په شان د لتمس کاغذ رنگ ته بدلون ورکوي؛ خو د هغوي د رنگ بدلون د تیزابو د رنگ د بدلون په نسبت توپیر لري. تیزابونه ابې لتمس ته سور رنگ او القلي د لتمس د کاغذ سور رنگ ته څنگه چې په (۵-۷ شکل) کې لیدل کېږي، په ابې رنگ بدلون ورکوي، ټولې القلي د گډو خواصو لرونکي دي.



(۵-۷) شکل په القلي محیط کې د سور لتمس کاغذ د رنگ تغییر

د القلیو اوبلن محلولونه د تیز ایزونو غونډې بریښنا تیروي او هم په خپل اوبلن محلول کې د هایدروکساید په او د فلزونو په آیونونو توپه کېږي.
د هغوي د توپه کېدو معادله مخکې لیکل شوېده؛ نوځکه د هایدروکساید (OH⁻) د ایزونو شتون د القلیو خواصو ته نسبت ورکول شويدي.



(۶-۷) شکل د چوڼي تیریزو یوه مهمه القلي ده چې د ځمکې لاندې کلونو څخه را ایستل کېږي. دا ماده د صدفونو او نورو سمندري موجوداتو له پلې شونو څخه د فشار لاندې میلیونه کاله مخکې په لاس راغلی ده.

گونه



د NaOH د اوبلن محلول بریښنا تیریدنه

گونه لاره: د تیز ایزونو د بریښنا تیریدني دکار طریقه د سونیم هایدروکساید په القلي باندې هم تطبیق کوي، خپلې لیدني ولېکې او لاندې پرېښتو ته ځواب ورکوي.

۱- آیا گروپ روښانه شو؟

۲- آیا د القلي محلول بریښنا تیروي؟

د تیزابو او القلیو بنودونکی

هغه ساده چې خوځاڅکي يې په يوه القلي يا تيزابي محلول وڅخول شي او يا وړ دننه کړي شي او په پایله کې خپل رنگ بدل کړي د معرف په نوم یادېږي. لشمس د ډیرو عادي بنودونکو یا انډیکاتورونو (Indicators) له ډلې څخه دی، لشمس یو طبیعي رنگ دی چې د تیزاب او القلي له خوا اغیزمن کېږي او خپل رنگ ته تغیر ورکوي.

لشمس د تیزاب او القلي لپاره یوازینی بنودونکی نه دی، نور بنودونکی هم شتون لري چې ځینې د هغوي د نباتاتو طبیعي رنگونه دي؛ لکه: هغه بنودونکی چې د سره کرم او د تورو چاپو په پاتو کې پیدا کېږي، همدارنگه مصنوعي رنگونه هم شتون لري؛ لکه: فینول فتالین او متایل ارنج، هر یو ددې بنودونکو څخه معلوم او مخصوص رنگ د تیزابونو او القلیو محلولونو کې له ځانه نښي؛ د بنودونکو او د هغوي د رنگونو بدلون د پوهېدلو لپاره لاندې کرڼه تر سره کړئ:



کرڼه

بنودونکی او د هغوي اغیزه په تیزابي او القلي محلولونو باندې

د اړتیا وړ لوازم او مواد: د سره کرم څړنښا، د فینول فتالین محلول، د متایل ارنج محلول، د HCl رقیق محلول، د رقیق محلول، د لیمو جوس، د صابون محلول، ۱۰ دانې ازمنښتي لونه، ۲ دانې څڅوړونکی، ۲ دانې ۱۰ ml درجه لرونکی سلنډر.

کولارو: ۵ml د لیمو جوس محلول، د صابون محلول، د NaOH رقیق محلول او د ماڼګي تیزاب په پیلو ځانګړو ازمنښتي لټونو کې وړزبات کړئ او هر یوه کې یې یو یو ملي لیټر د سره کرم څړنښا وړزباته کړئ، د رنگ بدلونونه یې وليکئ.

ورته کرڼه د فینول فتالین او متایل ارنج د بنودونکو په استعمال باندې تکرار کړئ خپلې لیڼې وليکئ او لاندې پوښتنو ته ځواب ورکړئ:


- ۱- د سره کرم څړنښا په تیزاب کې کوم رنگ لري؟ او په القلي کې کوم رنگ ځانته غوره کوي؟
- ۲- آیا د سره کرم څړنښا د بنودونکي په توګه استعمالېدای شي؟ روښانه یې کړئ.
- ۳- خپلې لیڼې د رالوونکي مخ د جدول په څیر جدول په خپلو کتابجو کې وليکئ.

محلورونه	د فیتول فتالین رنگ په محلولونو کې	د میتایل ارنیج رنگ په محلولونو کې	د سره کرم د شیری رنگ په محلولونو کې
د مالګې تیزاب سودیم هایدروکساید د لیمو جوس مالج صابون			

د تیزابو او القلیو اهمیت په ورځیني ژوند کې

تیزابونه او القلي په کورونو او صنعت کې زیات استعمال لري. سرکه چې په سلاد کې ترې استفاده کېږي، د سرکې د تیزابو لرونکې ده. د لیمو جوس د سټریک تیزابو لرونکې دی، ویتامین C چې د لیمو د میوې په کورنۍ کې پیدا کېږي (چې زموږ د وجود مقاومت د یخني خورلو په وخت لور بیلې) یو تیزاب دی چې د سکاربیک اسید په نوم یادېږي. کاربونیک اسید او فاسفوریک اسید د څښلو په شرتونو کې په کارول کېږي او شرتونو ته یو خاص خوند ورکوي. د ګوګرو تیزاب په بېړیو کې استعمالېږي چې د کیمیاوي صنعتي موادو له ډلې څخه دي، دا تیزاب د کاغذ جوړولو، صابون جوړولو او د کیمیاوي سرې د جوړولو په صنعت کې کارول کېږي.

د مالګې تیزاب په معده کې شتون لري او د غذا په هضم کې مرسته کوي. همدا رنگه القلي د استعمال زیات ځای نه لري، سوډیم هایدروکساید د صابون جوړولو او کاغذ جوړولو کې په کارول کېږي، کلسیم هایدروکساید د سمټو په جوړولو او پلستر کې استعمالېږي. اونیسا د کورونو په ډیرو پاکوونکو محلولونو او همدا رنگه د کیمیاوي سرې په جوړولو کې په کارول کېږي.



د اووم څپر کې لنډيز

- ▶ تيزابونه هغه مواد دي چې د هايډروجن (H^+) آيونونه په اوبو کې توليد وي.
- ▶ تيزابونه تريو خوند لري، د آبي لشمس رنگ په سور رنگ بدلوي او له ځينو فلزونو سره تعامل کوي او د هايډروجن غاز توليدوي.
- ▶ القلي هغه مواد دي چې د (OH^-) آيون په اوبو کې توليدوي.
- ▶ القلي د تريخ خوند لرونکي دي، سربښناکه خاصيت لري او سور لشمس کاغذ ته آبي رنگ ورکوي.
- ▶ د تيزابونو او القليو محلولونه برېښنا تيروي.
- ▶ د تيزابونو او القليو ښودونکي هغه مواد دي چې د تيزابونو او القليو په شتون کې خپل رنگ ته تغير ورکوي.
- ▶ تيزابونه او القلي په کورو او صنعت کې د استعمال زيات ځايونه لري.

د اووم څپر کې پوښتي

لاندي پوښتنو ته په پوره ډول ځواب ورکړئ.

- 1- لاندي مرکبونه پخپلو کتابچو کې په تيزابونو او القليو گروپونو بيل کړئ.
الف) KOH ب) C_3 ج) C_4 د) C_2 ه) C_2
 - 2- جست د ملاگي له نړيو تيزابو سره تعامل کوي او هايډروجن غاز توليدوي د ياد شوي تعامل معادله وليکئ.
3- کله چې C_3 په اوبو کې حل شي د (OH^-) آيون په اوبو کې توليدوي. د سوډيم کاربونيټ د محلول خوند څنگه دی؟
 - 4- د يوي مادي نوعيت په لابراتوار کې څنگه ازمېښت کولی شئ چې تيزاب دی يا القلي؟
 - 5- په خپلو کورو کې د تيزابو او القليو د دوه ډوله استعمال ځايونو نومونه واخلئ.
- هرې يوي پوښتي ته څلور ځوابه ورکړ شوې دي، څنگه چې يو ځواب سم دی، تاسې يوازي سم ځواب وټاکئ.
- 1- کوم لاندي مرکبونه ستاسې په نظر د برېښنا تيرونکي دي؟
 - الف) د اسيتيک اسيد محلول ب) د سوډيم کلورايد محلول
 - ج) خالصې اوبه د) د کلسيم هايډروکسايډ محلول

- ۷- مگنیزیم هایدروکساید (OH_2) () څه شی دی؟
الف) عنصر دی (ب) یوه القلي ده (ج) یو تیزاب دی (د) یو اکساید دی.
۸- د مالګې د تیزابو فورمول کوم دی؟

- الف) C (ب) Ca^{2+} (ج) C (د) Ca^{2+}
۹- له لاندې تیزابونو څخه کوم یو د موټرو په بټریو کې زیات استعمالیږي؟
الف) C (ب) H_2SO_4 (ج) HNO_3 (د) HCl
۱۰- په عمومي توګه القلي څه ډول خوند لري؟
الف) ترټو (ب) خورږ (ج) ترېخ (د) بې خوندنه

- ۱۱- اوبلن الکترولیت محلولونه کوم خاصیت لري؟
الف) برېښنا تیرېدنه (ب) تودوخې تیرونه (ج) د رڼا خپرېدل (د) فلزي رابطله
۱۲- د یوه مرکب ټوټه کېدل په اوبلن محلول کې په مربوط ایونونو باندې عبارت له ... دی.
الف) تجزیه (ب) تیزاب (ج) تفکیک (د) القلي

- ۱۳- د کلسیم Ca د فاز تعامل له HCl تیزابو سره کوم ګاز آزادیږي؟
الف) د کلورین ګاز (ب) د اکسیجن ګاز (ج) د هایدروجن ګاز (د) د اوبو براس.
د لاندې یوښتنو قوسونه د مناسبو کلمو په لیکلو سره ډک کړئ.
۱۴- فنول فتالین په تیزابي محلول کې په () رنگ او په القلي محلول کې په () رنگ معلومېږي.

- ۱۵- القلي محیط د لټمس کاغذ ابي رنگ په () او تیزابي محیط د سور لټمس کاغذ رنگ په () بدلوي.
۱۶- کله چې د میتیل ارنج دوه څانګې د لیمو په پری شوی سطحې واچول شي () رنگ ځانته اختیاري په دې خاطر چې لیمو () لري.
۱۷- د تیزابونو او القلیو د محلولونو د برېښنا تیرېدني لامل د () موجودیت په محلول کې دی او د H^+ په نوم هم یې یادوي.

ځینې یوښتني او خواپوښه په دوو لاندې ستونزو کې تنظیم شوي دي تاسې له ژورې مطالعې وروسته د هرې یوښتني د ځواب شمېره د هغوي په مقابل قوس کې ولیکئ.

- ۱۸- زیاتره په څوښا کې شتون لري ()
۱۹- د نېټروني د تیزابو کیمیاوي فورمول دی ()
۲۰- C_2 ()
۲۱- C_3 ()
۲۲- په اچار کې تري استفاده کېږي. ()
۲۳- استیک اسید ()
۲۴- استیک اسید ()
۲۵- ()

اتم خپرکی

مالګي

په اووم خپرکي کې د تيزابو او القليو د تعاملاتو تر عنوان لاندې موزده کړل چې مالګي د تيزابو او القليو د تعامل په پايله کې په لاس راځي. په دې خپرکي کې دا موضوع په دقيق ډول تر څېړنې او مطالعې لاندې نيسو؛ نو په لنډ او ساده ډول مالګه داسې تعريف کوو.


مالګه جامده کرسټلي ماده ده چې د تيزابو د منفي ايون (انيون) او د القليو د مثبت ايون (کتيون) د تعامل په پايله کې جوړېږي.

آيا ټولې مالګې د خوړو دمالګې په شان ترو خوند لري؟

مالګي د کيميا له نظره څه ډول مرکبونو ته ويل کېږي؟

دمالګي تعامل له مالګې سره او همدارنگه د مالګې تعامل د تيزابو، القليو او فلزونو سره کوم مرکبونه جوړېږي؟ د مالګونوم اينيونونه په کومې طريقې تر سره کېږي؟

دا ټولې هغه پوښتنې دي چې په دې خپرکي کې ورته ځواب ورکول کېږي.



د تیزابو او القلیو د تعامل په واسطه د مالکو جوړیدنه

مالگه هغه وخت جوړیږي چې د تیزابو د هایدروجن آیونونه د یوه فلز د مثبتو آیونونو یا د نورو مثبتو آیونونو په وسیله؛ لکه: امونیم⁺ (4 بی خایه شي. څرنگه چې د خورو مالگه (NaCl) د مالگې د تیزاب؛ یعنې هایدروکلوریک اسید (HCl) او سوډیم هایدرو اکساید (NaOH) قلوي چې د کاسټیک سوډا په نوم هم یادېږي، جوړېږي؛ نو د دې تیزابونو او القلیو د تعامل معادلې په لاندې ډول دي:



اوبه + سوډیم کلوراید \longrightarrow سوډیم هایدروکساید + دمالگې تیزاب



اوبه + امونیم کلوراید \longrightarrow امونیم هایدروکساید + دمالگې تیزاب

د تیزابونو او القلیو تعاملونو ته تل د خستې کېدو (Neutralization) تعاملونه وایي. تیزابونه او القلی هغه وخت یو بل خستې کولای شي چې دواړه قوي اوسي.



ګرڼه



د امونیم هایدروکساید او د سرکې تیزابو تعامل

د اړتیا وړ یوازې او مواد: امونیم هایدروکساید (NH₄OH) آبي محلول، د سرکې د تیزابو CH₃COOH₃

آبي محلول، اړلین مایر ۳ توکې، پینت ۳ توکې، څاخګې څخوونکې او بایه له ګیرا سره ۳ عدد.


ګوډلاره: د امونیم هایدروکساید ۲۰ mL محلول له پینت څخه په استفادې سره په اړلین مایر کې واچوئ او بیا وروسته د آبي محلول، اړلین مایر ۳ توکې، پینت ۳ توکې، څاخګې څخوونکې او بایه له ګیرا سره ۳ عدد.

ګوډلاره: د امونیم هایدروکساید ۲۰ mL محلول له پینت څخه په استفادې سره په اړلین مایر کې واچوئ او بیا وروسته د آبي محلول، اړلین مایر ۳ توکې، پینت ۳ توکې، څاخګې څخوونکې او بایه له ګیرا سره ۳ عدد.

ګوډلاره: د امونیم هایدروکساید ۲۰ mL محلول له پینت څخه په استفادې سره په اړلین مایر کې واچوئ او بیا وروسته د آبي محلول، اړلین مایر ۳ توکې، پینت ۳ توکې، څاخګې څخوونکې او بایه له ګیرا سره ۳ عدد.

ګوډلاره: د امونیم هایدروکساید ۲۰ mL محلول له پینت څخه په استفادې سره په اړلین مایر کې واچوئ او بیا وروسته د آبي محلول، اړلین مایر ۳ توکې، پینت ۳ توکې، څاخګې څخوونکې او بایه له ګیرا سره ۳ عدد.

- د امونیم هایدروکساید او سرکې د تیزابو (اسټیک اسید) د تعامل معادله ولیکئ.
- د جوړې شوي مالگې نوم ولیکئ.



ج

ب

الف

(۸-۱) شکل د بیوروژنکی (الیکترولون) د رنگ بدلوی د جنتی کولو تامل کي

د مالگو نوم ایښودنه

د مالگو د انگلیسي نوم په لیکلو کي چې د کین نه ښيي خو اته لوستل کېږي، لومړی د کتیون نوم رکه دا کتیون فلز او سې او یا کوم بل کتیون) او وروسته د ایون نوم اخیستل کېږي، د مالگو نوم ایښودنه په جدول کي په لنډه ډول لیکل شوي:

د (۸-۱) جدول: د یو شمیر مالگو کیمیاوي فورمول، انگلیسي او پښتو نومونه

د مالګې نوم په پښتو تورو	د مالګې نوم په انگلیسي	د مالګې کیمیاوي فورمول
سودیم کلورایډ (د خوړو مالګه)	e	C
مګنیزیم فلورایډ	ne e	2
پوټاشیم سلفایډ	e	2
کلسیم نایټریټ	C n e	C (3) 2
سودیم سلفایټ	e	2 3
پوټاشیم کاربونیټ	Potassium carbonate	2 C 3
المونیم سلفیټ	Aluminium sulfate	2 (4) 3
زنګ فاسفیټ (د جستو فاسفیټ)	n e	n 3 (4) 2

که چیري فازونه په مختلفو ولاسسونو د تیزابونوله انیونونو سره دوه ډوله مختلفي مالگي جوړي کړي، په دې صورت کې د مالگي دکتیون سره (ous-) او (ic-) روستاري یو ځلي لوستل کېږي. دیلگي په توگه: ous- وروستاري د فلز په بنسکته ولاس او ic- وروستاري د فلز د لورولانس سره یو ځلي کېږي، چې د قاعده په ټولو مالگو کې د تطبیق وړ ده. د آیوپک (IUPAC) په طریقه لومړی سرکې د فلز نوم، ورپسې فلز د ولانس شمېر په رومي رقم پالندي په قوس کې لیکل کېږي او په پای کې د منفي آیون نوم (انیون) ورسره گډ لیکل کېږي. (۲-۸) جدول ته وگورئ.

۲-۸. جدول: د ځینو مالگو فورمول او نومونه په معمولي او د آیوپک په طریقه

د آیوپک په طریقه د مالگو نومونه په پښتو تورو	د آیوپک په طریقه د مالگو نومونه په انګلیسي تورو	د آیوپک نوم د ic- معمولي انګلیسي نوم د ous- او وروستاري سره	کیمیایي فورمول
د اوسپنی (II) سلفیت	n () e	e	e ₄
د اوسپنی (III) سلفیت	n () e	e	Fe ₂ (SO ₄) ₃
د مسو (I) بروماید	C e ()	C	C
د مسو (II) بروماید	C e ()	C	C ₂

گونه

په لاندې جدول کې د ځینو کتیونونو او انیونونو نومونه لیکل شوي دي د دوي په پام کې نیولو سره سم د CuCl₂ په معمولي او آیوپک په لارښودنه عملي کړئ. په

د آیون نوم په پښتو	د آیون نوم په انګلیسي	د کتیون سمبول	د کتیون نوم په پښتو	د کتیون نوم په انګلیسي
I ⁻ آیواید	Iodide	Cu ²⁺	مس (II)	Copper
Br ⁻ بروماید	Bromide	Fe ³⁺	اوسپنه (III)	Iron
Cl ⁻ کلوراید	chlorate	Cu ⁺	مس (I)	Copper
NO ₃ ⁻ نایترویت	nitrate	Hg ²⁺	سیماب (II)	Mercury
CO ₃ ²⁻ کاربونیټ	carbonate	Fe ²⁺	اوسپنه (II)	Iron
PO ₃ ⁴⁻ فاسفیټ	phosphate	Ba ²⁺	باریم	Barium

د مالګو خواص
د مالګو فزیکي خواص: د مالګو له فزیکي خواصو څخه یو یې دا دی چې مالګي جامد، کرسټلي او مایندونکي مرکبونه دي او په مختلفو رنگونو موندل کېږي. د مالګو د ولې کېدو ټکي او کثافت یو له بله توپیر لري. او یو تعداد یې په اوبو کې په زیاته اندازه حل کېږي؛ د بیلګې په توګه: سوډیم نائترېټ₃ (NaNO₃) په اوبو کې زیاد حلېږي، ځینې نورې مالګې په اوبو کې په لږ اندازه حل کېږي، داسې مالګو ته لږې منحلې مالګې ویل کېږي؛ د بیلګې په توګه، گچ (CaSO₄·2H₂O) او کلسیم کاربونیټ (CaCO₃) د هغو مالګو له ډلې څخه دي چې په اوبو کې ډیر لږ حل کېږي.


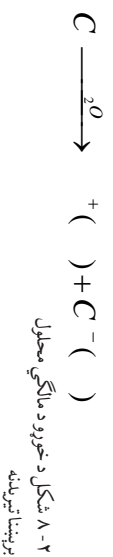


په اوبو کې د مالګو د حلېدو پړاونه

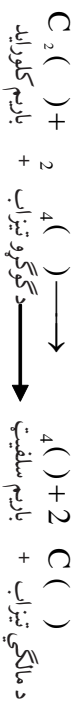
د اړتیا وړ لټولیز مواد: گچ (CaSO₄·2H₂O)، اهنک (CaCO₃)، نیل ټوټیا (CuSO₄·5H₂O)، پوټاشیم سلفیټ (K₂SO₄)، ۴ عدده ازمېښتي نلونه، د بیورولو میله، قاشوڅه، کي نلاره: له هرې پورته یادې شوي مالګې څخه د چاپو خورل د قاشوڅې په اندازه په ځانګړو ازمېښتي نلونو کې واچوئ او په هغوی باندې ازمایښتي نل — تر څې کې مقطرې اوبه ورزېږي کړئ او د ازمېښتي نل دمنځ مواد د مېلې په واسطه بڼه وپنوروی، خپلې لیدنې یادداشت او لاندې پوښتنو ته ځواب ورکړئ:

- د کومو مالګو محیط روڼ او د کومو مالګو تیاره دي؟
- کومه بڼه له پورته مالګو څخه په اوبو کې بڼه حل او کومه بڼه له هغوی څخه ډیره کمه حل کېږي.

ویلې شوی حالت او همدارنگه د مختلفو مالګو اوبلن محلولونه د ځانګړي برېښنا تیریدني لرونکي دي؛ ځکه چې مالګې په خپل اوبلن محلول کې په خپلو اړوندو آیونونو ټوټه (فکټیک) کېږي. او دا آیونونه چې د مثبتو او منفي چارجونو لرونکي دي، په برېښنايي سرکټ کې حرکت کوي، د دوی د حرکت له امله په پای کې د برېښنا ګروپ څرنگه چې په (۲- ۸) شکل کې ښودل شوی دی، روښانه کېږي. همدارنگه په ثبوت رسپري چې د مالګو اوبلن محلولونه د برېښنا تیرونکي دي. د خورو مالګې د ټوټه کېدو معادله په اوبو کې داسې لیکل کېږي:



د مالګو کیمیاوي خواص : د مالګو کیمیاوي تعاملونه د هغوي کیمیاوي خواص څرګند وي. مالګي له تیزابو، القلیو، فلزونو او نورو مالګو سره کیمیاوي تعاملونه سرته رسوي، چې په پایله کې نوي مالګي، نوي القلي اوني تیزاب لاسته راځي. په معمول ډول تعامل هغه وخت ښي خولته مخ ته ځي چې یو غیر منحل مرکب جوړ شي؛ د بیلګې په توګه:



سودیم هایدرواکسایډ + کلسیم کاربونیټ \longrightarrow کلسیم هایدروکسایډ + سودیم کاربونیټ



سودیم نایټریټ + سرب (II) سلفیټ \longrightarrow سرب (II) نایټریټ + سودیم سلفیټ



اوسپنه (II) کلورایډ + د مس فلز \longrightarrow مس (II) کلورایډ + د اوسپني فلز

کړنې




۱- د NaCl او AgNO₃ د اوبلنو محلولونو په منځ کې تعامل

د اړتیا وړ لوازم او مواد: د سیتوزرو نایټریټو او د څورو دمالګې اوبلن محلولونه په بیلو بوتلونو کې، ازمنښتي لټ یو عدد او یوه جوړه دستګوښي.

ګوډلاره: په لومړۍ سړکي 5ml په د سودیم کلورایډ اوبلن محلول په یوه تست تیریب کې واچوئ او وروسته، 5ml د سیتوزرو د نایټریټو اوبلن محلول په هغې باندې ورزیات کړئ، خپلې لیدنې یادداشت کړئ او لاندې پوښتنو ته اړونده ځوابونه ور کړئ.

- ۱- آیا د محلولونو روڼ محیط په خپل حال پاتې کیږي؟
- ۲- کومه غیر محله ماده د رسوب په ډول تشکیلېږي؟
- ۳- د کیمیاوي تعامل معادله ولیکئ.

۲- ۵ NaOH او AlCl₃ د اوبلن محلولونو تعامل
 د اړتیا وړ لسوازم او مواد: C₃ او C₃ اوبلن محلولونه په بیلو پورتنو کې، ازیمینستي نل سو عدد، یوه جوړه
 دستګڼې.
 کولار ه: ډاګر نه د تیر اجرا شوي فعالیت په شان مخ ته یوسی، داسې چې لومړی د سوډیم هایدروکساید ۵mL اوبلن محلول
 په یو ازیمینستي نل کې واچوی او بیا المونیم کلوراید ۳ C₃ اوبلن محلول په هغه باندې ورزیات کړی چې لیبني
 ولیکئ او لاندې پوښتنو ته مناسب ځواب ورکړئ.
 ۱- آیا د محلولونو روښانه محیط په خپل لومړني حالت پاتې کېږي.
 ۲- کومه غیر منحل ماده درسوب په ډول تشکیلېږي؟
 ۳- د تعامل کیمیاوي معادله ولیکئ.



(۳- ۸) شکل د غیر منحل مرکب جوړیدل د رسوب په څیر د دوو مالګو د اوبلن محلول، یا له مالګې او تیزابو یا له مالګې او القابو څخه رانېسي.

د مالکو اهمیت په ورځني ژوند کې

د سودیم کلوراید: (NaCl) **اهمیت:** څرنگه چې له تیرو لوستو څخه پوهیږي دا مرکب د خوړو په مالګې شهرت لري. د غذایي موادو په خوندور کولو کې ور څخه ګټه اخیستل کېږي. دا یوه سپین رنګي، جامده، کرسټلي مایډونکي او د ایونیک اړیکې لرونکي ماده ده. C په لابراتوار کې د مالګې د تیزابو او سودیم هایدروکساید (NaOH) د اوبلن محلول له تعامل څخه په لاس راوړي:



د خوړو مالګه په طبیعت کې په جامد ډول په کانو او هم د سمندرونو په ترو او اوبو کې د محلول په ډول شتون لري چې د تخنیکي وسایلو په واسطه له کان څخه او هم د سمندرونو له ترو او اوبو څخه د اوبو تېخیر د لمر د انرژي په واسطه په لاس راوړي او د بشري ټولنو په واک کې ورکول کېږي.



زیاتي معلومات

د خوړو مالګه نړۍ کې د اهمیت وړ مالګه ده، او د نورو مالګو په پرتله زیات مصرف او د استعمال ځایونه لري.

د خوړو مالګه سربیره په غذایي موادو، د یو شمیر غیر عضوي مرکبونو او عناصرو په تولید کې؛ لکه: د کلورین ګاز، سودیم هایدروکساید، د سودیم فلز، د هایدروجن ګاز (دا ګاز معمولاً د مالګې د تیزابو په برېښنايي تجزیه کې په لاس راځي) او په سودیم کاربونیټو کې هم ګټه اخیستل کېږي، او همدارنګه د لارو او سرکونو د واورې د ویلي کولو لپاره ور څخه استفاده کېږي او په یوه کال کې ددې مرکب مصرف ۱۵۰ میلیون ټونه رسېږي.

د سودیم کلوراید زیات شتون په کرهښو خاورو کې د نباتاتو لپاره تاوان لري او له وسایطو سره یې

تماس د تخریب لامل گرځي. د سمندرونو په زیاتو تروو اویو کې ۱۶.۵% سونډیم کلوراید (NaCl) شتون لري.



(۴-۸) شکل د مالګو د تهیه کولو انځور د سمندرونو له تروو لویو څخه

پوټاشیم کلوراید (KCl) اهمیت: د مرکب له مهمو مالګو څخه ګڼل کیږي. په لابراتواري کې په نیغ ډول د مالګي تیزابو اولین محلول او د (KOH) پوټاشیم هایدروکساید اولین محلول څخه لاسته راځي.



KCl د سمندرونو په تروو اویو کې ۴.۸۵% او په جامد ډول د سلونایت (Sylvenite, NaCl.KCl) په کاني ډبرو (تیزو) په څیر په طبیعت کې پیدا کیږي. د پوټاشیم کلوراید مالګه د نباتاتو په وده او نمو کې او د زړه د تقلصاتو په تنظیم (د زړه تقویه) کې ونډه لري. د پوټاشیم کلوراید مالګه تقریباً ۹۰% د کیمیاوي سړي په حیث د سرو په ترکیب کې په مصرف رسېږي.


د سوډيم نائيٽرېٽ (NaNO_3) اهميت: دا مالگه د چيلي په ښوږه (Chilesalpeter) باندې مشهوره ده. سوډيم نائيٽرېټ په لابراتوار کې د ښوږي تيزابو او سوډيم هايډروکسايډ د القلي له تعامل څخه له لاندې کيمياوي معادلې سره سم په لاس راځي:



دا مالگه په طبيعت کې هم شتون لري او مشهورکان يې د چيلي په هېواد کې شته چې د همدې کبله د چيلي په شورې باندې مشهوره ده. له دې مالگې څخه د کيمياوي سري په توگه د نورو سورو په ترکيب کې استفاده کېږي، او هم په نورو برخو کې؛ لکه: د اور لوبې، د څر منو صنعت او د اور لگونکي مادي په توگه استعمالېږي.



شکل (۸-۵) اور لوبې



د اتم خپر کي لنډيز

- ▶ مالگي جامد کرسټلي مرکبونه دي چې د القلي له مثبت او د تيزابو له منفي آيونونو څخه ترکیب شوي او يا د تيزابو او القليو د تعامل په پايله کې حاصلېږي.
- ▶ مالگي مایډونکي مواد دي چې د ويلي کيدو ټکي، کثافت او رنگونه يې يو له بله څخه توپير لري. زياتره يې په طبيعت کې په سپين رنگ شتون لري.
- ▶ د مالگو په نوم اېنسولډو کې لومړی د فلز نوم او وروسته د مالگي تشکيلوونکی آيون نوم اخيستل کېږي، د مالگو د حل کيدلو اندازه په اوبو کې يو له بل څخه توپير لري.
- ▶ د مالگو تعامل يو تر بله دوه نوي مالگي، د مالگو او تيزابو د تعامل څخه نوي مالگي او تيزابونه د مالگو او القليو د تعامل څخه نوي مالگي او نوي القلي جوړېږي.
- ▶ د مالگو تعامل د زياتو فعالو فلزونو سره نوي مالگي او په لومړنی مالگه کې شامل فلز حاصلېږي.
- ▶ ځينې مالگي د ژوندانه په ورځيني فعاليتونو او صنعت کې اهميت لري؛ لکه KCl ، NaCl ، NaNO_3 او نوري مهمې مالگي.

د اتم خپر کي پوښتي

۱- د لاندی کيمياوي تعاملونو معادلي ټکمي کړی:



۲- د لاندی مرکبونو د کيمياوي تعاملونو معادلي وليکي:

الف) باريم کاربونيټ او د نېټري تيزاب تعامل

ب) د مسو (II) سلفيټ او باريم کلورايډ تعامل

ج) پوټاشيم کلورايډ او د سپينو زرو نايټريت تعامل

۳- وليکي NaNO_3 د کيمياوي سرې په توگه استعمالوي؟ د کومو د ايلونو له مخې دا مالگه د چيلي د نېټري په نوم يادېږي؟

۴- د کلسيم نايټريت، پوټاشيم بروماید، المونيم سلفيټ، مگنيزيم کاربونيټ او فيريک فاسفيټ کيمياوي فورمولونه وليکي.

۰-۵ د CuCl ، BaSO_4 ، SrI_2 ، NaClO_3 ، Li_2CO_3 ، $\text{Be}(\text{NO}_3)_2$ مرکبونه نومونه ولیکئ.

۱-۲ د کوم دوه ډوله کیمیاوي مرکبونو له تعامل څخه یوازې مالګې او اوبه حاصلېږي؟

۷- د دښتې کېدو تعامل (Neutralization) کوم ډول تعامل ته ویل کېږي.

هرې پوښتنې ته څلور ځوابه ورکړ شوي دي چې له هغې ډلو څخه یوازې یو ځواب سم دی ، تاسې سم ځواب په ښه کړئ.

۸- مالګې او اوبه د لاندې دوه مختلفو مرکبونو له تعامل څخه حاصلېږي.

الف) د مالګې او تیزابونو اوبلن محلول (ب) د القلي اوتیزابونو اوبلن محلولونه

ج) د یو القلي اوبلن محلول د بلې القلي اوبلن محلول (د) د مالګې او القلي اوبلن محلولونه

۹- $\text{Al}_2(\text{CO}_3)_3$ مرکب نوم عبارت دی له:

(ب) المونیم کاربن ډای اکساید

(د) المونیم کارباید

ج) المونیم کاربونیټ

۱۰- د باریم نایټریت کیمیاوي فورمول عبارت دی له:

الف) $\text{Ba}(\text{NO}_3)_2$

(ب) BNO_3

(د) $\text{B}_2(\text{SO}_4)_3$

۱۱- $\text{Fe}_3(\text{PO}_4)_2$ د مرکب نوم د ایونیک په سیستم عبارت دی له:

الف) فیرس فاسفیټ (Ferric phosphate) (ب) Iron(III) phosphate

(د) Iron(II) phosphate

ج) فیریک سلفیټ (Ferric sulfate)

(ب) هایډروجنې ډي

(د) ایونیک ډي

ج) کروالټ ډي

د لاندې پوښتنو تش قوسونه په مناسبو ځوابونو ډک کړي.

۱۳- د مالګې مرکبات جامد () او () دي

۱۴- د تیزابونو اوالقیو له تعامل څخه () او () په لاس راځي

۱۵- د $\text{AgNO}_3(\text{aq})$ او $\text{HCl}(\text{aq})$ د اوبلن محلولونو له تعامل څخه () او () مرکبونه حاصلېږي.

۱۶- د Sylvanite منرال د () کیمیاوي فورمول لرونکی دی

۱۷- د خورلو له مالګې څخه د ()، () او () د لاسته راوړلو لپاره استفاده کېږي.

په نسبي خوا کې پوښتنې او په کیني خوا کې ځوابونه لیکل شوي دي ، تاسې د دواړو ستونو په پرتله د ځوابونو شمیره د پوښتنو د مخو لښدویو کې په خپلو کتابچو کې ولیکئ.

پوښتنې

۱۸- ۱- د کیمیاوي سړي په توګه استعمالېږي () ()

۱۹- ۱- په همرازګه د سمندرونه له تروو اویو څخه لاسته راځي () ()

۲۰- ۲- $\text{AgNO}_3(\text{aq}) + \text{NaCl}(\text{aq})$ () ()

۲۱- ۲- $\text{Copper}(\text{II}) \text{ sulfate}$ () ()

۲۲- ۲- د زره د تفصیلونو په تنظیم کې برخه اخلي () ()

Thank you for reading

Find more e-books and articles on Ketabton - your multilingual digital library.

www.ketabton.com

Ketabton - Pashto, Farsi, Arabic & English