

## سریزه

لکه څرنګه چې ټولو ته معلومه ده چه دهر څه اساس او جوړښت داوبو څخه دی او اوبه دژوند دپاره حیاتي ارزښت لري نو دیوه ساختمان په جوړښت کې هم اوبه اوبرق حیاتي ارزښت لري نو ددی دپاره چې ژوند مواسوده او سهولت موتر لاسه کړی وي نو باید دساختمان په طرحه او ډیزاین کې داوبو او اوبه رسونې برخې ته خاصه توجه وشي تر خود یو ښه او باصحته ژوند څخه برخمن شو. همدغه اوبه دي چې دانسانانو، حیواناتو او نباتاتو ژوندی تضمین کړيدي. که چیرې اوبه نه وی نو هیڅ زنده سر به هم وجود ونه لري. اوهمدارنګه خصوصا اوبه دانسان دحیات لپاره ډیر ارزښت لري یعنی یو انسان کولای شي چې څو ورځې حتی تر یوې هفتې پوري هم بی ډوډی ژوندی پاتې شي خو داوبودنه موجودیت په صورت کې له درې ورځونه زیات دانسان ژوند کول ناممکن دی او دهلاکت مرحلي ته رسیږي نو ضرور دی چې داوبوپه محاسبه او داوبه رسونې دنلونو په محاسبه کې له ډیر دقت او صحت څخه ګټه واخیستل شي ترڅو مودساختمان له تخریب او نقص څخه ځان ساتلی وي او همدارنګه دامحاسبه باید په داسې ډول

اجراشي چې هر تجهیز ته پاکې اوبه په خپل وخت او معلوم فشارسره ورسیري اوهمدارنګه دامحاسبه باید داسې سرته ورسیري چې داوبو دزیاتو ضایعاتو او بی ځایه مصرف څخه مو مخه نیولي وي نو ددی لپاره مونږ څوقسمه محاسبې لرو چې یو دوه یی ډیر معمول دي چه هغه عبارت دی داوبه رسونې او ردونې دنلونو اندازه نظر دتجهیزاتو شمیر ته اوهمدارنګه داوبه رسونې او ردونې دنلونو دقطرونواندازې نسبت دوګرو شمیر ته چه مو نږ په دي پروژه کې دنلونو او داوبواندازه نسبت دتجهیزاتو شمیر ته محاسبه کړيدي. چې ددی پروژې داجرا په دوران کې محترم استادپوهیالی نقیب احمد(نعیمی) اوپوهیالی اختیارگل (توتاخیل) زمونږسره هررنګه مرسته کړی دی او زمونږ دمشکلاتو دحل لار یی په ښه صورت سره پیداکړی ده ډیره مننه ترینه کوو او الله دې اجر ورکړي. نو لکه چې مخکی یادونه وشوه چې دیوه ساختمان لپاره داو بومحاسبه نسبت دتجهیزاتو شمیر اویا هم دنفوسو تعداد ته کیږي نو مونږ هم په دی پروژه کې محاسبه نسبت دتجهیزاتو شمیر ته کړیده چې دمحاسبې دوام به یی په راتلونکو صفحو کې وګوري.

په درښت

Ketabton.com

## موضوع

ددې برخې موضوع ديوې ساختماني پروژې دپاره داوبه رسونې پيپونوانتخاب او همدارنگه دانسانانولپاره دصحيح اوبو برابرول او تجهيزاتو ته داوبو رسول ديومعلوم فشار سره او هم دټانکې او داسې نورو تجهيزاتو لکه دچټلو اوبو دردوني ځاگانې اوداسې نورو محاسبه ترسره شويده.

**لومړی څپرکی****1.1- داوبورسوني او اوبوردوني د پروژي په اړه لنډمعلومات:**

ديوي ودانې دداخلي اوبه رسوني سيستم دپيزاين او محاسبې لپاره دوه فکتورونه په نظر کې نيول کيږي او محاسبه صورت نيسي .  
۱-د فاميل دغرو تعداد . ۲- دگتې اخیستني تجهیزات .

چې دلته مونږ داوبورسوني دپروژي دپيزاين او محاسبې لپاره په تدريسي ودانې کې دتجهيزاتو له مخې محاسبه کړيده.

(a): چې دگتې اخیستني دتجهيزاتو له مخې کولای شو دضرورت وړ اوبو مقدار دهرنل لپاره دلاندي فورمول پواسطه په لاس راوړو.

$$Q = q * \sqrt{Z1 + Z2 + Z3 + \dots + Zn} \quad (1)$$

چې دلته په پورته فورمول کې (Z) دجریان مقدار دی په (Lit/sec) سره . چې وروسته بياپه محاسبه کې په (m<sup>3</sup>/sec) باندې اړول کيږي . (q) ديوه تجهيز داوبواندازه دی په (lit/sec) سره . (z) ديوډول تجهيزاتو شمير او دبار دواحد دضرب حاصل دی او دغه قيمت دجدول څخه اخیستل کيږي نو دپروژي په شروع کې دهر ډول تجهيز لپاره يونوم غوره کوو او بيا دهغه دبار دجریان مقدار ، دنل قطر ، دجریان سرعت او ضايعات محاسبه کوو . چې خپلې محاسبې ته په لاندي ډول دوام ورکوو . (q) مقدار دټولو لپاره په اوسط ډول (0.25Lit/sec) په نظر کې نيسو .

(b): نظر دجریان مقدار ته دنل قطر دلاندي فورمول په مرسته ټاکو .

$$d = 1,1 \sqrt{\frac{Q}{1000}} \quad (2)$$

چې په پورته فورمول کې (d) دنل قطر په متر سره او (Q) دجریان مقدار په (M<sup>3</sup>/sec) سره ده .

(c): دهرنل لپاره فشاري ضايعات (طولي او موضوعي ضايعات) دلاندي فورمول په مرسته پيدا کوو .

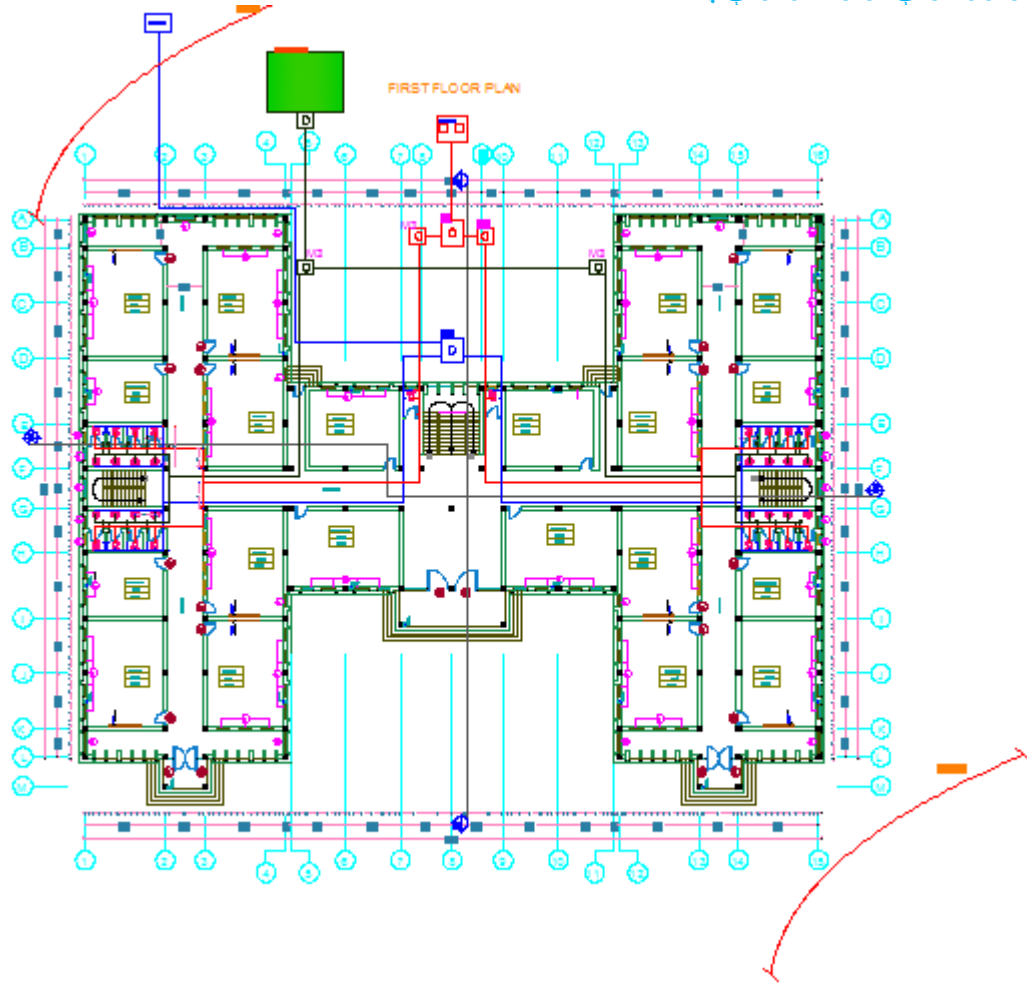
$$h_f = \frac{10,62 \times L}{D^{4,87}} \left(\frac{Q}{c}\right)^{1,85} \quad (3)$$

(L) دنل معادل اوږدوالي دي په متر سره ، (c) دنل ځيگوالي ضريب ده (h<sub>f</sub>) د (L) په اوږدوالي کې داصطکاک پوسيله دفشار ضايعات دي .

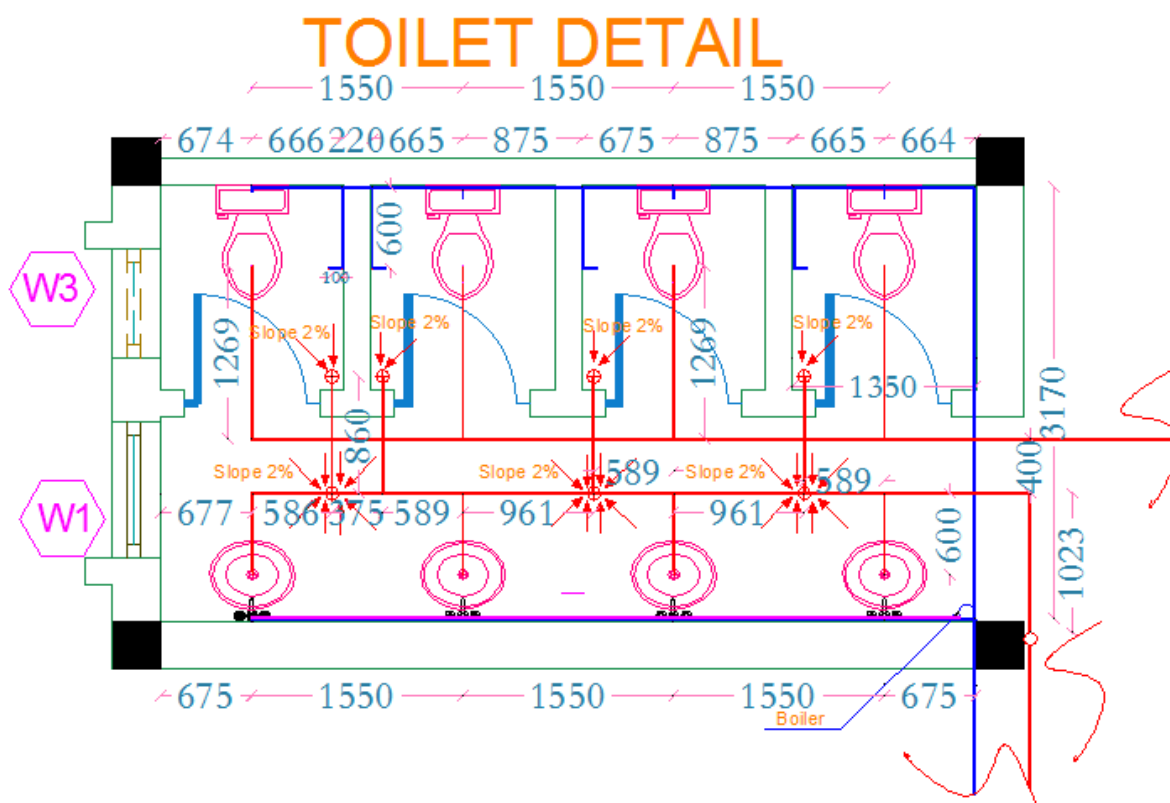
**دودانې په اړه لنډمعلومات:**

1. زمونږ ودانې دعام المنفعه ودانيوله جملې څخه دمکتب ودانې ده .
2. نموري ودانې پينځه منزله اودهر منزل ارتفاع يې (3,6m) ده .
3. داوبورسوني لپاره ټانکي او اوبه ردونې لپاره سپيټيک ټانک اوليچفيلډ په نظر کې نيول شويدي .
4. ديخبندان عمق (1m) په نظر کې نيول شويده .

داوبورسونې او اوبه ردونې پلان:



(1) شکل 1.1

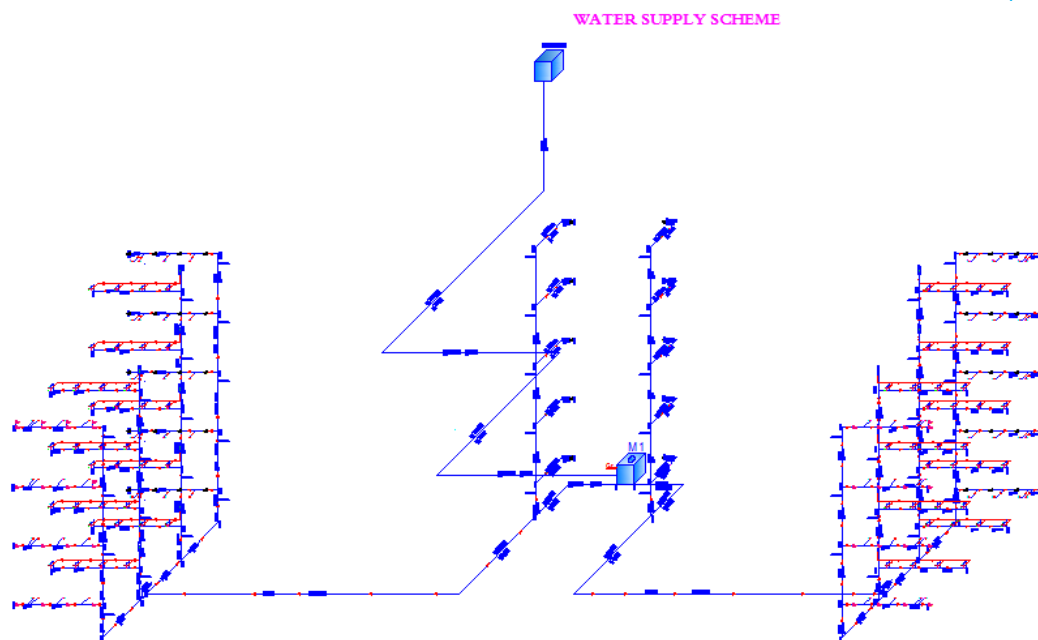


شکل (2) 1.1

## دوهم څپرکی

## 1.2- داوبورسونې دبرخې محاسبه

داوبه رسونې شمېما:



شکل 1.2 (3)

## دپنځم منزل د(a-b) برخې لپاره محاسبه Calculation For part (a-b)

څرنګه چې تجهیزات یو بل ته نیردې واقع دي. نوڅکه دهر یو لپاره بیل بیل قطرونه نه محاسبه کووچې بیا دپایو په نصب (Fitting) کې مشکلات رامنځته کیري. نوڅکه دخوتجهیزاتو لپاره یو قطر دلاندي فورمول په واسطه محاسبه کوو.

$$Q = 0.25 * \sqrt{Z_1 + Z_2 + Z_3 + \dots + Z_n}$$

د part(a-b) پورې څلوردانې تپ (Tap) او څلوردانې (Flash valve cwc) واقع دی. چې دهر یو لپاره د Table(5-A) نه په استفادي (Loading unit) را اخلو او لیکوچې:

$$Q_{(a-b)} = 0.25 * \sqrt{4 * 1.44 + 4 * 4.32} = 1,2 \text{ Lit/sec}$$

کله چې سرعت (V=1m/sec) وي نو دنل قطر داوبه رسونې لپاره دلاندي فورمول په ذریعه په لاس راوړو.

$$d = 1.1 * \sqrt{Q * 10^{-3}} \dots \dots \dots (2).$$

$$= 0,038m \approx 40mmd_{(a-b)} = 1.1 * \sqrt{Q_{(a-b)}} = 1.1 * \sqrt{1,2 * 10^{-3}}$$

داوبه رسونې دنلونو لپاره دودانې په داخل باید دست

ندر دقطرونوڅخه استفاده وشي. چې ستندر دقطرونه په لاندي ډول دی.

$$\theta = 16, 20, 32, 40, 50, 65, 70, 80, 90, 100, \dots \text{ (all Diminsion by mm)}$$

څرنګه چې دمحاسبه نه دنل قطر (38mm) په لاس راغی اودغه یو غیر ستندر قطر دی نو مونږي یو ستندر دهمدي قطر نه لوی په نظر کې نیسو چې هغه (40mm) دی. څرنګه مو چې قطر غټ په نظر کې ونیسو نو باید سرعت محاسبه کړو. او دلاندي رابطي نه استفاده کوو.

$$Q = V * A \dots \dots \dots (4) \Rightarrow Q = V * \frac{\Pi d^2}{4} \Rightarrow V = \frac{4*Q}{\Pi d^2}$$

$$V_{(a-b)} = \frac{4*Q_{(a-b)}}{\Pi d^2} = \frac{4*1.2*10^{-3}}{3.14(0.04)^2} = 0.95\text{m/sec}$$

څرنګه چې سرعت پدې نل (0.95m/sec) په لاس راغي نو دغه سرعت دی. څرنګه چې سرعت پدې نل (0.4-3)m/sec په انټروال کې واقع دی نو دغه یو مناسب سرعت دی. او س ضایعات پیداه کوو.

$$h_f = \frac{10.62*L}{d^{4.87}} * \left(\frac{Q}{C}\right)^{1.85}$$

د Part(a-b) پورې یو (90°) درجې البو (Elbow) او اوه (7) دانې ټي (Tee) واقع دي. چې ددوی معادل اوږدوالي دجدول Table(5-B) نه په استفادي په لاس راوړو.

$$h_{f(a-b)} = \frac{10.62(5,315+0,040 \times 33+7 \times 30 \times 0.040)}{(0.040)^{4.87}} * \left(\frac{1,2*10^{-3}}{120}\right)^{1.85} \Rightarrow h_{f(a-b)} =$$

$$0,57\text{m}$$

### دپنځم منزل د(c-d) برخي لپاره محاسبه Calculation For part (c-d)

$$Q_{(c-d)} = 0.25 * \sqrt{Z_1 + Z_2 + Z_3 + \dots + Z_n}$$

$$Q_{(c-d)} = 0.25 * \sqrt{4 * 1} = 0,5\text{Lit/sec}$$

$$d_{(c-d)} = 1.1 * \sqrt{Q_{(c-d)}} = 1.1 * \sqrt{0,55 * 10^{-3}} = 0,024\text{m}$$

$$\Rightarrow d_{(c-d)} = 0,032\text{m} \Rightarrow d_{(c-d)} = 32\text{mm}$$

څرنګه چې دمحاسبه نه دنل قطر (24mm) په لاس راغي اودغه یو غیر ستندرد قطر دی نو مونږي یو ستندرد دهمدې قطر نه لوی په نظر کې نیسو چې هغه (32mm) دی. څرنګه مو چې قطر غټ په نظر کې ونیسو نو باید سرعت محاسبه کړو. او دلاندي رابطي نه استفاده کوو.

$$Q = V * A \dots \dots \dots (4) \Rightarrow Q = V * \frac{\Pi d^2}{4} \Rightarrow V = \frac{4*Q}{\Pi d^2}$$

$$V_{(c-d)} = \frac{4*Q_{(c-d)}}{\Pi d^2} = \frac{4*0,55*10^{-3}}{3.14(0,032)^2} = 0.68\text{m/sec}$$

څرنګه چې سرعت پدې نل (0,68m/sec) په لاس راغي نو دغه سرعت دی. څرنګه چې سرعت پدې نل (0.4-3)m/sec په انټروال کې واقع دی نو دغه یو مناسب سرعت دی. او س ضایعات پیداه کوو.

$$h_f = \frac{10.62*L}{d^{4.87}} * \left(\frac{Q}{C}\right)^{1.85}$$

د Part(c-d) کې یودانه 90° درجې البو (Elbow) او درې دانې Tee واقع دي.

$$h_{f(c-d)} = \frac{10.62(5,315+0,032*33+3*0,032*30)}{(0,032)^{4.87}} * \left(\frac{0,55*10^{-3}}{120}\right)^{1.85} \Rightarrow h_{f(c-d)} = 0,16\text{m}$$

### دپنځم منزل د(x-d) برخي لپاره محاسبه Calculation For part (x-d)

دغه برخه د (Boiler) نه دست شویانو ته دگرمو اوبو دنل اړوند محاسبه د

$$Q = 0.25 * \sqrt{Z_1 + Z_2 + Z_3 + \dots + Z_n}$$

$$Q_{(x-d)} = 0.25 * \sqrt{1 * 1} \Rightarrow Q_{(x-d)} = 0,25\text{Lit/sec}$$

$$d_{(x-d)} = 1.1 * \sqrt{Q_{(x-d)}} = 1.1 * \sqrt{0,25 * 10^{-3}} = 0,017\text{m} \Rightarrow d_{(x-d)} =$$

$$0.02\text{m} = 20\text{mm}$$

څرنګه مو چې قطر زیات کړونوسرعت باید محاسبه شي.

$$V = \frac{4*Q}{\Pi d^2} \Rightarrow v_{(x-d)} = \frac{4*0,25*10^{-3}}{3.14(0,020)^2} = 0,79\text{m/sec}$$

دغه سرعت  $(0.4-3)m/sec$  په انټروال کې شامل دی نو سرعت بياهم مناسب دی. اوس ضايعات

$$h_f = \frac{10.62 * L}{d^{4.87}} * \left(\frac{Q}{c}\right)^{1.85} \Rightarrow \text{پيداہ کوو.}$$

$$h_{f(x-d)} = \frac{10.62(1.527+0.020*33)}{(0.020)^{4.87}} * \left(\frac{0.25*10^{-3}}{120}\right)^{1.85} \Rightarrow h_{f(x-d)} = 0,13m$$

**دپنځم منزل د(v-s) برخي لپاره محاسبه** Calculation For part (v-s)

$$Q = \sqrt{Z_1 + Z_2 + Z_3 + \dots + Z_n}$$

$$Q_{(v-s)} = 0.25 * \sqrt{1 * 1,44 + 1 * 4,32} \Rightarrow Q_{(v-s)} = 0,6Lit/sec$$

$$d_{(v-s)} = 1.1 * \sqrt{Q_{(v-s)}} = 1.1 * \sqrt{0,6 * 10^{-3}} = 0,026m \Rightarrow d_{(v-s)} = 0.026m = 32mm$$

څرنګه مو چي قطر زيات کړو نو سرعت بايد محاسبه شي.

$$V = \frac{4*Q}{\pi d^2} \Rightarrow v_{(v-s)} = 0,74m/sec$$

دغه سرعت  $(0.4-3)m/sec$  په انټروال کې شامل دی نو سرعت بياهم مناسب دی. اوس ضايعات

$$h_f = \frac{10.62 * L}{d^{4.87}} * \left(\frac{Q}{c}\right)^{1.85} \Rightarrow \text{پيداہ کوو.}$$

$$h_{f(v-s)} = \frac{10.62(2,862+0.032*33+0,032*30)}{(0.032)^{4.87}} * \left(\frac{0,6*10^{-3}}{120}\right)^{1.85} \Rightarrow h_{f(v-s)} = 0,15m$$

نوټ: څرنګه چې پورته محاسبه شوي نلونه په ټولو منزلونو کې يوشان دجریان مقدار لري نو دمحاسبې څخه يې صرف نظر کوو.

**دپنځم منزل نه څلورم ته دښکته کيدونکي نل محاسبه** Calculation For Part (b-e)

څرنګه چې ددې نل په ذريعه په مکمل ډول په پنځم منزل کې څلورودانو (W.C) اوڅلورداني (Tap) ته اوبه ورکول کيږي او بل داچې ددې نل دجریان مقدار د(a-b) برخي سره مساوي ده نو قطري هم يوشان په نظر کې نيسواو يواځې فشاري ضايعات يې محاسبه کوو.

$$Q_{(b-e)} = 1.2Lit/sec$$

$$04m = 40mm \quad d_{(b-e)} =$$

څرنګه چې قطر مو زيات کړو بايد سرعت محاسبه کړو.

$$V = \frac{4*Q}{\pi d^2} \Rightarrow v_{(b-e)} = 0.95m/sec, \text{ So safe}$$

اوس ضايعات پيدا کوو. پدې برخه کې يو دانه (Tee) واقع دی.

$$h_f = \frac{10.62 * L}{d^{4.87}} * \left(\frac{Q}{c}\right)^{1.85}$$

$$h_{f(b-e)} = \frac{10.62(3,6+0.04*30)}{(0.04)^{4.87}} * \left(\frac{1.2*10^{-3}}{120}\right)^{1.85} \Rightarrow h_{f(b-e)} = 0,18m$$

**دڅلورم منزل نه دريم منزل ته دښکته کيدونکي نل محاسبه** Calculation For Part (e-f)

دمنزل په زياتيدوسره دتجهيزاتو شمير دوچنده کيږي چې داوبو مقدار يې په لاندې ډول محاسبه کوو

$$Q = 0.25 * \sqrt{Z_1 + Z_2 + Z_3 + \dots + Z_n}$$

$$Q_{(e-f)} = 0.25 * \sqrt{8 * 1,44 + 8 * 4,32} = 1,69Lit/sec$$

$$d_{(e-f)} = 1.1 * \sqrt{Q_{(e-f)}} = 1.1 * \sqrt{1,69 * 10^{-3}} = 0,045m$$

$$\Rightarrow d_{(e-f)} = 0,045m = 50mm$$

څرنګه چې قطر مو بياهم زيات کړو نو بايد سرعت محاسبه کړو.



$$V = \frac{4*Q}{\pi d^2} = \frac{4*1,69*10^{-3}}{3.14(0.05)^2} = 0.86\text{m/sec} , \quad \text{So safe}$$

اوس ضايعات پيدا کوو. پدي برخه کي يو دانه (Tee) واقع دی.

$$h_f = \frac{10.62*L}{d^{4.87}} * \left(\frac{Q}{c}\right)^{1.85}$$

$$h_{f(e-f)} = \frac{10.62(3,6+0.05*30)}{(0.05)^{4.87}} * \left(\frac{1,69*10^{-3}}{120}\right)^{1.85} \Rightarrow h_{f(e-f)} = 0,12\text{m}$$

ددريم منزل نه دوهم منزل ته بنکته کيدونکي نل محاسبه Calculation For part(f-g)

$$Q = 0.25 * \sqrt{Z_1 + Z_2 + Z_3 + \dots + Z_n}$$

$$Q_{(f-g)} = 0.25 * \sqrt{12 \times 1,44 + 12 \times 4,32} = 2,071\text{Lit/sec}$$

$$d = 1.1 * \sqrt{Q} \Rightarrow d_{(f-g)} = 1.1 * \sqrt{2,07 * 10^{-3}} = 0,050\text{m}$$

$$\text{or } d_{(f-g)} = 50\text{mm} \Rightarrow d = 0.050$$

اوس ضايعات محاسبه کوو. پدي برخه کي يو دانه (Tee) واقع دی.

$$h_f = \frac{10.62*L}{d^{4.87}} * \left(\frac{Q}{c}\right)^{1.85}$$

$$h_{f(f-g)} = \frac{10.62(3,6+0.050*30)}{(0.050)^{4.87}} * \left(\frac{2,07*10^{-3}}{120}\right)^{1.85} \Rightarrow h_{f(f-g)} = 0,18\text{m}$$

دوهم منزل نه لمري منزل ته بنکته کيدونکي نل محاسبه Calculation For part (g-h)

$$Q = 0.25 * \sqrt{Z_1 + Z_2 + Z_3 + \dots + Z_n}$$

$$Q_{(g-h)} = 0.25 * \sqrt{16 \times 1,44 + 16 \times 4,32} = 2,4\text{Lit/sec}$$

$$d = 1.1 * \sqrt{Q} \Rightarrow d_{(g-h)} = 1.1 * \sqrt{2.4 * 10^{-3}} = 0.053\text{m}$$

$$\Rightarrow d = 65\text{mm} , v = 0,72\text{m/sec}$$

اوس ضايعات محاسبه کوو. پدي برخه کي يو دانه (Tee) واقع دی.

$$h_f = \frac{10.62*L}{d^{4.87}} * \left(\frac{Q}{c}\right)^{1.85}$$

$$h_{f(g-h)} = \frac{10.62(3,6+0.065*30)}{(0.065)^{4.87}} * \left(\frac{2.4*10^{-3}}{120}\right)^{1.85} \Rightarrow h_{f(g-h)} = 0,072\text{m}$$

دلرمي منزل نه يخندان ته د بنکته کيدونکي نل محاسبه Calculation For part(h-i)

$$Q = 0.25 * \sqrt{Z_1 + Z_2 + Z_3 + \dots + Z_n}$$

$$Q_{(h-i)} = 0.25 * \sqrt{20 \times 1,44 + 20 \times 4,32} = 2.68\text{Lit/sec}$$

$$d_{(h-i)} = 1.1 * \sqrt{2.68 * 10^{-3}} = 0.056\text{m}$$

$$\Rightarrow d = 0.065\text{m} \text{ or } d_{(h-i)} = 65\text{mm}$$

$$v = 0,80\text{m/sec}$$

اوس ضايعات محاسبه کوو. پدي برخه کي يو دانه (Tee) واقع دی.

$$h_{f(h-i)} = \frac{10.62*L}{d^{4.87}} * \left(\frac{Q}{c}\right)^{1.85}$$

$$h_{f(h-i)} = \frac{10.62(2,01+0.065*30)}{(0.065)^{4.87}} * \left(\frac{2.68*10^{-3}}{120}\right)^{1.85} \Rightarrow h_{f(h-i)} = 0.063\text{m}$$

په يخندان کي دافقي نل محاسبه Calculation For part(i-n)

$$= 0.25 * \sqrt{Z_1 + Z_2 + Z_3 + \dots + Z_n} Q$$

څرنګه چې په دې نل کې جریان د (h-i) برخې په شان ده نو قطرېې هم یوډول ده یوازې یې ضایعات محاسبه کوو دلته یوه ایلېوه واقع ده.

$$h_f = \frac{10.62 * L}{d^{4.87}} * \left(\frac{Q}{c}\right)^{1.85}$$

$$h_{f(i-n)} = \frac{10.62(3,181+0.065*33)}{(0.065)^{4.87}} * \left(\frac{2,68*10^{-3}}{120}\right)^{1.85} = 0.084m$$

**دپنځم منزل نه څلورم ته دبنکته کیدونکي نل محاسبه** Calculation For Part (d-j)

$$Q = 0.25 * \sqrt{Z_1 + Z_2 + Z_3 + \dots + Z_n}$$

$$Q_{(d-j)} = 0.25 * \sqrt{5 * 1} = 0,55 \text{ Lit/sec}$$

$$Q_{(d-j)} = 0,55 \text{ Lit/sec}$$

$$d_{(d-j)} = 0.032m = 32mm$$

څرنګه چې قطر مو زیات کړو باید سرعت محاسبه کړو.

$$V = \frac{4*Q}{\pi d^2} \Rightarrow v_{(d-j)} = 0.68m/sec, \text{ So safe}$$

اوس ضایعات پیدا کوو. پدې برخه کې یو دانه (Tee) واقع دی.

$$h_f = \frac{10.62 * L}{d^{4.87}} * \left(\frac{Q}{c}\right)^{1.85}$$

$$h_{f(d-j)} = \frac{10.62(3,6+0.032*30)}{(0.032)^{4.87}} * \left(\frac{0,55*10^{-3}}{120}\right)^{1.85} \Rightarrow$$

$$h_{f(d-j)} = 0,12m$$

**دڅلورم منزل نه دریم منزل ته دبنکته کیدونکي نل محاسبه** Calculation For Part (j-k)

دمنزل په زیاتیدوسره دتجهیزاتو شمیر دوچنده کیږي چې داوبو مقدار یې په لاندې ډول محاسبه کوو

$$Q = 0.25 * \sqrt{Z_1 + Z_2 + Z_3 + \dots + Z_n}$$

$$Q_{(j-k)} = 0.25 * \sqrt{10 * 1} = 0,79 \text{ Lit/sec}$$

$$d_{(j-k)} = 1.1 * \sqrt{Q_{(j-k)}} = 1.1 * \sqrt{1,79 * 10^{-3}} = 0,030m$$

$$\Rightarrow d_{(j-k)} = 0,032m = 32mm$$

اوس ضایعات پیدا کوو. پدې برخه کې یو دانه (Tee) واقع دی.

$$h_{f(j-k)} = \frac{10.62 * L}{d^{4.87}} * \left(\frac{Q}{c}\right)^{1.85}$$

$$h_{f(j-k)} = \frac{10.62(3,6+0.032*30)}{(0.032)^{4.87}} * \left(\frac{0,79*10^{-3}}{120}\right)^{1.85} \Rightarrow h_{f(j-k)} = 0,32m$$

**ددریم منزل نه دوهم منزل ته دبنکته کیدونکي نل محاسبه** Calculation For part(k-l)

$$Q = 0.25 * \sqrt{Z_1 + Z_2 + Z_3 + \dots + Z_n}$$

$$Q_{(k-l)} = 0.25 * \sqrt{15 * 1} = 0,961 \text{ Lit/sec}$$

$$d = 1.1 * \sqrt{Q} \Rightarrow d_{(k-l)} = 1.1 * \sqrt{0,96 * 10^{-3}} = 0,034m$$

$$\Rightarrow d = 0.034m \text{ or } d_{(k-l)} = 40mm$$

$$V = \frac{4*Q}{\pi d^2} \Rightarrow v_{(k-l)} = 0.76m/sec, \text{ So safe}$$

اوس ضایعات محاسبه کوو. پدې برخه کې یو دانه (Tee) واقع دی.

$$h_f = \frac{10.62 * L}{d^{4.87}} * \left(\frac{Q}{c}\right)^{1.85}$$

$$h_{f(k-l)} = \frac{10.62(3.6+0.040*30)}{(0.040)^{4.87}} * \left(\frac{0.96*10^{-3}}{120}\right)^{1.85} \Rightarrow h_{f(k-l)} = 0,12m$$

د دوهم منزل نه لمري منزل ته بنکته کيدونکي نل محاسبه (l-m) Calculation For part

$$Q = 0.25 * \sqrt{Z_1 + Z_2 + Z_3 + \dots + Z_n}$$

$$Q_{(l-m)} = 0.25 * \sqrt{20 \times 1} = 1,11\text{Lit/sec}$$

$$d = 1.1 * \sqrt{Q} \Rightarrow d_{(l-m)} = 1.1 * \sqrt{1,11 * 10^{-3}} = 0,036m$$

$$\Rightarrow d = 40\text{mm} \quad , v = 0,88\text{m/sec}$$

اوس ضايعات محاسبه کوؤ. پدي برخه کي يو دانه (Tee) واقع دی.

$$h_f = \frac{10.62*L}{d^{4.87}} * \left(\frac{Q}{c}\right)^{1.85}$$

$$h_{f(l-m)} = \frac{10.62(3.6+0.040*30)}{(0.040)^{4.87}} * \left(\frac{1,11*10^{-3}}{120}\right)^{1.85} \Rightarrow h_{f(l-m)} = 0,15m$$

دلري منزل نه يخندان ته د بنکته کيدونکي نل محاسبه (m-n) Calculation For part

$$Q = 0.25 * \sqrt{Z_1 + Z_2 + Z_3 + \dots + Z_n}$$

$$Q_{(m-n)} = 0.25 * \sqrt{25 \times 1} = 1,25\text{Lit/sec}$$

$$d_{(m-n)} = 1.1 * \sqrt{\frac{1,2}{5 * 10^{-3}}} = 0.038m$$

$$\Rightarrow d = 0.040m \quad \text{or} \quad d_{(m-n)} = 40\text{mm}$$

$$v = 0,99\text{m/sec}$$

اوس ضايعات محاسبه کوؤ. پدي برخه کي يو دانه (Tee) واقع دی.

$$h_f = \frac{10.62*L}{d^{4.87}} * \left(\frac{Q}{c}\right)^{1.85}$$

$$h_{f(m-n)} = \frac{10.62(2,01+0.040*30)}{(0.040)^{4.87}} * \left(\frac{1,25*10^{-3}}{120}\right)^{1.85} \Rightarrow h_{f(m-n)} = 0.13m$$

په يخندان کي دافقي نل محاسبه (n-o) Calculation For part

$$Q = 0.25 * \sqrt{Z_1 + Z_2 + Z_3 + \dots + Z_n}$$

$$Q_{(n-o)} = 0.25 * \sqrt{25 \times 1 + 20 \times 1,44 + 20 \times 4,32} = 2,968\text{Lit/sec}$$

$$d_{(n-o)} = 1.1 * \sqrt{2,96 * 10^{-3}} = 0.059m$$

$$v = 0,89\text{m/sec} \Rightarrow d = 0.065m \quad \text{or} \quad d_{(n-o)} = 65\text{mm},$$

$$h_f = \frac{10.62*L}{d^{4.87}} * \left(\frac{Q}{c}\right)^{1.85}$$

$$h_{f(n-o)} = \frac{10.62(2,96+0.065*30)}{(0.065)^{4.87}} * \left(\frac{2,96*10^{-3}}{120}\right)^{1.85} = 0.094m$$

په يخندان کي دافقي نل محاسبه (h-m) Calculation For part

$$Q = 0.25 * \sqrt{Z_1 + Z_2 + Z_3 + \dots + Z_n}$$

$$Q_{(h-m)} = 0.25 * \sqrt{25 \times 1} = 1,11\text{Lit/sec}$$

$$d_{(h-m)} = 1.1 * \sqrt{1,11 * 10^{-3}} = 0.036m$$

$$v = 0,88\text{m/sec} \Rightarrow d = 0.040m \quad \text{or} \quad d_{(h-m)} = 40\text{mm},$$

ددیلوم ددفاع دپروژي کتاب

داوبه رسوني اوکانالیزاسيون برخه

$$h_f = \frac{10.62 * L}{d^{4.87}} * \left(\frac{Q}{c}\right)^{1.85}$$

اوس ضايعات محاسبه کوو یوه ایلبوواقع ده.

$$h_{f(h-m)} = \frac{10.62(3,181+0.040*33)}{(0.040)^{4.87}} * \left(\frac{1,11*10^{-3}}{120}\right)^{1.85} = 0.14m$$

په یخبندان کي دافقي نل محاسبه **alculation For part(m-o)**

$$Q = 0.25 * \sqrt{Z_1 + Z_2 + Z_3 + \dots + Z_n}$$

$$Q_{(m-o)} = 0.25 * \sqrt{25 * 1 + 16 * 1,44 + 16 * 4,32} = 2,64Lit/sec$$

$$d_{(m-o)} = 1.1 * \sqrt{2,64 * 10^{-3}} = 0.056m$$

$$v = 0,79m/sec \Rightarrow d = 0.065m \text{ or } d_{(m-o)} = 65mm,$$

$$h_f = \frac{10.62 * L}{d^{4.87}} * \left(\frac{Q}{c}\right)^{1.85}$$

اوس ضايعات محاسبه کوو یوه Tee واقع ده.

$$h_{f(m-o)} = \frac{10.62(0,556+0.065*30)}{(0.065)^{4.87}} * \left(\frac{2,64*10^{-3}}{120}\right)^{1.85} = 0.038m$$

دپنځم منزل نه څلورم ته دښکته کيدونکي نل محاسبه **Calculation For Part (v-u)**

$$Q = 0.25 * \sqrt{Z_1 + Z_2 + Z_3 + \dots + Z_n}$$

$$Q_{(v-u)} = 0.25 * \sqrt{1,44 * 1 + 1 * 4,32} = 0,6Lit/sec$$

$$Q_{(v-u)} = 0,6Lit/sec$$

$$d_{(v-u)} = 0.026m = 32mm$$

څرنګه چې قطر مو زیات کړو باید سرعت محاسبه کړو.

$$V = \frac{4*Q}{\pi d^2} \Rightarrow v_{(v-u)} = 0.74m/sec, \text{ So safe}$$

اوس ضايعات پیدا کوو.

$$h_f = \frac{10.62 * L}{d^{4.87}} * \left(\frac{Q}{c}\right)^{1.85}$$

$$h_{f(v-u)} = \frac{10.62(3,6+0.032*33)}{(0.032)^{4.87}} * \left(\frac{0,6*10^{-3}}{120}\right)^{1.85} \Rightarrow h_{f(v-u)} = 0,14m$$

دڅلورم منزل نه دريم منزل ته دښکته کيدونکي نل محاسبه **Calculation For Part (u-t)**

دمنزل په زیاتیدوسره دتجهيزاتو شمیر دوچنده کيږي چې داوبو مقداري په لاندې ډول محاسبه کوو

$$Q = 0.25 * \sqrt{Z_1 + Z_2 + Z_3 + \dots + Z_n}$$

$$Q_{(u-t)} = 0.25 * \sqrt{,44 + 2 * 4,32} = 0,84Lit/sec$$

$$1.1 * \sqrt{Q_{(u-t)}} = 1.1 * \sqrt{0,84 * 10^{-3}} = 0,031m$$

$$\Rightarrow d_{(u-t)} = 0,031m = 32mm$$

$$V = \frac{4*Q}{\pi d^2} \Rightarrow v_{(u-t)} = 1,04m/sec, \text{ So safe}$$

اوس ضايعات پیدا کوو. پدې برخه کي یو دانه (Tee) واقع دی.

$$h_f = \frac{10.62 * L}{d^{4.87}} * \left(\frac{Q}{c}\right)^{1.85}$$

$$h_{f(u-t)} = \frac{10.62(3,6+0.032*30)}{(0.032)^{4.87}} * \left(\frac{0,84*10^{-3}}{120}\right)^{1.85} \Rightarrow h_{f(u-t)} = 0,26m$$

ددريم منزل نه دوهم منزل ته ښکته کيدونکي نل محاسبه **For part(t-r)**

$$Q = 0.25 * \sqrt{Z_1 + Z_2 + Z_3 + \dots + Z_n}$$

$$Q_{(t-r)} = 0.25 * \sqrt{3 \times 1,44 + 3 \times 4,32} = 1,031 \text{ Lit/sec}$$

$$d = 1.1 * \sqrt{Q} \Rightarrow d_{(t-r)} = 1.1 * \sqrt{1,03 * 10^{-3}} = 0,035 \text{ m}$$

$$\Rightarrow d = 0.035 \text{ m} \quad \text{or} \quad d_{(t-r)} = 40 \text{ mm}$$

$$V = \frac{4*Q}{\pi d^2} \Rightarrow v_{(t-r)} = 0.82 \text{ m/sec}, \quad \text{So safe}$$

اوس ضایعات محاسبه کوؤ. پدې برخه کې یو دانه (Tee) واقع دی.

$$h_f = \frac{10.62 * L}{d^{4.87}} * \left(\frac{Q}{c}\right)^{1.85}$$

$$h_{f(t-r)} = \frac{10.62(3,6+0.040*30)}{(0.040)^{4.87}} * \left(\frac{1,03*10^{-3}}{120}\right)^{1.85} \Rightarrow h_{f(t-r)} = 0,13 \text{ m}$$

د دوهم منزل نه لمري منزل ته بنکته کیدونکي نل محاسبه For part (r-q)

$$Q = 0.25 * \sqrt{Z_1 + Z_2 + Z_3 + \dots + Z_n}$$

$$Q_{(r-q)} = 0.25 * \sqrt{4 \times 1,44 + 4 \times 4,32} = 1,2 \text{ Lit/sec}$$

$$d = 1.1 * \sqrt{Q} \Rightarrow d_{(r-q)} = 1.1 * \sqrt{1,2 * 10^{-3}} = 0,038 \text{ m}$$

$$\Rightarrow d = 40 \text{ mm}, \quad v = 0,95 \text{ m/sec}$$

اوس ضایعات محاسبه کوؤ. پدې برخه کې یو دانه (Tee) واقع دی.

$$h_f = \frac{10.62 * L}{d^{4.87}} * \left(\frac{Q}{c}\right)^{1.85}$$

$$h_{f(r-q)} = \frac{10.62(3,6+0.040*30)}{(0.040)^{4.87}} * \left(\frac{1,2*10^{-3}}{120}\right)^{1.85} \Rightarrow h_{f(r-q)} = 0,18 \text{ m}$$

دلري منزل نه یخندان ته د بنکته کیدونکي نل محاسبه Calculation For part (q-p)

$$Q = 0.25 * \sqrt{Z_1 + Z_2 + Z_3 + \dots + Z_n}$$

$$Q_{(q-p)} = 0.25 * \sqrt{5 \times 1,44 + 5 \times 4,32} = 1,34 \text{ Lit/sec}$$

$$d_{(q-p)} = 1.1 * \sqrt{1,34 * 10^{-3}} = 0.040 \text{ m}$$

$$\Rightarrow d = 0.040 \text{ m} \quad \text{or} \quad d_{(q-p)} = 40 \text{ mm}$$

اوس ضایعات محاسبه کوؤ. پدې برخه کې یو دانه (Tee) او یوه ایلبو واقع دی.

$$h_f = \frac{10.62 * L}{d^{4.87}} * \left(\frac{Q}{c}\right)^{1.85}$$

$$h_{f(q-p)} = \frac{10.62(2,01+0.040*30+0,040 \times 33)}{(0.040)^{4.87}} * \left(\frac{1,34*10^{-3}}{120}\right)^{1.85} \Rightarrow h_{f(q-p)} = 0.35 \text{ m}$$

په یخندان کې دافقي نل محاسبه : Calculation For part (o-p)

$$Q = 0.25 * \sqrt{Z_1 + Z_2 + Z_3 + \dots + Z_n}$$

$$Q_{(o-p)} = 0.25 * \sqrt{45 \times 1 + 36 \times 1,44 + 36 \times 4,32} = 3,97 \text{ Lit/sec}$$

$$d_{(o-p)} = 1.1 * \sqrt{3,97 * 10^{-3}} = 0.69 \text{ m}$$

$$v = 1,03 \text{ m/sec} \Rightarrow d = 0.65 \text{ m} \quad \text{or} \quad d_{(o-p)} = 70 \text{ mm},$$

$$h_f = \frac{10.62 * L}{d^{4.87}} * \left(\frac{Q}{c}\right)^{1.85}$$

$$h_{f(o-p)} = \frac{10.62(21,053+0.070*33+0,070 \times 30)}{(0.070)^{4.87}} * \left(\frac{3,97*10^{-3}}{120}\right)^{1.85} = 0.58 \text{ m}$$

## په يخبندان كې دافقي نل محاسبه : Calculation For part(p-z)

$$Q = 0.25 * \sqrt{Z_1 + Z_2 + Z_3 + \dots + Z_n}$$

$$Q_{(p-z)} = 0.25 * \sqrt{45 \times 1 + 41 \times 1,44 + 41 \times 4,32} = 4,19 \text{ Lit/sec}$$

$$d_{(p-z)} = 1.1 * \sqrt{4,19 * 10^{-3}} = 0,071 \text{ m}$$

$$v = 0,83 \text{ m/sec} \Rightarrow d = 0.080 \text{ m} \text{ or } d_{(p-z)} = 80 \text{ mm},$$

$$h_f = \frac{10.62 * L}{d^{4.87}} * \left(\frac{Q}{c}\right)^{1.85}$$

اوس ضايعات محاسبه كوو يوه ايلبو او يوه Tee واقع ده.

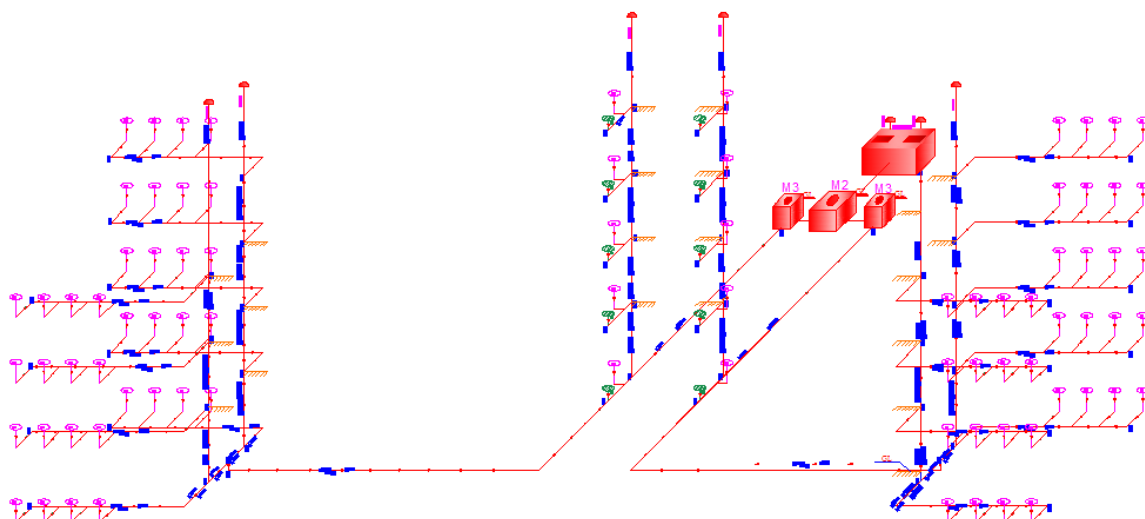
$$h_{f(p-z)} = \frac{10.62(5,728 + 0.080 * 30 + 0.080 * 33)}{(0.080)^{4.87}} * \left(\frac{4,19 * 10^{-3}}{120}\right)^{1.85} = 0.14 \text{ m}$$

## دریم څپرکی

## 1.3. داوبه ردونې دبرخي محاسبه

Black Water شیمما:

BLACK WATER SCHEME



(4) شکل 1.3

په لاندې فارمولونو کې د (sw) اصطلاح د (sewage) لپاره استعمالوو او w اصطلاح د (water supply) لپاره استعمالوو.

دپنځم منزل دکمودونو (W.C) دافقي (sewer) ډایزاین:

یعني part (a' - b') څرنګه چې دغه افقي نل په ټولو منزلونو کې یوشان جریان لري نو ددې افقي نل دتکراري محاسبې څخه صرف نظر کوو ددې نل محاسبه په لاندې ډول ده.

$$Q_{sw}(a'-b') = 2 \times Q_w(a'-b') = 2 \times 1,03 = 2,06 \text{ Lit/sec}$$

$$d_{sw}(a'-b') = \sqrt{\frac{4 \times Q_{sw}}{V \times \pi \times 1000}} = \sqrt{\frac{4 \times 2,06}{1,2 \times 3,14 \times 1000}}$$

$$d_{sw}(a'-b') = 0,046 \text{ m or } 46 \text{ mm} ; d_{sw}(a'-b') = 100 \text{ mm}$$

په پورته فورمول کې مونږ دفاضله جریان لپاره مناسب سرعت  $V = 1,2 \frac{m}{sec}$  فرضوو.

$$Q_{full} = V \times A \rightarrow 12 \times \frac{3,14 \times 0,1^2}{4} = 0,00942 \frac{m^3}{sec} = 9,42 \text{ Lit/sec}$$

څرنګه چې 0,11 لپاره په 5,7 Tabale hydraulic elements

$$\frac{v}{V} = 0,67; V = 0,67 \times 0,9 = 0,603 \frac{m}{sec} \frac{q_{max}}{Q_{full}} = \frac{1,03}{9,42} = 0,11$$

کې موږ د  $\frac{v}{V}$  قیمت 0,67 سره مساوي ده.

$$i_{sw}(a'-b') = \left( \frac{V \times N}{0,003968 \times D^3} \right)^2 = \left( \frac{0,603 \times 0,013}{0,003968 \times \frac{100^2}{3}} \right)^2 = 0,8\%$$

اوس فرض کوو 1% میلان لپاره سرعت چیک کوو ترڅو د نل په اوږدوالي مناسب سرعت ترلاسه شي.

$$V = \frac{0,003968 \times D^{\frac{2}{3}} \times i^{\frac{1}{2}}}{N} = \frac{0,003968 \times 100^{\frac{2}{3}} \times 0,01^{\frac{1}{2}}}{0,013} = 0,657 \frac{m}{sec}$$

د پنځم منزل څخه څلورم ته دښکته کیدونکې Stack نل دیزاین:

د عمودي نل (b' - d') لپاره محاسبه اجراء کوو.

$$Q_{sw}(b'-d') = Q_{sw}(a'-b') = 2,06 \text{ Lit/sec}$$

$$d_{sw}(b'-d') = d_{sw}(a'-b') = 0,1m \text{ or } 100mm$$

$$V_{sw}(b'-d') = V_{sw}(a'-b') = 0,603 \text{ m/sec}$$

$$i_{sw}(b'-d') = i_{sw}(a'-b') = 0,1\%$$

د څلورم منزل څخه ددریم منزل ته دښکته کیدونکې Stack نل دیزاین: part(d' - e')

$$Q_{sw}(d'-e') = 2 \times Q_w(a'-b') = 2 \times 2,06 = 4,12 \text{ Lit/sec}$$

$$d_{sw} = \sqrt{\frac{4 \times Q_{sw}}{V \times \pi \times 1000}} = \frac{4 \times 4,12}{1 \times 3,14 \times 1000} = 0,072m \approx 100mm$$

ددریم منزل څخه ددهم منزل ته دښکته کیدونکې Stack نل دیزاین: part(e' - f')

$$Q_{sw}(e'-f') = (2,06+1,03) \times 2 = 6,18 \text{ Lit/sec}$$

$$d_{sw} = \sqrt{\frac{4 \times Q_{sw}}{V \times \pi \times 1000}} = \frac{4 \times 6,18}{1 \times 3,14 \times 1000} = 0,088m \approx 100mm$$

ددهم منزل څخه اول منزل ته دښکته کیدونکې Stack نل دیزاین: part(f' - g')

$$Q_{sw}(f'-g') = (2,06+2,06) \times 2 = 8,24 \text{ Lit/sec}$$

$$d_{sw} = \sqrt{\frac{4 \times Q_{sw}}{V \times \pi \times 1000}} = \frac{4 \times 8,24}{3,14 \times 1000} = 0,102m \approx 125mm$$

په اول منزل کې افقي سیور محاسبه اجراء کوو: part(g' - h')

$$Q_{sw}(g'-h') = (2,06+2,06+1,03) \times 2 = 10,3 \text{ Lit/sec}$$

$$d_{sw} = \sqrt{\frac{4 \times Q_{sw}}{V \times \pi \times 1000}} = \frac{4 \times 10,3}{3,14 \times 1000} = 0,115m \approx 125mm$$

$$Q_{full} = V \times A = 1 \times \frac{3,14 \times 0,125^2}{4} = 0,01226 \frac{m^3}{sec} = 12,26 \text{ Lit/sec}$$

$$\frac{v}{V} = 0,96; V = 0,96 \times 1 = 0,96 \frac{m}{sec} \times \frac{Q_{full}}{12,26} = \frac{5,15}{12,26} = 0,42$$

$$i_{sw}(g'-h') = \left( \frac{V \times N}{0,003968 \times D^{\frac{2}{3}}} \right)^2 = \left( \frac{0,96 \times 0,013}{0,003968 \times 1,25^{\frac{2}{3}}} \right)^2 = 1,6\%$$

$$\text{Assumed slope} = 1\%$$

د سرعت لپاره چیک ترسره کوو.

$$V = \frac{0,003968 \times 125^{\frac{2}{3}} \times i^{\frac{1}{2}}}{N} = \frac{0,003968 \times 100^{\frac{2}{3}} \times 0,01^{\frac{1}{2}}}{0,013} = 0,76 \frac{m}{sec}$$

د اول منزل څخه د یخندان ته دښکته کیدونکې عمودي نل محاسبه: part(h' - c')

$$Q_{sw}(h'-c') = (10,3+10,3) = 20,6 \text{ Lit/sec}$$

$$d_{sw} = \sqrt{\frac{4 \times Q_{sw}}{V \times \pi \times 1000}} = \frac{4 \times 20,6}{3,14 \times 1000} = 0,162m \approx 200mm$$

په یخندان کې دافقي نل محاسبه: part(h' - c')

$$Q_{sw}(h'-c') = Q_{sw}(c'-i') = 20,6 \text{ Lit/sec}$$

$$d_{sw}(c'-i') = d_{sw}(h'-c') = 200mm$$



$$Q_{full}=V \times A = 1 \times \frac{3,14 \times 0,2^2}{4} = 0,0314 \frac{m^3}{sec} = 31,4Lit/sec$$

$$\frac{v}{V} = 0,46; V = 0,46 \times 1 = 0,46 \frac{m \ qmax}{sec Qfull} = \frac{5,15+5,15}{31,4} = 0,03$$

$$i_{sw}(c'-i') = \left( \frac{V \times N}{0,003968 \times D^3} \right)^2 = \left( \frac{0,46 \times 0,013}{0,003968 \times 200^3} \right)^2 = 0,2\%$$

Assumed slope = 1% ... .. ok

دسرعت لپاره چیک ترسره کوو.

$$V = \frac{0,003968 \times D^{\frac{2}{3}} \times i^{\frac{1}{2}}}{N} = \frac{0,003968 \times 200^{\frac{2}{3}} \times 0,01^{\frac{1}{2}}}{0,013} = 1,04 \frac{m}{sec}$$

دپنځم منزل کې افقي سيور محاسبه اجراء کوو: **part(o' - n')**

$$Q_{sw}(o'-n') = 2 \times Q_w = 1,64Lit/sec$$

$$d_{sw}(a'-b') = \sqrt{\frac{4 \times Q_{sw}}{V \times \pi \times 1000}} = \frac{4 \times 2,06}{1,2 \times 3,14 \times 1000}$$

$$d_{sw}(a'-b') = 0,046m \approx 100mm$$

$$Q_{full}=V \times A = 1 \times \frac{3,14 \times 0,1^2}{4} = 0,00785 \frac{m^3}{sec} = 7,85Lit/sec$$

$$\frac{v}{V} = 0,30; V = 0,30 \times 1 = 0,30 \frac{m \ qmax}{sec Qfull} = \frac{0,82}{7,85} = 0,1$$

$$i_{sw}(o'-n') = \left( \frac{V \times N}{0,003968 \times D^3} \right)^2 = \left( \frac{0,30 \times 0,013}{0,003968 \times 100^3} \right)^2 = 0,2\%$$

Assumed slope = 1% ... .. ok

سرعت يې هم safe ده.

دپنځم منزل څخه څلورم منزل ته دښکته کېدونکې **stack** نل ډيزاين: **part(n' - m')**

$$Q_{sw}(n'-m') = (0,82) \times 2 = 1,64Lit/sec$$

$$d_{sw}(n'-m') = \sqrt{\frac{4 \times Q_{sw}}{V \times \pi \times 1000}} = \frac{4 \times 1,64}{3,14 \times 1000}$$

$$d_{sw}(n'-m') = 0,046m \approx 100mm$$

دڅلورم منزل څخه دريم منزل ته دښکته کېدونکې **Stack** نل ډيزاين: **part(m' - l')**

$$Q_{sw}(m'-l') = (0,82+0,82) \times 2 = 3,28Lit/sec$$

$$d_{sw}(m'-l') = \sqrt{\frac{4 \times Q_{sw}}{V \times \pi \times 1000}} = \frac{4 \times 3,28}{3,14 \times 1000}$$

$$d_{sw}(m'-l') = 0,065m \approx 100mm$$

ددريم منزل څخه دوهم منزل ته دښکته کېدونکې **Stack** نل ډيزاين: **part(l' - k')**

$$Q_{sw}(l'-k') = (0,82+0,82+0,82) \times 2 = 4,92Lit/sec$$

$$d_{sw}(l'-k') = \sqrt{\frac{4 \times Q_{sw}}{V \times \pi \times 1000}} = \frac{4 \times 4,92}{3,14 \times 1000}$$

$$d_{sw}(l'-k') = 0,079m \approx 100mm$$

ددوهم منزل څخه اول منزل ته دښکته کېدونکې **Stack** نل ډيزاين: **part(k' - j')**

$$Q_{sw}(k'-j') = (0,82+0,82+0,82+0,82) \times 2 = 6,56Lit/sec$$

$$d_{sw}(k'-j') = \sqrt{\frac{4 \times Q_{sw}}{V \times \pi \times 1000}} = \frac{4 \times 6,56}{3,14 \times 1000}$$

$$d_{sw}(k'-j')=0,091m\approx 100mm$$

په يخبندان كې دافقي دودانې څخه دخارجيدونكې افقي (Sewer) ډيزاين: part(j' - p')

$$Q_{sw}(j'-p') = (8,2+20,6) = 28,8\text{Lit/sec}$$

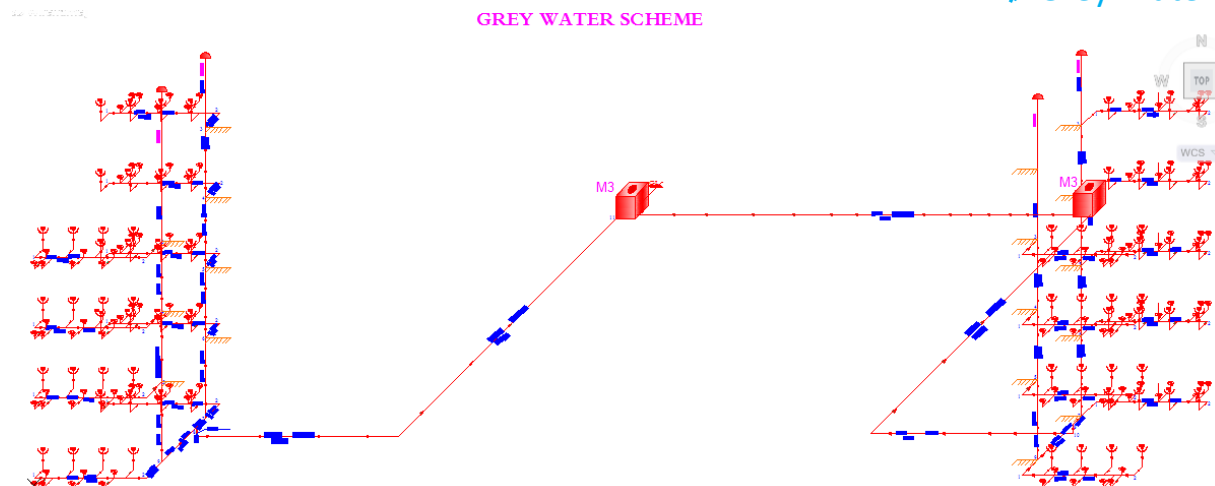
$$d_{sw}(j'-p') = \sqrt{\frac{4 \times Q_{sw}}{V \times \pi \times 1000}} = \frac{4 \times 28,8}{3,14 \times 1000}$$

$$d_{sw}(j'-p')=0,192m\approx 200mm$$

دپنځم منزل(Field drain) داوبه ردونې لپاره محاسبه په لاندي ډول اجراء كوودافقي نل يا

(Sewer) لپاره part(1 - 3)

دGrey Water شپيما:



(5) شكل 1.3

$$Q_{sw}(1-3) = (0,82) \times 2 = 1,64\text{Lit/sec}$$

$$d_{sw}(1-3) = \sqrt{\frac{4 \times Q_{sw}}{V \times \pi \times 1000}} = \frac{4 \times 1,64}{3,14 \times 1000}$$

$$d_{sw}(1-3)=0,046m\approx 100mm$$

$$Q_{full}=V \times A = 1 \times \frac{3,14 \times 0,1^2}{4} = 0,00785 \frac{m^3}{sec} = 7,85\text{Lit/sec}$$

$$\frac{v}{V} = 0,67; V = 0,67 \times 1 = 0,67 \frac{m}{sec} = \frac{0,82}{7,85} = 0,1$$

$$i_{sw}(1-3) = \left( \frac{V \times N}{0,003968 \times D^{\frac{2}{3}}} \right)^2 = \left( \frac{0,67 \times 0,013}{0,003968 \times 100^{\frac{2}{3}}} \right)^2 = 0,1\%$$

Assumed slope = 1% ..... ok

$$V = \frac{0,003968 \times D^{\frac{2}{3}} \times i^{\frac{1}{2}}}{N} = \frac{0,003968 \times 100^{\frac{2}{3}} \times 0,01^{\frac{1}{2}}}{0,013} = 0,657 \frac{m}{sec}$$

دعمودي نل لپاره محاسبه په لاندي ډول اجراء كوودپنځم منزل څخه ترڅلورم منزل پور(1-3) part

$$Q_{sw}(3-4) = Q_{sw}(1-3) = 1,64 \text{ Lit/sec}$$

$$d_{sw}(3-4) = d_{sw}(1-3) = 100mm$$

دڅلورم منزل څخه دريم منزل ته دښکته کيدونکې عمودي نل محاسبه:

$$Q_{sw}(4-5) = (0,82+0,82) \times 2 = 3,28\text{Lit/sec}$$

$$d_{sw}(4-5) = \sqrt{\frac{4 \times Q_{sw}}{V \times \pi \times 1000}} = \frac{4 \times 3,28}{3,14 \times 1000}$$

$$d_{sw}(4-5)=0,046m\approx 100mm$$

ددريم منزل څخه دوهم منزل ته دښکته کيدونکي عمودي نل محاسبه:

$$Q_{sw}(5-6) = (0,82+0,82+0,82) = 4,92\text{Lit/sec}$$

$$d_{sw}(5-6)=\sqrt{\frac{4 \times Q_{sw}}{V \times \pi \times 1000}} = \frac{4 \times 4,92}{3,14 \times 1000}$$

$$d_{sw}(5-6)=0,079m\approx 100mm$$

د دوهم منزل څخه اول منزل ته دښکته کيدونکي عمودي نل محاسبه:

$$Q_{sw}(6-7) = (0,82) \times 4 = 6,56\text{Lit/sec}$$

$$d_{sw}(6-7)=\sqrt{\frac{4 \times Q_{sw}}{V \times \pi \times 1000}} = \frac{4 \times 6,56}{3,14 \times 1000}$$

$$d_{sw}(6-7)=0,091m\approx 100mm$$

په اول منزل کي دافقي سيور محاسبه:

$$Q_{sw}(7-8) = (0,82 \times 5) \times 2 = 6,56\text{Lit/sec}$$

$$d_{sw}(7-8)=\sqrt{\frac{4 \times Q_{sw}}{V \times \pi \times 1000}} = \frac{4 \times 6,56}{3,14 \times 1000}$$

$$d_{sw}(7-8)=0,091m\approx 100mm$$

$$Q_{full}=V \times A = 1 \times \frac{3,14 \times 0,125^2}{4} = 0,01226 \frac{m^3}{sec} = 12,26\text{Lit/sec}$$

$$\frac{v}{V} = 0,90 ; V = 0,90 \times 1 = 0,90 \frac{m \ qmax}{sec \ Qfull} = \frac{4,1}{12,26} = 0,33$$

$$i_{sw}(7-8)=\left(\frac{V \times N}{0,003968 \times D^3}\right)^2 = \left(\frac{0,90 \times 0,013}{0,003968 \times 125^3}\right)^2 = 0,0139\%$$

Assumed slope = 1% ... .. ok

$$V = \frac{0,003968 \times D^{\frac{2}{3}} \times i^{\frac{1}{2}}}{N} = \frac{0,003968 \times 125^{\frac{2}{3}} \times 0,01^{\frac{1}{2}}}{0,013} = 0,763 \frac{m}{sec}$$

په اول منزل کي دافقي نل محاسبه:

$$Q_{sw}(8-9) = 6,56 \text{ Lit/sec}$$

$$d_{sw}(8-9) = 0,091m \text{ or } 100mm$$

$$i_{sw}(8-9) = 1\%$$

داول منزل څخه يخبندان ته دښکته کيدونکي عمودي نل محاسبه:

$$Q_{sw}(8-10) = (8,2+6,56) = 14,76 \text{ Lit/sec}$$

$$d_{sw}(8-10) = 0,137m \text{ or } 150mm$$

په يخبندان کي دوداني څخه دخارجيدونکي سيورنل محاسبه:

$$Q_{sw}(10-11) = Q_{sw}(8-10) = 14,76 \text{ Lit/sec}$$

$$d_{sw}(10-11) = d_{sw}(8-10) = 200 \text{ mm}$$

$$Q_{full}=V \times A = 1 \times \frac{3,14 \times 0,15^2}{4} = 0,01766 \frac{m^3}{sec} = 17,66\text{Lit/sec}$$

$$\frac{v}{V} = 0,96 ; V = 0,96 \times 1 = 0,96 \frac{m \ qmax}{sec \ Qfull} = \frac{7,38}{17,66} = 0,42$$

$$i_{sw}(10-11)=\left(\frac{V \times N}{0,003968 \times D^3}\right)^2 = \left(\frac{0,96 \times 0,013}{0,003968 \times 150^3}\right)^2 = 1,2\%$$

Assumed slope = 1% ... .. ok

## څلورم څپرکی

### 1.4 د اوبو د ذخیرې دیزاین:

لاندي شيان محاسبه کوو.

A. د ذخیرې ابعادو محاسبه (Size of Tank)

B. د پمپ دنل لپاره د قطر محاسبه (Diameter of pumping Main)

C. د پمپ د توان یا طاقت پیدا کول (Power of Pump)

دپولي تخنیک پوهنتون د (Engineering Water Supply) کتاب د (146)

صفحي مطابق د (3) جدول د تجهیزاتو لپاره په لاندي ډول داوبو غوښتلو اندازه ذکر شويده.

$$\text{For sink} = 200 \frac{\text{Lit}}{\text{day}}$$

$$\text{For Water closet (WC)} = 180 \frac{\text{Lit}}{\text{day}}$$

$$\text{For Tap} = 180 \frac{\text{Lit}}{\text{day}}$$

دپورته قیمتونو مطابق دخپلي پروژې تجهیزاتو ته داوبو مقدار په یوه ورځ کې په  $\frac{m^3}{\text{day}}$  پیدا کوو.

$$\text{Sink} = 60 \times 200 = 12000 \frac{\text{Lit}}{\text{day}} = 12 \frac{m^3}{\text{day}}$$

$$\text{Water closet (WC)} = 60 \times 180 = 10800 \frac{\text{Lit}}{\text{day}} = 10,8 \frac{m^3}{\text{day}}$$

$$\text{Tap} = 40 \times 180 = 7200 \frac{\text{Lit}}{\text{day}} = 7,2 \frac{m^3}{\text{day}}$$

$$\text{Total Demand} = 30 \frac{m^3}{\text{day}}$$

### A. د ذخیرې ابعادو محاسبه (Size of Tank)

تانکې باید په (12) ساعتونو کې یوځل ډکه شي نو د (12) ساعتونو لپاره داوبو مقدار  $(15 \frac{m^3}{\text{day}})$  کیږي

همدې حجم ته د تانکې ابعاد محاسبه کوو.

$$V = b \times L \times h = 3,2 \times 4 \times 1,2 = 15 m^3$$

د تانکې ارتفاع (20cm) په اندازه اضافي نیول کیږي ځکه په یخ موسم کې داوبو حجم زیاتېږي

B. د پمپ دنل لپاره د قطر محاسبه (Diameter of Pumping Main)

د پمپ پواسطه باید په (12) ساعتونو کې  $(15 m^3)$  اوبه پورته شي.

Note : 1.  $\frac{1}{2}$  to  $\frac{1}{4}$  Storage time of roof tank is taken as filling

Time of roof tank for  $\frac{1}{2}$  Day storage the filling time will be  $\frac{1}{4}$

$$\text{Of Storage time} = \frac{1}{4} \times \frac{1}{2} \text{ day} = \frac{1}{4} \times 12 \text{ hours} = 3 \text{ hours}$$

2. Generally filling Time of roof tank is taken between 2 to 3 hours for small tanks and between 6 hours for big tanks.

3. Velocity in pumping main is generally taken between  $1,5 \frac{m}{\text{sec}}$  to  $3 \frac{m}{\text{sec}}$

فرض کوو چې پمپ (3) ساعته کار کوي ترڅو تانکې ډکه نو.

$$\text{Rate of Filling} = \frac{15}{3 \times 60 \times 60} = 0,00138 \frac{m^3}{\text{sec}}$$

دپمپ لپاره سرعت عموماد  $\frac{m^3}{sec}$  (1,5 - 3) نیول کیري.

$$Q=v \times A, A=\frac{Q}{V} = \frac{\pi \times d^2}{4}; d = \sqrt{\frac{4 \times Q}{\pi \times V}} = \sqrt{\frac{4 \times 1,388 \times 10^{-3}}{3,14 \times 1,5}} = 0,034m$$

≈40mm since diameter adopt 40mm minimum

$$A = \frac{\pi \times d^2}{4}$$

## 2.4. دپمپ محاسبه:

Total Head = (H<sub>1</sub> + H<sub>2</sub> + H<sub>3</sub> + H<sub>4</sub> + H<sub>5</sub>) + 10% safe factor

H<sub>1</sub> = pipe friction loss in m

H<sub>2</sub> = Loss in fitting and valves (0,5m / each fitting)

H<sub>3</sub> = Total height in m to where water lifted

H<sub>4</sub> = discharge head 2m

H<sub>5</sub> = pump loss(2m)

زموږ په پروژه کې (H<sub>1</sub> = H<sub>2</sub> = h<sub>f</sub>) سره مساوي دي او مخکې پيدا کړل شويدي

$$h_f = 0,57+0,12+0,14+0,13+0,12+0,14+0,12+0,58+3,68=5,8m$$

$$H_3 = 5 \times 3,6 + 1,2 + 1 = 20,2m$$

(5) دمنزلونو تعداد.

(3.6) دمنزل لوړوالي.

(1.2) دټانکي ارتفاع.

(1) دکرسي دبرخي لوړوالي.

$$H_4 = 2m$$

$$H_5 = 2m$$

$$\text{Total Head} = (5,8+ 20,2+ 2 + 2) = 30m$$

$$\text{Power} = \frac{\text{work done}}{\text{time}}$$

Work done = force x distance

$$\text{Therefore power} = \frac{\text{force} \times \text{distance}}{\text{time}}$$

Force = mass x acceleration

$$\text{Power} = \frac{\text{force} \times \text{acceleration} \times \text{distance}}{\text{time}}$$

$$\text{Power} = \frac{\text{mass}(kg) \times \text{acceleration}(\frac{m}{sec^2}) \times \text{distance}(m)}{\text{time}(sec),watts}$$

$$1 \text{ Horse power} = 0,746 \text{ kilowatts}$$

Therefore , power of pump:

$$\text{Mass}(kg) \times 9,81 (m/sec^2) \times \text{total head} / 1 \text{ sec} \times \eta; \text{ watts}$$

$$\text{Or power} = m \times g \times \frac{H}{\eta}$$

دپورتني فورمول دا جز او تشریح:

(m) - کتله په (kg) سره.

(g) - دجاذبي تعجيل په ( $\frac{m}{sec^2}$ ) سره.

(H)- ټوله ارتفاع په (m) سره.

(η)- دپمپ دموثریت ضریب(65%).

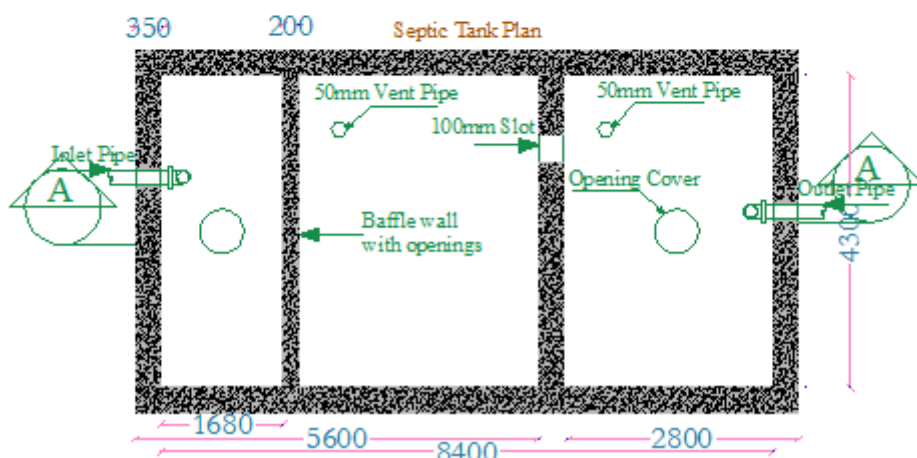
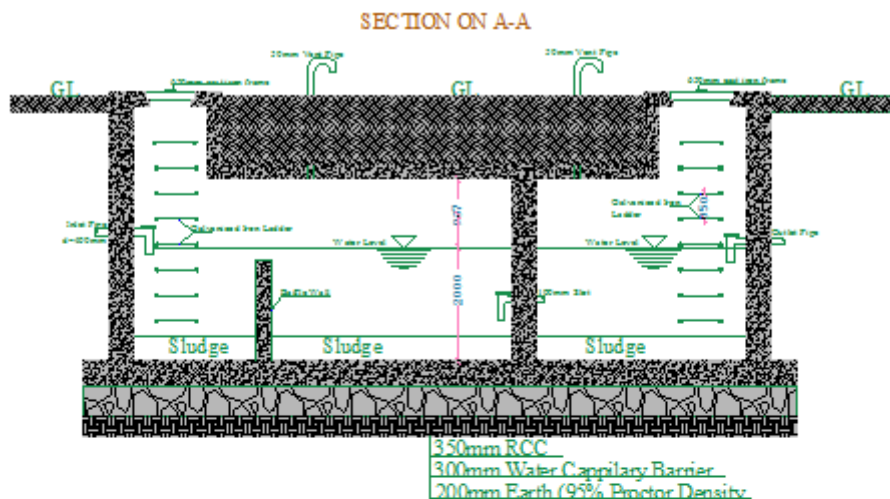
$$\text{Power of pump} = 1,388 \times 9,81 \times 34,7 \times \frac{100}{65} = 726,9 \text{watts}$$

0,727kilowatts ; 1Horse power = 0,746kilowatts ≈

X = 0,727 ; x = 0,98HP≈1HP

نوټ: داسې ماشین انتخابوو چې طاقت یې(1HP) وي.

### 3.4.دسیپټیک ټانک ډیزاین په هکله لنډمعلومات:



(6) شکل 3.4

په کوچنیو ټولنو کې دواډنیوڅخه د (sewage) اوبه په یوه پایپ کې انتقالیږي چې په اخر کې یوې څاه ته چې سیپټیک ټانک ورته وایي داخلېږي او مواد د یوه څه وخت لپاره دلته ودیږي ترڅو زهر لرونکي باکتریاوې یې له منځه ولاړي شي سیپټیک ټانک باید د پایکو اوبوله منبع نه لږ تر لږه (20m) فاصله ولري سیپټیک ټانک د اوسپنیزو کانکریټو او یا د څښتوڅخه جوړیږي دوه ډوله سیپټیک ټانکونه موجود دي یو (single chamber) یوه کوټه لرونکې سیپټیک ټانک او بل (Double chamber) دوه کوټو لرونکې سیپټیک ټانک

(single chamber) هغه مهال استعمالیږي کله چې دټانک اوږدوالي له څلورومترونه کم وي اوکه له

څلورومترونه دټانک اوږدوالي زیاتیري نوبیا

ټانک (Double chamber) په شکل ډیزاین کیږي. چې لومړي (inlet chamber) دټول

ټانک دطول ( $\frac{2}{3}$ ) برخه دټول طول اودوهم

(out let chamber) ( $\frac{1}{3}$ ) دټول طول کې په نظر کې نیول کیږي دسیپټیک ټانک ارتفاع باید (1,5m

2m -) څخه زیات نه شي په سیپټیک ټانک کې هغه

دیوال چې دوه کوتي سره جداکوي Baffle Wall ورته وایي ددیوال ارتفاع د

طول ( $\frac{1}{5}$ ) برخې په اندازه په نظر کې نیول کیږي .

د سیپټیک ټانک په ډیزاین پیل کوو:

مختلفي معادلي د سیپټیک ټانک دظرفیت دپیداګولولپاره شتون لري چې دوه

لاندې میتودونوڅخه یادوونه کوو.

○ اوبورسوني دقیمت میتودیا Rate of water supply method

○ Fixture discharge method

Total capacity of septic Tank = Volume of sediment + Volume of sludge

Volume of sediment =  $\frac{t \times p \times q}{1000} m^3$  ; Volume of sludge =

$\frac{s \times d \times p}{1000} m^3$ ; Total capacity of septic Tank =  $\frac{t \times p \times q}{1000} + \frac{s \times d \times p}{1000}$

### دسیپټیک ټانک ډیزاین:

مونږ دلته دیوي تدریسي ودانۍ لپاره چې دپنځومنزولونولرونکي ده سیپټیک ټانک ډیزاین کوو چې

دانبوونځي د(960) تنوپه شاوخواکي نفوس تري استفاده

کوي داوبورسوني مقدار دیوه تن لپاره په یوه ورځ کې دلاربنو داستاددهدایت

مطابق دبنوونځي لپاره ( $50 \frac{Lit}{day}$ ) دي دغه سیپټیک ټانک په کال کې یوځل

تخلیه کیږي په لاندې ډول یي دمیټودیا Rate of water supply method

په طریقه محاسبه کوو په دغه طریقه کې دوه لاندې فورمولونه استعمالیږي چې

دیوه فورمول پواسطه درسوبې موادومقدار اودبل فورمول پواسطه دچټلواوبو

مقدار پیداکیږي..

Volume of sediment =  $\frac{t \times p \times q}{1000} m^3$  T = 1,5days

P(Population) = 960 ; q(rate of water supply) = 50

Volume of sediment =  $\frac{1,5 \times 960 \times 50}{1000} = 72m^3$

; S(Sludge production) = 1,5days ; P(Population) Volume of sludge =  $\frac{s \times d \times p}{1000} m^3$

= 960 ; d(De sledging period in days (365 days) = 50 ; Volume of sediment =

$\frac{1,5 \times 365 \times 960}{1000} = 525,6m^3$

دلته ددوهمې برخې له محاسبې نه تیر یږوځکه مونږ دشاوردست شوي اوبه ځانته په پایونوکي بیرون

ته هدایت کړي اوتنه دکمودونو جریان سیپټیک ټانک

ته ځي نودلته تنه دکمودو جریان لپاره محاسبه کوو.

Volume of septic tank =  $72m^3$

## ددیلوم ددفاع دپروژې کتاب

داوبه رسونې اوکانالیزاسیون برخه

اوس یوه مناسبه ژوروالي د سپیټیک ټانک لپاره ټاکو او د سپیټیک ټانک مساحت پیدا کوو مونږ دلته دوه متره ژوروالي دموثر ژوروالي په توګه ټاکو:

$$\frac{72m^3}{2m} = 36m^2$$

که د سپیټیک ټانک د اوږدوالي او عرض ترمنځ نسبت (2:1) وټاکو نو د سپیټیک ټانک عرض داسې پیدا کوو:

$$2B \times B = 36m^2 = 2B^2 = B = \sqrt{\frac{36}{2}} = 4,3m$$

Length of septic Tank =  $2 \times B = 2 \times 4,3 = 8,4m$

Septic Tank size =  $4,3 \times 8,4 \times 2 = 72,24m^3$

سپیټیک ټانک اندازه:

Septic Tank size =  $4,3m \times 8,4m \times 2m$

نځیروي ارتفاع:

0,50m

مکمل ژوروالي:

$0,50m + 2m = 2,5m$

که چیرې د سپیټیک ټانک اوږدوالي له څلورمترونه زیات شي نو په دوه برخو باندې ویشل کیري چون دلته یې طول له څلورمترونه زیات دي نو دوه ځانې په نظر کې نیسو د داخلیدونکي پایپ برخه کې یالومرې ځانې یاد سپیټیک ټانک د لومرې برخې طول په لاندې ډول پیدا کوو:

$$\frac{2}{3} \times Length \Rightarrow \frac{2}{3} \times 8,4 = 5,6m$$

د دوهمې ځانې یاد دوهمې برخې لپاره طول په لاندې ډول پیدا کیري:

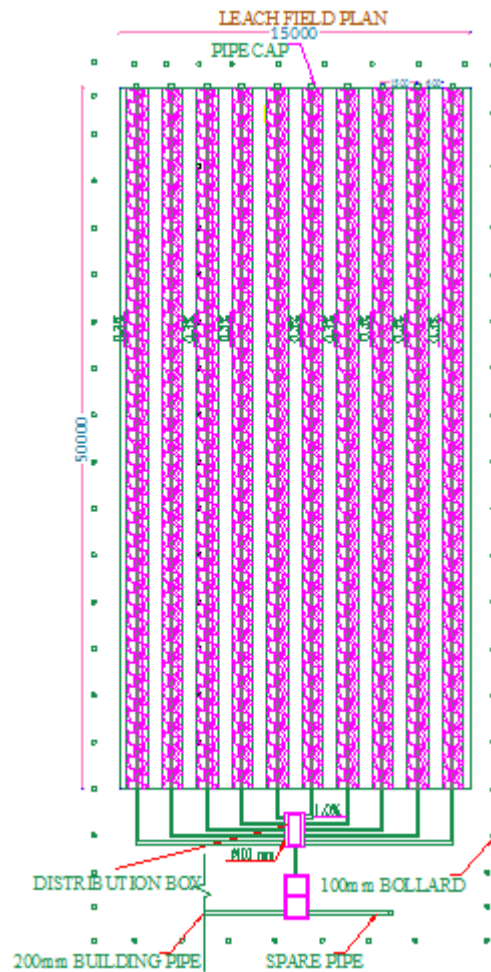
Second part length =  $8,4 - 5,6 = 2,8m$

د (Baffle wall) فاصله د سپیټیک ټانک ته د داخلیدونکي پایپ په برخه کې:

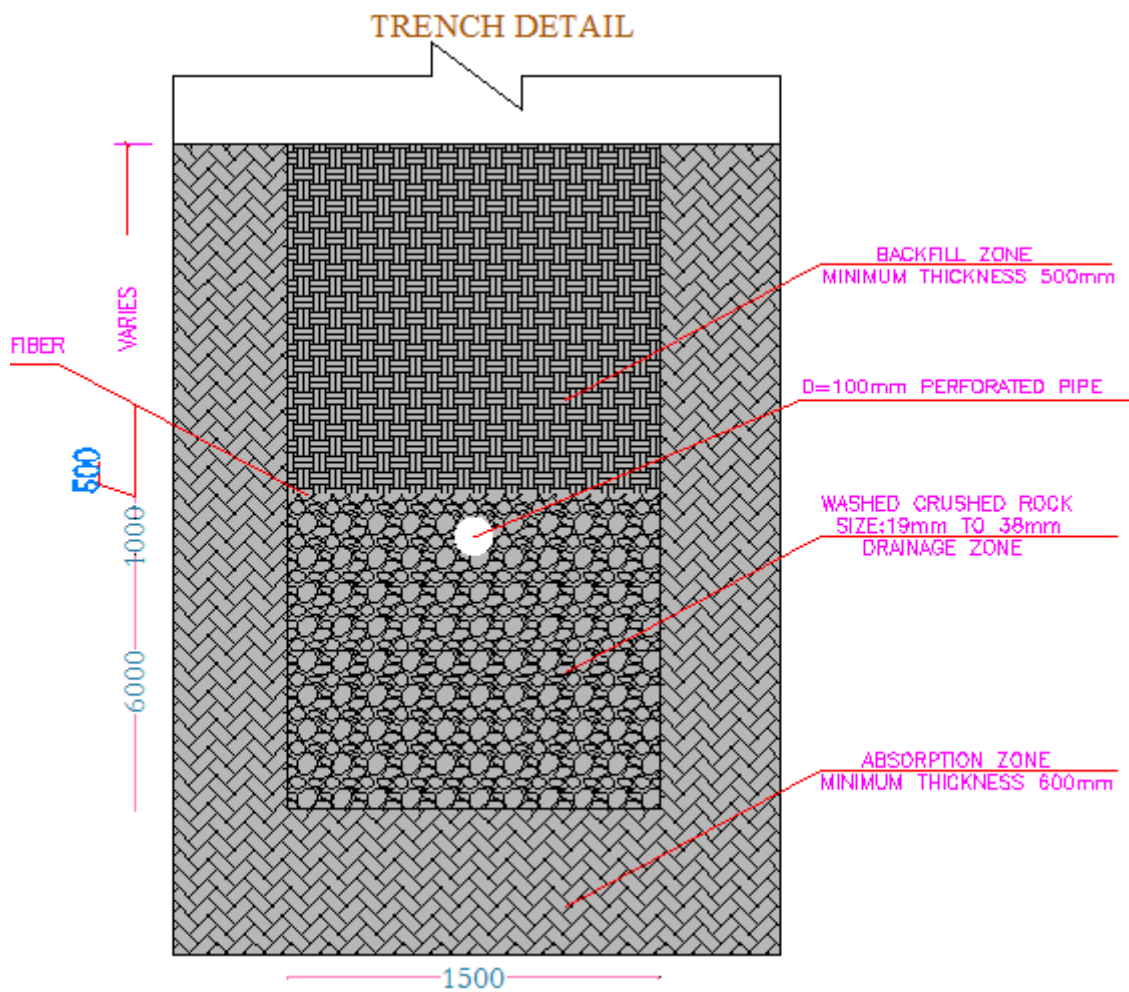
$$\frac{1}{5} L = \frac{1}{5} \times 8,4 = 1,68m$$

#### 4.4 د (Leach field) ډیزاین:

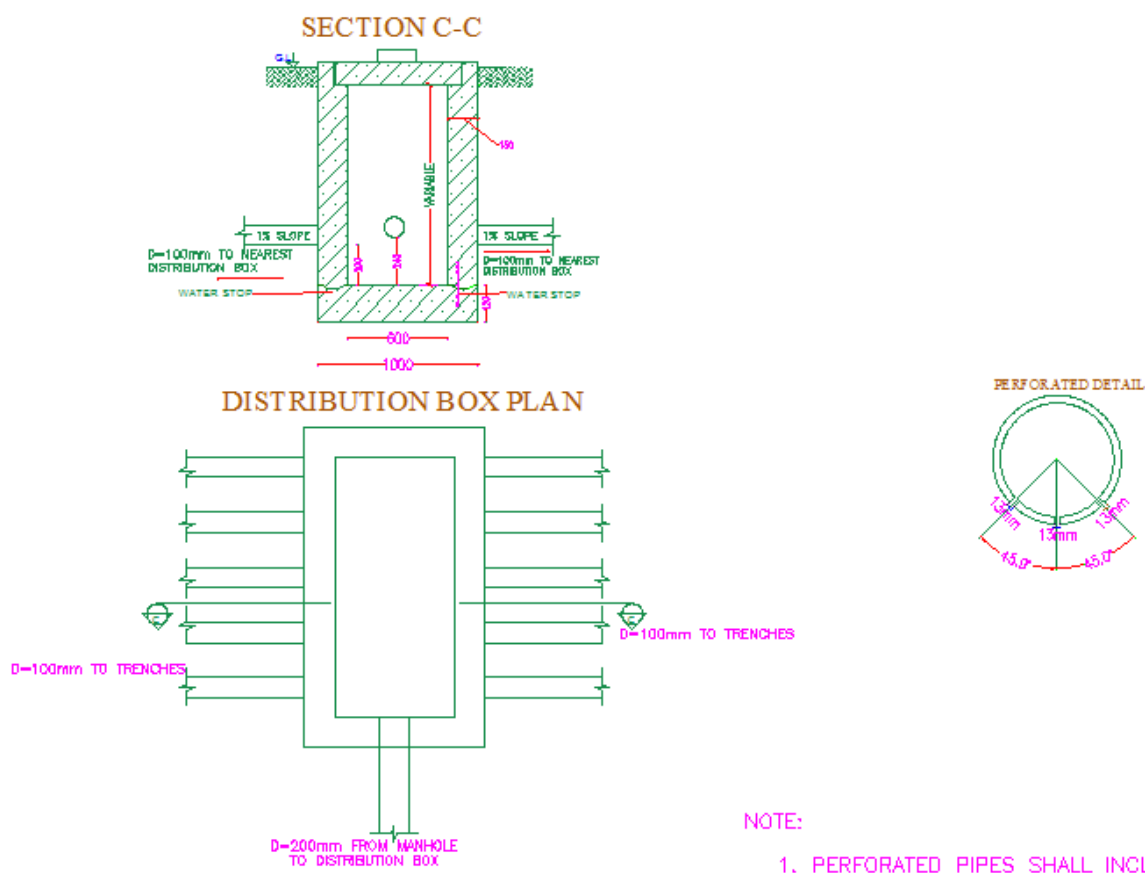




(7) شکل 4.4



(8) شکل 4.4



#### 4.4 شکل (9)

د (Leach field) ددیزاین لپاره په ودانۍ کې دنفروشیراودهر نفر لپاره داوبو مقدار باید معلوم وي اوکه داوبورسونه شبکه نظر تهجهزاتوته دیزاین شوي وي نوبیادعمومي نل چې ودانۍ ته اوبه ورکوي دهغه مقدار په نظر کې نیول کېږي وروسته لدې دغه اوبوپه ساختمان کې داستعمال څخه په ناپاکواوبوبدلیري نود اوبه ردونۍ مقدار باید داوبورسونه دمقدار (20%) زیات په نظر کې ونیول شي دهر ډول خاورولپاره دمشخصوازموینوپه نتیجه کې د(percolation rate) اندازه پیدا کېږي چې عموماً (0,02) په نظر کې نیول کېږي او همدارنگه ذخیروي فکتور (1,5) دي

$$\text{Capacity of waste water} = 1,2 \times P \times A \cdot D \cdot D \dots \dots \left( \frac{\text{lit}}{\text{day}} \right) \dots \dots (1)$$

په پورته رابطه کې: P- په ساختمان کې دنفوس اندازه د (A .D.D) داوبو رسونۍ دورځني متوسط جریان مقدار دي په لیتر سره (Average Daily Demand)

$$A = \frac{1}{1,5} (\text{Capacity of waste water} \times \text{percolation rate}) m^2$$

A = Needed Area for Leach Field په پورته رابطه کې:

له دې وروسته دمساحت څخه په استفادې دساحي ابعادتینوو

$$B \times L = A \dots \dots (3)$$

B- دساحي عرض دي په متر سره چې دا (Field wide) دي.

L- دساحي طول دي په متر سره چې دا (Trench Length) دي.

نوټ:

## ددیلوم ددفاع دپروژې کتاب

داوبه رسونې اوکانالیزاسیون برخه

- ❖ د (Trench) عرض بایدد 1m په شاوخواکې په نظرکې ونیول شي.
  - ❖ په (Trench) سورې لرونکې نل بایدداسې ځای په ځای شي دهغه لپاسه 5cm اولاندې تر 50cm په جغل کې وي.
  - ❖ دپاسني جغل نه پورته باید شگه یا نرمه خاوره ځای په ځای شي.
- پدې ساحه باندې دپاسه چمن ډیربنه کارورکوي . په لاندې شکلونوکې Trench مقطع اود Leach Field پلان ښودل شويدي .

$$P = 960 \quad A.D.D = 50 \frac{\text{Lit}}{\text{day}}$$

$$\text{Capacity of waste water} = 1.2 \times 960 \times 50 = 57600 \frac{\text{Lit}}{\text{day}}$$

$$A = \frac{1}{1.5} \times (\text{Capacity of waste water} \times \text{Percolation rate}) \quad m^2 \dots (2)$$

$$A = \frac{1}{1.5} \times (57600 \times 0.02) = 768m^2$$

Trench Wide (m)	Trench Length (m)	Number of Trench(m)	Take It(m)	Distance Between Pipe(m)	Field Wide(m)	Trench Length(m)
1,5	50	10	10	1,5	15	50

## (1) جدول 4.4

## داوبه رسونې د مشخصاتو جدول

Solition Part No	Pipe details (length)	دمصرف				مصرف کوونکو مجموعي شمیر	دجریان دندل قطر (mm)	دجریان سرعت (m/sec)	مجموعي ضایعات (m)	
		W	sin k	Boiler	Ta p					
a - b	5,315	4	0	0	4	8	1,2	40	0,95	0,57
c - d	5,315	0	4	0	0	4	0,5	32	0,68	0,16
b - e	3,6	0	0	0	0	0	1,2	40	0,95	0,18
e - f	3,6	0	0	0	0	0	1,69	50	0,86	0,12
f - g	3,6	0	0	0	0	0	2,07	50	0,80	0,18
g - h	3,6	0	0	0	0	0	2,4	65	0,72	0,072
h - i	2,01	0	0	0	0	0	2,68	65	0,80	0,063
i - n	3,181	0	0	0	0	0	2,68	65	0,80	0,084
a - e	5,315	4	0	0	4	8	1,2	40	0,95	0,57
a - f	5,315	4	0	0	4	8	1,2	40	0,95	0,57

## ددیلوم ددفاع دپروژې کتاب

## داوبه رسوني اوکانالیزاسیون برخه

a - g	5,315	4	0	0	4	8	1,2	40	0,95	<b>0,57</b>
a - h	5,315	4	0	0	4	8	1,2	40	0,95	<b>0,57</b>
c - j	5,315	0	4	0	0	4	0,5	32	0,68	<b>0,16</b>
c - k	5,315	0	4	0	0	4	0,5	32	0,68	<b>0,16</b>
c - l	5,315	0	4	0	0	4	0,5	32	0,68	<b>0,16</b>
c - m	5,315	0	4	0	0	4	0,5	32	0,68	<b>0,16</b>
d - j	3,6	0	0	0	1	1	0,55	32	0,68	<b>0,12</b>
j - k	3,6	0	0	0	1	1	0,79	32	0,74	<b>0,32</b>
k - l	3,6	0	0	0	1	1	0,96	40	0,76	<b>0,12</b>
l - m	3,6	0	0	0	1	1	1,11	40	0,88	<b>0,15</b>
m - n	2,01	0	0	0	1	1	1,25	40	0,99	<b>0,13</b>
n - o	2,96	0	0	0	0	0	2,96	65	0,89	<b>0,094</b>
h - m	3,181	0	0	0	0	0	1,11	40	0,88	<b>0,14</b>
m - o	0,56	0	0	0	0	0e	2,64	65	0,79	<b>0,038</b>
a - b	5,315	4	0	0	4	8	1,2	40	0,95	<b>0,57</b>
a - e	5,315	4	0	0	4	8	1,2	40	0,95	<b>0,57</b>
a - f	5,315	4	0	0	4	8	1,2	40	0,95	<b>0,57</b>
a - g	5,315	4	0	0	4	8	1,2	40	0,95	<b>0,57</b>
b - e	3,6	0	0	0	0	0	1,2	40	0,95	<b>0,18</b>
e - f	3,6	0	0	0	0	0	1,69	50	0,86	<b>0,12</b>
f - g	3,6	0	0	0	0	0	2,07	50	0,80	<b>0,18</b>
g - h	2,01	0	0	0	0	0	2,4	65	0,72	<b>0,072</b>
c - d	5,315	0	4	0	0	4	0,5	32	0,68	<b>0,16</b>
d - j	3,6	0	0	0	1	1	0,55	32	0,68	<b>0,12</b>
j - k	3,6	0	0	0	1	1	0,79	32	0,74	<b>0,32</b>
k - l	3,6	0	0	0	1	1	0,96	40	0,76	<b>0,12</b>
l - m	2,01	0	0	0	1	1	1,11	40	0,88	<b>0,15</b>
v - s	2,862	1	0	1	0	2	0,6	32	0,74	<b>0,15</b>
s - u	2,862	1	0	1	0	2	0,6	32	0,74	<b>0,15</b>
s - t	2,862	1	0	1	0	2	0,6	32	0,74	<b>0,15</b>
s - r	2,862	1	0	1	0	2	0,6	32	0,74	<b>0,15</b>
s - q	2,862	1	0	1	0	2	0,6	32	0,74	<b>0,15</b>
v - u	3,6	0	0	0	0	0	0,6	32	0,74	<b>0,14</b>
u - t	3,6	0	0	0	0	0	0,86	32	0,79	<b>0,26</b>
t - r	3,6	0	0	0	0	0	1,03	40	0,82	<b>0,13</b>
r - q	3,6	0	0	0	0	0	1,2	40	0,95	<b>0,18</b>
q - p	2,01	0	0	0	0	0	1,34	40	0,99	<b>0,35</b>
o - p	25,78	0	0	0	0	0	3,97	70	1,03	<b>0,58</b>

## ددیلوم ددفاع دپروژې کتاب

## داوبه رسوني اوکانالیزاسیون برخه

p - z	5,728	0	0	0	0	0	4,19	80	0,83	<b>0,14</b>
a - b	5,315	4	0	0	4	8	1,2	40	0,95	<b>0,57</b>
c - d	5,315	0	4	0	0	4	0,5	32	0,68	<b>0,16</b>
b - e	3,6	0	0	0	0	0	1,2	40	0,95	<b>0,18</b>
e - f	3,6	0	0	0	0	0	1,69	50	0,86	<b>0,12</b>
f - g	3,6	0	0	0	0	0	2,07	50	0,80	<b>0,18</b>
g - h	3,6	0	0	0	0	0	2,4	65	0,72	<b>0,072</b>
h - i	2,01	0	0	0	0	0	2,68	65	0,80	<b>0,063</b>
i - n	3,181	0	0	0	0	0	2,68	65	0,80	<b>0,084</b>
a - e	5,315	4	0	0	4	8	1,2	40	0,95	<b>0,57</b>
a - f	5,315	4	0	0	4	8	1,2	40	0,95	<b>0,57</b>
a - g	5,315	4	0	0	4	8	1,2	40	0,95	<b>0,57</b>
a - h	5,315	4	0	0	4	8	1,2	40	0,95	<b>0,57</b>
c - j	5,315	0	4	0	0	4	0,5	32	0,68	<b>0,16</b>
c - k	5,315	0	4	0	0	4	0,5	32	0,68	<b>0,16</b>
c - l	5,315	0	4	0	0	4	0,5	32	0,68	<b>0,16</b>
c - m	5,315	0	4	0	0	4	0,5	32	0,68	<b>0,16</b>
d - j	3,6	0	0	0	1	1	0,55	32	0,68	<b>0,12</b>
j - k	3,6	0	0	0	1	1	0,79	32	0,74	<b>0,32</b>
k - l	3,6	0	0	0	1	1	0,96	40	0,76	<b>0,12</b>
l - m	3,6	0	0	0	1	1	1,11	40	0,88	<b>0,15</b>
m - n	2,01	0	0	0	1	1	1,25	40	0,99	<b>0,13</b>
n - o	2,96	0	0	0	0	0	2,96	65	0,89	<b>0,094</b>
h - m	3,181	0	0	0	0	0	1,11	40	0,88	<b>0,14</b>
m - o	0,56	0	0	0	0	0	2,64	65	0,79	<b>0,038</b>
a - b	5,315	4	0	0	4	8	1,2	40	0,95	<b>0,57</b>
a - e	5,315	4	0	0	4	8	1,2	40	0,95	<b>0,57</b>
a - f	5,315	4	0	0	4	8	1,2	40	0,95	<b>0,57</b>
a - g	5,315	4	0	0	4	8	1,2	40	0,95	<b>0,57</b>
b - e	3,6	0	0	0	0	0	1,2	40	0,95	<b>0,18</b>
e - f	3,6	0	0	0	0	0	1,69	50	0,86	<b>0,12</b>
f - g	3,6	0	0	0	0	0	2,07	50	0,80	<b>0,18</b>
g - h	2,01	0	0	0	0	0	2,4	65	0,72	<b>0,072</b>
c - d	5,315	0	4	0	0	4	0,5	32	0,68	<b>0,16</b>
d - j	3,6	0	0	0	1	1	0,55	32	0,68	<b>0,12</b>
j - k	3,6	0	0	0	1	1	0,79	32	0,74	<b>0,32</b>
k - l	3,6	0	0	0	1	1	0,96	40	0,76	<b>0,12</b>
l - m	2,01	0	0	0	1	1	1,11	40	0,88	<b>0,15</b>

داوبه رسوني اوکانالیزاسیون برخه

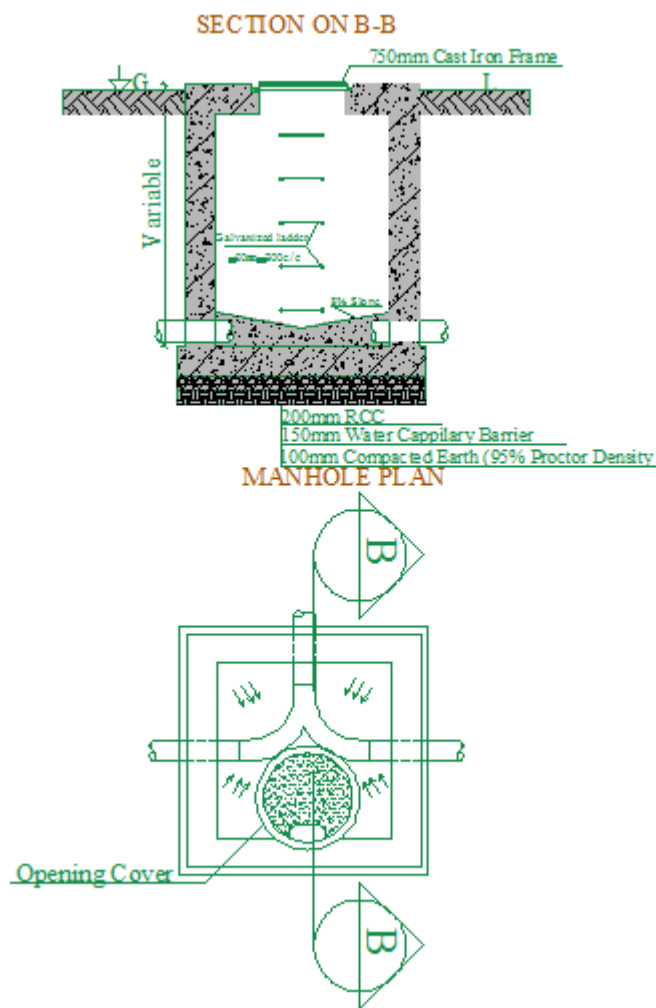
ددیلوم ددفاع دپروژې کتاب

v -s	2,862	1	0	1	0	2	0,6	32	0,74	<b>0,15</b>
s -u	2,862	1	0	1	0	2	0,6	32	0,74	<b>0,15</b>
s -t	2,862	1	0	1	0	2	0,6	32	0,74	<b>0,15</b>
s -r	2,862	1	0	1	0	2	0,6	32	0,74	<b>0,15</b>
s -q	2,862	1	0	1	0	2	0,6	32	0,74	<b>0,15</b>
v -u	3,6	0	0	0	0	0	0,6	32	0,74	<b>0,14</b>
u -t	3,6	0	0	0	0	0	0,86	32	0,79	<b>0,26</b>
t -r	3,6	0	0	0	0	0	1,03	40	0,82	<b>0,13</b>
r -q	3,6	0	0	0	0	0	1,2	40	0,95	<b>0,18</b>
q -p	2,01	0	0	0	0	0	1,34	40	0,99	<b>0,35</b>
o -p	25,78	0	0	0	0	0	3,97	70	1,03	<b>0,58</b>
p -z	5,728	0	0	0	0	0	4,19	80	0,83	<b>0,14</b>

(2) جدول 4.4

## پنجم څپرکی

1.5. دکانالیزاسیون دنلونو دارتفاع تفاوت



شکل 1.5 (10)

دمينهولونودژوروالي محاسبه:

دکاناليزاسيون دنل دغزوني لپاره مونږ په خپله پروژه کې ديځبندان عمق يو متر نيولې دی او همدارنگه دنل غزوني لپاره مو دوه فيصده ميلان په نظر کې نيولې دی. چې زمونږ دپروژې دکاناليزاسيون دشبکې شکل په لاندې ډول دی. چې په دې شبکه کې دهرمينهول د(GL)ارتفاع او د(Manhole)ترمنځ افقي فاصله بنودل شويدي او د(GL)اندازه مونږ دليول ياتوټل سټيشن په واسطه معلومواو ددوی ارتفاع دمعلومولو لپاره مونږ بايد يو (Bench Mark)يايوه بله معلومه نقطه چې ارتفاع ئی دبحر دوسطی سطحی نه معلومه وی. اودلته مونږ يو (Bench Mark)ټاکلی چې دهغه ارتفاع مو (100m)نيولې دی او دشبکې شکل په لاندې ډول دی.

$$\text{FreezeDepth is Provided} = 1\text{m}$$

دلمرې مينهول دشروع ژوروالی (1m) دی.

$$\text{Invert Elevation up Stream} = \text{Ground Elevation up stream}$$

$$\text{Freezedepth} \dots \dots \dots (1)$$

$$\text{fall} = \Delta h(M_m - M_n) = H(M_m - M_n) * \text{slope} \dots \dots \dots (2)$$

$$(I * V)_{\text{Down stream}} = (I * V)_{\text{Up stream}} - \text{fall} \dots \dots \dots (3)$$

د(mh<sub>2</sub>)ته محاسبه



$$(I * V)_{\text{Elevation up stream}(mh_1)} = 100.4 - 1 = 99.4\text{m} , \text{fall} = 11,092 * 2\%$$

S.No	Sewerline	Ground elevation	Distance	Flow rate	Size of Slope %	Peak · Fall	Invert elevation	Depth of MH up	Size of MH
------	-----------	------------------	----------	-----------	-----------------	-------------------	------------------	----------------	------------

$$= 0.22\text{m} , (I * V)_{\text{Down stream}} = 99.4 - 0.22 = 99.18\text{m}$$

$$\text{Depth Of manhol Two } (mh_2) = GL_{(2)} - (I * V)_{\text{Down stream}} = \text{Depth}_{(mh_2)} =$$

$$100.35 - 99.18 = 1.17\text{m}$$

$$\text{Dimension of Manhole}(MH_2)=(1.2\text{m} \times 0.9\text{m} \times 1.17\text{m})$$

د $(mh_2 - mh_3)$ ته محاسبه

$$(I * V)_{\text{up stream}} = 97.50\text{m} , \text{fall} = 1,076 * 2\% = 0.022\text{m}$$

$$(I * V)_{\text{Down stream}} = 98.18 - 0.022 = 98.2\text{m}$$

$$\text{Depth Of } (mh_3) = GL_{(3)} - (I * V)_{\text{Down stream}} = \text{Depth}_{(mh_3)} = 99.3 - 97.50 =$$

$$1.8\text{m}$$

$$\text{Dimension of Manhole}(MH_3)=(1.2\text{m} \times 0.9\text{m} \times 1.8\text{m})$$

	From to	Up stream	Down stream	mh-mh		Lit/sec	(mm)	%	m/sec	(m)	Up stream	Down stream	(m)
1	No1-M <sub>2</sub>	100,5	100,4	11,09	14,76	200	2	1,2	0,22	99,4	99,18	1,17	(1,2x0,9x1,17)
2	M <sub>2</sub> -M <sub>3</sub>	99,4	99,18	1,076	29,52	400	2	1,2	0,022	97,50	97,47	1,8	(1,2x0,9x1,8)

### TABLE OF MANHOLE DIMENSION

#### (3) جدول 1.5

#### خلاصه

څرنګه چې مونږودانې ته داوبه رسونې محاسبه نظر دتجهيز اتوشميرته ترسره کړيده او همدارنګه مود کاناليزاسيون دکمودجريان لپاره موSeptic tank په نظرکې نيولي ده اوددست شويې اوبولپاره مو

داوبه رسوني اوکانالیزاسیون برخه

ددیلوم ددفاع دپروژې کتاب

Leach Field په نظرکې نیولې ده.

### پایله

ددې برخې پایله داده چې مونږو کولای شویوې ودانۍ ته داوبه رسوني اوکانالیزاسیون اړونده محاسبه په ښه شکل ترسره کړي ده.

### ماخذونه

1-نعیمی،نقیب احمد،داوبه رسوني اوکانالیزاسون صنفی لکچرنوټ،شیخ زایدپوهنتون انجینري پوهنځی،خوست.

India·Water Supply And Sanitary Engineering(Environmental Eng),Rangwala -2

داوبه رسوني او كاناليزاسيون برخه

دديپلوم ددفاع دپروژې کتاب

India ,Water Supply And Sanitary Engineering,Gurcharan Singh-3

**Get more e-books from [www.ketabton.com](http://www.ketabton.com)  
Ketabton.com: The Digital Library**