



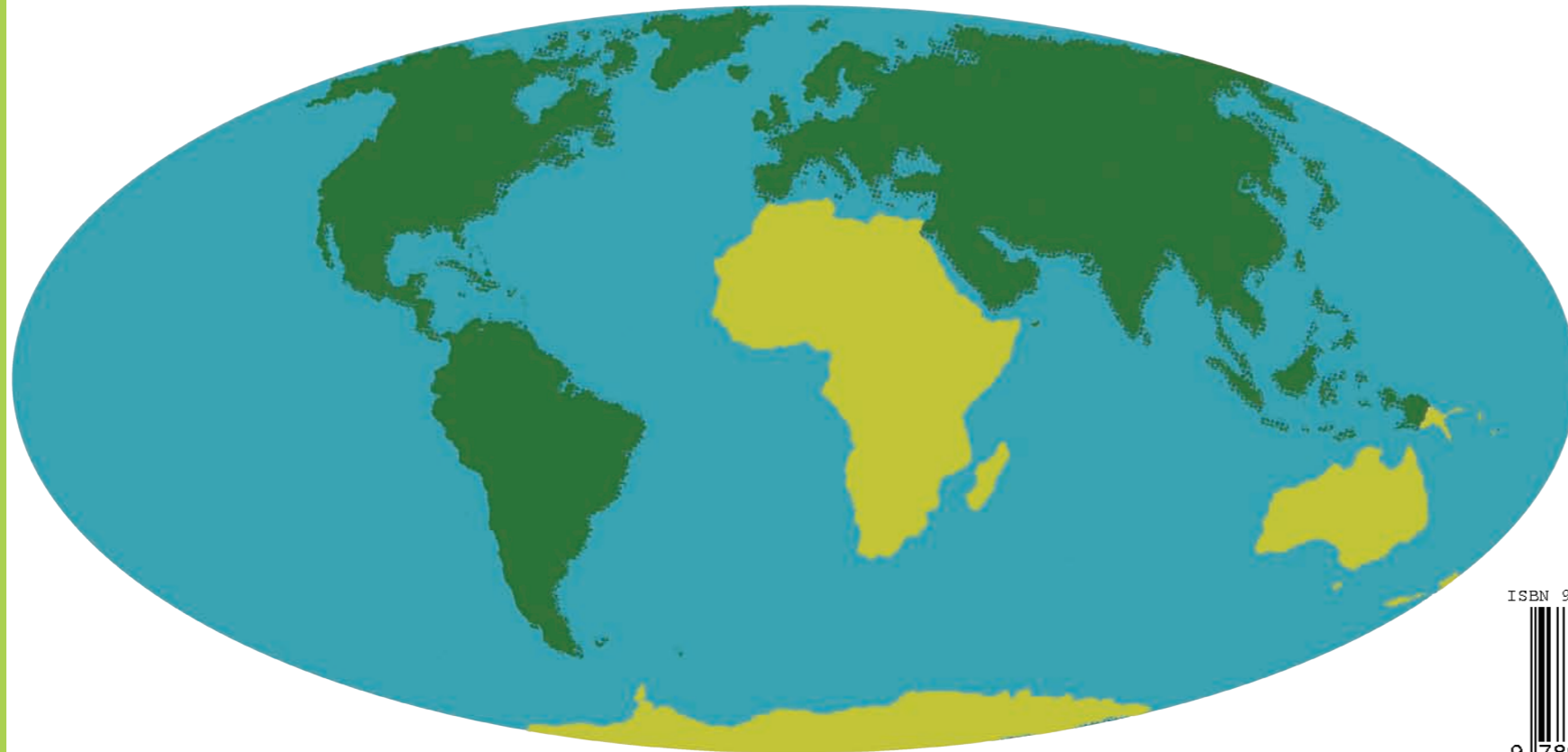
د پوهنې وزارت

د تعلیمي نصاب د پراختیا، د ښوونکو
د روزنې او د ساینس د مرکز معینیت
د تعلیمي نصاب د پراختیا او درسي
کتابونو د تالیف لوی ریاست

جغرافیه

نهم ټولگی

جغرافیه - نهم ټولگی



ISBN 978-9936-25-066-6



9 789936 250666 >

درسي کتابونه د پوهنې په وزارت پورې اړه لري. په بازار کې يې
پيرودل او پلورل په کلکه منع دي. له سر غړوونکو سره به يې
قانوني چلن وشي.

۱۳۹۰

ه.ل



د پوهنې وزارت
د تعلیمي نصاب د پراختیا، د ښوونکو د
روزنې او د ساینس د مرکز معینیت
د تعلیمي نصاب د پراختیا او درسي
کتابونو د تالیف لوی ریاست

جغرافیه

نهم ټولگی

۱۳۹۰

ش.ه

ليکوالان:

- پوهنمل دکتور اندوس رحمت ځواکمن
- د مؤلف مرستيال رحمن عنايت
- د مؤلف مرستيال سامعه واعظ
- مؤلف محمد رفيق مومند

مسلكي اديتور:

- پوهنمل دکتور اندوس رحمت ځواکمن

د ژبې اديتور:

- د سرمحقق مرستيال سيد محي الدين هاشمي

دیني، سياسي او فرهنگي کمیته:

- مولوي عبدالصبور عربي
- دکتور محمد يوسف نیازی د پوهنې وزارت سلاکار او د تعلیمي نصاب د پروژې مسؤل.
- حبيب الله راحل د پوهنې وزارت سلاکار د تعلیمي نصاب د پراختیا په ریاست کې.
- محمد آصف ننگ د پوهنې وزارت د خپرونو او اطلاعاتو رئیس.

د څارنې کمیته:

- دکتور اسدالله محقق د تعلیمي نصاب د پراختیا، د ښوونکو د روزنې او د ساینس مرکز معین.
- دکتور شېرعلي ظریفی د تعلیمي نصاب د پراختیا د پروژې مسؤل.
- د سرمؤلف مرستيال عبدالظاهر گلستاني د تعلیمي نصاب د پراختیا او درسي کتابونو د تالیف لوی رئیس.

طرح او ډیزاین: حمیدالله غفاري

بِسْمِ اللَّهِ الرَّحْمَنِ الرَّحِيمِ



ملي سرود

دا عزت د هر افغان دی	دا وطن افغانستان دی
هر بچی یې قهرمان دی	کور د سولې کور د توري
د بلوڅو د ازبکو	دا وطن د ټولو کور دی
د ترکمنو د تاجکو	د پښتون او هزاره وو
پامیریان، نورستانیان	ورسره عرب، گوجر دي
هم ایماق، هم پشه بان	براهوي دي، قزلباش دي
لکه لمر پر شنه اسمان	دا هیواد به تل ځلیري
لکه زړه وي جاویدان	په سینه کې د اسیا به
وايو الله اکبر وایو الله اکبر	نوم د حق مو دی رهبر

بسم الله الرحمن الرحيم

د پوهنې د وزير پېغام

گرانو ښوونکو او زده کوونکو،

ښوونه او روزنه د هر هېواد د پراختيا او پرمختگ بنسټ جوړوي. تعليمي نصاب د ښوونې او روزنې مهم توکي دی چې د معاصر علمي پرمختگ او ټولنې د اړتياوو له مخې رامنځته کېږي. څرگنده ده چې علمي پرمختگ او ټولنيزې اړتياوې تل د بدلون په حال کې وي. له دې امله لازمه ده چې تعليمي نصاب هم علمي او رغنده انکشاف ومومي. البته نه ښايي چې تعليمي نصاب د سياسي بدلونونو او د اشخاصو د نظريو او هيلو تابع شي.

دا کتاب چې نن ستاسو په لاس کې دی، پر همدې ارزښتونو چمتو او ترتيب شوی دی. علمي گټورې موضوعگانې پکې زياتې شوې دي. د زده کړې په بهير کې د زده کوونکو فعال ساتل د تدريسي پلان برخه گرځېدلې ده.

هيله من يم دا کتاب له لارښوونو او تعليمي پلان سره سم د فعالې زده کړې د ميتودونو د کارولو له لارې تدريس شي او د زده کوونکو ميندې او پلرونه هم د خپلو لوڼو او زامنو په باکفيته ښوونه او روزنه کې پرله پسې گامه مرسته وکړي چې د پوهنې د نظام هيلې ترسره شي او زده کوونکو او هېواد ته ښې برياوې ور په برخه کړي.

پر دې ټکي پوره باور لرم چې زموږ گران ښوونکي د تعليمي نصاب په رغنده پلي کولو کې خپل مسؤليت په ريښتوني توگه سرته رسوي.

د پوهنې وزارت تل زيار کاږي چې د پوهنې تعليمي نصاب د اسلام د سپېڅلي دين له بنسټونو، د وطن دوستۍ د پاک حس په ساتلو او علمي معيارونو سره سم د ټولنې د څرگندو اړتياوو له مخې پراختيا ومومي. په دې ډگر کې د هېواد له ټولو علمي شخصيتونو، د ښوونې او روزنې له پوهانو او د زده کوونکو له ميندو او پلرونو څخه هيله لرم چې د خپلو نظريو او رغنده وړانديزونو له لارې زموږ له مؤلفانو سره د درسي کتابونو په لا ښه تاليف کې مرسته وکړي.

له ټولو هغو پوهانو څخه چې د دې کتاب په چمتو کولو او ترتيب کې يې مرسته کړې، له ملي او نړيوالو درنو مؤسسو او نورو دوستو هېوادونو څخه چې د نوي تعليمي نصاب په چمتو کولو او تدوين او د درسي کتابونو په چاپ او وېش کې يې مرسته کړې ده، مننه او درناوی کوم.

ومن الله التوفيق

فاروق وردگ

د افغانستان د اسلامي جمهوريت د پوهنې وزير



لړلیک

سرلیک

مخ	لومړۍ څپرکي
۴-۳	لومړۍ لوست..... ۱،۱ موقعیت او څلور خواوې
۶-۵	دویم لوست..... ۲،۱ طبيعي جغرافیه،
۱۰-۷	دریم لوست..... الف - غرونه ب - سیندونه.....
۱۴-۱۱	څلورم لوست..... د کانگو حوزه.....
۱۶-۱۵	پنځم لوست..... ج - جهیلونه.....
۲۰-۱۷	شپږم لوست..... د - سمندرګی (بحیرې).....
۲۲-۲۱	اووم لوست..... ه - خلیجونه.....
۲۴-۲۳	اتم لوست..... و - اقلیم.....
۲۸-۲۵	نهم لوست..... مختلفې اقلیمي سیمې.....
۳۲-۲۹	لسم لوست..... ۳،۱ سیاسي جغرافیه.....
۳۶-۳۳	یوولسم لوست..... ۴،۱ بشري جغرافیه.....
۳۸-۳۷	دوولسم لوست..... دین او ژبه.....
۴۰-۳۹	دیارلسم لوست..... ۵،۱ اقتصادي جغرافیه الف - کرنه او مالداري.....
۴۲-۴۱	څوارلسم لوست..... ب - کانونه او صنایع.....
۴۴-۴۳	پنځلسم لوست..... ۶،۱ مواصلاتي جغرافیه.....
۴۶-۴۵	شپاړسم لوست..... د اوبو له لارې وړل او راوړل.....
۴۸-۴۷	د لومړي څپرکي لنډيز.....
۵۰-۴۹	د افریقا د خپلواکو هېوادونو د ځینو جغرافیایي ځانګړنو جدول.....

سرلیک

۵۲-۵۱	دویم څپرکی
۵۳	اوولسم لوست
۵۳	الف - څلور خواوې
۵۶-۵۳	ب - د استرالیا کشف
۶۰-۵۷	۲، ۲ طبیعی جغرافیه
۶۰-۵۷	الف - غرونه
۶۴-۶۱	ب - د استرالیا سیندونه
۶۶-۶۵	ج - جهیلونه
۶۸-۶۷	د - اقلیم
۷۰-۶۹	۳، ۲ د استرالیا سیاسي جغرافیه
۷۲-۷۱	۴، ۲ بشري جغرافیه
۷۴-۷۳	دین او ژبه
۷۸-۷۵	۵، ۲ اقتصادي جغرافیه
۸۰-۷۹	کانونه او صنایع
۸۲-۸۱	۶، ۲ مواصلا تي جغرافیه
۸۴-۸۳	۷، ۲ اقیانوسیه
۸۸-۸۵	اقتصادي حالت
۹۲-۸۹	نوی زیلانډ (New Zealand)
۹۶-۹۳	۸، ۲ انټارکټیکا (جنوبي قطب)
۹۸-۹۷	د دوهم څپرکي لنډيز
۱۰۱-۹۹	اصطلاحات

افریقا



د افریقا د موقعیت نقشه

په نقشه کې د افریقا لویه وچه گورئ.

په دې څپرکي کې لولو:

- موقعیت او څلور خواوې
- طبیعي جغرافیه
 - غرونه
 - سیندونه
 - جهیلونه
 - سمندرګي (بحیرې)
 - خلیجونه
 - اقلیم
- سیاسي جغرافیه
- بشري جغرافیه
- اقتصادي جغرافیه
- مواصلاتي جغرافیه

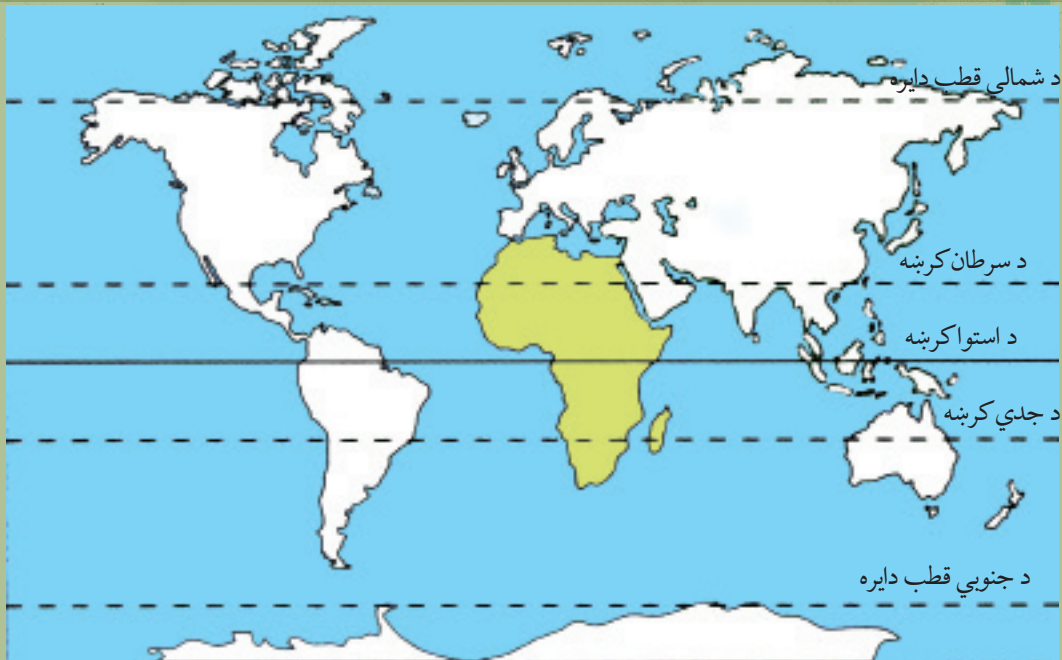
ددې څپرکي عمومي موخې (هدفونه)

- ګران زده کوونکي دې په دې څپرکي کې لاندې علمي موخوته ورسېږي.
- د افریقا د لویې وچې له جغرافیایي موقعیت سره بلدتیا.
 - د افریقا د لویې وچې له مهمو غرونو سره بلدتیا.
 - د افریقا له مهمو سیندونو، جهیلونو او سمندرګیو سره بلدتیا.
 - د افریقا د لویې وچې له سیاسي جغرافیې سره بلدتیا.
 - د افریقا د لویې وچې له بشري جغرافیې سره بلدتیا.
 - د افریقا د لویې وچې له اقتصادي جغرافیې (کرنې، کانونو، صنعت او سوداګرۍ) سره بلدتیا.
 - د افریقا د لویې وچې له مواصلاتي جغرافیې سره بلدتیا.

ګران زده کوونکي کولای شي:

- په دې څپرکي کې لاندې مهارتونه حاصل او زده کړي:
- د افریقا د لویې وچې جغرافیایي موقعیت د نقشې پر مخ وټاکي.
 - د افریقایي هیوادونو جغرافیایي موقعیت د نقشې پر مخ وښيي.
 - د افریقا د لویې وچې د وګړو ټولنیز او قومي ترکیب بیان کړي.
 - د افریقا د لویې وچې اقتصادي حالت بیان کړي.

۱،۱ موقعیت او څلورخواوې



د افریقا د لویې وچې نقشه

تاسو په اووم او اتم ټولګي کې د اسیا، اروپا او امریکا د لویو وچو په هکله معلومات حاصل کړل په دې ټولګي کې به د افریقا، استرالیا، اقیانوسیه او انټارکتیکا د لویو وچو له جغرافیایي ځانګړتیاوو سره اشنا شئ.

پورته شکل ته وګورئ. د افریقا لویه وچه د اروپا د لویې وچې په جنوب او د اسیا د لویې وچې په جنوب لویدیځ کې، د هند سمندر، اطلس (اتلانتیک) سمندر او د مدیترانې د سمندرګي ترمنځ د شمالي عرض البلد د ۳۶ درجو او د سوېلي عرض البلد د ۳۴ درجو، د لویدیځ طول البلد د ۱۸ درجو او د ختیځ طول البلد د ۵۳ درجو ترمنځ پرته ده. چې د ټولې نړۍ د پراخوالي د $\frac{1}{5}$ برخې په شاوخوا کې په برکې نیسي. په داسې حال کې چې د ټولې نړۍ پراخوالی (د وچې او اوبو په ګډون) ۵۱۰،۹۰۰،۰۰۰ کیلومتره مربع اټکل شوی دی او له دې جملې څخه تقریبا په دريو کې یوه برخه یعنې ۱۵۰ میلیونه کیلومتره مربع یې وچه او پاتې ۳۶۰ میلیونه کیلومتره مربع یې اوبه دي.

د افریقا لویه وچه د ۳۰ میلیونو کیلومترو مربعو په پراخوالي سره د اسیا او امریکا د لویو وچو څخه وروسته دریمه درجه لري. په ۲۰۰۵ م کال کې د افریقا د وګړو شمیر ۸۷۹ میلیونو تنو ته رسیده.

- د نقشې پر مخ د افریقا د لویې وچې موقعیت وښایاست او څلورخواوې یې بیان کړئ.

د افریقا لویه وچه د شمال له خوا د مدیترانې په سمندرګي، د ختیځ له خوا د هند په سمندر او سور سمندرګي او د سوېل له خوا د هند د سمندر او اطلس سمندر په ګډو اوبو پورې نښتي ده. د سوز د کانال په کیندلو سره د مدیترانې او سور سمندرګي ترمنځ د اوبو لاره منځته راغلي ده.

د افریقا لویه وچه د څلورخواو څخه د سمندرونو او سمندرګیو پورې نښتي ده، او د یوه ټاپو بڼه یې غوره کړې ده. دا لویه وچه په شمال لویدیځه څنډه کې د جبل الطارق د نړۍ ابناء په واسطه د اروپا د لویې وچې

څخه اوپه شمال ختيځ کې د باب المندب د آبناء او سور سمندرگي په واسطه د آسيا د لويې وچې څخه رابېله شوې ده.



د افريقا د لويې وچې سپينه نقشه

د ټولگي دننه فعاليت:

زده کوونکي دې په ټولگي کې په ډلو ووېشل شي او هره ډله دې نوروته د نقشې له مخې د سوال او ځواب په توگه د افريقا د لويې وچې جغرافيايي موقعيت او څلورخواوې ووايي.

پوښتنې:

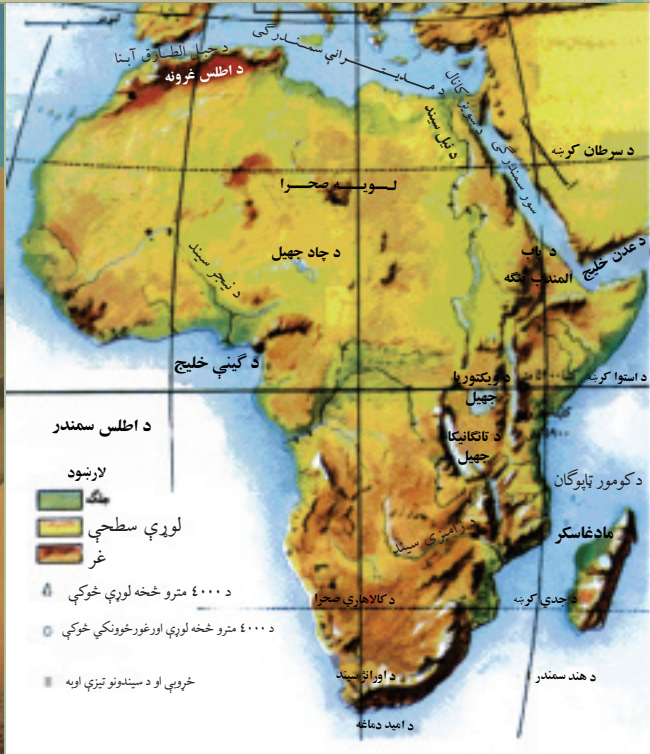
- ۱- د سويز د کانال په کيندلو سره د کومو سمندرگيو ترمنځ د اوبو لار منځته راغلې ده؟
 - ۲- د سويز کانال د افريقا په کومه برخه کې موقعيت لري؟
 - ۳- د افريقا لويه وچه له اسيا څخه د کومې آبناء په وسيله بېله شوې ده؟
صحيح ځواب په خپلو کتابچو کې حلقه کړئ.
- الف) د جبل الطارق آبناء ب) د باب المندب آبناء
ج) د بيرنگ آبناء د) دردانيل آبناء

له ټولگي څخه بهر فعاليت:

زده کوونکي دې د افريقا نقشه په خپلو کتابچو کې رسم کړي. او هم دې ووايي چې کومو آبناءو افريقا له اسيا او اروپا څخه بېله کړېده.



د افریقا د لویې صحرا یوه څنډه



د افریقا طبيعي نقشه

په افریقا کې کوم مشهور غرونه شته دي؟

پورته شکل ته وگورئ. د افریقا لویه وچه د جغرافیایي جوړښت له مخې د صافو غاړو لرونکې او زیاتې لوړې او ژورې نه لري نو ځکه په دې لویه وچه کې د آسیا او شمالي امریکا په شان لوی خلیجونه او ټاپو وزمې نه لیدل کیږي. خو ددې لویې وچې په منځ کې پراخه لوړې سطحې منځته راغلي، چې شاوخوا یې لوړو غرونو په ځانگړي ډول ختیځه خوا یې په لوړو غرونو پورې نښتې ده، خو په عمومي توگه په دې لویه وچه کې غرونه او لوړې ژورې لږې دي.

الف - غرونه

د افریقا د لویې وچې مهم غرونه عبارت دي له: اطللس غرونو څخه چې د افریقا په شمال لویدیځ کې د ۴۰۰۰ مترو څخه په ډېر لوړوالي سره د ساحلي موازي لړۍ په توگه چې د ایټالیا د هېواد د اپنین د غرونو ډلږو یوه برخه شمېرل کېږي د مدیترانې د سمندرګي او لویې صحرا ترمنځ پراته دي. دا لړۍ د تونس له هېواد څخه پیل او د لویدیځ په لور غزیدلې ده او دمنځني اطللس، ساحلي اطللس، او کوچني اطللس په نوم یادېږي. دگیني غرونه دگیني د خلیج په شمال لویدیځ کې د ساحل سره موازي پراته دي. ددې لړۍ ډیر لوړ ارتفاعات په لویدیځ کې د فوتا جالون

غرونه دي چې د ۱۵۰۰ مترو څخه ډیر لوړوالی لري. د افریقا په ختیځ کې لوړ غرونه شته دي چې د حبشی د لوړو سطحو په نوم یادېږي. همدارنگه د ویکتوریا د جهیل په ختیځ کې د ختیځې افریقا لوړې پرتې دي چې د کینیا لوړی ۵۱۹۹ متره او د کلیمانجارو ۵۸۹۵ متره لوړوالی لري. د افریقا د لویې وچې نور غرونه د تبستي غرونه دي چې په صحرايي سیمو کې پراته دي، لوړه څوکه یې د امی قوسی په نوم یادېږي او د سمندر له سطحې څخه تقریبا ۳۵۰۰ متره لوړوالی لري.

- د افریقا د لویې وچې لویه صحرا ددې براعظم په کومه برخه کې موقعیت لري؟
 صحرايي سیمې چې د افریقا په شمال کې پرتې دي د لویې صحرا په نوم، د نړۍ لوی شکلځایونه تشکیلوي، چې زیاتره برخې یې د کرنې وړ نه دي. د افریقا ساحلي برخې سمندر ته د نږدېوالي په سبب کرنیزې برخې تشکیلوي لکه د مصر، لیبیا او الجزایر شمالي سیمې، همدارنگه سوېل ختیځو سواحلو هم کرنیزې حاصل خیزې ځمکې منځته راوړې دي. په ختیځو سواحلو کې د موزمبیق او سومالیې د هېوادونو په اوږدو کې هم مهمې کرنیزې سیمې شته دي.

د ټولګي دننه فعالیت:

زده کوونکي دې په ډلو وویشل شي، او هره ډله دې د لوست په غوره مطلبونو بحث او خبری وکړي او پایلې دې نورو ټولګیوالو ته وړاندې کړي.

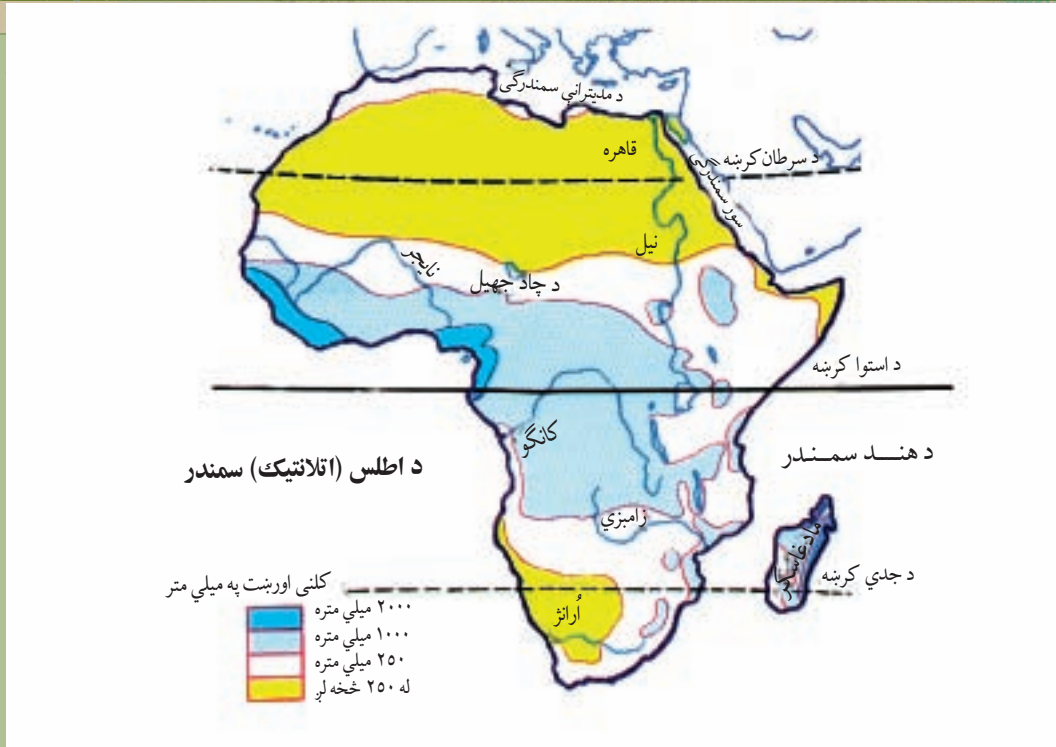
پوښتنې:

- ۱- د ګیني د خلیج لویدیځې لوړې په څه نوم یادېږي؟
- ۲- د اطلس غرونه په کوم ځای کې موقعیت لري؟
- ۳- د افریقا د لویې وچې په ختیځ کې د غرونو کومه لړۍ پرته ده؟
- ۴- د تبستي غرونه د افریقا په کوم ځای کې موقعیت لري؟

له ټولګي څخه بهر فعالیت:

د لومړي درس د افریقا د لویې وچې له لیکنې پرته نقشه په خپلو کتابچو کې بشپړه کړئ او لاندنيو پوښتنو ته ځواب ورکړئ.

- ۱- د غرونو هغه لړۍ چې د افریقا د لویې وچې په شمال لویدیځ کې پرتې دي څه نومېږي؟
- ۲- د افریقا د لویې وچې د غرونو د لوړو څوکو نومونه ووايست؟



د افریقا مشهور سیندونه

د افریقا سیندونه په کومو حوزو کې پراته دي، او د دې لویې وچې په اقتصادي او کرنیز ژوند کې څه ارزښت لري؟

د افریقا د لویې وچې د سیندونو نقشې ته وگورئ. څرنګه چې د استوا کرښه د افریقا د لویې وچې د منځنۍ برخې څخه تېرېږي، نو ځکه یې په استوایي برخه کې اورښت ډېر زیات دی. له همدې کبله د افریقا په لویه وچه کې ډېر سیندونه بهیري چې ټول اوږده او د اوبو څخه ډک دي. خو دا سیندونه د چټکې بهیدنې او لږ ژوروالي له امله د بېرې چلولو وړ نه دي.

- د افریقا د اوبو حوزې کومې دي؟

د افریقا د اوبو حوزې کولای شو په لاندې توګه وویشو:

۱- د مدیترانې د حوزې سیندونه لکه د نیل سیند.

۲- د اطلس سمندر د حوزې سیندونه لکه: کانګو، نایجیر، سنیګال او اُرانژ.

۳- د هند د سمندر سیندونه، لکه: زامبزی.

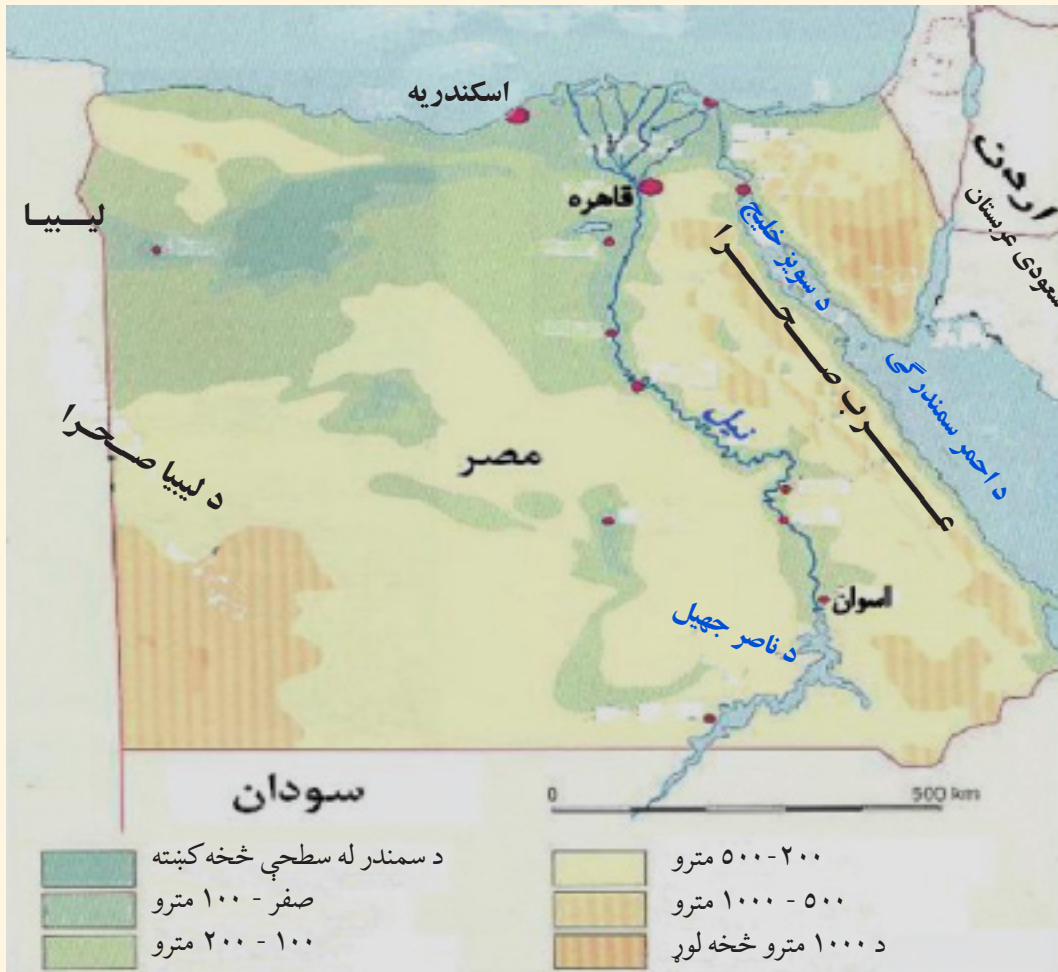
۴- د تړلې حوزې سیندونه چې د افریقا په جنوبي شگلن ځایونو یا لویه صحرا کې جذبېږي،

لکه: شاری.

- دنیل سیند:

د افریقا له مشهورو سیندونو څخه دی، چې د مصر هېواد یې د نړۍ د ډیپرو لرغونو هېوادونو په لیکه کې درولی دی. هیروډت یوناني مورخ لیکي چې (مصر د نیل ډالی (تحفه) ده). د نیل د سیند وادي پراخه ساحه ده، چې له ختیځ او لویدیځ لورې څخه د دښتو په واسطه محدوده شوې ده. د نفوسو د گڼ شمېر زیاته برخه د نیل د سیند په وادی او د هغه په دلتا کې ځای پرځای شوېده. د نیل سیند چې ۶۶۹۵ کیلومتره اوږدوالی لري د ویکتوریا او البرت د جهیلونو څخه سرچینه اخلي، د شمال په لور بهیري او یوازې د قاهرې او د اسوان په سیمو کې د کرنې ځمکې اوبه کوي.

د نیل سیند نقشه



دا سیند په خپل مصب (خوله) کې د مدیترانې د سمندرګي د اسکندرې په برخه کې لویې دلتاوي (Deltas) جوړوي. د نیل د وادي رسوبي خاورو ددې حوزې په کرنه او د خلکو د بشري تمدن په بنسټ کې مرسته کړې ده. د مصر په هېواد کې تقریباً هیڅ باران نه اوري، خو ددې لپاره چې له کرنې څخه پوره خوراکي مواد لاس ته راشي ډېرو اوبو ته اړتیا ده، دې موخې ته د رسیدلو لپاره د نیل پرسیند بندونه جوړ شوي دي. لکه چې دارنگه په ۱۹۷۱ م کال کې د اسوان بند د اسوان په سیمه کې جوړ شوی دی چې د نړۍ ډېر لوی

د افریقا د سیندونو سپینه نقشه



مصنوعي جهيل يې هم جوړ کړی دی. د نوموړي بند له اوبو څخه د کرنيزو ځمکو په خړو بولو کې ډېره گټه اخيستل کېږي. سربيره پر دې د زياتو اوبو د خطر مخنيوی هم کوي، او د بريښنا د توليد سبب هم گرځيدلي دي. د نيل د سيند اقتصادي گټه داده چې هم ورباندې بند جوړ شوی او هم د سوډان او مصر دواړه هېوادونه د هغه له اوبو څخه په اوبو لگولو کې گټه اخلي. د نيل سيند مرستيالان د سپين نيل او ابي نيل په نومونو يادېږي. دا سيند د سوډان د هېواد تر پلازمينې د سپين نيل په نوم يادېږي. په همدې ځای کې د خپل مرستيال ابي نيل سره چې د حبشې له غرونو څخه سرچينه اخلي يو ځای کېږي. د سپين نيل اوبه د خپل بهير په اوږدو کې پراس کېږي او اوبه يې لږېږي، نو ځکه ابي نيل د نيل د سيند د اوبو په حجم کې غوره رول لوبوي.

د ټولگي دننه فعاليت:

د نيل د سيند نقشې ته وگورئ او لاندې پوښتنو ته ځواب ورکړئ:
 ۱- کوم ښارونه د نيل د سيند په ختيځ او کوم ښارونه يې په لويديځ کې پراته دي، نومونه يې وليکئ.

پوښتنې:

- ۱- د نفوسو گڼوالی د نيل د سيند په کومه برخه کې زيات دی؟
- ۲- د هغو بندونو نومونه واخلي چې د نيل د سيند د پاسه جوړ شوي دي؟
- ۳- د نيل سيند څه اقتصادي ارزښت لري؟

له ټولگي څخه بهر فعاليت:

د افريقا د سيندونو د ليکنې پرته نقشه، په خپلو کتابچو کې رسم کړئ او په هغې کې د افريقا د مهمو سيندونو نومونه او موقعيت وليکئ.



د استوايي ځنگلونو منظره

د کانگو دحوزې ساحې ته ولې شنه افريقا وايي؟

د افريقا بله لويه حوزه د کانگو له حوزې څخه عبارت ده چې په طبيعي توگه هلته استوايي گڼ او لوی ځنگلونه شته. ډېرې تودوخې او زياتو بارانونو گڼ ځنگلونه منځ ته راوړيدي. د نباتاتو وده دلته هيڅکله نه ځنډيږي. د افريقا دې برخې ته شنه افريقا وايي. هلته د ونو وده دومره زياته ده چې کله يې لوړوالی ۵۰ مترو ته هم رسېږي. د کانگو سيند چې له ختيځ څخه لويديځ لورته بهيږي د افريقا استوايي برخه په برکې نيسي. د کانگو سيند د خپل نري بستر له لارې د اطلس په سمندر کې توييږي. د هغه د بهير منځنۍ او شمالي برخه استوايي باراني ځنگلونو پوښلی ده، هلته د نفوسو گڼوالی شيندلی او يو له بل څخه لرې پراته دي او سيمه بيزه خلک په خپلو کوچنيو کروندو کې په کرنه بوخت دي. د کانگو سيند د زاير د هېواد له جنوب ختيځ څخه سرچينه اخلي، د ۴۳۷۰ کيلومترو په واټن لومړی شمال لورته او بيا لويديځې خواته بهيږي او د خپلو زياتو اوبو سره د اطلس په سمندر کې توييږي. دا سيند د خپل بهير په پيل کې د لوالابا (Lualaba) په نوم يادشوی او د خپلو مرستيالانو سره يې د افريقا د لويې وچې د خاورې ۱،۸ برخه په برکې نيولې ده.

د کانگو د سيند اوږدوالی د نيل له سيند څخه لږ خو د اوبو حجم يې زيات دی. داچې د اوبو د اخيستني حوزه يې په استوايي سيمو کې پرته ده او هلته ټول کال باران اوري، نو له اوبو څخه ډک وي. د خپل بهير په پورتنۍ برخه کې يې څروبي هم منځته راوړي دي.

- د کانگو سیند د خپل اوږدوالي او د اوبو د حجم له پلوه د نیل د سیند سره څه توپیر لري؟

د نایجیر سیند:

د افریقا د اوبو له ډکو سیندونو څخه دی. د نایجیر سیند د افریقا د لویې وچې په لویدیځ کې د گینې او عاج ساحل د هېوادونو د سمسورتیا سبب شوی دی. د نایجیر د سیند لویه دلتا د نفتو غوره زیرمې هم لري چې د (پورت هارکورت) *Port Harcourt* په برخه کې ځای پر ځای شوي دي. د نایجیر د سیند لویدیځې برخې چې د ۴۰۰۰ کیلومترو په اوږدوالي یې د سیرالیون له لور څخه سرچینه اخیستې د مالي له هېواد څخه د تېرېدو وروسته د نایجیریا هېواد ته ننوځي او د اطلس سمندر د گینې په خلیج کې توپیري.

د زامبزي سیند:

د زامبزي سیند له ۲۵۰۰ کیلومترو څخه زیات اوږدوالی لري د زمبیا د هېواد له شمال لویدیځ څخه سرچینه اخلي او د جنوب خواته بهیري. ددې حوزې زیاته برخه لورې سطحو چې زیاتره یې وښو پوښلي نیولې ده. دا سیند له شمال څخه سوېل خواته بهیري او د هند په سمندر کې توپیري. د زامبزي سیند د خپل بهیر په اوږدو کې څړوبي منځته راوړي چې مهم څړوبي یې ویکتوریا نومیري.


د سنیګال سیند:

دا سیند د لویدیځې افریقا د سنیګال په هېواد او د اطلس سمندر په ختیځ کې موقعیت لري او د اطلس په سمندر کې توپیري. د سنیګال سیند ۱۲۰۰ کیلومتره اوږدوالی لري. د سنیګال دره هم د استوګنې له غوره مرکزونو څخه ده او په دې دره کې د سنیګال د بندر جوړونه دیادولو وړ ده. د افریقا په لویه وچه کې د سیندونو شتوالی د هوا د لوندوالي، سمسورتیا او د کرنیزه تولیداتو د زیاتوالي سبب کیږي. همدارنګه ددې سیندونو شتوالی د هغو په شاوخوا کې د زیات شمیر وګړو د ځای پر ځای کیدنې او هم د تاریخ په اوږدو کې د لرغونو او پرمینو تمدنونو د منځ ته راتلو سبب شوي دي. د افریقا سیندونه په پسرلي کې مستیری، خو له نیکه مرغه اوس یې سیلابي بهیر تر یو حده د کنترول لاندې راغلي دي.

د سنیگال سیند



د زمبیا او زمبابوې د هیوادونو ترمنځ د زامبزي د سیند د پاسه پل



د ټولګي دننه فعالیت:

زده کوونکي دې په ډلو وویشل شي، هره ډله دې په دې هکله چې ولې دافریقا د لویې وچې سیندونه د کال په اوږدو کې له اوبو ډک او سیلابي وي، بحث وکړي او د خپلو خبرو او بحث پایلې دې ټولګیوالو ته وړاندې کړي.

پوښتنې

- ۱- د افریقا سیندونه ددې لویې وچې پر اوبه او هوا او اقتصاد څه اغیزه لري، توضیح یې کړئ.
- ۲- د کانګو سیند څه ارزښت لري؟
- ۳- د سنیګال سیند د څه غوره ارزښت لرونکی دی؟
- ۴- د نایجیر سیند څه اقتصادي ارزښت لري؟

له ټولګي څخه بهر فعالیت:

د افریقا د سیندونو په هکله خپل لنډ معلومات ولیکئ او د جغرافیې په راتلونکې لوست کې یې ټولګیوالو ته وړاندې کړئ.



د افريقا د يوه جهيل منظره

د جهيل په هکله څه پوهيږئ او له جهيل څخه څه گټه اخيستل کيږي؟

د افريقا په لويه وچه کې ډير لوی او کوچني جهيلونه شته دی، چې تر ټولو لوی يې د ویکتوريا جهيل دی او د تانزانيا او يوگندا د هېوادونو ترمنځ بېلوونکې پوله جوړوي. ډېر کوچنی جهيل يې د نگامي جهيل دی چې د بوتسوانا په هېواد کې پروت دی. د جهيلونو له اوبو څخه د څښلو او د سمندري حيواناتو او الوتونکو د خوړو لپاره گټه اخيستل کيږي. ځيني جهيلونه مالگين وي يعنې هغه وخت چې د جهيلونو اوبه براس شي مالگه يې رسوب کوي. همدارنگه هغه الوتونکي چې له يوې سيمې څخه بلې سيمې ته ځي، د لارې په اوږدوکې د همدې جهيلونو او د هغو له اوبو څخه گټه اخلي. ددې جهيلونو له اوبو څخه د اوبو د غټو پمپونو په وسيله د ساحلي سيمو د خړو بولو لپاره گټه اخيستل کيږي. د افريقا په لويه وچه کې ددې جهيلونو شتوالی په سيمه کې د رطوبت سبب هم کيږي او تريوه حله د هغه سيمې د وچ والي مخه نيسي. نوموړي جهيلونه زياتره د افريقا په سوېل ختيځ کې پراته دي چې ددې لوبې وچې د تکتونیکي ساحې ښکارندوی دي.

د افريقا د لوبو او کوچنيو جهيلونو نومونه واخلي؟

لکه څرنگه چې مو مخکې وويل دافريقا د لوبې وچې مهم جهيل له ویکتوريا (Victoria) څخه عبارت دی چې د تانزانيا او يوگندا هېوادونو ترمنځ بېلوونکې پوله جوړوي او لوی ښارونه هم ددې جهيل

شاوخوا جوړشوي دي. په طبيعي نقشه کې گورئ چې د نياسا (Nayasa) (مالاوی) جهيل د موزمبيق د هېواد په شمال او د مالاوی د هېواد په ختيځ کې، د تانگانیکا جهيل د تانزانيا د هېواد په لويديځ کې، د البرت (Albert) جهيل د يوگندا د هېواد په لويديځ کې، د رودولف (Rudolf) جهيل د کينيا د هېواد په شمال لويديځ کې، د چاد (Chad) جهيل د چاد په هېواد کې، د تانا (Tana) جهيل په ايتوپيا کې او د نګامي (Ngami) جهيل د بوتسوانا په هېواد کې موقعيت لري.

د ټولګي دننه فعاليت:

زده کوونکي دې په ډلو وویشل شي او هره ډله دې د جهيلونو د اقتصادي ارزښت په هکله بحث او خبرې وکړي، د بحث پايلې دې ټولګيوالوته وړاندې کړي.

پوښتنې:

- ۱- د کوم هېواد مرکز د ویکتوريا د جهيل په غاړه پروت دی؟
- ۲- د افريقا په لويه وچه کې د جهيلونو شته والی څه گټه لري؟
- ۳- د نګامي جهيل په کوم هېواد کې موقعيت لري؟ سم ځواب يې په کتابچو کې سره ونښلوئ.

ايتوپيا	د نګامی جهيل
سوماليا	
بوتسوانا	
د عاج ساحل	

له ټولګي څخه بهر فعاليت

زده کوونکي دې د افريقا د لويې وچې نقشه رسم کړي او ټول جهيلونه دې په هغې کې وښيي او رنگ دې يې کړي.



د مدیترانې له سمندرگي څخه یو تصویر

د افریقا د سمندرگیو په هکله څه پوهیږئ او د افریقا خلک له سمندرگیو څخه څه گټه اخلي؟

د افریقا لویه وچه د ځمکنی جوړښت او سواحلو له نظره چې لري یې زیات سمندرگي نه لري. دا لویه وچه دوه مهم سمندرگي لري چې له هغو څخه د سوداگری د بهرنيو د تگ او راتگ لپاره گټه اخیستل کیږي، همدارنگه له سمندرگیو څخه د کال په بېلا بېلو موسمونو کې مهاجر الوتونکي چې له یوځای څخه بل ځای ته کوچیږي د هغو له موقعیت څخه ډیوې پیژندل شوې سیمې په توگه گټه اخلي. سربېره پردې د اوبو د حیواناتو لپاره خواړه هم برابروي. هغه وگړي چې د سمندرگیو په سواحلو کې استوگنه لري د هغو د کبانو په ښکار د ژوند اړتیاوې پوره کوي.

د افریقا لویه وچه څومره سمندرگي لري؟

۱- د مدیترانې سمندرگی:

د افریقا د لویې وچې په شمال کې د مدیترانې سمندرگی پروت دی، چې د نړۍ لوی سمندرگی دی. پراخوالی یې ۲،۹۶۶،۰۰۰ کیلومتره مربع او ډېره ژوره نقطه یې ۴۳۳۰ متره ده. دا سمندرگی په جنوب ختیځ کې د سویز کانال په واسطه د سور سمندرگی سره نښلول شوی دی او په لویدیځ کې د جبل الطارق د ابناء په واسطه د اطلس (اتلانتیک) د سمندر سره نښتی دی او لویه سوداگریزه لاره یې جوړه کړې ده. هغه هېوادونه چې د مدیترانې د سمندرگی شاوخوا ته پراته دي د مدیترانه یې اقلیم او ښې هوا لرونکي دي.

۲- سور (احمر) سمندرگی:

احمر یا سور سمندرگی د افریقا په شمال ختیځ کې پروت دی چې په شمالي برخه کې د سویز کانال په واسطه د مدیترانې د سمندرګي سره نښلول شوی دی او په سوېل ختیځه برخه کې د باب المندب د ابناء په واسطه د عدن د خلیج سره نښتی دی. ددې سمندرګي پراخوالی ۴۳۸،۰۰۰ کیلومتره مربع دی. اوبه یې ډېره مالګه لري او د څښلو وړ نه دي. همدارنګه هلته د اوبو براس کېدل خپلې لوړې اندازې ته رسېږي، ځکه چې له دواړو خواوو د لویو صحراوو په واسطه محدود شوی دی.

- ولې په سور سمندرګي کې د اوبو براس کېدل خپلې لوړې اندازې ته رسېږي؟

د سور سمندرګي یو تصویر



اضافي معلومات:

د سويز کانال: د سويز د کانال کيندل فرانسوي مهندس فرديناند دوليسپس طرحه کړې. ددې کانال د جوړولو کار په ۱۸۵۶ م کال کې پېل او په ۱۸۶۹ کال کې پای ته ورسيد او د نومبر په مياشت کې پرانستل شو. ۹۹ کلن امتياز يې يو نړيوال شرکت ته چې په هغې کې فرانسې، انگلستان او نورو اروپايي هېوادونو گډون درلود ورکړ شو او مرکز يې په پاریس کې و. د سويز د کانال اوږدوالی د مديترانې د سمندرگي د غاړې د پورت سعید له بندر څخه تر سويزه يعنې د سور سمندرگي تر غاړې ۱۶۱ کیلومتره دی، د گټې اخیستنې وړ سورې ۶۰ متره او ژوروالی يې ۱۲ متره دی.

۱- د سويز کانال کيندل د چا لخوا طرحه شو؟

د سويز له کانال څخه د ۶۰ زرو ټنو په ظرفيت بېړۍ شپه او ورځ تگ اوراتگ کولای شي. د آسيا او اروپا ترمنځ په سلوکې ۸۰ د سوداگريزو مالونو لېږدېدنه د سويز کانال له لارې ترسره کېږي چې د نړيوالې سوداگرۍ په سلوکې ۱۵ په برکې نيسي. سويز کانال په ۱۹۵۶ م کال کې ملي اعلان شو.

۲- د آسيا او اروپا ترمنځه د سوداگريزو مالونو په سلوکې څو د سويز کانال له لارې ترسره کېږي او د سويز کانال په کوم کال کې ملي اعلان شو؟

د سويز د کانال يوه څنډه



د سویز د کانال یوه بله برخه



د ټولګي دننه فعالیت:

زده کوونکي دې په ډلو وویشل شي او هره ډله دې د سمندرګيو د اقتصادي ارزښت په هکله بحث وکړي او د بحث پایلې دې نوروته وړاندې کړي.

پوښتنې:

- ۱- د مدیترانې سمندرګی دافریقا د لویې وچې په کومه برخه کې موقعیت لري؟
- ۲- سور (احمر) سمندرګی په شمال کې د کوم کانال په وسیله د مدیترانې د سمندرګي سره نښلول شوی دی؟

له ټولګي څخه بهر فعالیت:

زده کوونکي دې په خپلو کتابچو کې د افریقا نقشه رسم کړي او سمندرګي دې د هغې پرمخ وښيي.



د افريقا د خليجونو نقشه

د افريقا د لويې وچې په شاوخواکې کوم خليجونه شته دي؟

- د افريقا د لويې وچې په غاړو کې د وتلو او ننوتلو برخو د نشتوالي له امله، زيات شمېر خليجونه نشته. د افريقا خليجونه عبارت دي له:
- د عدن خليج (Aden) ددې لويې وچې په شمال ختيځ کې چې د آسيا د لويې وچې يوه برخه هم گڼل کېږي موقعيت لري.
 - د فول (Foul) خليج د افريقا په شمال ختيځ کې چې په سور (احمر) سمندرگي کې موقعيت لري.
 - د سوز (Suez) خليج د سوز کانال په جنوب کې موقعيت لري.
- ولې د افريقا په لويه وچه کې ډېر خليجونه نشته؟
- د افريقا د شمال خليجونه عبارت دي له:
- د سلوم (Salum) خليج، بامبا (Bamba) خليج، سدرا (Sidra) خليج، قابس (Qabis) خليج او د تونس (Tunis) خليج چې د افريقا په شمال کې د مديترانې په سمندرگي کې موقعيت لري.
- هغه خليجونه چې د افريقا په سوېل لويديځ کې موقعيت لري عبارت دي له:
- د گينې (Guinea) خليج، واليس (Walvis) خليج، لودريتس (Luderits) خليج او د سنت هلنا (Saint Helena) له خليج څخه چې ددې خليجونو له ډلې څخه د گينې خليج د افريقا د لويې وچې ډير لوی خليج او ډېر کوچنی خليج يې د سوز خليج دی، چې د سوز کانال په سوېل کې موقعيت لري.
- هغه خليجونه چې د مدغا سکر د ټاپو په شاوخواکې پراته دي عبارت دي له:

د سنت آگوستین له خلیج څخه د مدغاسکر د ټاپو په سوېل لویدیځ کې او د انتون ژیل (Antongil) له خلیج څخه د مدغاسکر د ټاپو په شمال ختیځ کې.



د ټولګي دننه فعالیت:

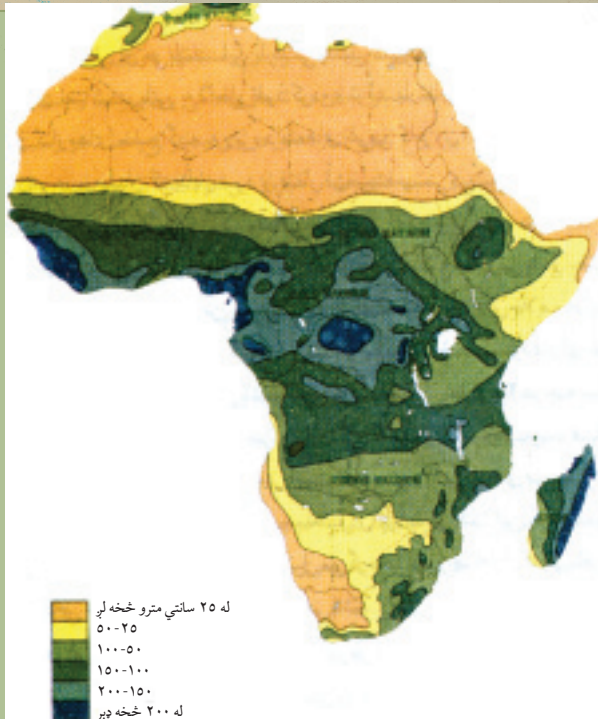
زده کوونکي دې په ډلو وویشل شي او هره ډله دې د نقشې له مخې خلیجونه نوروته وښيي.

پوښتنې:

- ۱- د افریقا د لویې وچې شمال ختیځ خلیجونه دنقشې پرمخ وښایاست؟
- ۲- د سویز خلیج د افریقا د لویې وچې په کومه برخه کې موقعیت لري؟
- ۳- د افریقا د جنوب لویدیځو خلیجونو نومونه واخلي او په نقشه کې یې وښایاست؟
- ۴- د افریقا د لویې وچې د ډېر لوی او کوچني خلیج نوم واخلي؟
- ۵- د سنت آگوستین خلیج او د انتون ژیل خلیج د نقشې پرمخ وښایاست.

له ټولګي څخه بهر فعالیت:

زده کوونکي دې په خپلو کتابچو کې د افریقا د لویې وچې نقشه رسمه کړي او ټول خلیجونه دې دهغې پر مخ ولیکي.



د افريقا د لويې وچې د اوربست نقشه

ولې د افريقا د لويې وچې اقليم سره توپير لري؟

د افريقا لويه وچه د هغه موقعيت له سببه چې د ځمکې د کرې پر مخ يې لري د نړۍ ډېره توده لويه وچه شمېرل کېږي. که نقشې ته ښه ځير شو، نو گورو چې يوه برخه يې په استوايي چاپريال کې موقعيت لري او ددې سيمې اقليم تود، سوځوونکی او څه ناڅه مرطوب دی. د افريقا د وچې شمالي او سوېلي سيمې د استوا لاندې سيمه کې پراختيا موندلې، اقليم يې نسبتاً معتدل او لنډه بل يې ډېر لږ دی، ځکه چې په شمال لويديځ کې د اطلس غرونه، په ختيځ کې د حبشې لوړې سطحې او په سوېل کې د د راکنسبرگ غرونه وچې ته د سمندري مرطوبې هوا د ورننوتلو خنله گرځي.

د افريقا ختيځې برخې د هند سمندر د مونسوني غير منظمو بادونو په سيمه کې پرته دي. په داسې حال کې چې پاتې برخې يې د تجارتي منظمو بادونو څخه برخمنې دي. د افريقا په بيدياوو او سوزوونکو دښتو کې وچ او تاوده توپانونه لگيري چې د خمسين په نوم شهرت لري. د استوايي سيمو اقليم يې تود او نمجن دی او د کلني تودوخې منځنۍ اندازه يې د سانتیگراد د ۳۰ درجو په شاوخوا کې ده. د افريقا ډېره توده سيمه چې په حقيقت کې نړيوال ريکارډ لري د عزيزه Azizia په نوم د ليبيا په شمال لويديځ کې موقعيت لري چې د

تودوخې ډېره لوړه اندازه يې د سانتیگراد تر ۵۸ درجو پورې ثبت شوې ده.

- د اطلس دغرونو، د حبشي د لوړو سطحو او د دراکنسبرگ د غرونو شته والی د افریقا د لویې وچې پر اقلیم څه اغیزه لري؟

افریقا لږ اورښت لري. یوازې د استوا د کرښې په شاوخوا کې ټول کال اورښت کیږي. د استوا د کرښې څخه د شمال او سوېل لورته ورو ورو د هوا لنډه بل لږېږي او لږ اورښت لري. واورې یوازې په ډیرو لوړو غرنیو سیمو کې اوري او همیشنی واورې په لوړو څوکو کې لیدل کیږي.

د ټولګي دننه فعالیت:

زده کوونکي دې په ډلو وویشل شي اوهره ډله دې د لوست د متن او اقلیمي نقشو څخه په گټې اخیستنې سره د افریقا د بادونو، رطوبت او تودوخې په هکله معلومات راټول او ټولګیوالوته وړاندې کړي.

پوښنې:

- ۱- د افریقا د لویې وچې په کومو سیمو کې واوره اوري؟
- ۲- په افریقا کې ډېره توده سیمه چې نړیوال ریکارډ لري په کوم هېواد کې موقعیت لري او په څه نامه یادېږي؟

له ټولګي څخه بهر فعالیت:

که چیرې د استوا له کرښې څخه د افریقا د لویې وچې شمال او سوېل لورته سفر وکړو په خپل تگلوري کې په ترتیب سره د کوم ډول آب او هوا سره مخامخ کېږو؟



د صحرايي اقليم يوه څنډه

تاسو په تېر لوست کې د اقليم په هکله عمومي معلومات حاصل کړل. اوس مختلفې اقليمي سيمې مطالعه کوو. دافريقا په مختلفو اقليمي سيمو کې کوم ډول نباتات ليدل کيږي؟

د افريقا لويه وچه د ډول ډول اقليمونو له پلوه په لاندې اقليمي سيمو ويشلې ده:

۱- داستوايي ځنگلونو د سيمې اقليم:

دا سيمې ډېره توده استوايي آب او هوا او هميشني بارانونه لري چې د کانگو حوزه او د افريقا سوېل لويديځ سواحل په برکې نيسي. په دې برخه کې استوايي چتر ډوله د لوړو ونو ځنگلونه زيات شته دي. دلته د کاک او ربر ونې ډېرې شپې کيږي. د استوايي ځنگلونو په ساحه کې په ځانگړي ډول د کانگو پلازمېنه يعنې د کنشاسا حوزه او د گابون، لايبيريا، سيراليون او کانگو برازاويل يوه برخه شامله ده.

- د استوايي اقليم ځانگړتياوې ووايست؟

۲- د سوانا د استوا لاندي ساحې اقليم:

دا ساحه د استوايي ځنگلونو د ساحې په شمال او سوېل کې موقعيت لري. په سوېل کې تر زامبيا او په شمال کې مرکزي افريقا، نايجريا او دمالی سوېل په برکې نيسي.

۳-د ستپ د ساحي اقليم:

د ستپ د سيمې اقليم چې د افريقا په شمال کې د پټې په خپر د ختيځ څخه لوېديځ لورته غزېدلې دی، ددې سيمې د مالدارانو لپاره يې ښه څر ځايونه منځته راوړي دي او د استوا لاندې سيمې او لويې صحرا ترمنځ پروت دی. نوموړې سيمې نسبتاً توده او معتدله باراني آب او هوا لري. نوموړې سيمه د افريقا په سوېل کې بوتسوانا، د ناميبيا يوه برخه او د سوېلي افريقا شمال ختيځې برخې په برکې نيسي چې هغه هم د مالدارانو د څر ځايونو او غلو دانو د کرنې لپاره برابره ده.

د ساوانا نباتاتو د پوښښ يوه منظره





د سټپ اقليم

۴- د صحرايي سيمې اقليم:

صحرايي سيمه د افريقا د براعظم په شمال کې ډېره پراخه ده، ټوله لويه صحرا په برکې نيسي. دا سيمه د سوډان او مصر څخه پيل د موريتانيا تر وروستۍ برخې پورې رسيري او د نړۍ د لويو صحراوو څخه شمېرل کيږي. په دې سيمه کې وچه او صحرايي آب او هوا او لږ اوربنت وي. په نوموړې کې شاړې او پراخه شگلنځايونه شته دي چې د کرنې لپاره ښه زمينه نشي برابرولای. دا اقليم دافريقا په سوېل کې سوېل لويديځه وروستۍ برخه په برکې نيسي او دافريقا په سوېل لويديځ ساحل کې د يوې کوچنۍ پټۍ په څېر د عرض البلد تر ۱۰ درجو پورې غزېدلې ده. په دې سيمه کې د کالاهاری او ناميبيا صحراوي هم شامليږي. - صحرايي سيمې د څه ډول اقليم لرونکې دي؟

۵- د مديترانه يې سيمې اقليم:

مديترانه يې اقليم د افريقا په شمال کې ساحلي غاړې په برکې نيسي چې د اسکندريې څخه د مراکش تر سواحلو پورې غزېدلي دي. ددې سيمې مهم پيداوار انگور، د ستروس د کورنۍ ميوې (لکه کينو، نارنج،

مالټه، ليمو، سنتره)، خرما او گني دي. خو په جنوبي افريقا کې مديترانه يي اقليم د هغې سوېل ختيځې برخې په بر کې نيسي چې د لسوتو کوچنی هېواد او د سوېلي افريقا جنوب ختيځې برخې په کې شاملې دي. سر بېره پر هغې د جنوبي افريقا د هېواد پلازمينه او مهم بندر کيب ټاون هم مديترانه يي اقليم لري.

د ټولگي دننه فعاليت:

زده کوونکي دې په ډلو وویشل شي، هره ډله دې د افريقا په اقليمي سيمو باندې بحث وکړي او د هرې ډلې استازی دې د ټولگي مخ ته د خپلې ډلې د بحث پایلې نوروته بيان کړي.

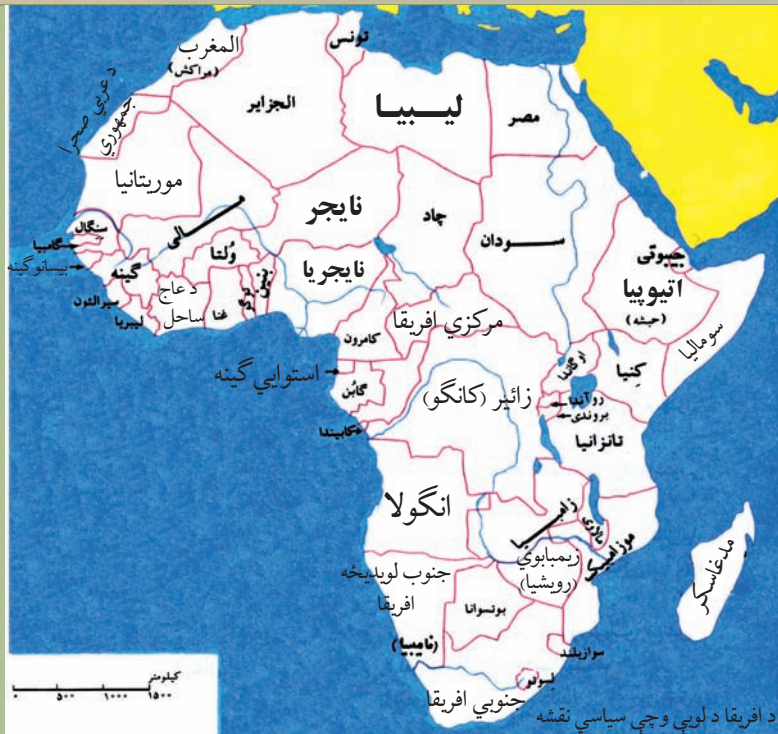
پوښتنې:

زده کوونکي دې لاندې جدول د ورکړ شوي بیلگې په نظر کې نیولوسره په خپلو کتابچوکې بشپړ کړي.

د اقليم ځانګړتیاوې	د اقليم ډول
۱- دا سيمې د ډيرې تودې استوايي اب او هوا چې هميشني اوربنتونه ورسره مل وي لرونکي ده. چې په هغې کې د استوايي چتر ډوله لورونو ځنګلونه ډېر ليدل کېږي.	۱- د استوايي ځنګلونو سيمې اقليم
۲-	۲- د سټپ د سيمې اقليم
۳-	۳- د صحرايي سيمې اقليم
۴-	۴- د مديترانه يي سيمې اقليم

له ټولگي څخه بهر فعاليت:

زده کوونکي دې په خپلو کتابچوکې د افريقا نقشه رسمه کړي، او د افريقا د لويې وچې اقليمي سيمې دې د نقشې پر مخ په ښکلو رنگونو وښايي.



د افريقا د لويې وچې د سياسي جغرافيه په هکله څه پوهيږئ؟

افريقا هغه لويه وچه ده چې په کې زيات بدلونونه ليدل کيږي، له دې حقيقت سره هغه وخت آشنا کيږئ چې د افريقايي مهاجرينو لويو ډلو ته چې په نړۍ کې ځای پر ځای شوي دي پاملرنه وکړئ. ډېر وگړي يې د سياسي او اقتصادي ناوړه شرايطو له امله د تېښتې په حال کې دي، خو افريقا په مثبت ډول هم د بدلېدو په حال کې ده، په دې معنا چې د ستونزو د لېرې کولو د حل لاره يې هم پيدا کړې ده. د بېلگې په توگه د ځينو سيمو د صحرايي کيدلو سره د مبارزې او مخنيوي په خاطر يې ښه کارونه هم سرته رسولي دي او د سمسورتيا د ساتلو لپاره يې کوبښن کوي. خو ددې لويې وچې خلکو د سياسي، اقتصادي او ټولنيزې پرمختيا په برخه کې د نړۍ د نورو لويو وچو په پرتله وروسته گام ايښی دی، نو ځکه نسبتاً وروسته پاتې دي. ددې لويې وچې زياتره خلک د سوانا په سيمو کې په شيندلي ډول استوگنه کوي او يا د ځنگلونو په منځ کې اوسېږي يا داچې لاثراوسه د کوچيانو په څېر توگه ژوند کوي. دوی د خپل ژوند اړتياوې د ابتدايي کرنې له لارې حل کوي.

- د افريقايانو د ورو پرمختگ لامل په څه کې وښئ؟

د افريقا د لېرې پرمختيا په هکله ځينې ليکونکي او څېړونکي په دې باور دي چې د هغو د وروسته پاتې والي اصلي حقيقت د نورو لاملونه ترڅنگ يو هم د لويديځو اروپايانو په وسيله د هغوی استثمارول دي او که نه د بنکيلاک (استعمار) د مخه له ۱۲ څخه تر ۱۵ مېلادي پېړۍ پورې ځينو تور پوستکو افريقايانو د سوډان د هېواد په لويديځ کې خپل کلتورونه درلودل او متمدنه هېوادونه يې منځته راوړي وو چې د گانا او مالي

هېوادونو نومونه هم له هماغو پخوانيو قومونو څخه استازيتوب کوي او حتی نن هم وينو هغه هېوادونه چې تازه خپلواکي ته رسيدلي، د هېوادونو يا ښارونو او نورو برخو نومونه يې چې د اسارت په وخت کې اېښودل شوي وو بدل کړي او يا يې بېرته هم هغه پخوانيو اصلي نومونو ته گرځولي دي او يا يې د پخوانيو اتلانو او جنگياليو په نوم يادوي. هغه وخت چې د اروپايي هېوادونو پانگوالو، د ښه سوق الجيشی موقعيت، طبيعي ډېرو منابعو او بشري ارزانه څواک ته د رسيدو پر بنسټ افريقا خپل هدف وگرځوله او هلته يې د خپلو صنعتي توليدي توکو د وړاندې کولو لپاره تود بازار وموند، د هغو پر استثمار يې نور هم کوښښ وکړ.



د هغو جگړو په پایله کې چې د افریقا خلکو پر دښمن بری حاصل کړ د افریقا د مختلفو سیمو نورې خپلواکۍ غوښتونکې جبهې یې هم وهڅولې او هغوی یې له استعمارگرانو څخه د خپلواکۍ لاسته راوړلو ته، هیله من کړل. په افریقا کې تر ۱۹۵۱ م کال پورې له څلورو هېوادونو (حبشی، لایبریا، مصر او جنوبي افریقا) څخه زیات خپلواک نه وو او له ۱۹۵۲ م څخه تر ۱۹۹۶ م کال پورې د هغو شمیر ۳۷ ته ورسیده چې اوس د افریقا د لوېې وچې په سیاسي نقشه کې ۵۳ خپلواکه هېوادونه لیدلای شو.

د استعمار د دوران د افریقایي مریانو یو تصویر



په جنوبي افريقا کې د اوږدې مودې لپاره د لويديځو هېوادونو سپين پوستکي لږه کي په واک کې وو او پر زياترو تور پوستکو باندې يې حکومت کاوه. دا نژادي تبعيض (اپارتايد) په هغه ځای کې د تورپوستکو خلکو د مهاجرت لامل شوی و، د اپارتايد له پای ته رسيدو وروسته کله چې په جنوبي افريقا کې په ۱۹۹۴م کال کې خپلواکه ټول ټاکنې ترسره شوې، دهغه هېواد اوسيدونکي بيرته خپلو اصلي سيمو ته راوگرځيدل.

د ټولگي دننه فعاليت:

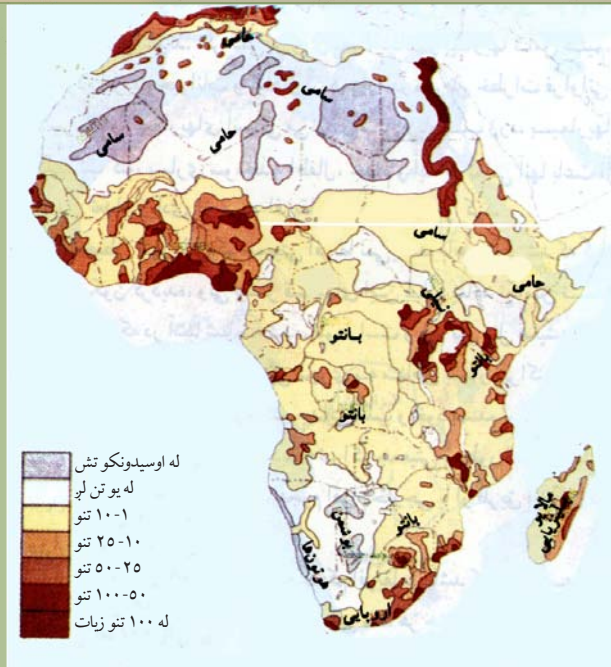
زده کوونکي دې په ډلو وویشل شي، د جنوبي افريقا په نژادي تبعيض دې بحث وکړي او پایلې دې نوروته وړاندې کړي.

پوښتنې:

- ۱- نژادي تبعيض په کوم کال کې په جنوبي افريقا کې پای ته ورسیده؟
- ۲- د نړۍ په نقشه کې اوس افريقا څو خپلواکه هېوادونه لري؟ د نقشې پر مخ يې وښايست.
- ۳- څيړونکو د افريقايانو د وروپرمختگ په هکله څه نظر درلوده؟
- ۴- په ۱۹۵۱ م کې افريقا څو خپلواکه هېوادونه درلودل؟ نومونه يې ووايست.

له ټولگي څخه بهر فعاليت:

د افريقا د لوبې وچې د وروسته پاتې والی لامل په هکله يوه مخيزه مقاله وليکئ او ټولگيوالوته يې وړاندې کړئ.



د افریقا په لویه وچه کې د نفوسو د جغرافیایي ویش نقشه

د افریقا د نفوسو د ویش نقشې ته وگورئ.

- د افریقا د لویې وچې په کومو سیمو کې د نفوسو گڼوالی زیات دی او ولې؟
د افریقا د لویې وچې بشري جغرافیه په څلورو برخو کې چې له نفوسو، نژاد، ژبې او دین څخه عبارت دي په بشپړه توگه مطالعه کوو.

نفوس:

د نړۍ د بشر ډېر لرغوني آثار، د افریقا د لویې وچې د تانزانیا په هېواد کې لیدل شوي چې څه ناڅه ۴،۵ میلیونه کاله لرغونتوب لري. په ۱۹۹۸م کال کې د افریقا په لویه وچه کې د ۶۱۵ میلیونو تنو په شاوخوا کې خلکو ژوند کاوه، چې د ټولې نړۍ د نفوسو په سلوکې ۱۲،۲ یې جوړول. ددې لویې وچې د نفوسو د لږوالی لامل په صحراوو او گڼو ځنګلونو کې د ژوند نامناسبه شرایط، ساري ناروغی، کورنۍ جگړې او د خوراکي توکو لږوالی دی. د وگړو گڼوالی د افریقا په مختلفو سیمو کې سره توپیر لري. د افریقا په صحرا کې تقریباً څوک نه اوسېږي، په سوانا او سب تروپیک سیمو کې چې حاصلخیزې ځمکې لري د نفوسو گڼوالی یې ډېر دی، د بېلگې په توگه د نیل سیند د وادۍ په کبستنۍ برخه کې د نفوسو گڼوالی په هر کیلومتر مربع کې ۱۰۰ تنو ته رسېږي. د نفوسو گڼوالی د سیندونو او سمندرونو په غاړو کې هم لیدل کېږي.

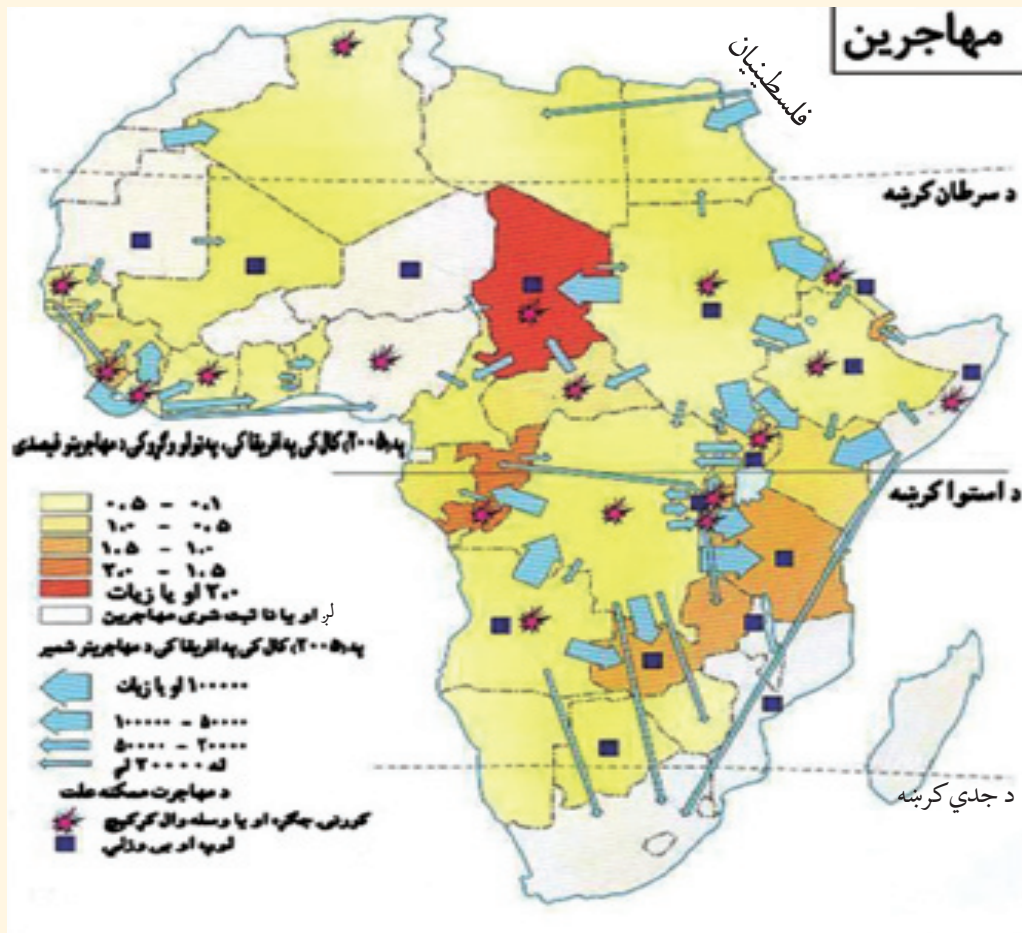
- د افریقا د لویې وچې د نفوسو د لږوالي لامل (علت) څه دی؟

نژاد:

د افریقا د لویې وچې د نفوسو د ویش او قومي ترکیب نقشونه وگورئ. د افریقا په شمال کې عرب خلک ژوند کوي چې په عربي ژبه خبرې کوي او زیات شمیر یې په بنارونو کې اوسېږي د کلیو خلک په کرنه بوخت دي. ددې سیمې عرب اوسیدونکي له دوو قبیلو یعنی حامی (Hami) او سامی (Sami) سره تړاو لري. دا خلک غنم رنگه خېره او تور وینتان لري. د افریقا په شمال لویديځ کې بربر قبایل استوگنه کوي چې سپین پوټکی لري او د اسپانویانو او ایټالویانو له نسل سره ورته والی لري. له همدې کبله د مراکش، الجزایر او تونس هېوادونه د بربر هېوادونو په نوم یادوي. د افریقا په جنوبي او مرکزي برخو او لویې صحرا کې تور پوستي خلک اوسېږي چې د افریقایي تورانو په نوم یادېږي او د افریقا د ټولو وگړو برخه جوړوي خو له توکمیز پلوه سره توپیر لري، نو ځکه په بېلو بېلو ډلو ویشل شوي دي.

۳

د مهاجرینو نقشه



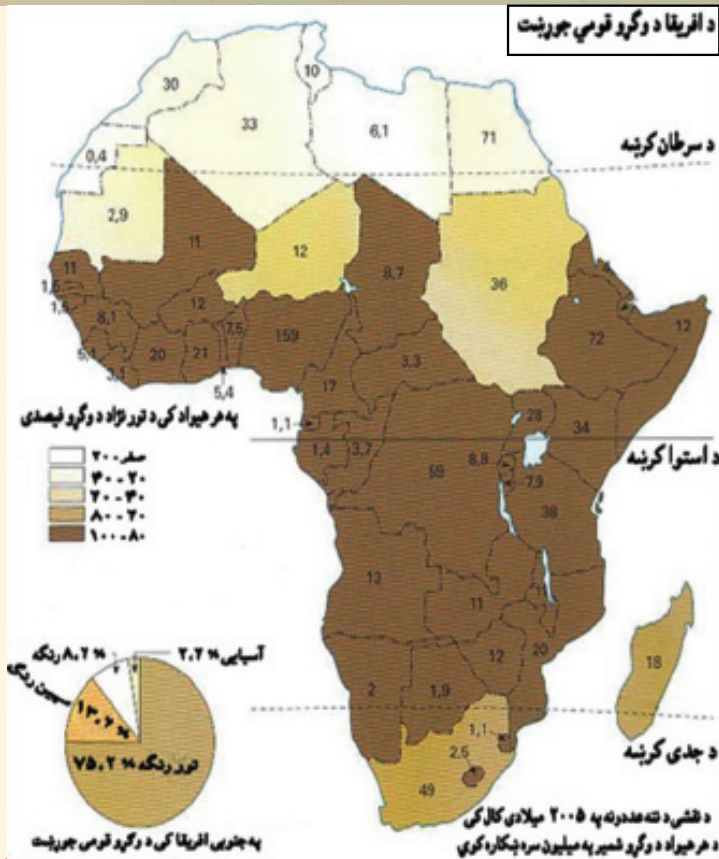
په مرکزي او جنوبي افريقا په لويه صحراکې تورپوستکي خلک ژوند کوي چې د ونې (قد)، څېرې او د پوستکي د رنگ له پلوه سره توپير لري او په دوو برخو سوډاني او بنتونيگرويانو ويشل شوي دي. دمنځنۍ افريقا په استوايي ځنگلونو کې د پيگمي قبيلو وگړي اوسيري چې ټيټې ونې لري. د نارينوو منځنۍ ونه يې ۱۴۵ سانتي متره او د بنځويې ۱۳۵ سانتي مترو ته رسيري. د پيگمي خلکو د پوستکي رنگ دومره تور نه دي. ددې خلکو کورونه او اړتياوې له ځنگلونو څخه پوره کيږي او کورونه يې په مشکل سره ليدل کيږي، ځکه د هغو کورونه د ونو پاڼو او بناخونو پوښلي دي. د زړو پيگمي خلکو کالي د يو ملاتروني (کمر بند) څخه عبارت دي چې د ملا څخه يې تړي، او کله هم د ونو پاڼې په هغو پورې تړي. کله چې اروپايي سپين پوستي مهاجر خلک د ۱۸۰۰ م کال څخه وروسته افريقا ته راغلي وو، د خپلو بنکيلاکي (استعماري) کړن لارو د عملي کولو په خاطر يې د افريقا ډيرې برخې د خپلې واکمنۍ لاندې راوستې، هغوی په جنوبي افريقا او زمبابوی کې ژوند کاوه او وروسته په کينيا، يوگندا او نورو افريقايي هېوادونو کې خواره واره شول.

د افريقا له نيگرو خلکو يوه څېره



د شمالي افريقا له عربو يوه څېره





د ټولګي دننه فعاليت:

زده کوونکي دې په ډلو وویشل شي او هره ډله دې د افريقايانو د مهاجرتونو پر عواملو بحث وکړي او دخپلو بحثونو پایلې دې نورو ته وړاندې کړي.

پوښتنې:

- ۱- د افريقا په شمال کې کوم خلک ژوند کوي او په کومې ژبې خبرې کوي؟
- ۲- د افريقا په شمال لويديځ کې کوم قبایل ژوند کوي او کوم نسل ته ورته والی لري؟
- ۳- د افريقا د لويې وچې په لويه صحرا او منځنيو او جنوبي برخو کې کوم خلک اوسېږي او په څه نوم ياديږي؟
- ۴- ولې اروپايي خلکو افريقا ته مهاجرت وکړ؟ دهجرت موخه يې څه وه، او د افريقا په کومو هېوادونو کې يې ژوند تېراوه؟

له ټولګي څخه بهر فعاليت:

- د افريقا د وگړو د قومي ترکيب نقشه ولولئ او لاندې پوښتنې په ليکلې بڼه ځواب کړئ:
- ۱- د افريقا په لويه وچه کې په عمومي ډول تور نژاده وگړي په کومه برخه کې اوسېږي؟
 - ۲- د همدې نقشې پر بنسټ د مصر، ليبيا او مراکش هېوادونو په (۲۰۰۵) ميلادي کال کې څو ميليونه نفوس درلودل؟

٤- اروپايي ژبې چې د هغو په سر کې فرانسوي او انگليسي ژبې دي. دافريقايي هېوادونو رسمي ژبې کولای شو په لاندې جدول کې مطالعه کړو.

د افريقايي خلکو د ژبو جدول

افريقايي	سواحلي	پرتکالي	فرانسوي	انگليسي	عربي	رسمي ژبې
سويلي افريقا	تانزانيا کينيا (او د اوگندا په يوه برخه کې)	انگولا (گينه - بيساو) کپ وردي (ساوتام او پرنسپي) موزمبيق	سسينگال گينه مالي د عاج ساحل بورکينا فاسو توگو بنين نایجريا چاد (د مرکزي افريقا جمهورت) کانگو - کينشاسا (کانگو - برازاويل) روندا گانون مدغاسکر	نایجريا گامبيا گانا سيراليون لايبريا اوگندا زامبيا مالاوي زمبابوي کينيا بوتسوانا نامبيا سويلي افريقا	مصر سودان مراکش تونس الجزاير ليبيا موريتانيا (لويدبخه صحرا) ايرتريا	د هېوادونو نوم

• همدارنگه نور هېوادونه هم شته چې نورې رسمي ژبې لري..

د ټولگي دننه فعالیت:

زده کوونکي دې په ډلو وویشل شي او هر ه ډله دې د ژبو د يوې ډلې په هکله معلومات وړاندې کړي.

پوښتنې:

- ۱- مسلمانان زياتره د افريقا په کومه برخه کې اوسېږي؟
- ۲- د افريقا په لويه وچه کې څو هېوادونه د اسلام د مقدس دين پيروي کوي؟ نومونه يې واخلئ.
- ۳- ولې افريقايانو بهرنی ژبه د خپلې رسمي ژبې په توگه منلې ده؟
- ۴- اروپايي ژبې او محلي ژبې معرفي کړی؟

له ټولگي څخه بهر فعالیت:

زده کوونکي دې د افريقا د لويې وچې نقشه په خپلو کتابچو کې رسمه کړي او د افريقا د خلکو د دينونو سيمې دې په هغې کې وښيي.



په کینیا کې د چای د پانو راټولونه

د افریقا د لویې وچې د اقتصادي جغرافیې په هکله څه پوهیږئ؟

د افریقا په لویه وچه کې اقتصادي پراختیا او پرمختګ د نورو لویو وچو په پرتله وروسته یعنې د ۱۹ پېړۍ په لومړیو کې پېل شو او تر هغه دمخه ډیر ورو و. ددې لویې وچې اقتصادي بڼه هم مختلف رنگونه او ډولونه لري. لکه چې دارنگه دلایي صنایعو د ډېرې ساده او لومړۍ بڼې څخه تر ډیرو عصري فابریکو پورې کولای شو په هغې کې وینو یا د ترانسپورت او توکو په وړلو کې د ډیرو ابتدایي اوساده لارو څخه چې نیغ په نیغه د انسانانو په وسیله ترسره کېږي، تر ډیرو عصري سمندري بندرونو، داوسپنو کړښو، هوایي کړښو او پرمختللو هوایي ډګرونو پورې کولای شو وګورو. د افریقا لویه وچه د طبیعي منابعو له پلوه شتمنه لویه وچه ده. په دې لویه وچه کې د نفتو، سرو زرو، الماسو او مسوکانونه او ګڼ ځنګلونه شته دي. د افریقا اقتصاد او عایدات زیاتره پر کرنه او مالدارۍ ولاړ دي، په دې توګه د افریقا د اقتصاد مختلفې برخې په لاندې ډول مطالعه کوو:

الف- کرنه او مالداري:

د نړۍ ددې د لویې وچې کرنیز حاصلات زیاتره استوایي او د استوا لاندې نباتات تشکیلوي. لکه چې

دارنگه په ختيځه افريقا کې د کونخلو او چای بوتې، د سوډان د سيمې په لويديځ او د گيني په پورتنۍ برخه کې زياتره تيلي نباتات، دافريقا په ختيځو ټاپوگانو کې ناربال، د گيني په سواحلو او نږدې ټاپوگانو کې يې ککاو، په لويديځه افريقا کې مپمپلی په مصر، سوډان او تانزانيا کې پنبه، په لويديځه افريقا او څه ناڅه ددې ساحې په ټولو ټاپوگانو کې کيله او اناناس، په حبشې او کينيا کې قهوه او د مدیترانې د سمندرگي په سواحلو کې انځر، انگور او نورې ميوې او ترکاری پيدا کيږي. د افريقا د لويې وچې په شمال کې د مدیترانې د سمندرگي په سواحلو کې چې مدیترانه يې اقليم لري، ژمی يې باراني او معتدل او اوړی يې وچ او تود دی، ځنگلونه هلته لږ او هميشه بهار ونې، ليمو، غنم، وریشې، جوار او انگور بڼه حاصل ورکوي. په سوېلي افريقا کې وابنه لرونکې دښتې په للمي توگه حاصل ورکوي چې له هغې جملې يې د پنبې او تنباکو حاصلات د يادونې وړ دي. دهغې په زياترو سيمو کې لوبيا غوره کرنيزه حاصلات گڼل کيږي. سره له دې چې د افريقا اقليم په عمومي توگه د حيواناتو د روزنې لپاره برابر نه دي او مالداري او د څارويو روزنه هم ډېره لږه ده، خو بيا يې هم د پسونو او وزو روزنه تر يوې اندازې د يادولو وړ ده. د کبانو ښکار په ځانگړې ډول د اطلس سمندر د هېوادونو په سواحلو کې زياتره رواج لري. هلته د ښکار وړ د کبانو بېلا بېل ډولونه، لکه: ساردين، تونياک او مکريل دي.

استوایي سيمې د استوا د کرښې د ۵ او ۱۰ درجو شمالي او سوېلي عرض البلدونو ترمنځ تود او مرطوب اقليم لري چې د هغه پر اساس په دې سيمه کې گڼ ځنگلونه منځته راغلي دي.

د ټولگي دننه فعاليت:

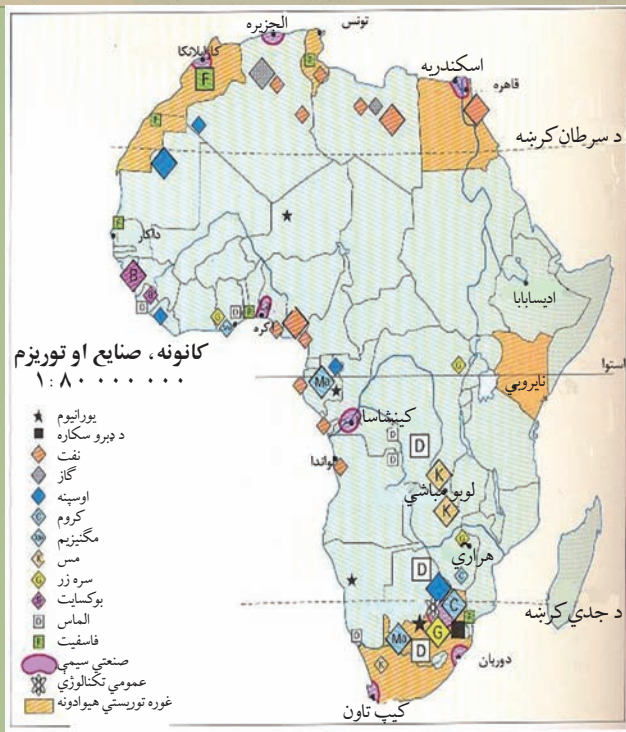
زده کوونکي دې په ډلو وویشل شي او هره ډله دې د افريقا د لويې وچې د وروسته پاتې والي د لامل په هکله بحث وکړي او پایلې دې نوروته وړاندې کړي.

پوښتنې:

- ۱- دافريقا د لويې وچې د اقتصادي حالت په هکله معلومات ورکړئ.
- ۲- په افريقا کې د مالدارۍ وده څه ډول ده؟
- ۳- په افريقا کې د حيواناتو او د ښکار وړ کبانو د ډولونو نومونه واخلي.

له ټولگي څخه بهر فعاليت:

د افريقا د لويې وچې د مدیترانه يې محصولاتو په هکله خپل معلومات وليکئ. همدارنگه ووايست چې ايا افغانستان مدیترانه يې ډوله اقليم لري؟ که يې لري، نو په کومه سيمه کې؟



د افريقا د کانونو، صنايعو او توريزم نقشه

پورتنی شکل ته وگورئ. د افريقا په کومو سيمو کې کوم کاني توکي او صنعتي محصولات شته ؟

د افريقا لويه وچه د طبيعي منابعو له پلوه شتمنه ده، خو له هغو څخه لږه گټه اخيستل شوې ده. شمالي افريقا زيات نفت او ګاز لري او سوېلي افريقا د الماسو د زيرمو د درلودلو له پلوه په نړۍ کې لومړی مقام لري او د افريقا د عايداتو لويه منبع جوړوي.

الماس ډېر کلک او ډير قيمتي طبيعي منرال دی چې په عمومي توګه په تور او زېر رنګ ليدل کېږي او ځينې په سپين، آبي او شين رنګ هم وي. نوموړی منرال له تورلو (صيفل) څخه وروسته د بريليات (د توپل شوي الماس) په نوم يادېږي. سره زر د سوېلي افريقا له مهمو کانونو څخه دي. همدارنګه هلته د ډبرو د سکرو، کرومو، مگنيزو او يورانيمو زيرمې هم شته دي. د زاير او زمبابو هېوادونه د مسو ډبرې بڼې زيرمې لري. د اوسپنو کانونه په لايبريا او سوېلي افريقا کې شته دي. په عمومي توګه ويلاى شو چې د افريقا لويه وچه د نړۍ په سلو کې ۸۰ الماس، ۴۰ سره زر، ۲۰ سپين زر، ۲۰ مس او ۱۴ قلعي توليدوي. همدارنګه کولای شو د ترانسوال د مهمې سيمې څخه نوم واخلو چې په هغې کې صنعتي کارخانې او لوی ښارونه ځای پرځای شوي دي او زيات شمېر وګړو ته يې د استوګنې زمينه برابره کړې ده.

د افريقا منځنۍ برخې ګڼ ځنګلونه او صحرايي سيمې زيات کانونه لري. چې لاس ته ور څخه گټه نه ده اخيستل شوې. افريقايي هېوادونه کوبنښن کوي چې د صنعتي توليداتو حجم لوړ کړي. ځينې هېوادونه د بريښنا او کرنيزو بندونو په جوړولو بوخت دي د بېلګې په توګه په مصر کې د نيل د سيند د پاسه د اسوان بند او د زمبيا او زمبابو د

هيوادونو ترمنځ دزامبزي دسيند دپاسه دولتابند د يادونې وړ دی. دافريقا دلويې وچې زياتره کاني او کرنيز محصولات بهرته صادرېږي. د نړۍ د نورو هېوادونو د صنعتي مرکزونو او کارخانو اومه مواد هم په افريقا کې توليدېږي، ځکه چې په خپله په افريقا کې صنعت دومره پرمختگ نه دی کړی. همدارنگه په افريقا کې دگرځندوی (توريزم) له صنايعو څخه هم عايدات تر لاسه کېږي.

په موزامبيق کې د يوه طبيعي ژوبن تصوير



د مصر اهرام او د نورو پخوانيو هېوادونو لرغوني اثار، د افريقا شمال د مديترانې د سمندرگي پر غاړه ښکلي سواحل، دخلکو دودونه او دستورونه او هم هغه ملی مشهور پارکونه چې په افريقا کې شته دتوريزم او نړۍ گرځيدنې ارزښت لري. او ددې لامل کېږي چې خلک له هغو څخه ليدنه وکړي چې طبعاً د اړوندو هېوادونو او سيمو په اقتصاد کې رول لوبوي.

د ټولگي دننه فعاليت:

زه کورونکي دې په ډلو وویشل شي او هره ډله دې د افريقا د لويې وچې د طبيعي زيرمو او سرچينو په هکله بحث وکړي او دخپل بحث پايلې دې نوروته وړاندې کړي.

پوښتنې:

- ۱- د افريقا د بريښنا بندونه د کومو سيندونو دپاسه جوړ شوي دي؟
- ۲- شمالي او سوېلي افريقا د طبيعي منابعو له پلوه سره پرتله کړئ؟
- ۳- په افريقا کې د هغو هېوادونو نومونه واخلي چې په هغو کې ډېر مس پيدا کېږي؟
- ۴- د اوسپني کانونه زياتره دافريقا په کومو سيمو کې شته دي؟
- ۵- د هغو کانونو نومونه واخلي چې دافريقا په لويه وچه کې پيدا کېږي؟

له ټولگي څخه بهر فعاليت:

- د افريقا د کانونو، صنايعو او توريزم نقشه مطالعه کړئ، لاندنيو پوښتنو ته ځواب ورکړئ:
- ۱- يورانيوم دافريقا په کومو هېوادونو کې شته د هغو نومونه ووايست.
 - ۲- نفت په عمومي توگه دافريقا په کومو برخو کې موندل کېږي؟
 - ۳- د افريقا د صنعتي سيمو نومونه واخلي.



په لاگوس کې ترانسپورت

د افریقا د لویې وچې د مواصلاتو او د هغو د راتلونکي پرمختګ په هکله څه پوهیږئ؟

په افریقا کې مواصلات لرغونې سابقه لري او په مختلفو ډولونو ترسره کیده. اوس یې تر یوې اندازې په ښه او معاصره توګه پرمختیا کړې ده. په دې لویه وچه کې د استوایي ګڼو څنګلونو، صحرايي تندو بادونو، باتلاقونو او صحراګانو شتوالی خنډونه منځته راوړي دي. د توکو وړل او راوړل د وچې له لارې او په سواحلو کې د بېړیو په وسیله سرته رسیږي.

د افریقا له لویدیځ څخه ختیځ ته لومړنی تګ او راتګ په ۱۸۷۷ م کال کې د هري موتن ستنلي (*Harry mouton Stanly*) په وسیله ترسره شو چې په دریو کلونو کې بشپړ شو. په دغو زیاترو برخو کې مواصلات او وړل او راوړل په لومړنۍ توګه او معمولاً د اوسانو، خرو او په سختو او پیچلو لارو کې د انسانانو په وسیله سرته رسیږي. داوسپنو د کرښو جوړونه دشلمې بېړۍ له لومړیو څخه په ځانګړې ډول له لومړۍ نړیوالې جګړې څخه وروسته ډېره ورو پرمخ تللې، نوڅکه په وړلو او راوړلو کې زیاتره له سپړونو څخه کار اخیستل کیږي. په افریقا کې داوسپنو د کرښو ټول اوږدوالي ۷۰ زرو کیلومترو ته رسیدلی او ډېره اوږده کرښه یې د ۸۰۰۰ کیلومترو په اوږدوالي قاهره له کپتاون سره په جنوبي افریقا کې نښلوي. د اوسپنو کرښو په افریقایي نورو هېوادونو لکه مراکش، الجزایر، تونس او مصر کې پراختیا کړې ده.

- د افریقا د اوسپنو ډېره اوږده کرښه څومره اوږدوالی لری او کومې سیمې سره نښلوي؟

سرېره پردې ددې لويې وچې د زياترو هېوادونو پلازمېنې، مرکزونه او مشهور ښارونه په عصري هوايي ډگرونو سمبال دي. چې له دې لارې د پرمختللو صنعتي هېوادونو او د نړۍ د نورو هېوادونو سره اړيکې ټينگوي.

د قاهرې په ښارکي ترانسپورت



د ټولگي دننه فعاليت:

زده کوونکي دې په دوو ډلو وویشل شي لومړنۍ ډله دې د افریقا د مواصلاتو پر ابتدايي بڼو او دوهمه ډله دې د افریقا د مواصلاتو په پرمختللي بڼې بحث وکړي او د بحث پایلې دې نوروته وړاندې کړي.

پوښتنې:

- ۱- د اوسپنو کربنو د شمالي افریقا په کومو هېوادونو کې پراختیا موندلې ده؟
- ۲- د وړلو او راوړلو د ابتدايي بڼې په هکله معلومات ورکړئ.

له ټولگي څخه بهر فعاليت:

د افریقا د مواصلاتي لارو د ستونزو او خنډونو په هکله معلومات ورکړئ.



دوربان د سویلی افریقا مهم سمندری بندر

تاسو په تبر لوست کې د ځمکنیو او هوایي لارو په هکله معلومات حاصل کړل. په دې لوست کې به د افریقا د لویې وچې د اوبو د لارو سره اشنا شئ. ستاسو له نظره افریقا د کومو آبنوو او کانالونو له لارې د سمندرونو سره نښلول شوې ده؟

د افریقا د سیندونو او سمندرونو له لارې وړل او راوړل د ښه اهمیت وړ دي او د اوبو مهمې لارې (طبیعي او مصنوعي) چې په افریقا کې د دوو سمندرګیو یا سمندرونو ترمنځ اړیکې ټینګوي په دې ډول دي:

د سویز کانال (د مدیترانې د سمندرګي او سور سمندرګي ترمنځ چې د جوړښت کار یې په ۱۸۵۶ م کال کې پیل او په ۱۸۶۹ م کال کې بشپړ شو)، د باب المندب آبناء (د سور سمندرګي او عدن خلیج ترمنځ)، د موزمبیق کانال (د مدغاسکر په لویډیخ کې د هند سمندر د دوو برخو ترمنځ) او د جبل الطارق آبناء (د مدیترانې د سمندرګي او اطلس سمندر ترمنځ). ددې لارو څخه یوازې د سویز کانال مصنوعي او نورې ټولې طبیعي دي. د افریقا په لویه وچه کې د خنډونو او ستونزو سره سره او د ځمکنی جوړښت د نا برابریا، داستوا او کانګو په سیمو کې د ځنګلونو د شته والي او د استوایي او صحرايي سوځونکي تود اقلیم له امله چې د افریقا زیاتره ځایونه شاړ پاتې دي خو بیا هم د مالونو په وړلو او راوړلو کې آسانتیاوي منځته راغلې دي.

دېره مهمه سمندري لار د کانګو د سیند په حوزه کې موقعیت لري چې تقریباً د ۱۵۰۰ کیلومترو په اوږدوالی د گټې اخیستنې وړ ده. د اوبو اخیستونکې حوزه یې په استوایي سیمو کې پرته ده چې ټول کال دېرې اوبه او زیات باران لري. دنیل سیند د اسوان تر بند پورې د سمندري بهر یو د گټې اخیستنې وړ دي. ددې سیند څخه

لاگوس د نایجریا پایتخت او سمندري بندر



د مصر او سودان دواړه هیوادونه د ورلو او راوړلو لپاره گټه اخلي. همدارنگه د نیجیر، سنیگال او زامبزی په سیندونو کې هم دکال په ځینو وختونو کې چې اوبه یې ډېرې وي بېرې چلول کېږي. ستاسې په نظر د سویز کانال کوم سمندرګي (بحیرې) سره نښلوي؟

نن سبا د سمندري بېړیو په وسیله وړل او راوړل زیاتره د مدیترانې په بندرونو او د سوېلي افریقا په بندرونو کې ترسره کېږي چې له هغو څخه د سوېلي امریکا او استرالیا د بازارونو په لور سوداګریز مالونه وړل کېږي. همدارنگه سویز کانال چې د اروپا اړیکې یې د خیتڅې او سوېل خیتڅې افریقا سره ټینګې کړي دي د ځانګړې اقتصادي ارزښت لرونکي دي.

د ټولګي دننه فعالیت:

د افریقا نقشې ته په پاملرنې که وغواړو د بېرې په وسیله د عدن له خلیج څخه د مراکش د هیواد ساحلي ښار یعنی کازابلانکا ته سفر وکړو له کومو ابناء گانو او کانالونو څخه تېرېږو؟

پوښتنې:

- ۱- د افریقا د شمال ختیځ کوم کانال د زیات ارزښت لرونکی دی؟
- ۲- د جبل الطارق ابناء د کوم سمندر او سمندرګي ترمنځ پرته ده؟
- ۳- د افریقا د لوېې وچې پخواني مواصلات د هغې د وروستیو پرمختګونو سره پرتله کړئ؟

له ټولګي څخه بهر فعالیت:

یو کتاب، مجله یا اخبار چې د افریقا د لوېې وچې په هکله معلومات ولري مطالعه کړئ او د کتاب نوم د خپریدو کال او نورې ځانګړتیاوې یې ولیکئ او د مضمون استاد ته یې ورکړئ.

د لومړي څپرکي لنډيز

- که چيرې شمالي او سوېلي امريکا د بېلو لوبو وچو په توگه په نظر کې ونيسو، افريقا له اسيا څخه وروسته د نړۍ ډېره پراخه وچه ده. خو که چيرې ټوله امريکا د يوې لويې وچې په توگه په نظر کې ونيول شي، نو په دې صورت کې افريقا له اسيا او امريکا څخه وروسته د نړۍ دريمه لويه وچه شمېرل کېږي.
- افريقا له ۳۰ ميليونه كيلومتره مربع څخه په زيات پراخوالي سره (د اړوندو ټاپوگانو په گډون) د نړۍ د مساحت په سلوکې ۳،۲۰ په برکې نيسي چې په هغې کې له ۸۰۰ ميليونو تنو څخه زيات وگړي اوسېږي. ډېره شمالي نقطه يې سپينه دماغه (Cape Blanc) او د بن دماغه (Cape Bon) په تونس کې د شمالي عرض البلد د ۳۷ درجو او ۲۰ دقيقو د پاسه او ډېره سوېلي نقطه يې د آگولهاس دماغه (Cape Agulhas) په سوېلي افريقا کې د ۳۴ درجو او ۴۰ دقيقو د پاسه پرته ده.
- ختيځه نقطه يې د گارداډفوي دماغه (Cape Guardafui) په سوماليه کې د ختيځ طول البلد پر ۵۲ درجو او ډيره لویدیځه نقطه يې شنه دماغه (Cape Verde) د سنيگال په گاونډيتوب کې ده چې د لویدیځ طول البلد پر (۱۷) درجو پرته ده.
- افريقا په استوايي سيمه کې ډېره پراخه ساحه راجاچېره کړې ده چې $\frac{۲}{۳}$ برخه يې د استوا د کرښې په شمال کې او $\frac{۱}{۳}$ برخه يې د استوا په جنوب کې پرته ده.
- دا لويه وچه لکه څرنګه چې د هغې له نوم څخه څرګندېږي يوه حاره وي لويه وچه ده او داستوا کرښه دهغې له منځ څخه داسې تېرېږي چې شمالي او سوېلي برخې يې تقريباً په يو ډول واټن کې پرتې دي.
- د افريقا په لویدیځ کې د اټلانتيک سمندر او په ختيځ کې يې د هند سمندر موقعيت لري. په شمال کې د مديترانې د سمندرګي په وسيله له اروپا د لويې وچې څخه او په شمال ختيځ کې د سويز کانال او د سور سمندرګي په وسيله له اسيا څخه بېله شوې ده.
- د افريقا وچه کولای شو په لویدیځي، ختيځي، مرکزي، سوېلي او شمالي افريقا ووېشو.
- افريقا د غرونو، صحراگانو او هواروسيمو لرونکې ده چې ډېر مشهور يې په شمال لویدیځه څنډه کې داطلس غرونه، په تانزانيا کې د کليمانجارو (Kilimanjaro) ځوان غرونه، دالجزاير په سوېل ختيځ کې د اهاګر (Ahaggar) زاړه غرونه، د چاد په شمال لویدیځ کې د تبستي (Tibesti) غرونه او همدارنګه د حبشې لوړې سطحې د يادونې وړ دي.
- په افريقا کې ژورې او لږې لوړې سيمې لږې دي. ددې سيمو ځينې با تلاقې او د روغتيا لپاره د نامناسبه

اقلیم لرونکې دي چې په استوايي سیمو کې پرتې دي او په نورو سیمو کې یې وچې او سوځونکې دښتې هم شته دي.

- د افریقا صحرا چې د نړۍ لویه صحرا ده، څه ناڅه د افریقا د لویې وچې په برخه کې یې پراختیا موندلې ده. په تیرو کلونو کې د وچکالی له امله نوره هم پراخه شوې ده.

- د افریقا په لویه وچه کې ډېر سیندونه شته چې ډېر مشهور یې د نیل او کانگو سیندونه دي. د نیل سیند د مصر د لرغوني مدنیت د منځته راتللو سبب شوی او اوس هم د کرنیزو سیمو په خړو بولو کې ځانگړی ارزښت لري. - افریقا دهغه موقعیت له امله چې د ځمکې د کرې پرمخ یې غوره کړېدی له استرالیا څخه وروسته د نړۍ ډیره توده لویه وچه شمېرل کیږي.

- د افریقا لویه وچه نسبتاً لږ اورښت لرونکې ده چې په عمومي توگه د استوا له کرښې څخه د شمال او جنوب په لور لږېږي.

- په افریقا کې ۵۳ خپلواکه هېوادونه شته چې په هغو کې مختلف قومونه د بېلابېلو کلتورونو سره لیدل کیږي. په شمالي افریقا کې اسلامي کلتور حاکم دی. په داسې حال کې چې په نورو سیمو کې نور کلتورونه لیدل کیږي. - د افریقا زیاتره خلک په کلیو کې استوگنه کوي چې په کرڼه او مالدارۍ بوخت دي.

- سره له دې چې په افریقا کې اقتصادي شرایط د ښکیلاک (استعمار) له منځه تللو وروسته مخ په ښه کیدو دی خو تر اوسه هم نفوس او انساني تولیدي قواوو په پوره اندازه په ټولو ځایونو کې یو ډول پراختیا نه ده موندلې.

- په افریقا کې زیاتې کورنۍ جگړې او وچکالي د کورنیو او هم له پولو څخه د بهر مهاجرتونو سبب کیږي. همدارنگه د افریقا یو زیات شمېر خلک د بې وزلۍ او لوړې څخه رنځیږي او د ژوند سطحه یې کښته ده.

- د افریقا لوی ښارونه لاگوس (Lagos) په نایجیریا کې (د ۹ میلیونو وگړو په درلودلو سره)، کینشاسا (Kinshasa) د کانگو په جمهوریت کې (د ۸،۴ میلیونو وگړو په درلودلو سره) او قاهره په مصر کې (د ۷،۹ میلیونو وگړو په درلودلو سره) دي.

- په افریقا کې رسمي ژبې عبارت دي له: عربي، انګلیسي، فرانسوي، پرتګالي، افریقایي، سواحلي او نورو څخه.

د افریقا د خپلواکو هېوادونو د ځینو جغرافیایي ځانګړنو جدول

په بېلا بېلو سکتورونو کې د بوختو وګړو فیصدي (۲۰۰۱ کال)			عمومیات				هېوادونه	ګڼه
خدمتونه	صنعت	کرنه	د وګړو ګڼوالی په یو کیلو متر مربع کې	د وګړو شمېر په ۲۰۰۶ کال کې	مساحت په کیلومتر مربع	مرکز		
۱۶.۹	۸.۴	۷۴.۷	۱۰	۱۲,۱۲۰,۷۱	۱,۲۴۶,۷۰۰	لواندا	۱	
۱۲.۰	۲.۰	۸۶.۰	۶۸	۷۴,۷۷,۹۸۱	۱,۱۰۴,۳۰۰	آدیس بابا	۲	
—	—	—	۴۲.۸	۵۰,۲۸,۴۲۷	۱۱۷,۶۰۰	اسمره	۳	
۵۴.۵	۳۱.۸	۱۳.۷	۲۶	۴۴,۱۸۷,۶۳۷	۱,۲۲۱,۰۳۷	پرتوریا	۴	
۱۶.۵	۳.۰	۸۰.۵	۷	۴,۳۰۳,۳۵۶	۶۳۰,۰۰۰	بانګی	۵	
۴۱.۹	۲۹.۸	۲۸.۳	۱۴	۳۲,۹۳۰,۰۹۱	۲,۳۸۱,۷۴۱	الجزیره	۶	
۱۱.۱	۴.۶	۸۴.۳	۱۱۷	۲۸,۱۵۵,۷۵۴	۲۴۱,۰۳۸	کابولا	۷	
۲۸.۵	۸.۱	۶۳.۴	۷۰	۷,۸۶۲,۹۴۴	۱۱۲,۶۲۲	پرتونو	۸	
۳۳.۳	۲۰.۴	۴۶.۳	۳	۱,۶۳۹,۸۳۳	۵۸۱,۳۰	ګارون	۹	
۵.۶	۲.۰	۹۲.۴	۵۱	۱۳,۹۰۲,۹۷۲	۲۷۴,۰۰۰	واګادوګو	۱۰	
۵.۶	۲.۵	۹۱.۹	۲۹۱	۸,۰۹۰,۰۶۸	۲۷,۸۳۴	یوجومبار	۱۱	
۱۰.۶	۵	۸۴.۴	۴۲	۳۷,۴۴۵,۳۹۲	۸۸۳,۷۴۹	دارالسلام	۱۲	
۲۴.۴	۱۰.۰	۶۵.۶	۹۸	۵۵,۴۸,۷۰۲	۵۶,۷۸۵	لومه	۱۳	
۲۸.۴	۳۲.۷	۲۸.۹	۶۲	۱۰,۱۷۵,۰۱۴	۱۳۳,۶۱۰	تونس	۱۴	
—	—	—	۲۱.۸	۵۰,۶,۲۲۱	۲۳,۲۰۰	جیبوتی	۱۵	
۱۲.۵	۴.۳	۸۳.۲	۸	۹,۹۴۴,۲۰۱	۱,۲۸۴,۰۰۰	انجامنا	۱۶	
۴.۵	۳.۶	۹۱.۹	۳۳۸	۸,۶۴۸,۲۶۸	۲۶,۳۳۸	کیګالی	۱۷	
۱۶.۸	۸.۵	۷۴.۸	۱۵	۱۱,۵۰۲,۰۱۰	۷۵۲,۶۱۸	لوزاکا	۱۸	
۲۳.۷	۸.۱	۶۸.۲	۳۱	۱۲,۳۲۶,۸۰۵	۳۹۰,۷۵۷	هراری	۱۹	
—	—	—	۲۱۳.۹	۲۰,۶,۱۷۸	۹۶۴	سایوتومه او پرنسپ	۲۰	
۳۰.۰	۱۰.۰	۶۰.۰	۵۵	۱۷,۶۵۴,۸۴۳	۳۲۲,۴۶۳	یاموسوکرو	۲۱	
۱۵.۸	۷.۴	۷۶.۸	۶۱	۱۱,۹۸۷,۱۲۱	۱۹۶,۷۲۲	داکار	۲۲	
—	—	—	۶۵	۱,۱۲۸,۸۱۴	۱۷,۳۶۴	میان	۲۳	
۲۱.۶	۸.۶	۶۹.۸	۱۶	۴۱,۳۲۶,۳۷۸	۲,۵۰۵,۸۱۳	خرطوم	۲۴	
۲۰.۰	۱۲.۰	۶۸.۰	۱۴	۸,۸۶۳,۳۳۸	۶۳۷,۶۵۷	موګادیشو	۲۵	
۱۶.۹	۱۵.۴	۶۷.۷	۸۴	۶,۰۰۵,۲۵۰	۷۱,۷۴۰	فری تاون	۲۶	
—	—	—	۱۸۰.۸	۸۲,۲۶۷	۴۵۵	ویکتوریا	۲۷	

Wolters- Noordhoff, WN Atlas Productions, Groningen, the ۲۰۰۷ Netherlands

گنہ	ہیوادونہ	عمومیات					پہ ہلا بیلو سکٹورونو کی د بوختو وگرو فیصدی (۲۰۰۱کال)	
		مرکز	مساحت پہ کیلومتر مربع	د وگرو شمیر پہ ۲۰۰۶ کال کی	د وگرو گنوالی پہ یو کیلو متر مربع کی	کرنہ	صنعت	خدمتونه
۲۸	لیدیہ صحرا	العیون	۲۶۶،۰۰۰	۳۹۳،۸۳۱	۱.۵	—	—	—
۲۹	گنا	اکرا	۲۳۸،۵۳۳	۲۲،۴۰۹،۵۱۷	۹۴	۵۹.۴	۱۳.۰	۲۷.۶
۳۰	کامرون	یاوندہ	۴۷۵،۴۴۲	۱۷،۳۴۰،۷۰۲	۳۶	۶۹.۹	۸.۶	۱۳.۵
۳۱	کالگو برزاول	برازویل	۳۴۲،۰۰۰	۳،۷۰۲،۳۱۴	۱۱	۴۸.۶	۱۴.۸	۳۶.۶
۳۲	کالگو کینسا	کینسا	۲،۳۴۴،۸۵۸	۶۲،۶۶۰،۵۵۱	۲۷	۶۸.۰	۱۳.۵	۱۸.۵
۳۳	کینا	نایروی	۵۸۰،۳۶۷	۳۴،۷۰۷،۸۱۷	۶۰	۷۹.۶	۷.۰	۱۳.۴
۳۴	کومورن	مورونی	۲،۲۳۵	۱۳۱،۷۵۵	۳۳۷.۴	—	—	—
۳۵	کیپ وردی	پرایا	۴۰،۳۳	۴۶۹،۹۹۸	۱۰۵.۹	—	—	—
۳۶	گبون	لیرویل	۲۶۷،۶۶۸	۱،۴۴۴،۹۶۰	۵	۵۱.۸	۱۵.۱	۴۲.۱
۳۷	گامبیا	بانجول	۱۱،۲۹۵	۱،۶۶۱،۵۶۶	۱۴۵	۸۲.۱	۸.۰	۹.۹
۳۸	گینہ	کوناکری	۲۴۵،۵۵۷	۹،۶۹۰،۲۲۲	۳۹	۸۷.۲	۲.۱	۱۰.۸
۳۹	استواری گینہ	مالابو	۲۸۰،۵۱	۶۱۶،۴۵۹	۲۲	—	—	—
۴۰	یساو گینہ	یسایو	۳۶،۱۲۵	۱،۵۰۳،۱۸۲	۴۱.۶	—	—	—
۴۱	لسوتو	ماسرو	۳۰،۳۵۵	۲،۱۲۸،۱۸۰	۷۰.۱	—	—	—
۴۲	لیبریا	مونروویا	۱۱۱،۳۶۹	۳،۳۳۴،۵۸۷	۲۹.۹	—	—	—
۴۳	لیبیا	تریپولی	۱،۷۵۹،۵۴۰	۵،۹۰۰،۷۵۴	۳	۱۱.۶	۲۲.۱	۶۶.۳
۴۴	مادغاسکر	آنتاناناریوو	۵۸۷،۰۴۱	۱۸،۵۹۵،۴۶۹	۳۲	۷۸.۰	۶.۹	۱۵.۱
۴۵	مالاوی	لیلونگوه	۱۱۸،۴۸۴	۱۳۰،۱۳۲۶	۱۱۰	۶۸	۵.۱	۸.۱
۴۶	مالی	باماگو	۱،۲۴۰،۱۹۲	۱۱،۷۱۶،۸۲۹	۹	۸۵.۸	۲.۰	۱۲.۲
۴۷	مصر	قاہرہ	۱،۰۰۱،۴۴۹	۷۸،۸۸۷،۰۰۷	۷۹	۳۰.۸	۲۰.۱	۹.۱
۴۸	المغرب (مراکش)	ریاط	۴۴۶،۵۵۰	۳۳،۲۴۱،۲۵۹	۷۴	۶.۰	۳۴.۸	۵۹.۲
۴۹	موریتانیا	نواکشوت	۱،۰۲۵،۵۲۰	۳،۱۷۷،۳۷۸	۳	۵۵.۱	۱۰.۷	۳۴.۲
۵۰	موریش	پورت لوئیس	۲۰،۴۰	۱،۲۷۴،۱۸۹	۶۲۴.۶	—	—	—
۵۱	موزمبیق	ماپوتو	۸۰۱،۵۹۰	۱۹،۶۸۶،۵۰۵	۲۵	۸۲.۶	۸.۲	۹.۲
۵۲	نامیبیا	ویندهوک	۸۲۴،۲۹۲	۲،۰۴۴،۱۴۷	۲	۴۹.۳	۱۵.۷	۳۵.۰
۵۳	نائیجر	نیامی	۱،۲۶۷،۰۰۰	۱۲،۵۲۵،۰۹۴	۱۰	۸۹.۸	۳.۸	۶.۴
۵۴	نائیجریا	آبوجا	۹۲۳،۷۶۸	۱۳۱،۸۵۹،۷۳۱	۱۴۳	۴۳.۴	۶.۸	۴۹.۸

استرالیا



د استرالیا د موقعیت نقشه

په دې څپرکي کې لولو:

استرالیا، اقیانوسیه او انټارکټیکا

• موقعیت

- څلورخواوې

- د استرالیا کشف

• طبیعي جغرافیه

- غرونه

- سیندونه

- جهیلونه

- اقلیم

• سیاسي جغرافیه

• بشري جغرافیه

• اقتصادي جغرافیه

• مواصلاتي جغرافیه

• اقیانوسیه

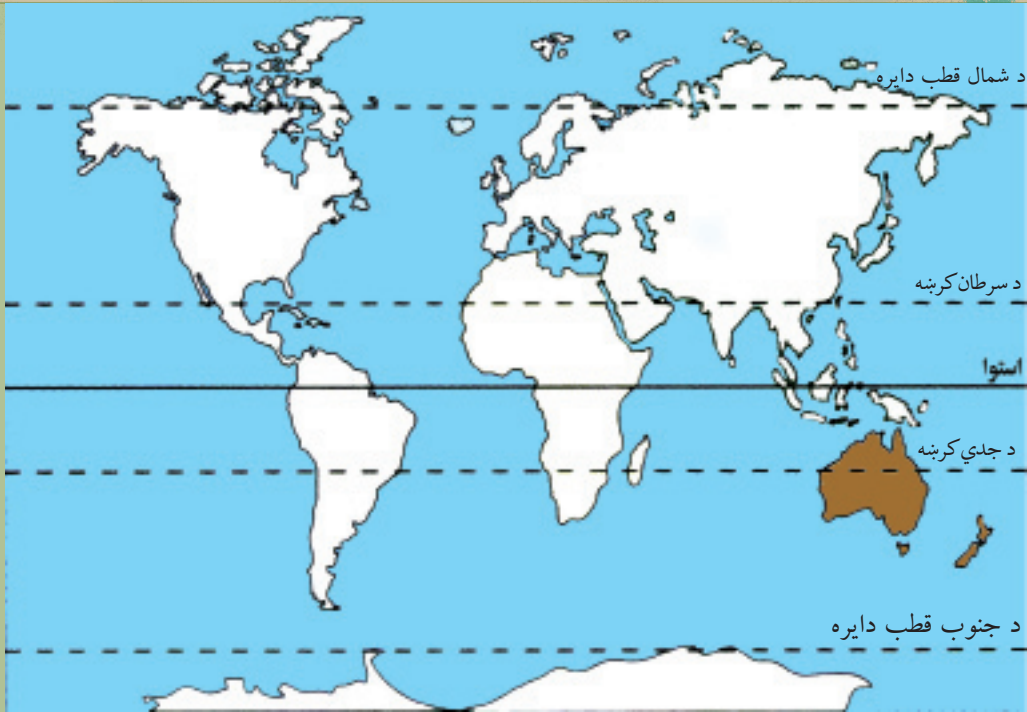
- اقتصادي حالت

- نوی زیلانده

• انټارکټیکا (سویلي قطب)

د څپرکي عمومي موخې

- هيله ده چې زده کوونکي به د دې څپرکي له لوستلو څخه وروسته لاندې علمي موخې تر لاسه کړي:
 - د استرالیا او اقیانوسیه د لویې وچې او سوېلي کنگل لویې وچې (انټارکتیکا) د جغرافیایي موقعیت سره بلدتیا.
 - د استرالیا او اقیانوسیه د لویې وچې د مهمو لوړو ژورو سره بلدتیا.
 - د استرالیا او اقیانوسیه د لویې وچې د سیاسي جغرافیې له حالت سره بلدتیا.
 - د استرالیا او اقیانوسیه د لویې وچې د بشري جغرافیې سره بلدتیا.
 - د استرالیا او اقیانوسیه د لویې وچې د اقتصادي جغرافیې سره بلدتیا.
 - د استرالیا او اقیانوسیه له مواصلا تي جغرافیې سره بلدتیا.
 - د سوېلي کنگل لویې وچې له اکتشافاتو سره بلدتیا.
- له زده کوونکو څخه هيله کېږي چې د دې څپرکي په لوستلو سره لاندې مهارتي موخې تر لاسه کړي:
 - د استرالیا، اقیانوسیه او سوېلي کنگل لویې وچې (انټارکتیکا) د جغرافیایي موقعیت پیژندل.
 - د استرالیا د نقشې پر مخ د مهمو غرونو، سیندونو او سمندرگیو ټاکل.
 - د استرالیا په لویه وچه کې د نفوسو د جغرافیایي ویش تفسیر.
 - د استرالیا د نقشې پر مخ د نفوسو د جغرافیایي ویش بنودل.
 - د اقیانوسیه د نقشې پر مخ د نفوسو د جغرافیایي ویش بنودل.
 - د استرالیا او اقیانوسیه د نقشې پر مخ د کاني مهمو شتمنیو ټاکل.



داسترالیا او نوي زیلاند د جغرافیایي موقیعت نقشه

استرالیا د ځمکې د کرې په کومه برخه کې موقیعت لري؟

الف. څلورخواوي:

د استرالیا کوچنی لویه وچه چې د ځینو په نظر یو لوی ټاپو دی، زیاته برخه (کابو $\frac{3}{4}$) یې دښته ده. استرالیا د ۱۲ او ۴۳ درجو جنوبي عرض البلدونو ترمنځ او د ۱۱۵ او ۱۵۴ ختیځو طول البلدونو ترمنځ موقیعت لري.

د استرالیا په شمال کې د تیمور سمندرګي (Timor Sea)، د ارافورا سمندرګي (Arafura Sea)، د کارپنتاریا خلیج (Gulf of Carpentaria) او د تورس آبناء (Str. Torres) موقیعت لری. په ختیځ کې یې د کورال سمندرګي (Coral Sea) او د تسمانیا سمندرګي (Tasmania Sea) او د استرالیا په سوېل کې د باس آبناء (Str. Bass) او د استرالیا خلیج پروت دي. دهند سمندر د استرالیا په سوېل او لویدیځ کې پروت دی. د استرالیا ټوله ساحلي کرښه ۲۵،۷۶۰ کیلومترو ته رسیږي. - استرالیا څرنگه او د چا له خوا کشف شوه؟

ب. د استرالیا کشف:

کابو پنځوس زره کاله د مخه لومړني خلک استرالیا ته راغلل. انګریزانو هغوی له (۱۷۸۹) کال څخه د ابورجینالس (Aboriginals) په نامه یاد کړي دي، چې دا یوه لاتیني اصطلاح ده او د اصلي یا بومی اوسیدونکو لپاره کارول کیږي. دا خلک له سوېل ختیځې اسیا څخه راغلي وو.

پنځوس زره کاله مخکې د خاورينو پلونو په وسيله چې د اسيا او استراليا په منځ کې وو، له همدې پلونو اولارو شخه خلکو او څارويو کولای شول له اسيا شخه استراليا ته لاړ شي. دا يوه څلويښت زره کلنه پروسه وه. وروسته چې د ځمکې کره توده شوه او کنگلونو په ويلي کيدو پيل وکړ، د سمندر د اوبو سطحه جگه شوه او پدې توگه استراليا د يوه ټاپو بڼه غوره کړه. په ۱۵۰ م کال کې د لومړي ځل لپاره يونانيانو د استراليا په باره کې ليکنې وکړې. هغوی دا وچه د تيرا استرالیس (Terra Australis) او يا سوېلي غاړو په نامه ياده کړه. خلک د هغې زيات مينه وال شول او ددې نابلدې سيمې په لټه کې شول.

په شپاړسمه او اوولسمه پېړۍ کې پرتگاليان، هسپانويان او هالنډيان له اسيا سره د سوداگرۍ علاقمند وو. د هغه وخت د سمندري زياتو مسافرتونو او کشفیاتو په اساس ووچې استراليا هم د اروپايانو له خوا کشف شوه. په ۱۶۰۶ م کال کې د هالنډيانو لومړنی بېړۍ د کارپنتاريا د خليج (Gulf of Carpentaria) پر غاړه د استراليا په شمال کې نوې گيني (New Guinea) ته مخامخ ودریده. ددې بېړۍ کپتان وليم جانسن (Willem Janszoon) بېرته جاوا (Java) ته وگرځيد. په ۱۶۱۶ م کال يوه بله هالنډي بېړۍ د شارک (Shark) خليج ته د استراليا په لويديځ کې ورسیده. په وروستۍ يوه نيمه پېړۍ کې هالنډي، فرانسوي او انگليسي بېلابېلو خلکو استراليا ته، چې په هغه وخت کې د نوې هالنډ New Holland په نامه يادیده، مسافرت وکړ، خو په هغه وخت کې د استراليا د زياتې پيژندنې او يا مستعمره کولو احساس نه و. لومړنی برتانوي چې استراليا ته ورسيد د يوې بېړۍ کپتان و د وليم دامپير (William Dampier) په نامه چې په ۱۶۸۸ م کال استراليا ته ورسيد.


ابيل تاسمان (۱۶۴۲ ميلادي) هالنډی سمندرگرځيدونکی او د استراليا د لويې وچې يو کاشف



په ۱۷۷۰ م کال جیمز کوک انګلیسي لومړنی اروپایي و چې د استرالیا ختیځو غاړو او سواحلو ته ورسید او د بوتاني Botany دخلیج (اوسنی سدنی Sydney) له لارې پر ختیځو غاړو تېر شو او هغه یې د نوي سوېلي وېلز (New South Wales) په نامه یادې کړي.

د ۱۸۰۰ م کلونو په پیل کې سدني پر یوه سوداګریز مرکز د بدلیدلو په حال کې و. همدارنگه داسترالیا د نورو برخو د کشف لپاره هڅې روانې وې.

د ۱۸۹۰ م کال په شاوخوا کې دا نظر چې بېلابېلې مستعمرې پر یوه لوی فدرالی هېواد باندې بدلې شي، منځ ته راغی چې په پای کې د ۱۹۰۱ م کال د جنوري په لومړۍ نېټه په استرالیا کې ایالتي سیستم را منځ ته شو او په حقیقت کې له انګلستان څخه د استرالیا د خپلواکۍ ورځ ده.



خو تر ډېره وخته بورې استرالیا په یوه ډول د انگلستان د مستعمرې په توګه پاتې شوه، چې ورو ورو یې د یوه خپلواک هېواد په توګه ځای ونیو.

جیمز کوک (۱۶۰۶ م) انګلیسي کپتان او یو د استرالیا د لوېې وچې له کاشفینو څخه



د ټولګي دننه فعالیت:

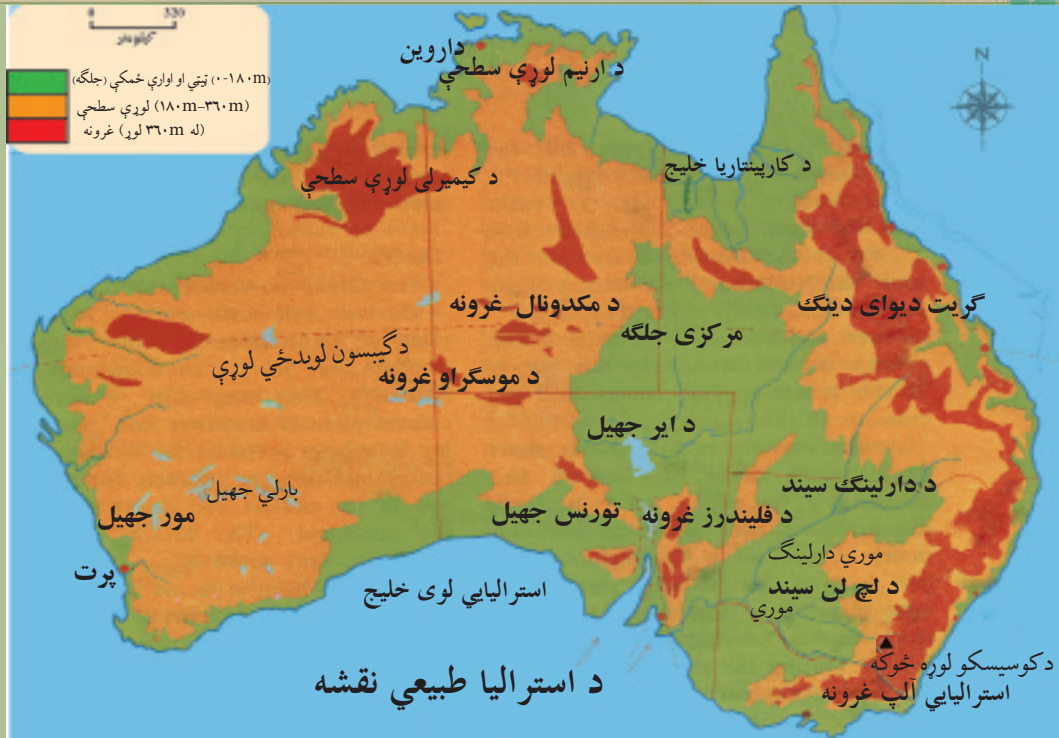
زده کوونکي دې په دوو ډلو وویشل شي. لومړۍ ډله دې د استرالیا جغرافیایي موقعیت د نقشې پرمخ تثبیت او وښيي. دویمه ډله دې د هغو هېوادونو او اشخاصو نومونه، چې د استرالیا په کشف او موندنه کې یې ونډه درلوده، ولیکي او نوروته دي یې بیان کړي.

پوښتنې:

- ۱- استرالیا یو لوی ټاپو دی.
- ۲- استرالیا د هند سمندر په ختیځ کې پرته ده.
- ۳- د استرالیا کشف د زیاتو مسافرتونو او سمندري کشفیاتو پایله وه، چې د اروپایانو په وسیله ترسره شول.
- ۴- استرالیا خپله خپلواکي په ۱۹۰۱ م کال له انگلستان څخه ترلاسه کړه.

له ټولګي څخه بهر فعالیت:

د انټرنټ یا کتابتون څخه د ګټې اخستنې په اساس د سمندري کشفیاتو او د استرالیا د کشف په باره کې یو مخیزه مقاله ولیکئ.



د استرالیا طبیعی حالت څرنگه دي؟

استرالیا چې داقیانوسیه ډبره کوچنۍ لویه وچه ده، له ټولو ټاپوګانو سره په مجموعي توګه په سوېلي نیمه کره کې موقعیت لري. د استرالیا هېواد له جغرافیایي نظره کولای شو په څلورو بېلابېلو سیمو وویشو:

- ۱- منځنۍ دښتې، چې نسبتاً دځمکې لاندې زیاتې اوبه لري.
 - ۲- لویدیځې لوړې (فلات) چې ډېر یې بیا بانونه او دښتې دي.
 - ۳- ختیځه ساحلي برخه چې په حقیقت کې د گریټ دیوای دینګ (د اوبو لویه زیرمه) د غرونو ختیځې لمنې دي.
 - ۴- ختیځ غرونه یا لوړې چې په (گریټ دیوای دینګ) مشهورې دي.
- د استرالیا طبیعی جغرافیه په څو بېلو بېلو برخو کې په لاندې ډول مطالعه کوو:

الف. غرونه:

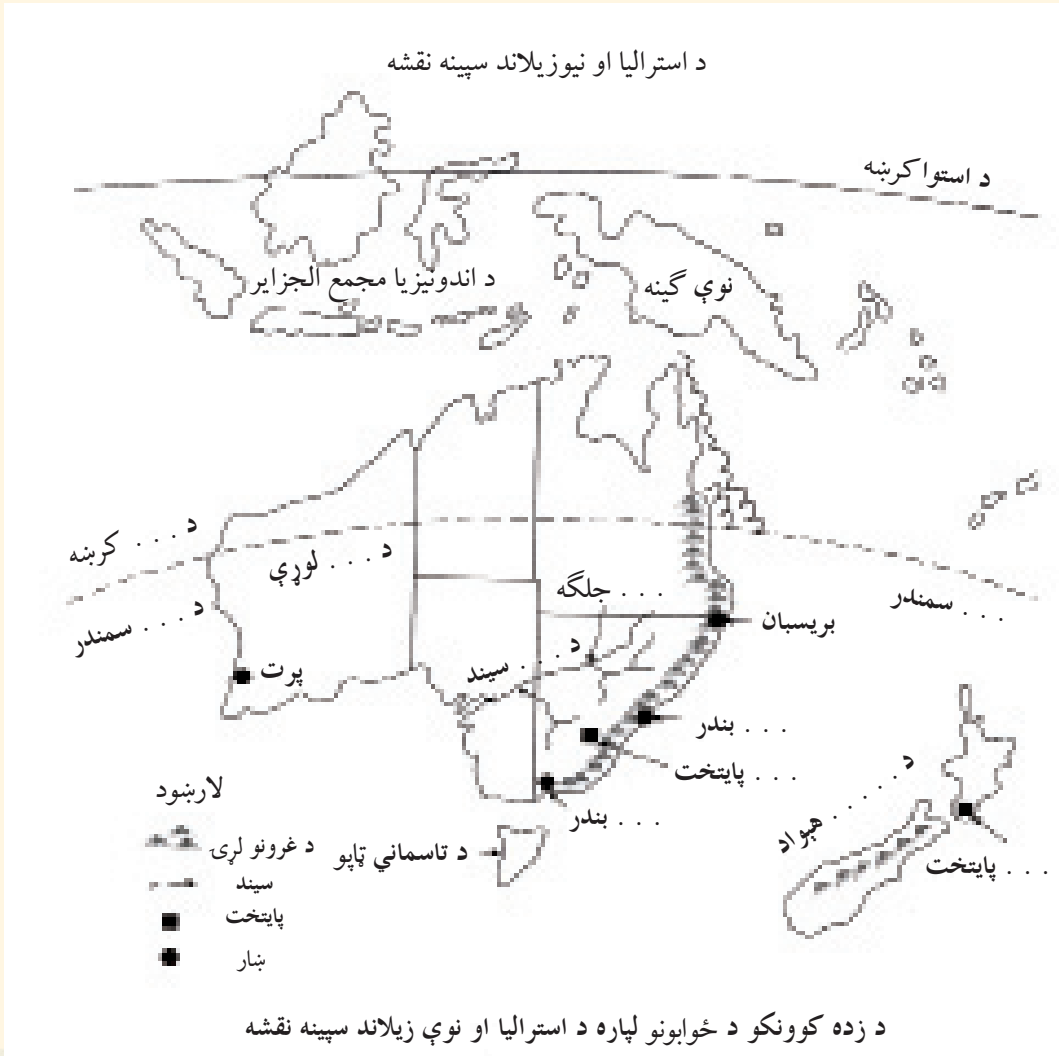
- د استرالیا زیاتره غرونه په کومو برخو کې پراته دي؟
د استرالیا په ختیځ کې د گریټ دیوای دینګ (Great Dividing) په نوم مشهور غرونه شته، چې له ۳۰۰۰ کیلو مترو څخه زیات اوږدوالی لري. د غرونو دا لړۍ د تسمانیا (Tasmania) له ټاپو څخه په سوېل کې پیل کیږي او د کپ یورک (Cape York) تر ټاپووزمې په شمال کې غزیدلي دي. د غرونو دا

لړۍ چې د منځني جگوالي لرونکي غرونه او لوړې سطحې لري، د سیندونو په وسیله سره جلا شوي دي. نوموړو غرونو خپلې لمنې د ختیځو سواحلو په لور او د لویدیځ په لور تر هوارو سیمو پورې پراخه کړي دي. د ګریت دیوای دینګ له غرونو څخه زیات لوی او واړه سیندونه سرچینه نیسي او آرام سمندر ته توپیري. د استرالیا نور غرونه د استرالیا یې الپ (Australian Alps) په نامه شهرت لري، چې په حقیقت کې د (دیوای دینګ) د غرونو یوه برخه ګڼل کېږي. دا غرونه چې د استرالیا په سوېل ختیځ کې پراته دي، د سوېلي نوي ولز (New South Wales) په سیمو او د ویکتوریا (Victoria) په ختیځه سیمه کې یې لوړې سطحې جوړې کړې دي. ددې غرونو ډېره لوړه څوکه کوسیسکو (Kosciusko) ده، چې (۲۲۳۱) متره لوړوالی لري.

هغه غرونه چې د استرالیا د ختیځو سیمو د اوبو سرچینه ده او پر ګڼو ځنګلونو پوښل شوي دي.



د استرالیایي الپ غرونه د تفریح او استراحت لپاره بڼې سیمې لري او هم یې د اوبو بڼې سرچینې جوړې کړيدي. په دې سیمه کې ډېر ملي بڼونه شته دي چې د ژمني سپورت (د سکې لوبو) لپاره په استرالیا کې یوازینی سیمه گڼل کېږي. همدارنگه د فلیندرز (Flinders) غرونه هم د دیوای دینګ د لویو غرونو یوه څانګه ده، چې په سوېلي استرالیا کې پراته دی.



د استرالیا په منځنیو برخوکې د مک دونل (Macdonnell) غرونه او د موسگراو (Musgrave) غرونه د یادولو وړ دي. د استرالیا په لویدیځ کې هم مشهور غرونه شته دي چې د هامرسلي (Hamersley) په نامه یادېږي او لوړه څوکه یې بروس (Bruce) ده، چې د ۱۲۰۰ مترو څخه زیات لوړوالی لري. د استرالیا په شمال کې مشهورې لوړې سطحې شته، چې د کیمبرلي (Kimberley Plateau) او ارنیم (Arnhem Land) په نامه شهرت لري او لوړوالی یې له (۸۰۰) مترو څخه زیات نه دی.

د ټولګي دننه فعالیت:

زده کوونکي دې په ډلو وویشل شي، هره ډله دې له لاندینو فعالیتونو څخه یو پای ته ورسوي او د خپل فعالیت پایله دې نورو ته وړاندې کړي.

- ۱- د استرالیا څلور بېلابېلي سیمې دې د جغرافیې له نظره د نقشې پرمخ تثبیت او وښيي.
- ۲- د ګریت دیوای دینګ دغرونو د څانګو نوم دې واخلي او د نقشې پرمخ دي یې وښيي.
- ۳- د استرالیایي الپ د غرونو اقتصادي اهمیت دی توضیح کړي.
- ۴- د هغو غرونو چې د استرالیا په لویدیځ او شمال کې موقعیت لري، نوم واخلي او د نقشې پرمخ یې وښيي.

پوښتنې:

- ۱- استرالیا په څو او کومو جغرافیایي سیمو کولای شو وویشو؟
- ۲- له ملي بڼو څخه زموږ مقصد څه دی؟
- ۳- د استرالیا غرونه د خلکو پر اقتصادي او ټولنیز ژوند څه اغېزه کولای شي؟
- ۴- ستاسو په نظر په استرالیا کې غرونو د هغه هېواد خلکو ته څه ستونزې او څه اسانتیاوې پیدا کړي دي؟

له ټولګي څخه بهر فعالیت:

د استرالیا او نوي زیلانډ سپینه نقشه کاپي او یا یې په خپلو کتابچو کې رسم کړئ او تش ځایونه یې ډک کړئ.



ستاسو په نظر ولې په استرالیا کې زیات سیندونه شته دي؟

په دې لوی ټاپو کې د ډېرو لوړو برخو د شتون او د هغه د ځانګړي جغرافیایي موقعیت له امله چې له هرې خوا یې سمندرونه چاپېر شوي دي، په دې ټاپو کې اوربنت زیات دی. له همدې امله پکې ډېر سیندونه بهیري چې زیاتره یې په آرام سمندر یا د هند په سمندر کې توپیري. د استرالیا مهم سیندونه عبارت دي له:

دارلینګ (Darling)، موري (Murray)، او لچ لن (Lachlan) څخه. دا سیندونه چې د لوی دیوای دینګ له ختیځو سیمو څخه سرچینه نیسي، په پای کې د استرالیا لوی خلیج ته توپیري. د استرالیا د سیندونو ډېر لوی سیستم د موري - دارلینګ سیستم دی، د موري سیند که څه هم د دارلینګ له سیند څخه لنډ دی خو ددې سیستم له مهمو سیندونو څخه شمیرل کېږي، ځکه د دارلینګ نه ډېرې اوبه لري. د موري د سیند اوږدوالی ۲۵۷۰ کیلومترو او د دارلینګ د سیند اوږدوالی ۲۷۳۰ کیلومترو ته رسېږي. ددې سیند د اوبو اخیستونکي حوزې مساحت ۱۸۷۲ زره کیلومتره مربع ته رسېږي. د موريا دوهمه لویه څانګه د مارامیدجي (Murrumbidgee) سیند، چې ۱۶۹۰ کیلومتره اوږدوالی لري جوړوي. ټول هغه سیندونه چې د موري - دارلینګ په سیستم کې شامل دي نامنظم دي. ددې سیندونو زیاتره اوبه

د بارانونو په واسطه او تریوې اندازې پورې د استرالیا د الپ د واورو د ویلي کیدو په اساس منځ ته راځي. له همدې امله د اوبو ډېر زیات د بت په دوبي کې وي. یعنې کله چې د اوبو سطحه د موري او دارلینګ په سیندونو کې لوړه شي، پرهوارو دبتو وراوړي او کله هم د تخریباتو او ویجاړولو لامل ګرځي. په دې وخت کې سیندونه له ځانه سره ډېر تخریب شوي توکي او د ډبرو ټوټې وړي، چې د بیړۍ چلولو کارونه له ستونزو سره مخامخ کوي. د موري - دارلینګ د سیستم سیندونه اقتصادي اهمیت هم لري، ځکه د هغو له اوبو څخه د ځمکو په خړو بولو کې ګټه اخیستله کیږي.

په شمال او شمال ختیځ کې مهم سیندونه عبارت دي له: میشل (Mitchell) او فلیندرز (Flinders) څخه چې د ګریت دیوای دینګ د غره له شمال ختیځ څخه سرچینه اخلي او دکارینتاریا خلیج ته توپیری. همدارنګه د ویکتوریا Victoria، دلی (Daly) او اورد (Ord) سیندونه چې د استرالیا په شمال کې بهیږي او د تیمور سمندرګي ته توپیری د یادولو وړ دي.



د لویدیځې استرالیا ټولې برخې د اوبو له کمښت سره مخامخ دي. یوازې د هغې ډیرې لږې پرتې سیمې په ځانگړې توگه لنډې لمنې یې د خپلو لوړو برخو سره ډېر خوږونه لري، چې د بارانونو په وخت کې د اوبو نه ډکېږي. د کال په زیاتره موده کې دا خوږونه وچ وي، ځکه حتی ددې برخې په ډیرو لږو پرتو سیمو کې وچکالي په کال کې تر ۳۰۰ ورځو پورې دوام مومي. د استرالیا د سطحې اوبو سرچینې سره له دې چې زیاته برخه یې تر وې دي د خلکو اړتیا نه پوره کوي، خو استرالیا د ځمکې لاندې اوبو ډېرې زیرمې لري. په دې لویه وچه کې د ځمکې لاندې اوبو څخه د گټې اخیستنې لپاره بېلابېلې حوزې تر مطالعې لاندې نیول شوي دي، چې د صنایعو او څرخایونو د اړتیا وړ اوبه برابروي.



دا اوبه د ډېر منراليزه كيدو له امله د څښلو او د كرونډو د خړوبولو لپاره دومره گټورې نه دي. (د ځمكې لاندې اوبو) ډېره لويه حوزه په نړۍ كې هغه پراخه حوزه ده، چې د كارينتاريا له خليج څخه يې د دارلينگ تر حوزې پورې پراختيا موندلې ده. په استراليا كې په ټوليزه توگه د ٦٥٠٠ په شاوخوا كې د ځمكې لاندې اوبو څاگانې شته دي.

د ټولگي دننه فعاليت:

زده كوونكي دې په ډلو ووېشل شي، په دې هكله دې چې ولې د استراليا سيندونه غير ثابت رژيم لري بحث وكړي او دخپل بحث نتيجه دې نوروته وړاندې كړي.

پوښتنې:

- ١- ايا د ځمكې لاندې اوبه په استراليا كې د خلكو ستونزې رفع كولاى شي؟
- ٢- د هغو سيندونو نوم واخلي چې د استراليا په شمال او شمال ختيځ كې پراته دي.
- ٣- د استراليا د سيندونو د اوبو بهير دكال په كوم موسم كې ډېر وي.
- ٤- ولې د مورې - دارلينگ د سيندونو سيستم نامنظمه دى؟
- ٥- د مورې - دارلينگ سيندونه كومې اقتصادي گټې لري؟

له ټولگي څخه بهر فعاليت:

د استراليا د لوبې وچې نقشه رسم كړئ او په هغې كې سيندونه په ځانگړې رنگ سره په نښه كړئ او نوروته يې وړاندې كړئ.



د استراليا ډير لوی مالگين جهيل کوم دی؟

له استراليا څخه پرته د اقيانوسيا په نورو ټاپوگانو کې مهم جهيلونه نشته. ددې ټاپوگانو د طبيعي جوړښت شرايط داسې دي چې د جهيلونو د پيداښت لپاره يې لارې چارې نه دي برابرې کړي. د استراليا له مهمو جهيلونو څخه يو د اير (Eyre) جهيل دی چې په استراليا کې ډير لوی مالگين جهيل دی. دا جهيل د استراليا د سوېلي ايالت په شمال لويديځ کې د سيمپسون (Simpson) د دښتې په سوېل کې پروت دی.

د اير جهيل له دوو برخو څخه جوړ شوی دی چې يوې دشمالی اير لوی جهيل او بل يې د سوېلي اير کوچنی جهيل دی او د يوه طبيعي کانال په وسيله سره نښتي دي. د اير جهيل دملي پارک په سيمه کې پروت دی. د استراليا ډيره ژوره نقطه (کابو ۱۵ متره د سمندر له سطحې څخه ټيټه) هم په همدې جهيل کې پرته ده.

د اير جهيل په سوېل کې د تورنس (Torrense) او گيردندر (Gairdner) په نومونو نور جهيلونه هم شته دی چې د ځمکې سطحه، يعنې بستر يې هم د مالگي په وسيله پوښل شوی دی. کله د ډبرې تودوخې له امله ددې جهيلونو اوبه براس کېږي او وچېږي. د استراليا نور جهيلونه چې د استراليا په سوېل لويديځ او لويديځ کې پراته دي، عبارت دی له: کارنگي (Carnegie)، بارلي (Barlee)، مور (Moore) او داسې نورو څخه.



د ټولګي دننه فعالیت:

د استرالیا نقشې ته وګورئ هغه جهیلونه چې نومونه یې واخیستل شول د نقشې پرمخ یې په نښه او وښیاست.

پوښتنې:

- ۱- د استرالیا ډېره ټیټه نقطه په کوم جهیل کې پرته ده؟
- ۲- د استرالیا د مهمو جهیلونو نومونه واخلي.
- ۳- څرنگه د استرالیا دځینو جهیلونو د ځمکې سطحه او یا بستر د مالګې په واسطه پوښل شوی دی؟

له ټولګي څخه بهر فعالیت:

د استرالیا جهیلونه دافریقا له جهیلونو سره پرتله کړئ، توپيرونه او ورته والی یې په څو کرښوکې ولیکئ.

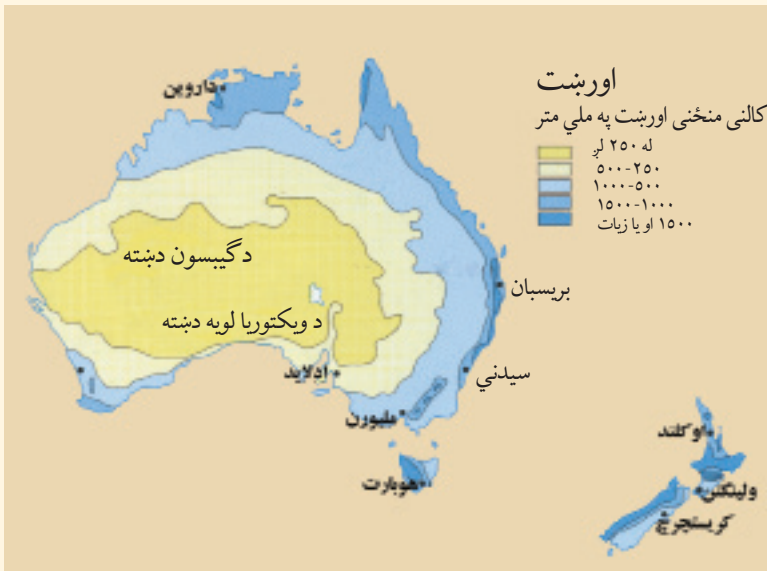


پورتی نقشې ته وگورئ. د استرالیا اقلیم څرنگه دی؟

په استرالیا کې د فصلونو بدلون ځکه منځته راځي چې د مرغومي د میاشتې په لومړي ورځ لمر د مرغومي پر دایرې (د سویلي عرض البلد په $23\frac{1}{2}$ درجو) باندې عمود لگيږي نو ځکه په سویلي نیمه کره کې اوږی پیل کیږي. څرنگه چې استرالیا په سویلي نیمه کره کې موقعیت لري نو ځکه هلته د اوږي موسم وي. برعکس په شمالي نیمه کره کې ژمي وي چې دا موضوع د ځمکې د محور د کوروالي (میلان) تابع دی. که چېرې په شمالي نیمه کره کې اوږی وي په جنوبي نیمه کره کې به د ژمي موسم وي.

د استرالیا د اقلیم یوه ډیره مهمه ځانگړنه هلته د لمر لرونکو ورځو ډېروالی دی. په عمومي توگه استرالیا یو تود هېواد شمېرل کېږي، د جدې کرښه یې له منځ څخه تیرېږي تود دوی او معتدله ژمي لري. د استرالیا زیاته برخه تر استوا لاندې اقلیم (سب تروپیک) او یوه شمالي برخه یې استوایي اقلیم لري. د استرالیا د مساحت لږ تر لږه په دريو کې دوه برخې داسې وچه ده چې د کښت او کروندې وړتیا نلري. د استرالیا په شمال کې، دوی موسمي بارانونه لري، خو ددې هېواد په سوېل کې اورښت لرونکي بادونه، لویدیځ بادونه دي چې د ژمي په اوږدو کې لگيږي. د استرالیا په ځینو سیمو کې اورښت ډېر لږ دی او امکان لري چې د وچکالیو سبب شي. د استرالیا $\frac{3}{4}$ د شاوخوا په کال کې د ۲۵۰ ملي مترو څخه لږ اورښت لري چې په دې سیمو کې یې کرڼه ډېره کمه ده. د استرالیا له $\frac{1}{3}$ نه لږه برخه، چې زیاتره یې غرنۍ برخې دي په کال کې د ۵۰۰ ملي مترو په شاوخوا کې اورښت لري.

- استرالیا د آب او هوا له نظره کولای شو په څو سیمو وویشو:
- ۱- حاره یي توده اب او هوا له لاندې دوبي سره په شمال کې.
 - ۲- معتدله توده اب او هوا دیوه وچ فصل سره د کویزلند په سیمه کې.
 - ۳- توده معتدله او لنده اب او هوا د جنوبي ویلز په څنډه او ویکتوریا کې.



باید یادونه وکړو چې د استرالیا زیاتې مرکزي او لویدیځې برخې صحراوي اقلیم لري.

منبع: د پوهاند عارض د اقلیم پېژندنې کتاب، ۱۳۸۶.

د ټولګي دننه فعالیت:

د استرالیا د آب او هوا نقشي ته وګورئ او اقلیمي بېلې بېلې سیمې پکې په نښه او وښایاست.

پوښتنې:

- ۱- د استرالیا کومې سیمې صحراوي اقلیم لري؟
- ۲- د استرالیا کومې سیمې په منځنۍ توګه زیات کلنی اورښت لري؟
- ۳- ولې د استرالیا اب او هوا توده ده؟

له ټولګي څخه بهر فعالیت:

په دې هکله چې ولې د استرالیا موسمونه د شمالي نیمې کرې د فصلونو معکوس دي، معلومات راټول او وړاندې یې کړئ.



استرالیا څرنګه اداره کېږي؟

استرالیا مشروطه شاهي فدرالي دولت یا پارلماني پاچاهي ده، چې د انگلستان ملکه یې په تشریفايي توګه د دولت په سر کې ده. خو استرالیا په حقیقت کې یو فدرالي دولت دی چې اووه ایالتي پارلمانونه لري او هر پارلمان د هغه ایالت اړوند کارونه سرته رسوي او یو عمومي او ګډ پارلمان د استرالیا په مرکز، یعنی د کانبرا په ښار کې شتون لري، چې د هېواد ټولې دندې سرته رسوي. دارنګه حکومت د امریکا له متحده ایالاتو او کاناډا د فدرالي حکومت سره ورته والی لري. ددې هېواد رسمي ژبه انګلیسي او پلازمینه یې د کانبرا ښار دی. د نوموړي هېواد زیاتره خلک د عیسوي دین پیروان دي. که د استرالیا سیاسي نقشې ته وګورئ، وینئ چې استرالیا په شپږو ایالتونو او دوه سیمو ویشل شوې، چې عبارت دي له:

- ۱- نیوساوت ولز (New South Wales) (جنوبي نوی ولز) چې په هغه کې د استرالیا دوه لوی ښارونه یعنی سدني (Sydney) چې د همدې ایالت مرکز دی او کانبرا (Canberra) چې د استرالیا پلازمینه ده موقعیت لري. د سدني ښار، د استرالیا ډېر لوی ښار، ډېر مهم بندر او ددې هېواد مالي مرکز دی.
- ۲- د ویکتوریا (Victoria) ایالت، چې مرکز یې ملبورن (Melbourne) دی.
- ۳- کوینزلند چې مرکز یې بریسبان (Brisban) دی.
- ۴- جنوبي استرالیا چې مرکز یې د ادلاید (Adelaid) ښار دی.

- ۵- لويديځه استراليا چې مرکز يې د پرت (Perth) ښار دی.
- ۶- تسمانيا چې مرکز يې هوبارت دی او يو ټاپو دی چې د جنوبي نوي ولز په جنوب کې موقعيت لري. دوه خپلواکي سيمې يې د پلازميني کانبرا سيمه او شمالي سيمه ده.
- د استراليا حکومت په ۱۹۰۱م کال کې خپلواکي ترلاسه کړې ده. د استراليا فدرالي پارلمان د ولسي جرگې چې ۱۴۸ غړي لري او دسنا (Senate) د مجلس چې ۷۶ غړي لري، لرونکی دی.

د ملبورن او سډني د ښارونو تصوير



د ټولگي دننه فعاليت:

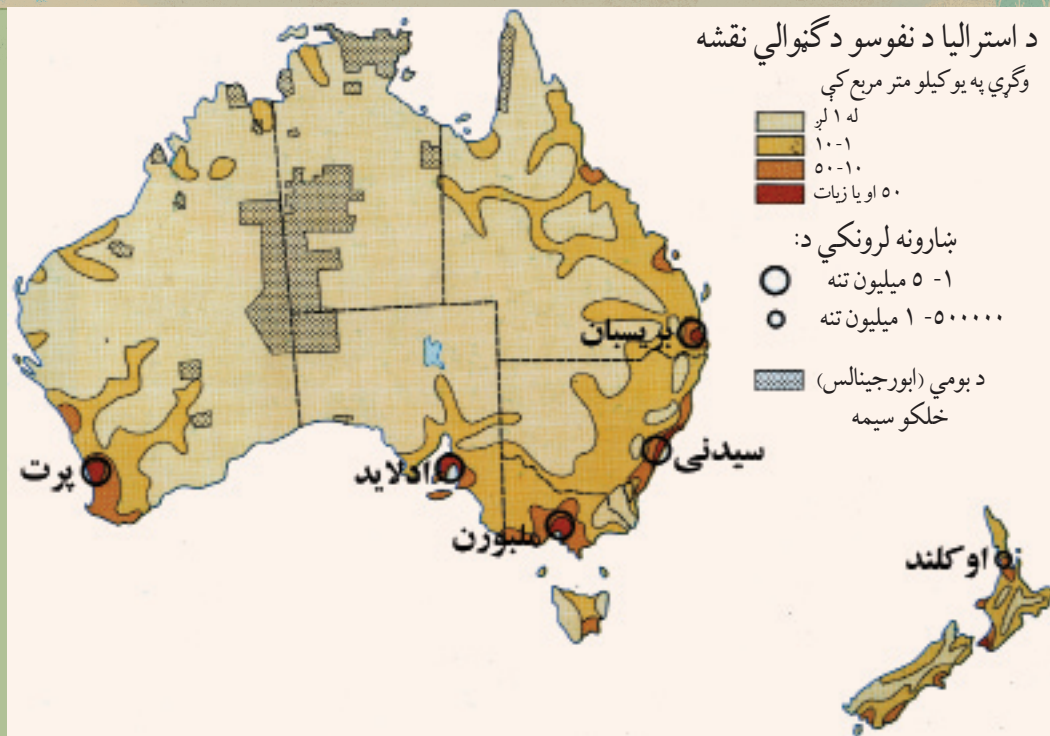
زده کوونکي دې په ډلو وویشل شي، هره ډله دې د استراليا د حکومت په ډول (طرز) بحث وکړي او د هرې ډلې استازي دې د خپل بحث نتیجه خپلو ټولگيوالوته بيان کړي.

پوښتنې:

- ۱- استراليا په څو ايالتونو ویشل شوې ده، نوم يې واخلي.
- ۲- استراليا په کوم کال اوله کوم هېواد څخه خپله خپلواکي ترلاسه کړه؟
- ۳- د استراليا د حکومت ډول څرنگه دی؟
- ۴- د استراليا پلازمينه په کومه برخه کې موقعيت لري؟

له ټولگي څخه بهر فعاليت:

په خپلو کتابچوکې داستراليا سياسي نقشه رسم کړئ او د ايالتونو نومونه يې په اړوندو ځايونو کې وليکئ.



د استرالیا د نفوسو او نژاد په هکله څه پوهیږئ؟

په دې برخه کې، لومړی د استرالیا د نفوسو او نژاد او وروسته د استرالیا د خلکو له دین او ژبې سره آشنا کيږئ. د استرالیا لومړنی استوګن هغه بومیان وو، چې د اسیا له سوېل ختیځ څخه هغه ځای ته کډوال شوي وو. کله چې اروپایان له ۱۸۳۰ م کال څخه وروسته استرالیا ته ورغلل په دې لوبې وچې کې له نیم میلیونو څخه لږو بومي خلکو ژوند کاوه. د استرالیا بومي خلک توربخن پوستکی لري چې په (۵۵۰) قبیلو ویشل شوي وو او هره قبيله له څو طایفو څخه جوړه شوې وه. د اروپایي سپین پوستکو د کشفیاتو له پیل سره چې دوه سوه کاله دمخه ترسره شول او د هغوی او د استرالیا د بومیانو ترمنځ د جګړې په نښتو سره د بومیانو د نفوسو شمېر کم شو. په دې وروستیو کې د استرالیا د بومیانو شمېر کابو ۶۰۰۰۰ تنو ته رسیده، خو اوس د هغوی د نفوسو وده د ژوند د ښو شرایطو په اساس یو ځل بیا زیاته شوې او شمېر یې زیات شوي دي.

د استرالیا نفوس تر ۱۹۲۰ م کاله پورې ۵ میلیونو تنوته رسیده. غیر انګلیسي مهاجرینو هم د استرالیا نفوس زیات کړل او په ۱۹۴۵ م کال کې یې وګړي (۷,۵) میلیونو تنوته ورسیدل، په داسې حال کې چې د هغوی یوازې نیم یې انګلیسي وو.

د استرالیا نوي مهاجرین له المان، هالنډ، ایتالیا، پولنډ او داسې نورو هېوادو څخه ورغلي دي. په استرالیا کې په ۲۰۰۸ م کال کې له ۲۰ میلیونو څخه زیاتو خلکو ژوند کاوه چې د نفوسو ګڼوالی یې په منځنۍ کچه په هر کیلومتر مربع کې ۳ تنو ته رسیده.

استرالیا یو له هغو هېوادو څخه دې چې ډېری خلک یې په ښارونو کې ژوند کوي. د استرالیا په سلوکې د

۸۵ په شاوخوا کې وگړي په څو مهمو مرکزونو کې استوگنه لري، په داسې حال کې چې د استرالیا په کلیو او بانډوکې پراخې سیمې له اوسیدونکو څخه تشې دي. د استرالیا د وگړو لږترلږه له شپږو ملیونو څخه زیات په دوو لویو ښارونو سډني او ملبورن کې ژوند کوي. لکه څرنګه چې مو د مخه یادونه وکړه پرته له بومي خلکو څخه د استرالیا د خلکو په سلوکې د (۹۰) په شاوخوا کې اروپایي سپین پوستکي (په تېره انگلیسان)، کابو ۷ په سلوکې اسیایان او کابو یو په سلوکې بومیان اونور جوړوي. سربېره پردې په دې ځای کې (دوه رګه) یاګله نژاد، چې له سپین پوستکو اوبومي خلکو څخه جوړشوي، د یادولو وړ دی.

د استرالیا د بومي د ماشومانو یو تصویر



د ټولګي دننه فعالیت:

- د استرالیا د نفوسو د ګڼوالي نقشې ته وګورئ او دې لاندې پوښتنوته ځواب ورکړئ:
- ۱- په عمومي توګه د استرالیا په کومه برخه کې د نفوسو ګڼوالی زیات دی؟
 - ۲- ستاسو په نظر ولې په هغه ځای کې د نفوسو ګڼوالی زیات دی؟

پوښتنې:

- ۱- د استرالیا بومیان له کوم ځای څخه استرالیا ته ورغلي او اوس د هغو شمېر څو تنوته رسیري؟
- ۲- د استرالیا د اوسنیو نفوسو اکثریت کوم خلک تشکیلوي؟
- ۳- د استرالیا نفوس او مساحت له افغانستان سره پرتله او خپل نظر د هغو په باره کې وویاست.

له ټولګي څخه بهر فعالیت:

د استرالیا بومیان د نفوسو او اروپایي سپین پوستکو مهاجرینو د ځانګړنو په هکله معلومات راټول کړئ او خپلو ټولګیوالوته یې توضیح کړئ.



په استرالیا کې کوم دين ډير پيروان لري؟

په استرالیا کې زیاتره (ډیره کي) خلک عیسوي دي. پرته له عیسوي دين د ابتدايي مذهبونو پيروان، بت نمانځونکي او نور هم د استرالیا او اقیانوسې په ټاپوګانو کې لیدل کېږي. د اسلام د دين پيروان هم په هغه ځای کې شته دي چې په اقلیت کې دي، یو شمېر یهودیان هم په دې لویه وچه کې میشت دي.

د استرالیا رسمي ژبه انګلیسي ده. په استرالیا او د اقیانوسې په نورو ټاپوګانو کې بیلابیلې ژبې شته دي چې ځینې دا ژبې له یوې ریښې څخه دي او ځینې یې هم یو له بله څخه ډېر توپیر لري. باید یادونه وکړو چې د انګلیسانو اوږده استوګنه ددې لویې وچې په غوره ټاپوګانو کې او په ځانګړې توګه په استرالیا او نوي زیلانډ کې ددې سبب شوې چې انګلیسي ژبه په اقیانوسیه کې او په ځانګړې توګه په استرالیا او نوي زیلانډ کې عمومیت ومومي. د اقیانوسې د ټولو بومي ژبو په منځ کې (پولي نزي) زیات ویونکي لري.

په استرالیا کې د دینونو او د هغو د پیروانو په هکله د اضافي معلوماتو جدول

پيروان يې په فيصدي	دين
۶۸	عیسویت
۲,۱	بودیزم
۱,۷	اسلام
۰,۴	هندوايزم
۲۷,۸	نور مذهبونه

د ټولګي دننه فعالیت:

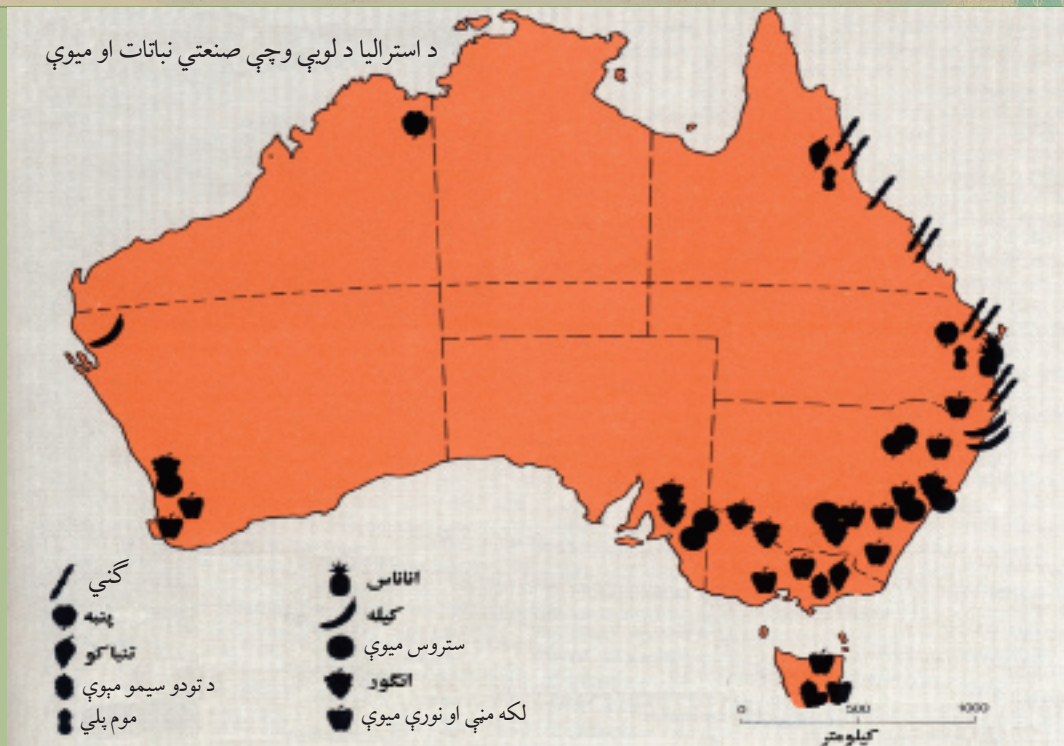
زده کوونکي دې په دوو ډلو وویشل شي. لومړۍ ډله دې په استرالیا کې د دینونو په هکله او دویمه ډله دې د ژبو په باره کې بحث وکړي او د بحث پایله دې خپلو ټولګیوالو ته بیان کړي.

پوښتنې:

- ۱- د استرالیا رسمي ژبه کومه ده او ستاسو په نظر ولې دا ژبه د رسمي ژبې په توګه ټاکل شوې ده؟
- ۲- د استرالیا د دینونو د نقشې څخه په ګټې اخیستې سره وویاست چې کوم دین په استرالیا کې زيات پیروان لري او ولې؟
- ۳- ستاسو په نظر په استرالیا کې د اسلام دین پیروان اصلاً له کومو اسلامي هېوادونو څخه هغه ځای ته مهاجر شوي دي؟

له ټولګي څخه بهر فعالیت:

د خپلو دوستانو او خپلوانو په مرسته په استرالیا کې د مهاجرو افغانانو په هکله معلومات ترلاسه کړئ چې افغانان او نور مسلمانان د خپلو دیني فرایضو د ادا کولو لپاره هلته څه امکانات لري؟



د استرالیا د اقتصادي پرمختګ نښې نښانې په څه کې وینئ؟

استرالیا چې لویدیځ کلتور لري، داسې هېواد دی چې د ازاد بازار د اقتصاد سیستم لري او پرمخ تللی هېواد دی. دیو تن کلنی عاید یې په منځنۍ توګه له ۲۳ زرو امریکایي ډالرو څخه زیات دی. ددې هېواد د چټک اقتصادي پرمختګ نښې په دې کې دي چې له یوه کرنیز حالت څخه په چټکۍ سره د صنعتي کیدو په حالت کې دی. په دې معنا چې په ۱۹۷۵م کال کې په سلوکې کابو ۱۵ خلک د کرنې په برخه کې بوخت وو او په اوسني وخت کې دا شمېره په سلوکې ۳ ته رسېږي. ددې هېواد د فعالو نفوسو د پاتې برخې په سلوکې ۲۶ په صنعت او په سلوکې ۷۱ د خدماتو په برخه کې بوخت دي.

کرنه او مالداري په استرالیا کې څرنگه ده؟

د کرنې د ځمکې او د اوبو له کمښت سره سره، استرالیا د کرنیزو غذايي توکو له مخې، په ځان بسیا هېواد دی. لکه چې دارنګه لږو وګړو او د ډول ډول اب او هوا لرونکو سیمو ددې هېواد په ځان بسیاڼي سره مرسته کړې ده.

د غنمو کرنې د استرالیا په سلوکې ۶۰ کروندې ځانته اختصاص او بېلې کړې دي. د کښت سیمه یې په ویکتوریا او نیو ساوت ولز کې د ختیځو لوړو غرونو لویدیځې جلګي دي. همدارنګه، زیتون او انگور د مدیترانه یي اقلیم په ساحه کې له جنوب لویدیځ او ځینو جنوب ختیځو برخو او د معتدلو برخو کرنیز محصولات لکه: جوار، شفتالو، منې او ناک د تسمانیې د ټاپو له جنوب ختیځو سواحلو څخه لاس ته راځي. استرالیا ته مالداري له کرنې څخه غوره ده. لکه چې دارنګه ډېر کلونه د استرالیا اقتصادي بنسټ په

مالدارۍ تکیه درلوده. طبیعی پراخو څړ ځایونو او چمنونو چې د استرالیا د ټول مساحت په سلوکې کابو ۳۴ سیمه یې پوښلې ده، په دې لوی ټاپوکې د مالدارۍ د بشپړ رواج او پراختیا سبب شوي دي. په جنوب ختیځ کې د مورې او دارلینګ د سیندونو شاوخوا سیمې، د څارویو د ساتلو لپاره د څړ ځایونو غوره سیمې دي. دې سیمو وروسته د پسونو د روزنې د مرکز په توګه پراختیا ومونده او اوس په نیو ساوت ویلز کې د ۱۷۵ میلیونو پسونو په شاوخوا کې پیداکیږي. وروسته د څارویو د ساتلو مرکزونه، د کوینزلند سیمو ته لیږدېدلې دي. داویدو د کمښت له امله، د پسونو روزنه د لویدیځ لور ته لږه شوې او په مقابل کې یې د غوایانو ساتل زیاتېږي.



مالدارۍ د استرالیا له اقتصادي غوره فعالیتونو څخه ده

استرالیا په نړۍ کې د وړيو د توليدوونکو او صادروونکو لویو هېوادونو له ډلې څخه دی چې محصولات یې د جاپان، المان او د فرانسې هېوادونو ته صادريږي. همدارنگه استرالیا یو د غوښو د مهمو صادروونکو هېوادو له ډلې څخه دی، چې په دې ډول یې د غوښې صادرات د امریکا متحده ایالاتو، انگلستان، جاپان او کاناډا ته ترسره کیږي.

په استرالیا کې د یوې کروندې تصویر



بوره هم ددې هېواد له غوره صادراتي توکو څخه شمېرل کېږي. همدارنگه دا هېواد په نړۍ کې د غنمو له سترو صادرونکو څخه گڼل کېږي، چې د غنمو محصولات یې د روسیې، چین او منځني ختيځ هېوادو ته صادريږي.

په استرالیا کې د انگورو د محصولاتو تصویر



د ټولگي دننه فعالیت:

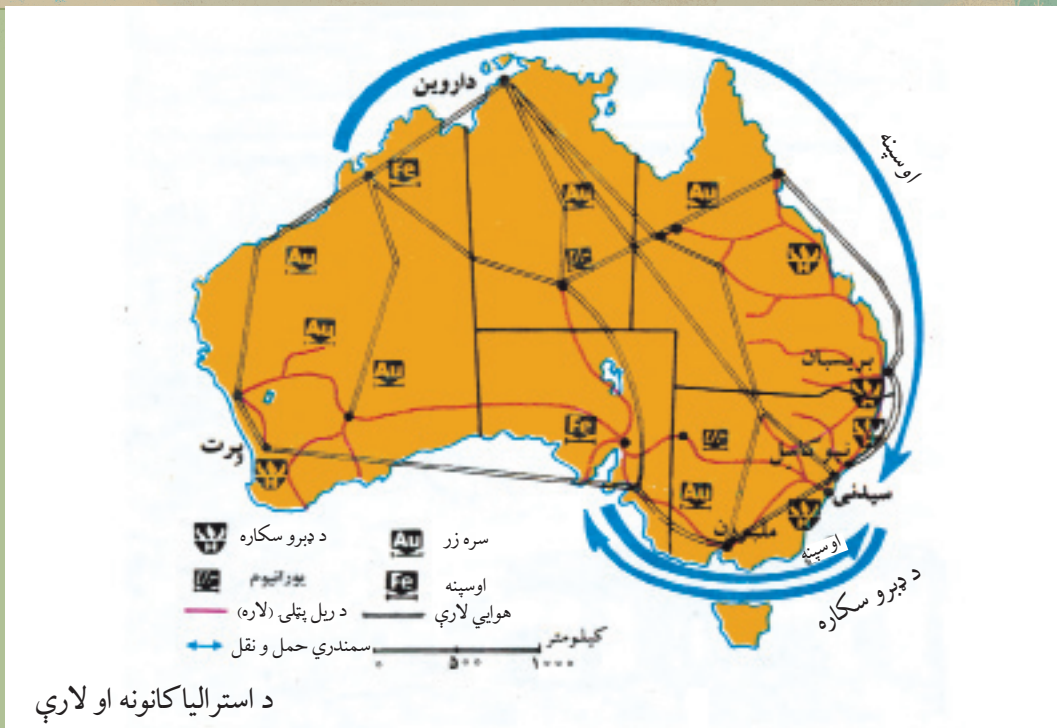
زده کوونکي دې په ډلو وویشل شي او هره ډله دې د استرالیا د نقشې څخه په کار اخیستلو سره د څپر ځایونو او د کرنیزو برخو نومونه واخلې او هغه دې د نقشې پرمخ وښيي.

پوښتنې:

- ۱- ولی مالدرای په استرالیا کې زیاته وده کړې ده؟
- ۲- کوم ډول کرنیز محصولات په معتدلو سیمو کې موندل کېږي؟ نوموړې سیمې د نقشې پرمخ هم وښيي.
- ۳- د استرالیا د ډېرو مهمو کرنیزو او د مالداري محصولاتو نومونه واخلې.

له ټولگي څخه بهر فعالیت:


د استرالیا د اقتصادي پرمختگ د عواملو په هکله معلومات راټول او وړاندې کړئ.



په استرالیا کې د کانونو او صنایعو حالت څرنگه دی؟

استرالیا د کاني توکيو غوره تولیدوونکی او صادروونکی هېواد گڼل کېږي. په ۱۸۵۱م کال کې په استرالیا کې د

د استرالیا له صنایعو څخه یو تصویر



سرو زرو شته والي دانگلیسانو او نورو اروپایانو پاملرنه ځانته

راوړوله او دهغو زیات شمېر استرالیا ته مهاجر شول. دا هېواد په نړۍ کې د اوسپنې د تولید دوهم هېواد او همدا ډول د بوکسیت، چې د المونیم د تولید لپاره ورڅخه گټه اخیستل کېږي، ډېر لوی تولیدوونکی دی. نور کاني توکي چې په استرالیا کې ایستل (استخراج) کېږي عبارت دي له: سرو زرو، نکل، مس، سرپ او یورانیوم څخه. استرالیا د امریکې د متحده ایالاتو څخه وروسته په نړۍ کې د یورانیوم دوهمه لویه زیرمه په واک کې لري. د استرالیا د نفتو ډېره مهمه سیمه د باس په ابناء (Bass Strait) کې ده چې د تسمانیې د ټاپو او ویکتوریا په منځ کې پرته ده. دا هېواد کولای شي خپلې یوڅه نفتي اړتیاوې

پوره کړی. په همدې سیمه کې د طبیعي گازو تولیدات هم ترسره کېږي. استرالیا د ډبرو سکرو له صادرونکو هېوادونو له ډلې څخه هم دی.

صنعت په استرالیا کې څه وخت او څرنګه پرمختګ وکړ؟

له دوهمې نړیوالې جګړې څخه وروسته (د ۱۹۵۰ م کال څخه وروسته) د استرالیا صنایعو زیات پرمختګ کړی دی. په ۱۹۹۹ م کال کې ددې هېواد په کورنیو تولیداتو کې د صنایعو برخه په سلوکې شپږ ویشتمه رسېدلې وه. ددی هېواد لرغوني صنایع د حیواني محصولاتو پرنسټ جوړې شوي وې، خو په اوسني حالت کې د استرالیا د استهلاکې مالونو په صنایعو او درنو صنایعو کې چټکه وده لیدل کېږي. د بېلګې په توګه په دې وروستیو ۳۰ کلونو کې ددی هېواد د پولادو تولید شپږ برابره زیات شوی دی. د اوسپنې او پولادو صنایع هم زیاتره په نیو ساوت ولز کې ځای پر ځای شوي دي. له پولادو، د ودانیو له صنایعو او کاغذ جوړولو پرته، نورې غوره صنایع یې د غذایی توکو، کیمیاوي توکو او توکراتو څخه عبارت دي. د استرالیا صنایع زیاتره په هغو ځایونو کې متمرکز او ځای پر ځای دي چې د صنایعو د منځته راتلو لپاره پکې لومړني امکانات برابر دي او په ځانګړې توګه په هغو ځایونو کې چې د خرڅلاو او لګښت لپاره پکې لوی بازارونه شته دي. د استرالیا په صادراتو کې پر غنمو، غوښې او وړۍ سربیره چې مخکې مورځنی یادونه وکړه، د ډبرو سکاره، سره زر او ماشین الات شاملېږي. چې د ۶۹ میلیارده ډالرو په مجموعي ارزښت سره جاپان، اروپا اتحادیې، د امریکا متحده ایالاتو، چین، او نورو اسیایي هېوادونو ته صادر شوي وو. د استرالیا واردات زیاتره ماشین الات، ترانسپورتي وسایل، کمپیوټر، مخابراتي وسایل، د دفترونو سامان الات، د خاورو تېل او پټرولي محصولات دي چې د ۷۷ میلیاردو ډالرو په ارزښت په ۲۰۰۰ م کال کې د اروپا له اتحادیې، د امریکا له متحده ایالاتو، جاپان او نورو اسیایي هېوادونو څخه وارد شوي وو.

د ټولګي دننه فعالیت:


زده کوونکي دې په دوو ډلو وویشل شي. لومړۍ ډله دې د درس د متن او نقشي څخه په ګټې اخیستوسره د کانونو په هکله او دوهمه ډله دې د استرالیا د صنایعو په هکله سره بحث وکړي او د خبرو پایله دې خپلو ټولګیوالو ته وړاندې کړي.

پوښتنې:

- ۱- یورانیم د استرالیا په کوم ایالت کې شته دي؟
- ۲- د اوسپنې کانونه زیاتره د استرالیا په کومه برخه کې دي؟
- ۳- د استرالیا غوره صنعتي سیمې په کوم ځای کې دي؟

له ټولګي څخه بهر فعالیت:

د استرالیا د وارداتو او صادراتو په هکله معلومات راټول او وړاندې یې کړئ.



د استراليا په مرکزي جلگوکي د ريل يو تم ځای

داسترالیا ځمکنی، د اوبو او هوایي ترانسپورت په کومه سطحه کې دی؟

حمل او نقل په استرالیا کې د واټن له ستونزې او د نفوسو د نابرابر ګڼوالي سره مخامخ دی. له بلې خوا د پراخو دښتو او د هېواد د ډېر پراخوالي شتوالی نه دی توایدلی چې په دې ځمکه کې د پراخو شبکو د جوړولو مخه ونیسي. د ریل لومړنۍ کرښه په ۱۸۵۴ م کال کې د ملبورن او پورت - ملبورن ترمنځ ایستل شوی ده. په استرالیا کې د ۴۰ زرو کیلومترو په شاوخوا کې د اوسپنې لارې (د ریل کرښې) او له ۹۰۰ زرو کیلومترو څخه زیاتې لویې لارې او د موټرو لارې شته دي. ددې لارو زیاتره د استرالیا په ختیځو، سوېلي او سوېل لویدیځو برخو کې جوړې شوي دي. ددې هېواد د اوسپنې دلارې ختیځه څانګه چې له شمال څخه سوېل خواته غزیدلې ده د بریسان، سدني او ملبورن ښارونه له یوبل سره نښلوي. د اوسپنې دا لاره په سوېل کې لویدیځ لورته غزیدلې ده او د ادلاید څخه له تېرېدو وروسته د پرت بندرته د استرالیا په سوېل لویدیځ کې پای ته رسیږي.

د استرالیا له ډېرو سیندونو څخه د هغو د چټک بهیر له امله د اوبو د کورنیو لارو لپاره ګټه نه اخیستل کېږي، خو د استرالیا په سوېل کې له جهیلونو او تریو حده پورې له سیندونو څخه د حمل او نقل لپاره ګټه اخیستل کېږي. استرالیا د بېړۍ چلولو ۵۲ بندرونه لري، چې له هغې جملې څخه سلېني، ملبورن،

نیوکاسل، ادلاید، بریسبان، هوبارت او نور د یادولو وړ دي. د استرالیا بندرونه داوبو له ليارې نه یوازې د توکو د وړلو او راوړلو لپاره په نړۍ کې اهمیت لري، بلکه د استرالیا په دننه کې هم د حمل او نقل لپاره د بېلابېلو ایالاتو په منځ کې د استفادې وړ دي. د استرالیا هوایي لارو د دوهمې نړیوالې جگړې څخه وروسته زیاته پراختیا موندلې ده. د استرالیا هوایي ترانسپورت د هغو ښارونو تر منځ چې سره ډیر واټن لري د ډېر اهمیت وړ دی او ښه پرمختګ یې کړی دی. ټول لوی ښارونه یې هوایي ډگرونه لري. په دې هېواد کې ۴۴۱ لوی او واړه هوایي ډگرونه شته چې له لازمو اسانتیاوو څخه برخمن دي.

د ټولګي دننه فعالیت:

زده کوونکي دې په درې ډلو وویشل شي او د استرالیا د ځمکنیو، اویزو او هوایي مواصلاتي لارو په هکله دې سره بحث وکړي او د خپل بحث پایله دې خپلو ټولګیوالوته وړاندې کړي.

پوښتنې:

- ۱- استرالیا څو ډوله مواصلاتي لارې لري؟ د هغو نومونه واخلي.
- ۲- ستاسو په نظریه استرالیا کې کوم ډول ترانسپورت ښه پرمختګ کړی دی؟
- ۳- ستاسو په نظر د توکو وړل او راوړل د کوم ډول ترانسپورت په وسیله ارزانه تمامیږي او ولې؟

له ټولګي څخه بهر فعالیت:

د استرالیا د مواصلاتو په هکله له انټرنټ، او د کتابتون څخه په گټې اخستنې سره یو مخ مقاله ولیکئ.

د رسیدلو لپاره لومړنیو مهاجرینو له کوچنیو بېړیو څخه ګټه اخیستې ده او په هغو ځایونو کې چې د پله جوړولو امکان درلوده پول یې جوړ کړې دی. د څو بېړیو په اوږدو کې خلک لږ لږ په بېلابېلو ټاپوګانو کې میشت شول. په ۱۷۰۰ او ۱۸۰۰ میلادي کلونو کې اروپایي کاشفینو د اقیانوسې له ډېرو ټاپوګانو څخه لیدنه وکړه او د ملانزیا، پلي نزییا او میکرونزییا د خلکو ظاهري او څرګند توپیر د هغو پاملرنه ځانته راوگرځوله. ددې ټاپوګانو اوسیدونکي معمولا بېلابېلې ژبې، دینونه او دود او دستورونه لري. وایي چې هغه خلک چې په دغو پورتنیو دريو سیمو کې ژوند کوي له بېلابېلو نژادونو سره تړاو لري او ان دا ویل کېږي چې د ملانزیا ځینې اوسیدونکي د افریقا او هندي توریستکو مهاجرو څخه دي.



د ساموا یو بومي اوسیدونکی چې زوی ته د کبانو د ښکار د یادولو په حال کې دی.

سربېره پردې د ټاپوګانو تر منځ هم مهاجرتونه ترسره شوي، اروپایان او اسیایان هم په خپلو مهاجرتونو کې له بومیانو سره ګډ شوي دي. - ملانزیان د اقیانوسې د ډېرې ټیټې ونې لرونکي خلک دي، توریستکی لري. - میکرونزیان له ملانزیانو څخه یوڅه جگه ونه او روښانه پوستکي لري. - پلي نزیان نسبت نوروته ډېره جگه ونه لري او د یادوشویو دریو نژادونو تر منځ ډیر روښانه پوستکي لري.

د ټولګي دننه فعالیت:

زده کوونکي دې په دریو ډلو وویشل شي. لومړۍ ډله دې د ملانزییا ټاپوګان، دوهمه ډله دې د پلي نزییا ټاپوګان او دریمه ډله دې د میکرونزییا ټاپوګان د نقشې پرمخ په نښه او وښيي.

پوښتنې:

- ۱- د اقیانوسې د دریو لویو ټاپوګانو نومونه واخلئ.
- ۲- د اقیانوسې د ټاپوګانو خلک له نژادي پلوه په څو ډلو ویشل شوي دي؟ د هغو نومونه واخلئ.

له ټولګي څخه بهر فعالیت:

د اقیانوسې د نقشې له مخې د اقیانوسې غوره ټاپوګان لست کړئ.



ناریال د اقیانوسې ډېر غوره محصول دی

د اقیانوسې په ټاپوگانو کې کرنیز حالت څرنگه دي؟

د اقیانوسې د ټاپوگانو ډېر غوره کرنیز محصول ناریال دي. کپله او د ډوډۍ رنگه مېوه لرونکې ونې هم ددې ټاپوگانو د ونو د غوره محصولاتو څخه ده. کاکائو، مرچ او قهوه یې هم د غوره کرنیزو محصولاتو له ډلې څخه شمېرل کېږي. په ټولو ځایو کې یې د خلکو ژوند د کرنې له لارې پرمخ وړل کېږي. په اقیانوسې کې دودیزه کرنه رواج لري او ځمکې د کورنیو له خوا کرل کېږي. په ډېرو ټاپوگانو کې د خلکو د کښت او کب نیولو

د ډوډۍ ونه




حق خوندي شوی دی. په اوسني وخت کې د اقیانوسې د ټاپوگانو د کروندو زیاته برخه د اروپایانو په واک کې ده.

خو ځینې کروندګر د خپلو ځمکو خاوندان دي. په ځینو کلیو کې د کرنې ځمکې د یو کلی پر ټولو خلکو پورې اړه لري او ټول پکې ګاون لري. د اقیانوسې ډېر پرمخ تللی هېواد نوی زیاتند دی.

د ټولو ټاپوگانو یوازینی صادراتي محصول کوپرا (Copra) د ناریال مغز دی. د ناریال له غورو څخه د نباتي غوړیو او صابون په جوړولو کې هم گټه اخیستله کیږي او نوره برخه یې د نړۍ بېلابېلو هېوادونو ته صادريږي. د کیلي صادرات هم په دې ټاپوگانو کې له ځانگړي اهميت څخه برخمن دي.

د اقیانوسې په ټاپوگانو کې د کانو رایستل او د صنعت وده په کومه اندازه ده؟
 د میکرونزیا او ملانزیا په ټاپوگانو کې د فسفاتو زیرمې مخ په تمامیدو دي. له دې کانونو څخه هر کال ۲،۶ میلیون ټنه گټه اخیستل شوې ده.

د ساده او لومړنیو بهرۍ جوړولو د صنایعو یو تصویر



د کاني توکو له نظره ډېر بډای تاپو نوی کالدونیا ده، چې په سلوکې ۹۰ صادرات یې کاني توکي او فلزات جوړوي. د اقیانوسیې د تولیدي فلزاتو له ډلې څخه نکل، کروم، اوسپنه، کوبالت، منگنیز، سره زر او مس دي.

د اقیانوسیې ډېر غوره صنایع د کرنیزو محصولاتو بنسټ لري. د ناریال د غوړیو جوړول، صابون، بوره او کنسرو جوړول له دې ډلې څخه دي. د سلیمان په تاپوگانو، نوي گیني او لویدیځې سامواکې د ترکانې د لرگیو دگټې اخستنې لپاره د اړه کولو کارخانې جوړې شوی دي. د مکرونزیا او پلی نزیا په تاپوگانو کې د صنعت وده ډېره لږه ده او خلک یې زیاتره په لاسي کارونو لگیا دي.

له سمندری ترانسپورټ څخه یو تصویر



پارويي کوچنی بيري- د اقيانوسې په سيمې کې د وړلو او راوړلو لپاره دوديزه وسيله ده او د کليو خلک له هغو څخه د لنډو مسافرتونو او د مالونو د وړلو او راوړلو لپاره گټه اخلي. د اوږده واټن مسافرتونو لپاره د بادباني او يا ماشين لرونکو بهريو څخه گټه اخيستل کيږي. په اوسني وخت کې د اقيانوسې خلک له يو بل سره د اړيکو لپاره او يا د نړۍ له نورو هېوادوسره د اړيکو لپاره بهريو او هوايي الوتنو ته اړتيا لري.

۱

د ټولگي دننه فعاليت:

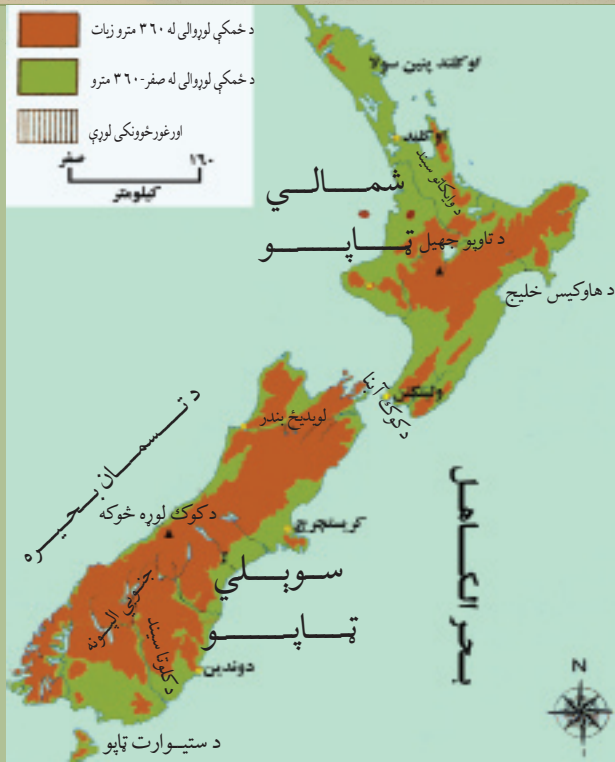
د اقيانوسې د ټاپوگانو د کرنيزو توليداتو په هکله دوه کسيزه بحث وکړئ او د خپلو خبرو پایله خپلو ټولگيوالوته بيان کړئ.

پوښتنې:

- ۱- د اقيانوسې د ټاپوگانو ډېر غوره کرنيز توليدات کوم دي؟
- ۲- د اقيانوسې د ټاپوگانو د ډېرو غوره کاني توکو نوم واخلي؟
- ۳- د اقيانوسې د ټاپوگانو د صنايعو بنسټ کوم توکي جوړوي؟

له ټولگي څخه بهر فعاليت:

د اقيانوسې په ټاپوگانو کې د حمل او نقل، مواصلاتي امکاناتو او خنډونو په هکله معلومات راټول او وړاندې يې کړئ.



د اقیانوسې مشهور هېواد نوی زیلاند څرنګه جغرافیایي ځانګړنې لري؟

د نوي زیلاند هېواد په اقیانوسې پورې اړوند دی، چې د بحر الکاهل په جنوب لویديځ کې د ۱۶۰۰ کیلومترو په واټن د استرالیا په ختیځ کې موقعیت لري. دا هېواد د شمالي ټاپو او جنوبي ټاپو په نومونو دوه اصلي ټاپوګان او یو شمیر نور واړه ټاپوګان لري. د تسمانیا سمندرګي دا خاوره له استرالیا څخه بېله کړې ده. جنوبي ټاپو ډېره پراختیا لري او د کوک انباء (Cook Strait) دا دواړه ټاپوګان له یوبل څخه بېل کړيدي. د نوی زیلاند د مساحت نژدې درې پرخلور برخې غرونو او غونډیو پوښلې دي چې ډېر مهم یې جنوبي الپونه (South Alps) نومېږي او د شمال ختیځ - جنوب لویديځ پر لور د سمندرګي په اوږدو کې غزیدلي دي. د جنوبي الپونو ډېره لوړه څوکه د کوک څوکه ده، چې د ۳۷۰۰ مترو څخه زیات لوړوالی لري. څرنګه چې نوی زیلاند زیاته پراختیا نه لري نو اوږده سیندونه هم پکې نه لیدل کېږي. د وایکاتو (Waikato) او کلوتا (Clutha) سیندونه ددې هېواد له نامتو سیندونو څخه دي. د نوي زیلاند زیاتره سیندونه لنډ دي او زیاته چټکتیا لري او له همدې امله د برېښنا د تولید او تامین لپاره ډېر مناسب دي. ددې هېواد له سیندونو څخه په اوبولګولو کې هم ګټه اخیستله کېږي. د استرالیا په خلاف نوی زیلاند د ډېریاران لرونکی هېواد دی او په ټولیزه توګه معتدل او سمندري لوند اقلیم لري.

د نوي زيلاند بشري او اقتصادي حالت څرنگه دی؟

نوی زیلاند له ۲۷۰ زره کیلومتره مربع څخه زیاته پراختیا لري. دې هېواد په ۲۰۰۶ م کال کې د څلورمیلیونو څخه زیات وګړي درلودل. د نفوسو ګڼوالی یې په هر کیلومتره مربع کې ۱۵ تنو ته رسیږي. ددې هېواد په سلوکې اویا خلک اروپایي اصله دي، چې زیاتره یې د انگلستان له هېواد څخه نوي زیلاند ته کډوال (مهاجر) شوي دي. خلک ددې هېواد په ټولو سیمو کې ژوند کوي او د درې ملیونو په شاوخوا کې یې په شمالي ټاپو او یو ملیون یې په جنوبي ټاپو کې میشته دي. دنوي زیلاند مهم ښار اوکلند (Auckland) دی چې په هغه کې د نفوسو ګڼوالی زیات دی او د یو ملیون په شاوخوا کې وګړي لري.

د نوي زیلاند پلازمینه د ولینګتن ښار



ولینگتن چې د نوي زیلانډ مرکز دی له ۳۰۰ زرو څخه زیات نفوس لري. نوي زیلانډ یو عصري او پرمخ تللی صنعتي هېواد دی. ددې هېواد زیاتره ځمکې غرنۍ دي او دڅاوري زیاته برخه یې په ساحلي جلگو کې کرکيلې ته برابره ده، چې په هغو کې په عمومي توګه غنم، اوربشې، جودر او د څارویو لپاره وابنه کرل کيږي. مناسبې اب او هوا پراخو چمن زارونو او په کرنه کې له نويو فنونو او وسیلو څخه ګټې اخیستني ددې هېواد د کرنې په پرمختګ کې مرسته کړې ده. په دغه هېواد کې کرنه وروسته له مالدارۍ څخه په دوهمه درجه کې راځي. د څارویو روزنه، په ځانګړې توګه پسه ددې هېواد په اقتصاد کې ځانګړې اهمیت لري.

طبيعي بڼه چاپیریال، په نوي زیلانډ کې مالداري پراخه کړېده.



ددې هېواد غوره کاني توکي فلزات دي، چې له هغې جملې څخه سره زر ددې هېواد د سپين پوستو د مهاجرت په لومړيو کلونو کې له مهمو صادراتو څخه و او د ډبرو سکاره هم په دې هېواد کې موندل کېږي. د نوي زيلاند صنعت د خوراكي توکو د توليد، د کاغذ صنايعو، لرگيو او سيمه ييزو لگښتونو پر بنسټ باندې ولاړ دی، چې په هغو کې د سيندونو د اوبو له پراخو منابعو او بريښنا څخه گټه اخستل کېږي او په سلوکې ۱۸ ملي عايد جوړوي.

داوبو د بريښنا له قوي څخه گټه اخيستل



د ټولگي دننه فعاليت:

زده کوونکي دې د نوي زيلاند له نقشې، عکسونو او د لوست له متن څخه په گټې اخيستلو سره، د لوست مهم ټکي راټول کړي او په ټولگي کې دې يې بيان کړي.

پوښتنې:

- ۱- نوي زيلاند له څو لويو ټاپوگانو څخه جوړشوی او څه نومېږي؟
- ۲- د نوي زيلاند د نفوسو زيات شمېر په کوم ټاپو کې استوگنه لري؟
- ۳- د نوي زيلاند دغوره کرنيزو، کاني او صنعتي پيداوارو نوم واخلئ؟

له ټولگي څخه بهر فعاليت:

له نقشې څخه په استفادې سره د نوي زيلاند موقعيت د طول البلد او عرض البلد د کرښو په اساس تشييت او وليکئ.



په جنوبي نيمه کره کې د استرالیا د لویې وچې او اقیانوسي د ټاپوګانو موقعیت

د انتارکتیکا نقشه

- انتارکتیکا څرنگه کشف شوه؟

انتارکتیکا هغه لویه وچه ده چې زیاته برخه یې د جنوبي قطب د دایرې په جنوب کې موقعیت لري او د درې سمندرونو، یعنی ارام سمندر، اتلانتیک سمندر او د هند سمندر له خوا چاپېره شوې ده. هغه اوبه چې د انتارکتیکا په شاوخوا کې شته دي کله کله یې هغه د جنوبي کنګل سمندر په نامه هم یاد کړي دی. انتارکتیکا له آسیا، افریقا، شمالي امریکا او جنوبي امریکا څخه وروسته د نړۍ څلورمه لویه وچه ده چې د ۱۴ میلیونو کیلومترو مربع په شاوخوا کې مساحت لري.

دا لویه وچه د نړۍ د ډېرو لیرې پرتو او منزوي وچو څخه ده چې د کنګل لویو ټوټو محاصره کړې ده. له ۲۰۰ کلونو څخه د مخه تصور کېده، چې انتارکتیکا د اوسیدو وړ او د بڼې اب او هوا لرونکې ځمکه ده، خو په ۱۷۶۸ م کال کې د انګلیس د سمندري قواوو یوه افسر د جیمز کوک (James Cook) په نامه وروسته له هغې نه چې وېي کولای شول په ډېر زیار سره ځان ددې لویې وچې شاوخوا ته ورسوي، خبرې ورکړې چې حتی یو حیوان هم په دې کنګلونو کې د ژوند د دوام ورکولو توان نه لري. پنځوس کاله وروسته په ۱۸۱۸ م کال کې یو امریکایي سمندر گرځیدونکی د ناتانیل پالمر (Nathaniel Palmer) په نامه بریالی شو چې له جنوبي امریکې (ارجنټاین) څخه د جنوبي قطب (انتارکتیکا) ډېرې نېرې نقطې ته ځان ورسوي.

په ۱۹۱۱ م کال کې د دوو اکتشافی ډلو ترمنځ د انتارکتیکا د کشف لپاره یوه مسابقه رامنځ ته شوه چې یو انګلیسي هیټ د انګلستان د سمندري قواوو د یوه افسر په مشرۍ د روبرت فالکن سکات (Robert

Falcon Scott) په نامه او يو نارويژي هيټ د يونارويژي سمندر گرځيدونکي په مشرۍ د روالډ امونډسن (Roald Amundsn) په نامه په دې سيالي کې گډون وکړ. ددې مسابقې وړونکي نارويژي ډله وه چې د ۹۹ ورځو مسافرت له تېرولو څخه وروسته د دسمبر په څوارلسمې ورځې په ۱۹۱۱ م کال کې د ۲۹۹۳ کيلومترو د واټن په وهلو د جنوبي قطب نقطې ته ورسېدل او نارويژي ريانده بيرغ يې هلته په يادگار پرېښود. وروسته کاپيتان سکات د ۱۹۱۲ م کال د جنوري د مياشتې په ۱۷ (يوه مياشت وروسته) هغه ځای ته ورسيد. نارويژي ډله په سلامتی سره بېرته راورگرځيده، خو انگليسي ډله په بېرته راتگ کې د واورې او کنگلونو سره مخامخ شوه او ټول يې مړه شول. په هغه ځای کې چې د هغوی جسدونه موندل شوي دي د انتارکتيا د مکتشف په ياد په همدې ځای کې يو څېړنيز مرکز جوړشوی، چې د اندو (امونډسن - سکات) په نوم نومول شوی دی.

د انتارکتیکا طبعي حالت څرنگه دی؟

د انتارکتیکا په لويه وچه کې څوک نه اوسېږي، لاس يې نه دی خوړلی او په کنگلونو پوښلې ده. دا لويه وچه پراخه دېښته او هواره نده، بلکې جگه سطحه ده چې په کنگل او واورې څخه پوښل شوې ده. په دې لويه وچه کې څه په شاوخوا او څه د قطب په مرکز کې د غرونو ډېرې لړۍ شته دي. انتارکتیکا د ځمکې ډېره لوړه لويه وچه ده، چې منځنی لوړوالی يې د سمندر له سطحې څخه ۱۸۳۰ متره دی.

د جنوبي قطب په تړون کې د گډون کوونکو هېوادونو بيرغونه او دکاشفينو د ډلې غړي.



جنوبي قطب ډېره سره هوا لري چې په ژمي کې د سانتي گراد تر منفي ۸۹ درجو پورې رسيري. هيڅ بوتی په دې لويه وچه کې د لوييدو او ودې توان نلري، يوازې ددې لوبې وچې په ځينو برخوکې ځنې بوتې لکه (گل سنگ) شنه کيږي او د جنوبي قطب په شاوخوا اوبوکې د سمندري حيواناتو ځينې ډولونه هم ژوند کوي.

په يوه کوچنۍ برخه کې چې کومې څېړنې د کانونو د کشف لپاره ترسره شويدي، څرگندوي چې په انټارکټيکا کې د اوسپنې، ډبروسکارو، نفتو، گازو اونورو کاني موادو زېرمې شته دي، خو د زيات لگښت له امله يې اوس استخراج ته کومه ليوالتيا نشته دی.

په جنوبي قطب کې د اربوس اورغورځونکي غر



د قطبي حیواناتو څخه یو تصویر



د ټولګي دننه فعالیت:

زده کوونکي دې په دوو ډلو وویشل شي، لومړی ډله دې د انتارکتیکا د لویې وچې د کشف په هکله او دوهمه ډله دې په دې هکله چې ولې تر اوسه دا لویه وچه د استوګنې وړ نه ده بحث او خبرې اترې وکړي او د خپل بحث پایله دې خپلو ټولګیوالو ته وړاندې کړي.

پوښتنې:

- ۱- انتارکتیکا په کوم ځای کې موقعیت لري او د کومو سمندرونو په وسیله چاپېره شوې ده؟
- ۲- د انتارکتیکا د کاشفینو نومونه واخلي.
- ۳- د جنوبي قطب اب او هوا څرنگه ده؟
- ۴- د انتارکتیکا د لویې وچې د اټکلي کانونو په باره کې معلومات ورکړئ.

له ټولګي څخه بهر فعالیت:

په یو دېرشم لوست کې ورکړ شوي شکلونه توضیح کړئ او د هغو په هکله خپل نظر په څو کرښو کې ولیکئ.

د دویم څپرکي لنډيز

- د استرالیا لویه وچه په حقیقت کې یو لوی ټاپو دی چې په جنوبي نیمه کره کې د آرام سمندر او د هند سمندر په اوبو کې پروت دی.

- کابو پنځوس زره کاله مخکې لومړني خلک استرالیا ته راغلل. ددې ځمکې بومي خلک د ابورجینالس (Aboriginals) په نامه یادېږي.

- دا لویه وچه په شپاړسمه او اووه لسمه پېړۍ کې د اروپایانو د سفرونو او زیاتو سمندري کشفیاتو په لړ کې کشف شوه. ددې لویې وچې مشهور غرونه گریټ دیوای دینګ (Great Dividing) دي چې په ختیځ کې یې له شمال څخه تر سوېل پورې غزیدلي دي او د اوبو مهمې سرچینې هم جوړوي.

- د استرالیا ډېر مهم سیند موري (Murray) دی، چې درې څانګې لري، نوموړی سیند د دیوای دینګ د غرونو له برخو څخه سرچینه اخلي او د استرالیا لوی خلیج ته تویریږي.

- ایر (Eyre) په استرالیا کې ډېر لوی مالګین جهیل دی، چې د استرالیا ډېره ژوره نقطه هم په همدې جهیل کې موقعیت لري.

- د استرالیا زیاته برخه تحت استوایي اقلیم او یوه شمالي برخه یې استوایي اقلیم لري. د استرالیا په دريو کې کابو دوه برخې وچه ده، چې د کرنې وړ نه ده.

- استرالیا فدرالي دولت دی چې په شپږو ایالتونو او دوو سیمو ویشل شوی دی او مرکز یې د کانبرا ښار دی.
- د استرالیا زیاتره وګړي اروپایي سپین پوستي عیسوي دي چې په انګلیسي ژبه خبرې کوي.

- استرالیا یو پر مخ تللی هېواد دی چې زیاتره خلک یې د خدماتو په برخه کې بوخت دي. ددې هېواد غوره صادرات وړۍ، غوښه، غنم، د ډبروسکاره، سره زر او ماشینونه او واردات یې ترانسپورتي وسایل، ماشینونه، د مخابراتو وسیلې او پترولوي محصولات دي.

- استرالیا د حمل او نقل ټول ډولونه او د مواصلاتو پر مختللي وسایل لري.
- اقیانوسیه ډېر ټاپوګان لري چې ډېر لوی ټاپو یې د پاپوا نیو ګیني (Papua New Guinea) ټاپو دی. ددې ټاپوګانو خلک بېلا بېلې ژبې، دینونه او دودونه او دستورونه لري.

- د اقيانوسېې د ټاپوگانو ډير مهم کرنيز محصول ناريال دي

- نوی زیلانډ د اقيانوسېې له مشهورو هېوادو څخه دی چې يو عصري او صنعتي پرمخ تللی هېواد دی.

- د انټارکټیکا (سوېلي قطب) په لويه وچه کې څوکه نه اوسېږي، لاس يې نه دی خوړلی او په کنگلونو پوښلې ده. ددې لويې وچې مرکزي نقطه د يوې ناروېژي او انگليسي ډلې له خوا په ۱۹۱۱ ميلادي کال کې کشف شوه.

- انټارکټیکا د هوا د سرښت او طبيعي نا مناسبه شرايطو له امله تر اوسه د استوگنې وړنده او له طبيعي زيرمو څخه يې هم گټه نه اخیستله کېږي.

د اقيانوسېې د ځينو مستقلو هېوادونو د جغرافيايي ځانگړنو جدول

کڼه	هېوادونه	مرکز	مساحت په کيلومتر مربع	د وگړو شمېر په ۲۰۰۸م کال کې	د وگړو کڼوالی په يو کيلومتر مربع کې
۱	ياپوانيوکيني	پورت مورسبي	۴۶۲۸۴۰	۵۹۳۱۷۶۴	۱۲/۸
۲	پالانو	کورور	۴۵۹	۲۱۰۹۳	۴۶
۳	تونکا	نوکو الوفا	۷۴۷	۱۱۹۰۰۹	۱۵۹/۳
۴	تووالو	واياکو	۲۴	۱۰۴۰۰	۴۰۷/۷
۵	ختيخ تيمور	ديلي	۱۴۸۷۴	۱۱۰۸۷۷۷	۷۴/۵
۶	نوی زیلانډ	ولینگتن	۲۷۰۵۳۴	۴۱۷۳۴۶۰	۱۵/۴
۷	ساموا	اپيا	۲۸۳۱	۲۱۷۰۸۳	۷۶/۷
۸	د سليمان ټاپوکان	هونبارا	۲۸۸۹۶	۵۸۱۳۱۸	۲۰/۱
۹	فيجي	سووا	۱۸۲۷۴	۸۵۰۰۰	۴۶/۷۹
۱۰	کيرباتي	جنوبي - تاراواي	۷۲۶	۱۱۰۳۵۶	۱۵۲
۱۱	د مارشال ټاپوکان	ماجورو	۱۸۱	۶۳۱۷۴	۳۴۹
۱۲	میکرونزيا	پالیکير	۷۰۲	۱۰۷۶۶۵	۱۵۳
۱۳	نانورو	يارن	۲۱	۱۳۷۷۰	۶۵۵/۷
۱۴	وانواتو	ويلا بندر	۱۲۱۸۹	۲۱۵۴۴۶	۱۷/۷

اصطلاحات

الف:

- اپارتايد: د سپينو او تورو خلکو سره بېل بېل چلند او تر منځ يې توپير چې له ۱۹۴۸ ميلادي کال څخه يې د سوېلي افريقا په هېواد کې قانوني بڼه درلوده.
- استوایي اقليم: اقليمې سيمه چې د استوا د کرښې په شاوخوا کې پرته ده او د استوایي باراني ځنگلونو د اقليم او سوانا ساحه په کې شامله ده.
- اقتصادي جغرافيه: هغه جغرافيه چې د ډول ډول توکو د توليد، ویش او لگښت په هکله بحث کوي.
- اورښت (بارنده گي): ټولې اوبه، واوره او رلی چې له ورېځو څخه اوري، اورښت ورته ويل کېږي.
- استوایي ځنگلونه: د استوایي سيمو ځنگل چې د شمالي عرض البلد له ۷ درجونه د جنوبي عرض البلد تر ۷ درجو پورې شتون لري، د تودې او لنډې هوا، او ډېرو بارانونو لرونکی او پرته له وچ او بې بارانه فصل وي.

ب:

- بوميان: هغه خلک چې د يوې سيمې د لومړنيو اوسيدونکو په توگه پېژندل شوي وي.
- بشري جغرافيه: بشري فعاليتونه، د نفوسو او بشري ټولنو جغرافيايي ویش د ژوندانه د چاپېريال په اړه مطالعه کوي.
- براس (تبخير): د مايع د فزيکي حالت بدلون په براس (بخار).

ت:

- توپوگرافي: توپوگرافي له دوو يوناني کلمو څخه اخيستل شوې يعنې (توپو) د ځای په معنا او (گرافي) د رسمولو يا تشریح په مفهوم، چې د هرې سيمې د طبيعي يا مصنوعي جوړښتونو رسمولو يا ښوولو ته توپوگرافي ويل کېږي.
- تورېزم: هغه خلک چې د سفر امکانات لري او د خپل فراغت وخت په يوه بله سيمه کې تېروي د سيلانيانو (توريستانو) يا نړۍ گرځيدونکو په نامه يادېږي. هغه هېوادونه چې ښې توريستيکي سيمې لري او د سيلانيانو د راکښلو سبب گرځي زياته شتمني لاسته راوړي.

- تکتونیکي ساحه: د ځمکې په مخ (قشر) کې یوه ساحه ده چې په هغه ځای کې ډول ډول جوړښتونه لکه لوړې برخې، ټیټې برخې، گونځې، درزونه، چاودونه او نور جوړ شوي وي.

د:

- د باراني ځنگلونو د اقلیم ساحه: هغه اقلیم چې ټول کال ورسره اورښت مل وي.
- دبت (Debit): د اوبو اندازه چې له سیند څخه په یوه ټاکلي وخت کې له یوې ټاکلې نقطې څخه تیرېږي او د سیند د اوبو د حجم د اندازه کولو لپاره ورڅخه استفاده کېږي.
- د سګي لوبې: یو ډول ژمنی لوبې دي چې له واورونه ډکو غرونو کې تر سره کېږي.
- د ستپ اقلیم: وچ اقلیم چې په دوبي کې د لنډې مودې باران لري.
- د نفوسو کثافت یا گنوالی: په هر کیلومتر مربع کې د استوګنو وګړو اوسط.
- د سیند خوله یا مصب: هغه ځای دی چې سیند سمندرګي یا سمندر ته تویږي او ور سره یو ځای کېږي؟
- د لټا (Delta): د سیند خوله یا د سیند په خوله کې د رسوبي موادو یوه سیمه چې د ځمکې هواریدو او د سیند د څانګه کیدو سبب ګرځي.

ژ:

- ژبه: منظمه غږیزه وسیله ده چې انسان یې د خپلو خلکو سره د اړیکو لپاره کاروي.

س:

- ستپ: نیم وچ اقلیم لرونکې برخې چې په هغو کې بوتي او ونې په شیندلي او یا ټل ټل ډول لیدل کېږي.
- سوړ اقلیم: هغه اقلیمي ساحه چې د توندرا اقلیم، د واورو اقلیم او د لوړو غرونو د اقلیم لرونکې ده.
- سوداګري (تجارت): د محصولاتو او توکو پلورل او پېرودل.
- سمندري کشفیات: د بېړۍ په وسیله سمندري سفرونه د ناپیژندل شویو سیمو د کشف لپاره.
- سیاسي جغرافیه: د جغرافیې یوه برخه ده چې د هېوادونو د سرحدونو او څلور خواوو، کورنیو او بهرنیو اړیکو، ادارې او ټولنیزو تشکیلاتو او داسې نورو په باره کې بحث کوي.

ص:

- صادرات: بهرنیو هېوادونو ته د پلورلو لپاره د محصولاتو لیږل.
- صنعت: د محصولاتو یا توکو د شکل بدلون، په ځانگړې توگه د ماشین په وسیله.

ط:

- طبیعي جغرافیه: د ځمکې پدیدې او جوړښتونه (عوارض) تر څېړنې لاندې نیسي.

ک:

- کلتور: ټول دودونه او دستورونه چې د یوې ډلې خلکو له خوا زده شوي وي او په سمبولونو، اتلانو، رواجونو او ارزښتونو باندې پېژندل کېږي.
- کانال: د انسان په وسیله د دوو سمندرگیو او یا سمندرونو د ارتباط او د حمل و نقل د اسانتیاوو لپاره د وچې کیندل. کیدای شي چې د دوو سیندونو په منځ کې هم کانال وکیندل شي او دوه سیمې سره ونښلوي.

م:

- مدیترانه یې اقلیم: هغه اقلیم دی چې دویې یې تود او وچ اوږمې یې ملایم او باراني وي.
- ملي پارک (National Park): طبیعي با ارزښته تړلې سیمه، چې لږ تر لږه لس زره هکتاره وي او د دولت له خوا یې ساتنه کېږي.
- مهاجرت: د خلکو خوځښت او ځای په ځای کیدل د هېواد دننه او یا د سرحداتو څخه بهر. کورني او بهرنی مهاجرتونه د اقتصادي، سیاسي او طبیعي بېلا بېلو عواملو له امله تر سره کېږي.
- ملي ناخالص عواید: د ټولو محصولاتو ارزښت دی چې په یوه هېواد کې په بېلا بېلو برخو کې په یوه کال کې تولیدېږي.
- مواصلاتي جغرافیه: د جغرافیې یو څانگه ده چې د وچو، اوبو او هوايي لارو په باره کې بحث کوي.

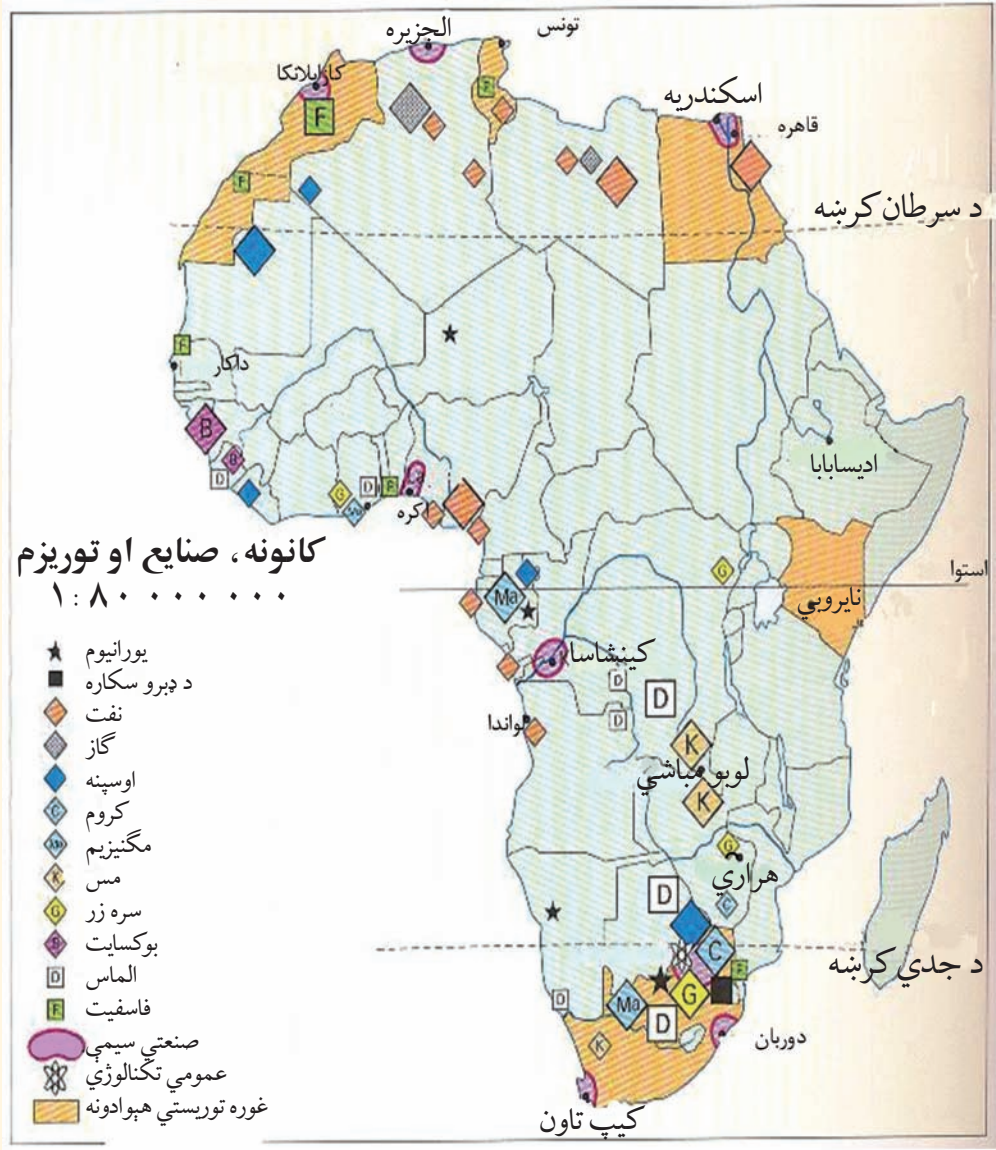
ن:

- نژاد: یوه ډله خلک چې د طبیعي، وراثت او اصالت له نظره یو ډول خصوصیات لري، یعنې د قیافې، د ونې جگوالی او ټیټوالی، د سترگو، وینستانو او پوستکی د رنگ ځانګړنې یې ورته والی ولري.

و:

- واردات: په بهرنیو هېوادونو کې د محصولاتو او توکو پېرودل او هېواد ته دننه یې راوړل.
- وچ اقلیم: هغه اقلیمي سیمه چې د سټپ اقلیم او صحرايي اقلیم پکې شامل دي.





د افریقا د کانونو، صنایعو او توریزم نقشه

